


Ad Soyad:.....  
Sınıfı:.....  
Numarası:.....



## MEVSİMLER

Bir yılda tam dört mevsim,  
Hepsi de ayrı resim,  
Gel birlikte sayalım,  
Takalım birer isim.

İlkbahar, yaz, sonbahar,  
Kış gelince yağar kar,  
Haydi haydi evine,  
Her tarafta soğuk var.

Kartal dağda uçuşur,  
Bülbül dalda ötüşür,  
Ovada kuzu meler,  
Yazın her yer tutuşur.

- İlk üç soruyu şiire göre cevaplayınız.

1) Bir yılda kaç mevsim vardır?

- A) 3                      B) 4                      C) 5

2) Kar ne zaman yağar?

- A) Kış gidince  
B) Kış gülünce  
C) Kış gelince

3) Aşağıdaki hayvanlardan hangisi şiiirde geçmemektedir?

- A) Karga  
B) Kartal  
C) Kuzu



Yukarıdaki kelimeler sözlük sırasına göre sıralandığında hangisi sonda olur?

- A) Kitap                      B) Kirpi                      C) Kedi

5) 'Hayvanat bahçesinde büyük bir fil gördük.'

Yukarıdaki cümlede altı çizili kelimenin yerine hangi kelime getirilirse cümlenin anlamı değişir?

- A) kocaman                      B) iri                      C) küçük

6) Aşağıdaki cümlelerden hangisi olumsuz cümleye örnektir?

- A) Ece süt içmeyi sevmiyor.  
B) Aslı ödevlerini yaptı.  
C) Tuğba salıncakta sallanıyor.

7) Aşağıdaki cümlelerden hangisinde zıt anlamlı kelimeler bir arada kullanılmamıştır?

- A) Kübra merdivenleri hızlıca inip çıktı.
- B) Serkan yemeğini hızlı hızlı yedi.
- C) Kerem ucuz pahalı demeden tüm meyveleri aldı.

8) Aşağıdaki cümlelerden hangisi kurallı ve anlamlı cümleye örnek olamaz?

- A) Öğretmenimiz matematik dersinden sınav yaptı.
- B) Sarı kuyruklu mor uçurtmayı bahçede yaptık dedemle.
- C) Küçük kırmızı oyuncak arabamı kuzenime hediye ettim.

9) film dün izledik  
babamla akşam

Yukarıdaki kelimelerle kurallı ve anlamlı cümle oluşturulmak istenirse aşağıdakilerden hangisi olur?

- A) Babamla dün akşam film izledik.
- B) Dün akşam izledik film babamla.
- C) Film izledik babamla dün akşam.

10) Aşağıdaki kelimelerden hangisi bir topluluğu ifade eder?

- A) Ağaç
- B) Fidan
- C) Orman

11) Aşağıdaki altı çizili kelimelerden hangisi diğerlerinden farklı anlamda kullanılmıştır?

- A) Türkçe sınavından yüz aldım.
- B) Babam yüz liraya mont aldı.
- C) Kardeşimle havuzda yüzdük.

12) Aşağıdaki ünlem cümlelerinden hangisinde noktalama işareti yanlış kullanılmıştır?

- A) Yaşasın, yarın bayram!
- B) Eyvah! Yangın var.
- C) İmdatt! hırsız var.

13) Aşağıdaki cümlelerin hangisinin sonuna diğerlerinden farklı bir noktalama işareti konulmalıdır?

- A) Hakan derslerinde çok başarılı oldu (...)
- B) Babamın yeni arabasını gördün mü (...)
- C) Neden ödevlerini yapmadın (...)




Türkçe dersi sınavı bitti.


Matematik dersine geçiniz.

Ad Soyad:.....  
Sınıfı:.....  
Numarası:.....



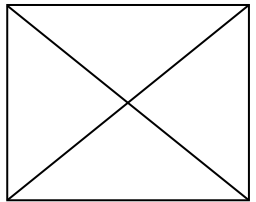
1)  Yandaki geometrik şekil ile ilgili verilen bilgilerden hangisi yanlıştır?

- A) 3 tane yüzü vardır.  
B) Ayrıtı yoktur.  
C) 3 tane köşesi vardır.



Yukarıdaki görseller aşağıdaki geometrik cisimlerden hangisine örnek olarak verilebilir?


- A) Küp B) Silindir C) Küre

3)  Yandaki karenin içinde kaç tane üçgen vardır?

- A) 8 B) 7 C) 6

4)  $\triangle + 18 = 52$  işleminde  $\triangle$  yerine aşağıdakilerden hangisi yazılmalıdır?

- A) 24 B) 34 C) 44

5)  Yukarıdaki tencere 10 bardak su ile doluyor. 30 bardak su ile kaç tencere dolar?

- A) 2 B) 3 C) 4

6) Aşağıdaki problemlerden hangisinin sonucunu bulurken toplama işlemi yaparız?

- A) Bir ağaçta 36 kuş var. Kuşların 15 tanesi uçarsa ağaçta kaç kuş kalır?  
B) Bir ağaçta 36 kuş var. Ağaca 15 kuş daha konarsa ağaçta kaç kuş olur?  
C) Bir ağaçta 36 kuş var. Kuşlardan 15 tanesi kargadır. Geriye kalan kuşların hepsi serçe olduğuna göre serçelerin sayısı kaçtır?

7) Cansu bir tabaktaki 9 cevizi yiyor. Geriye 5 tane ceviz kalıyor. Buna göre başta tabakta kaç ceviz vardı?

Yukarıdaki problemde aşağıdakilerden hangisi sorulmaktadır?

- A) eksilen B) çıkan C) fark

8)



Yandaki demlikten 10 bardak çay çıkıyor.

3 demlik çay hazırlayıp 14 bardak çay içersek geriye kaç bardak çay kalır?

- A) 30 B) 26 C) 16

9)



Ece ve Efe 3 düzine fidandan 2 destesini dikmiştir. Geriye dikilecek kaç fidan kalmıştır?

- A) 16 B) 10 C) 12



10) Bir akvaryumda 14 mavi balık vardır. Mavi balıklardan 8 fazla sarı balık olduğuna göre bu akvaryumda toplam kaç balık vardır?

- A) 22 B) 36 C) 46

11)

32 bilyenin 17 eksiği 2 deste bilyeden kaç eksiktir?

Yukarıdaki problemin cevabı aşağıdakilerden hangisidir?


- A) 5 B) 13 C) 15

Matematik dersi sınavı bitti.  
Hayat Bilgisi dersine geçiniz.

Ad Soyad:.....  
Sınıfı:.....  
Numarası:.....



1) Aşağıdaki meyvelerden hangisi yaz meyvesi değildir?



2) Mevsiminde tükettiğimiz meyve ve sebzeler ..... yönünden zengindir.

Yukarıdaki ifadede boş bırakılan yere aşağıdaki ifadelerden hangisi getirilmiştir?

A) şeker      B) vitamin      C) tuz

3) Aşağıdakilerden hangisi sağlığımızla ilgili çalışan kişilerden değildir?



4) Doktorun yazdığı reçetede ilaçları nereden alırız?

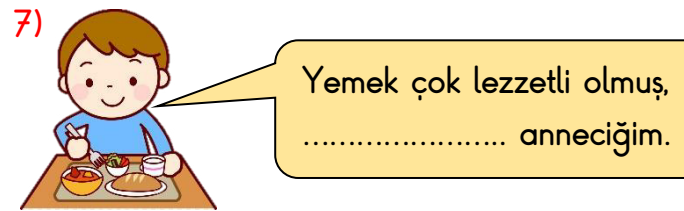
A) market      B) fırın      C) eczane

5) Aşağıdaki davranışlardan hangisi yanlıştır?

A) Çöpümüzü çöp kutusuna atmak.  
B) Sınıfta yerlere tükürmek.  
C) Tuvaletten sonra ellerimizi yıkamak.

6) Sağlığımız için aşağıdaki davranışlardan hangisi yapmamız doğru olmaz?

A) Hapşırduğumuzda burnumuzu kolumuzla temizlemek.  
B) Tuvaletten çıkınca ellerimizi sabunlu su ile yıkamak.  
C) Sınıfımızı teneffüslerde havalandırmak.



Hakan'ın kurduğu cümledeki boşluğa aşağıdakilerden hangisi gelmelidir?


A) rica ederim  
B) geçmiş olsun  
C) eline sağlık

- 8)
- \* Yemekten önce ve sonra ellerimizi yıkamak.
  - \* Yemekte ortak çatal kaşık kullanmak.
  - \* Yemek yerken ağızımızı şapırdatmak.
  - \* Yemeği hazırlayan kişiye eline sağlık demek.

Yukarıdakilerden kaç tanesi yemek esnasında uymamız gereken görgü kurallarındandır?

- A) 4                      B) 3                      C) 2

- 9) Aşağıdakilerden hangisi örnek bir kahvaltı yemeğidir?



- 10) Aşağıdaki ifadelerden hangisi yanlıştır?

- A) Dengeli beslenmeye dikkat etmek için öğünlerimizde sebze ve meyvelere de yer vermeliyiz.
- B) Dengeli beslenmede abur cubur yemek çok faydalıdır.
- C) Dengeli beslenmede ara öğünlere de yer vermeliyiz.

- 11) Aşağıdakilerden hangisi kişisel bakımımızda kullandığımız araçlardan değildir?



- 12) Oyuncaklarını ve okul eşyalarını özensiz kullanan birisi için aşağıdakilerden hangisi söylenebilir?

- A) savurgan                      B) tutumlu                      C) özenli

- 13) Yemeğimizi hazırlarken aşağıdakilerden hangisine dikkat etmemiz gerekir?

- A) Güzel görünmesine
- B) Çok olmasına
- C) Besleyici olmasına



Deneme Sınavınız bitti.  
Cevapları kontrol ediniz.