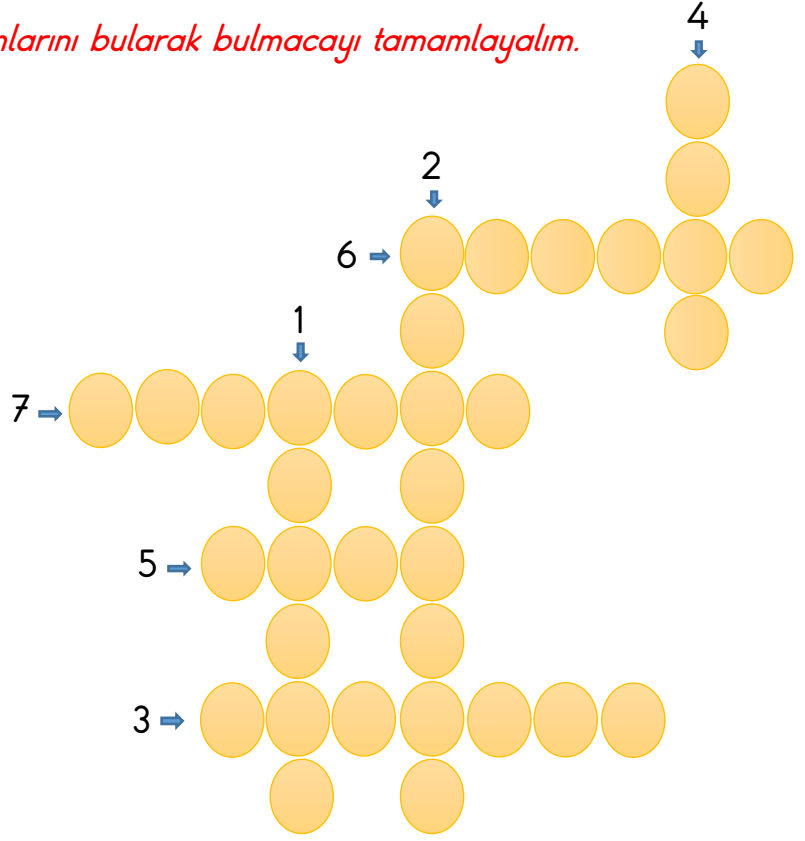



❖ Aşağıdaki kelimelerin eş ve zıt anlamlarını bulmacayı tamamlayalım.

- 1 Fakir kelimesinin zıt anlamlısı.
- 2 Tembel kelimesinin zıt anlamlısı.
- 3 Konuk kelimesinin eş anlamlısı.
- 4 Ad kelimesinin eş anlamlısı.
- 5 Çıkış kelimesinin zıt anlamlısı.
- 6 Güzel kelimesinin zıt anlamlısı.
- 7 Deprem kelimesinin eş anlamlısı.

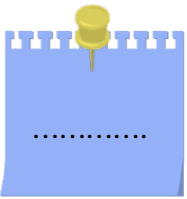


❖ Aşağıda iki anlamı da verilen eş sesli kelimeleri bulup yerine yazalım.



1. Anlamı: Sağlam bir nesneyi parçalara ayırma.

2. Anlamı: Piknik yapmak için gidilen yeşil alan.



1. Anlamı: Buz taneciklerinde oluşan bir yağış türü.

2. Anlamı: Bir kabın boş yerinin kalmaması durumu.

❖ Aşağıdaki cümlelere uygun noktalama işaretlerini koyarak altlarına yazalım.

➤ Hakanın doğum gününe sen de gelecek misin

.....

➤ Melis yazın elma çilek ve muz yemeyi sever

.....

➤ Ayyy Gördün mü şu başımıza gelenleri

.....

➤ Ankaranın başkent oluşunun 98 yıl dönümü

.....

❖ Aşağıdaki görsellerin ifade ettiği kesirleri altlarına örnekteki gibi yazalım.




$\frac{1}{2}$ → yarım



$\frac{...}{...}$ →



$\frac{...}{...}$ →



$\frac{...}{...}$ →



$\frac{...}{...}$ →



$\frac{...}{...}$ →



$\frac{...}{...}$ →




$\frac{...}{...}$ →



$\frac{...}{...}$ →



$\frac{...}{...}$ →

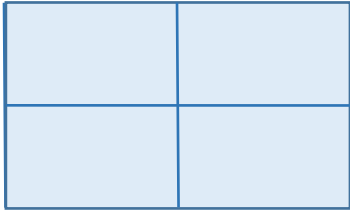


$\frac{...}{...}$ →



$\frac{...}{...}$ →


❖ Aşağıda modellerle gösterilmiş kesirlerin altlarına kesir değerini ve okunuşunu örnekteki gibi yazalım.



Kesrin yazılışı $\frac{4}{4}$

Kesrin okunuşu : Dörtte dört


Kesir değeri : Bütün



Kesrin yazılışı $\frac{\dots}{\dots}$

Kesrin okunuşu :

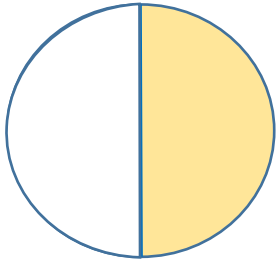
Kesir değeri :



Kesrin yazılışı $\frac{\dots}{\dots}$

Kesrin okunuşu :

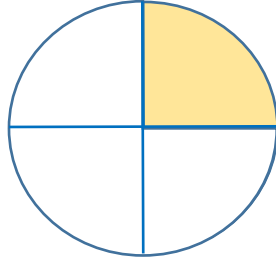
Kesir değeri :



Kesrin yazılışı $\frac{\dots}{\dots}$

Kesrin okunuşu :

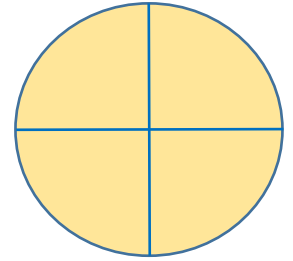
Kesir değeri :



Kesrin yazılışı $\frac{\dots}{\dots}$

Kesrin okunuşu :

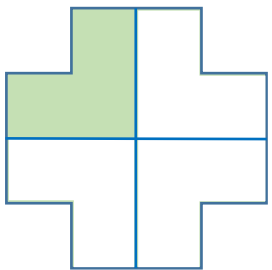
Kesir değeri :



Kesrin yazılışı $\frac{\dots}{\dots}$

Kesrin okunuşu :

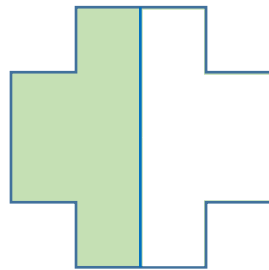
Kesir değeri :



Kesrin yazılışı $\frac{\dots}{\dots}$

Kesrin okunuşu :

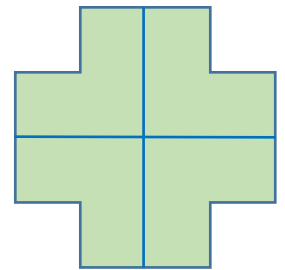
Kesir değeri :



Kesrin yazılışı $\frac{\dots}{\dots}$

Kesrin okunuşu :

Kesir değeri :



Kesrin yazılışı $\frac{\dots}{\dots}$

Kesrin okunuşu :

Kesir değeri :

❖ Aşağıdaki varlıklardan ses kaynağı olanların yanlarına ✓ işareti koyalım.

Araba kornası

Güneş

İnsan

Avize

Kuş

Gök gürültüsü

Arı

Televizyon

Meşale

Kalem

İnek

Dalga

❖ Aşağıdaki bilgilerden doğru olanlara (D), yanlış olanlara (Y) yazalım.

(...) Ses kaynağına yaklaştıkça sesin şiddetinin daha çok arttığını fark edebiliriz.

(...) İnsanlar kulakları sayesinde tüm sesleri işitebilirler.

(...) Her ses mutlaka bir kaynaktan çıkar ve her yöne yayılır.

(...) Bir tiyatro salonunda en önde oturan seyirciler sesleri daha iyi duyarlar.

(...) İnsanların işitmesini sağlayan duyu organı kulaklarıdır.



❖ Aşağıdaki soruları cevaplandıralım.

1. Aşağıdakilerden hangisi hem ses hem de ışık kaynağıdır?

A. Televizyon

B. Radyo

C. Ampul

2. Aşağıdakilerden hangisi ses ile ilgili hatalı bir bilgidir?

A. Ses kaynağına yakın olursak sesleri daha az şiddetli duyarız.

B. İnsanlar çok düşük ve çok yüksek sesleri duyamaz.

C. Ses titreşim sonucu oluşur.



3. Yukarıdaki görselde Aslan davulun sesinin kendisine çok az geldiğini söylüyor. Bunun sebebi aşağıdakilerden hangisi olabilir?

A. Aslan davul sesinin nasıl bir ses olduğunu bilmemektedir.

B. Aslan davul çalan kişinin çok yakınındadır.

C. Aslan davul sesinin kaynağından uzak bir yerdedir.

