



## TILKI İLE TEKE

Bir gün tilkinin biri bir kuyuya düşmüş. Çok uğraşmış ama bir türlü kuyudan çıkamamış. O sırada oradan bir teke geçiyormuş. Teke su var mı diye merak edip kuyuya bakmış. Bir de ne görsün? Kuyuda bir tilki!

Hemen sormuş "Bu su iyi mi; içilir mi?"

Tilki kurnazca gülmüş. Sonra da suyu bir övmüş bir övmüş ki tekenin ağzının suyu akmış.

Tilki "Hadi durma. İn aşağı." deyince teke kuyuya inmiş. Kana kana su içtikten sonra akli başına gelmiş. Tilkiye "Eee, nasıl çıkacağız buradan?" diye sormuş.

Tilki "Sen hiç merak etme. Ben buradan ikimizi de kurtarmanın yolunu biliyorum. Sen şimdi doğrulup ön ayaklarını duvara dayar, omuzlarını da havaya dikersin. Ben de tırmanıp çıkar, sonra seni çekerim " demiş.

Teke bu akli çok beğenmiş. Hemen razı olmuş. Tilki tekenin bacaklarından omuzlarına sonra da başına atlayıp kuyudan çıkmış. Teke:

-Peki, ben nasıl çıkacağım kuyudan, demiş.

Tilki de ona: "Ey teke! Senin çenendeki sakal kadar kafanda da akıl olsaydı, nasıl çıkacağını düşünmeden bu kuyuya inmezdin" demiş.

Siz siz olun, sonunun ne olacağını düşünmeden hiçbir işe girişmeyin.

- Aşağıdaki soruları metne göre cevaplayınız.

1) Kuyuya kim düşmüş?

.....  
.....

2) Teke niçin kuyuya bakmış?

.....  
.....

3) Teke kuyuya niçin inmiş?

.....  
.....



4) Tilki kuyudan nasıl çıkmış?

.....  
.....

5) Tilki kuyudan çıktıktan sonra Tekeye ne demiş?

.....  
.....

6) Tilki sizce nasıl bir hayvanmış?

.....  
.....



İçinde soru anlamı bulunan cümlelere **soru cümlesi** denir. 'Ne, nerede, ne zaman, nasıl, kim gibi sözcükler ve -mi, -mî' ekleri cümleye soru anlamı katar. Korku, coşku, sevinç, mutluluk gibi duyguları ifade eden cümlelere **ünlem cümlesi** denir.

❖ Aşağıdaki cümlelerde cümleye soru anlamı katan sözcükleri bulunuz ve altına yazınız.

1) Emel niçin okula gelmedi?

.....

2) Geç geleceğini neden bize söylemedin?

.....

3) Yakan topu nerede oynayacaksınız?

.....

4) Köye ne zaman gideceğiz?

.....

5) Bu kazağı örmeyi nasıl öğrendin?

.....

6) Portakalın kilosu ne kadar?

.....

7) Azra'nın doğum gününe kimler geldi?

.....

8) Didem kitaplarını nereye koymuş?

.....

9) Bu boyalardan hangisini kullanayım?

.....

❖ Aşağıdaki ünlem cümlelerinin ifade ettikleri duyguları işaretleyiniz.

1) Eyvah, yangın var!



sevinç



korku

2) Yaşasın, babam istediğim hediyeyi almış!



sevinç



üzüntü

3) En sevdiğim oyuncuğayı kaybettim!



korku



üzüntü

4) Oley, bizim takım kazandı!



mutluluk



suçluluk

5) Kaçın, köpek geliyor!



heyecan



korku

6) İmdaat, hırsız!



suçluluk



korku

7) İşte şimdi yandık!



endişe



sevinç

8) Ah, ben ne yaptım!



mutluluk



endise

9) Şşt, sus bakayım!

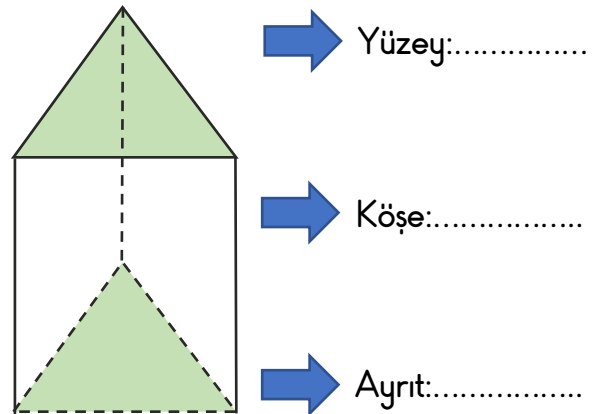
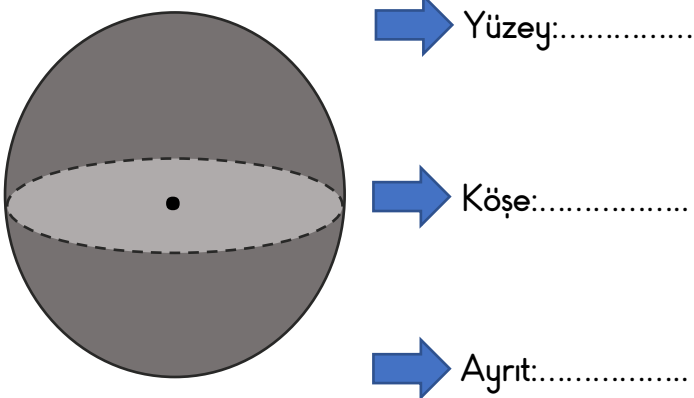
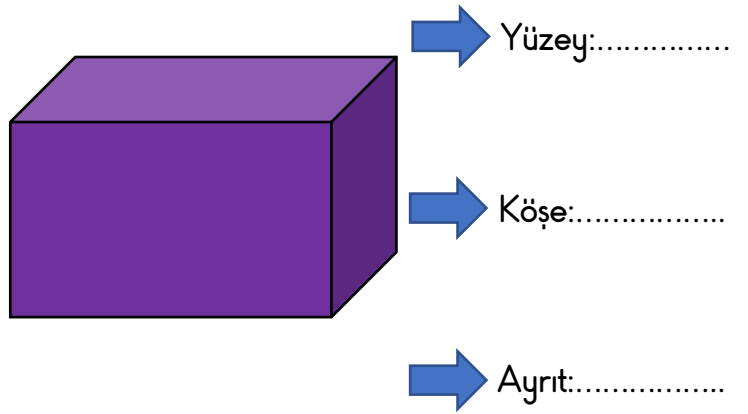
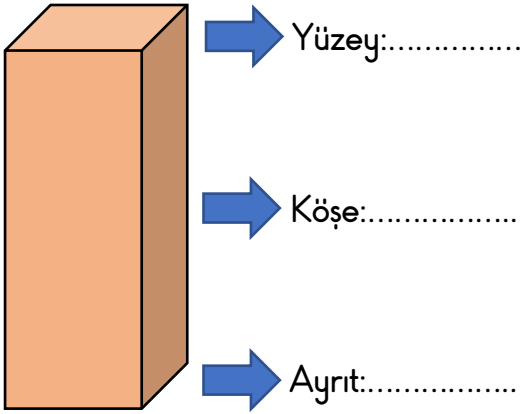
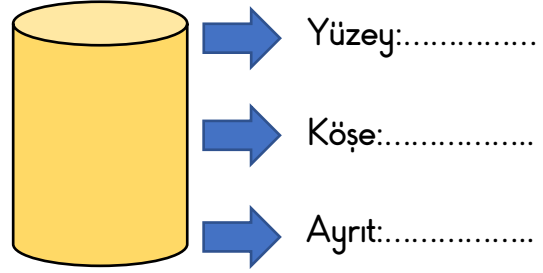
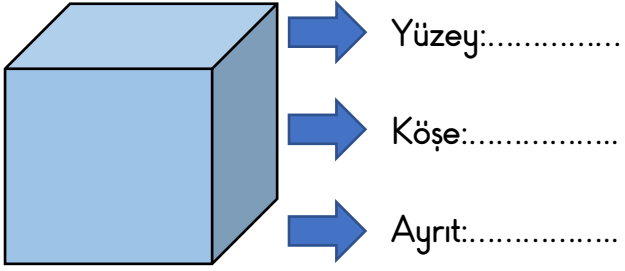


kızgınlık



üzüntü

❖ Aşağıdaki geometrik cisimlerin yüzey, köşe ve ayrıt sayılarını yazınız.



GEOMETRİK CİSİMLER TESTİ

1)

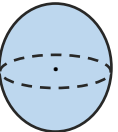

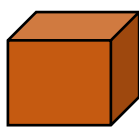


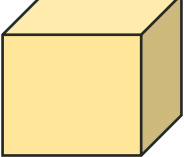
Basketbol topu  
..... örnek  
olarak verilebilir.

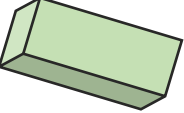
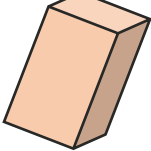
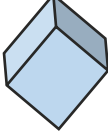
Yukarıdaki öğrencinin dediğine göre noktalı yere hangisi gelebilir?

- A) Küpe B) Silindire  
C) Küreye

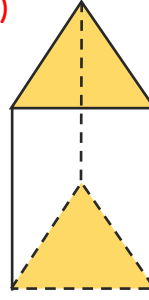
2) Aşağıdaki geometrik cisimlerden hangisinin ismi yanlış yazılmıştır?

- A)  Küre  
B)  Kare Prizma  
C)  Küp

3)  Aşağıdaki geometrik cisimlerden hangisi, yandaki geometrik cisimle aynı özelliklere sahiptir?

- A)  B)  C) 

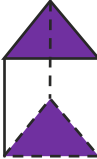
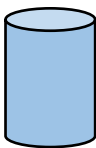
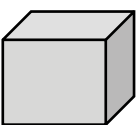
4)



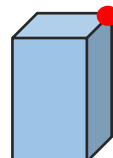
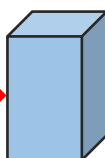
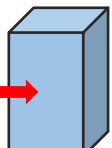
Yandaki geometrik cisimle ilgili aşağıdaki ifadelerden hangisi doğrudur?

- A) 6 tane köşesi vardır.  
B) 6 tane ayrıtı vardır.  
C) 6 tane yüzü vardır.

5) Aşağıdaki geometrik cisimlerden hangisinin ayrıtı yoktur?

- A)  B)  C) 

6) Aşağıdaki geometrik cisimlerin hangisinde ayrıt gösterilmiştir?

- A)  B)   
C) 

❖ Aşağıdaki cümlelerden doğru olanların başına 'D', yanlış olanların başına 'Y' yazınız.

(...) Herkes temiz bir çevrede yaşamak için çalışmalı ve dikkat etmelidir.

(...) Aşı olmak sağlığımıza zarar verir.

(...) Tuvaletten çıkınca ellerimizi yıkamalıyız.

(...) Sağlığımızı korumak için kişisel temizliğimize dikkat etmeliyiz.

(...) Meyve ve sebzeleri yıkamadan yiyebiliriz.

(...) Çevreyi temizlemek büyüklerin görevidir.

(...) Teneffüste sınıfı havalandırmamız gerekir.

(...) Öksürme ve hapşırma sırasında ağızımızı kapatmamız gerekir.

(...) Tuvaletten çıkarken sifonu çekmeliyiz.

❖ Aşağıda verilen görselleri inceleyiniz ve görsellerle ilgili soruları cevaplayınız.



1) İlk görselde yaşayan kişilerin özellikleri neler olabilir?

.....

2) İkinci görselde yaşayan kişilerin özellikleri neler olabilir?

.....

3) Siz hangi görseldeki gibi bir çevrede yaşamak isterdiniz? Neden?

.....

4) Çevremizi temiz tutmak için neler yapabiliriz?

.....

5) Temiz bir çevrede yaşamak sağlığımızı nasıl etkiler?

.....