



ŞERİFE BACI

Şerife Bacı, Kastamonu'nun İnebolu ilçesinde, küçük bir köyde yaşayan , genç bir kadındı. On altı yaşında evlenmiş, evlendikten kısa bir süre sonra da kocası askere alınmıştı. Ardından cepheden eşinin ölüm haberi gelmişti. Şerife Bacı, daha yirmi yaşına gelmeden , minik bebeği Elif ile yapayalnız kalmıştı.

Birinci Dünya Savaşı bitmiş , vatan işgale uğramıştı. Milli Mücadele yıllarıydı. Yokluk ve savaş her yanı sarmıştı. 1921' in kış mevsimiydi. Kış çok ağır geçiyordu. Kar tüm yolları kapatmıştı. Köye bir haber geldi.

İnebolu'ya gemilerle gelen cephanenin, Kastamonu üzerinden Ankara'ya ulaştırılması gerekiyordu. Civar köylerin tümüne görev verilmişti. Cephaneler İnebolu'dan Kastamonu'ya kadar kağnılarla taşınacaktı. Şerife Bacı hemen öne atıldı , görev alanların arasına girdi. Fakat minik bebeği Elifi bırakacağı kimse yoktu. Bebeğini de alarak yola koyulmaya karar verdi. Kağnısına kara öküzü koştı. Cephaneyi yükledi. Top mermilerinin arasına Elifi yatırıp, üzerine kalın bir yün yorgan örttü. Yola koyuldu. Kar , fırtına ve soğuk öyle etkiliydi ki kara öküzün ilerlemesini engelliyordu. Şerife Bacı zorla kağnıyı ilerletiyordu. Açlıktan ve yorgunluktan gücü kalmamıştı. Elleri ve ayakları donma noktasına gelmişti. Bebeği de bir yandan ağılıyordu. Bir an önce Kastamonu'daki kışlaya ulaşmak istiyordu. Bir yandan kara öküzü çekerek, bir yandan da Elifi emzirerek yola devam etti. Son gücünü harcayarak kışlaya vardı. Ama artık tükenmişti. Açlık ve soğuk onun gücünü bitirmişti.

Son gücüyle cephaneyi teslim eden Şerife Bacı , donarak can verdi. Bebeği kucağındayken oracıkta şehit düştü. Vatan için canını , evladını esirgemeyen bu Anadolu kadını , şehit düştüğünde henüz 20 yaşındaydı. Milli Mücadele böyle isimlessiz kahramanlar sayesinde kazanıldı. Vatan sizlere minnettar.



❖ Aşağıdaki soruları , metne göre yanıtlayınız.

1- Şerife Bacı nerede yaşıyormuş ?

.....

2- Köye gelen haber neymiş ?

.....

3- Şerife Bacı görevini nasıl tamamladı ?

.....

4-Şerife Bacı şehit olduğunda kaç yaşındaydı?

.....

❖ Aşağıdaki sözcüklerin anlamlarını bulup tümce içerisinde kullanınız.

Anlamı

Kağnı

Tümce



Anlamı

Cephane

Tümce



❖ Aşağıda yazan tümcelerdeki ,altı çizili sözcüklerin numaralarını , anlamlarına göre ilgili sepetlere yazınız.




- 1- Bakteriler konusunu işledik.
- 2- Telefon acı acı çaldı.
- 3- Nota okuma dersine geçtik.
- 4- İki kilogram patates aldım.
- 5- Sen eve gittin mi?
- 6- Bugün iki ekmek aldım.


- 7- Konuşmaya dalınca unutmuşum.
- 8- Sen tas kalpli bir adamsın.
- 9- Ben kalemimi açıyorum.
- 10-Çok yufka yürekli bir kadındı.
- 11- Bu acı sözleri beni yaraladı.
- 12-Sen yemek yer misin?




Mecaz anlam



Gerçek anlam



Terim anlam



❖ Aşağıdaki soruları cevaplayınız.

1- " Acı " sözcüğünü mecaz anlamıyla bir tümcede kullanınız.

.....

2- İçerisinde, matematik ile ilgili terim olan bir tümce kurunuz.

.....

3- " Bugün kuvvet konusunu işledik. " tümcesindeki terim anlamlı kelime hangisidir ?

.....

4- " Ayşe bana bağırdığında ,kalbim çok kırıldı. " tümcesindeki altı çizili sözcük sizce mecaz anlamlı mı yoksa gerçek anlamlı mı?

.....

5- " Bunu duyunca hayallerim yıkıldı , hayatım karardı. " tümcesinde kaç tane mecaz anlamlı sözcük vardır?

.....

❖ Noktalama işaretleri doğruysa "D", yanlışsa "Y" koyunuz.

() " Bugün gelebilir miyim? " dedi.

() Sen nasıl gittin oraya .

() Bugün Ali ' ler gelecek mi ?

() Ankaranın havası çok soğuktur.

() Hormonlu gıdalar tüketmemelisin ?

() Yedi göbekten İstanbul' lu Ahmet.

() Atatürk , Ordular ilk hedefiniz Akdeniz ileri , dedi.

() Eyvah : Yemek yandı.

() Atatürk'ün en önemli eseri " Nutuk " adlı eseridir.

() Bu yıl nisan'ın sert geçeceği söyleniyor.

() Öğretmen şunu söyledi : Okul en önemli eğitim yuvasıdır.



❖ Aşağıdaki çıkarma işlemlerinin tahmini sonuçlarını, en yakın onluğa yuvarlayarak bulunuz.



❖ Aşağıdaki çıkarma işlemlerinin tahmini sonuçlarını bulunuz.



EN YAKIN ONLUĞA

Gerçek Sonuç	Tahmini Sonuç	Sonuçların farkı
$\begin{array}{r} 848 \\ - 645 \\ \hline \end{array}$	$\begin{array}{r} \dots \\ - \dots \\ \hline \dots \end{array}$	$\begin{array}{r} \dots \\ - \dots \\ \hline \dots \end{array}$

Gerçek Sonuç	Tahmini Sonuç	Sonuçların farkı
$\begin{array}{r} 8248 \\ - 6564 \\ \hline \end{array}$	$\begin{array}{r} \dots \\ - \dots \\ \hline \dots \end{array}$	$\begin{array}{r} \dots \\ - \dots \\ \hline \dots \end{array}$



EN YAKIN YÜZLÜĞE

Gerçek Sonuç	Tahmini Sonuç	Sonuçların farkı
$\begin{array}{r} 4562 \\ - 3645 \\ \hline \end{array}$	$\begin{array}{r} \dots \\ - \dots \\ \hline \dots \end{array}$	$\begin{array}{r} \dots \\ - \dots \\ \hline \dots \end{array}$

Gerçek Sonuç	Tahmini Sonuç	Sonuçların farkı
$\begin{array}{r} 1256 \\ - 645 \\ \hline \end{array}$	$\begin{array}{r} \dots \\ - \dots \\ \hline \dots \end{array}$	$\begin{array}{r} \dots \\ - \dots \\ \hline \dots \end{array}$

PROBLEMLER



❖ Problemleri , yukarıdaki teknolojik aletlerin fiyatlarına göre cevaplandırınız.

1- 9800 TL parası olan Ahmet , teknoloji mağazasından televizyon ve tablet alıyor. Ahmet'in kaç TL parası kalmıştır?

Cevap:

2- Ürünlerin hepsini alan Fatma , kasada parasının yetmediğini görüyor. 580 TL'ye daha ihtiyacı olduğuna göre , başlangıçta Cafer'in cebinde kaç TL parası vardı?

Cevap:

3- Osman, tablet ve bilgisayar alıyor. Daha sonra ikisini 10 000 TL'ye satıyor. Kaç TL kar etmiştir ?

Cevap:

4- Teknoloji mağazası tüm ürünlerde 1000'er TL indirim yapıyor. İndirimden sonra televizyon ve tablet alan Sultan , kaç TL ödemiştir ?

Cevap:

❖ Aşağıdaki problemleri cevaplandırınız.

1- $2152 < A < 2155$ ise A yerine gelebilecek sayıların toplamının 1545 eksiği kaçtır ?

Cevap:

2- $M > 1246$ ve $K > 4520$ ise M ve K nin yerine gelebilecek ,en küçük çift sayıların farkı kaçtır ?

Cevap:

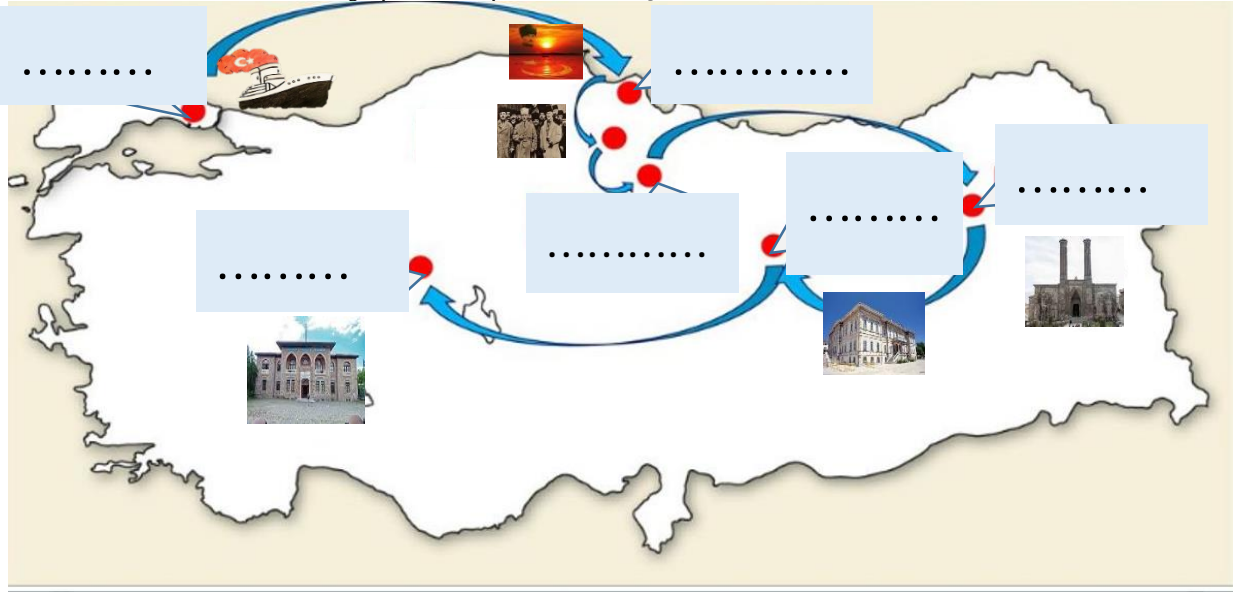
3- $3256 + 1252 = ?$ işleminin, tahmini ve gerçek sonucunun farkı kaçtır ?

Cevap:

4- Üç basamaklı en büyük ve en küçük sayıları toplayıp, dört basamaklı en büyük sayıdan çıkardım. Sonuç kaç olur ?

Cevap:

- ❖ Aşağıdaki Türkiye haritasında , Milli Mücadele'ye hazırlık döneminde , Atatürk'ün izlediği yol çizilmiştir. Gidilen şehirlere ve yapılan toplantılara göre boşlukları doldurunuz.



- ❖ Aşağıdaki soruları cevaplayınız.

1- Atatürk Milli Mücadele'yi başlatmak için hangi şehirden , hangi vapurla hareket etmiştir?

.....

2- Atatürk'ün, Anadolu'da ayak bastığı ilk şehir hangisidir? Hangi tarihte ayak basmıştır?

.....

3- Atatürk Milli Mücadele'yi başlatmadan önce, Anadolu'da nasıl bir yol izlemiştir? Şehirlerin isimlerini sırasıyla yazınız.

.....

4- Atatürk, vatanın bölünmez bir bütün olduğunu, hangi kongrede söylemiştir?

.....

5- Milli cemiyetler hangi kongrede tek çatı altına toplanmıştır?

.....

6- Atatürk'e hangi savaştan sonra "Mareşal" rütbesi verilmiştir?

.....

- ❖ Aşağıdaki boş bırakılan yerleri doldurunuz.

İtalyanlar

Samsun'a

Mondoros

Sütçü İmam

Yunanlılar

Kuvayımilliye



1- Ateşkes Antlaşması ile yurdumuz işgal edilmeye başlandı.

2- Antalya , Konya , Burdur civarı tarafından işgal edildi

3- Ege Bölgesi ve İzmir'e girmişti.

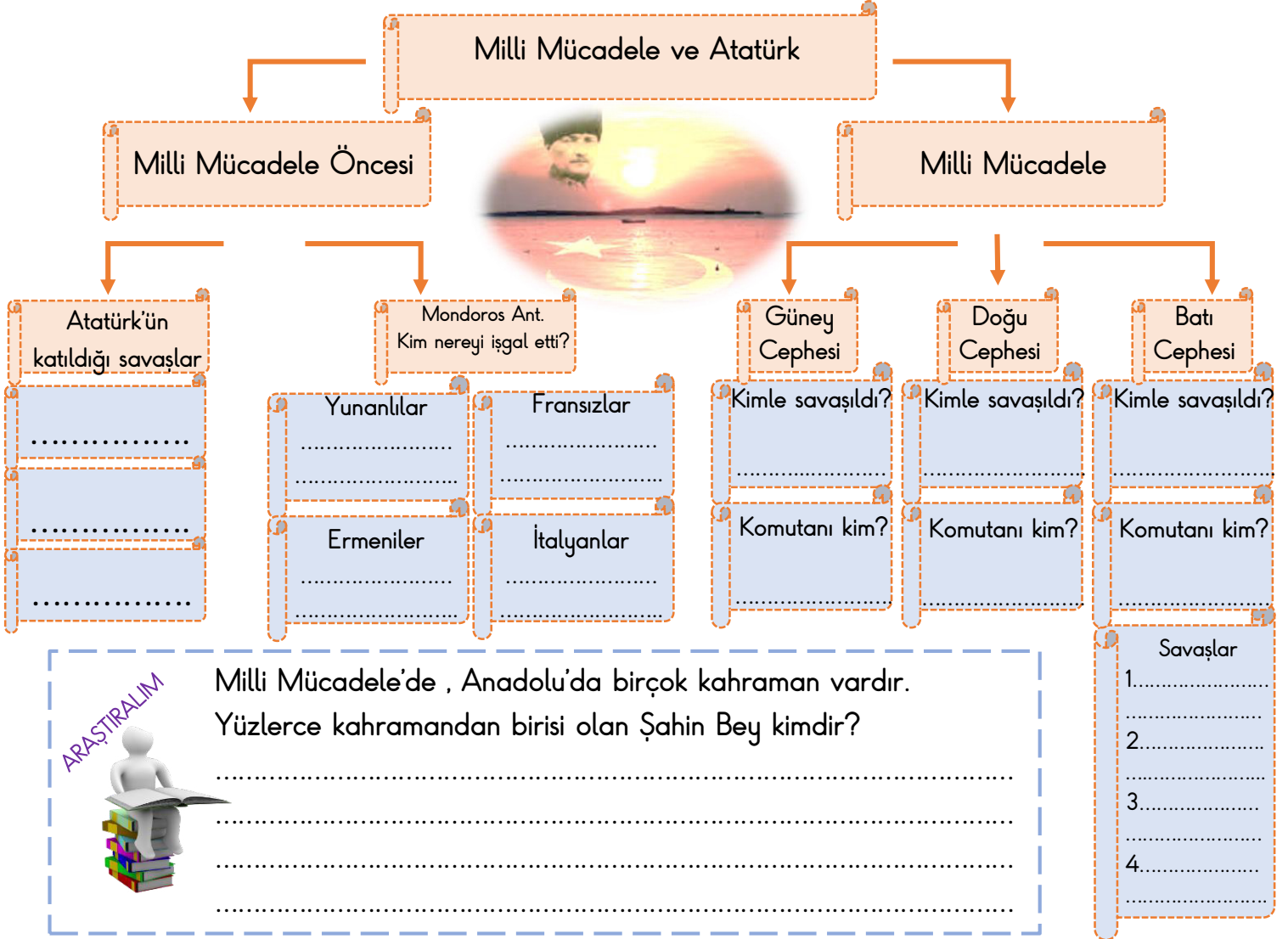
4- Halk işgallere karşı koydu ve birlikleri kuruldu.

5- Maraş yöresindeki Milli Mücadele kahramanıdır.

6- Milli Mücadele Atatürk'ün ayak basmasıyla başladı.



❖ Aşağıdaki Milli Mücadele şemasındaki boşlukları doldurunuz.



❖ Doğru olanların başına "D" , yanlış olanların başına "Y" koyunuz.

() Düşman işgaline karşı , milletin oluşturduğu bağımsız kuvvetlere Kuvayimilliyeye denir.

() Sütçü İmam , Milli Mücadele kahramanlarımızdan değildir.



() Maraş , Urfa ve Antep illerimiz kahramanca mücadele etmiştir. Şanlıurfa, Kahramanmaraş ve Gaziantep unvanlarını almışlardır.

() Batı Cephesi'nde yedi tane savaş olmuştur.

❖ Çoktan seçmeli soruları cevaplayınız

1- Hangisi Milli Mücadele kahramanımızdır?

- A) Halis Bey
B) Murat Bey
C) Hasan Tahsin
D) Fadime Hanım



2-Atatürk , hangi cephedeki iki savaşı kendisi yönetmiş ve komutanlığını yapmıştır?

- A) Güney Cephesi B) Batı Cephesi
C) Doğu Cephesi D) Kuzey Cephesi

Dengeli ve Düzenli Beslenme

❖ Dengeli ve sağlıklı beslenebilmemiz için , sağlıklı olan besinleri tüketmeliyiz. Aşağıdaki besinlerden, sağlıklı olanların altına " ✓ " işareti koyunuz.













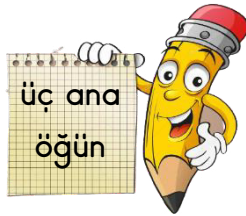









❖ Aşağıdaki boşlukları uygun olan sözcükler ile doldurunuz.




1- Her öğünde farklı besinler tüketiriz. Örneğin ve gibi besinleri kahvaltıda tüketiriz.

2- Karbonhidratları aşırı tükettiğimizde , fazlasını vücudumuz yağ olarak depo eder. Aşırı yağlanma sonucunda hastalığına yakalanırız.



3- Daha önce öğrendiğimiz gibi her besinin farklı görevleri vardır. Bu nedenle yararlı olan tüm besinlerden yeteri kadar tüketmeliyiz. Yararlı olan tüm besinlerden yeteri kadar tüketmeye denir.

4- Tek başına dengeli beslenmemiz yeterli değildir. Aynı zamanda öğünlerimizi gün içerisinde yaymalı , belirli zaman aralıklarıyla beslenmeliyiz. Öğünleri belirli zaman aralıklarıyla , tüm güne yayarak beslenmeye denir.



5- Besinleri gün içerisinde , sabah , öğle ve akşam olmak üzere de tüketmeliyiz.


❖ Aşağıdaki soruları cevaplayınız.

 Dengeli beslenme nedir?


.....

 Beslenmemizde kahvaltı neden önemlidir?

.....

 Ayşe'nin tabağında et , salata , ekmek ve çips bulunuyor. Ayşe hangi besini tabağından çıkarmalıdır?


.....

 Besinlerin plansız kullanımı sonucunda , çöpe atılmasına besin israfı denir. Besin israfına bir örnek veriniz.

.....

❖ Doğru olanların başına "D" , yanlış olanların başına "Y" koyunuz.

() Sabah kahvaltısı günün ilk öğünü olduğundan çok önemlidir.



() Akşam yemeklerinde ağır yemekler tüketmemeliyiz.

() Yumurta , peynir , reçel gibi gıdaları öğle yemeğinde tüketiriz.

() Her besin grubunun farklı görevleri olduğundan , her besinden yeteri kadar tüketmeliyiz.



() Kahvaltı yapmadığımız günlerde , öğle saatlerini beklemeliyiz. Simit poğaça gibi besinlerle iki öğünü birden geçiştirebiliriz .

() Öğle yemeğinde çok yemek yiyerek , akşam yemeğini atlayabiliriz.



() Ana öğünlerin dışında fındık ,ceviz , süt , meyve gibi besinleri tüketebileceğimiz ara öğünler de vardır.




❖ Aşağıdaki çoktan seçmeli soruları cevaplayınız.

 Aşağıda verilen bilgilerden hangisi yanlıştır?

- A) Üç ana öğün vardır.
- B) Besin israf etmemek için ,tabağımıza yiyebileceğimiz kadar yiyecek almalıyız.
- C) Kahvaltıda kuru fasulye yemeliyiz.
- D) Dengeli beslenmek kadar , düzenli beslenmek de önemlidir.

Patates Pırasa Et	Yeşil fasulye Pilav Tavuk	Et Tavuk Balık	Kuru fasulye Pilav Salata
			
1	2	3	4

 Yukarıdaki tabaklardan hangisini yiyen kişi, dengeli beslenmiş olmaz ?

- A) Birinci tabak
- B) İkinci tabak
- C) Üçüncü tabak
- D) Dördüncü tabak



Pakize: Simit , çay , çikolata



Rıfat: Ekmek , makarna, muz



Salih: Mercimek çorbası , et , elma



Remzi: Kola , döner , çips

 Hangi çocuk dengeli ve sağlıklı beslenmiştir?

- A) Pakize
- B) Rıfat
- C) Salih
- D) Remzi

MINİ TEST



1- Yukarıdaki kitapta yazan kavramlardan kaç tanesi, fen bilimleri dersi ile ilgili, terim anlamlı ifadelerdendir ?

- A) Üç tanesi
B) Dört tanesi
C) Beş tanesi
D) Altı tanesi



2- Hangi tümcede mecaz anlamlı bir sözcük vardır?

- A) Sen neden eve gelmedin?
B) Hemen ders çalışmalıyım.
C) Çok ses vardı , kulağım patladı.
D) Sen git , ben geliyorum.


Ömer Seyfettin'in () Kaşağı ()
adlı eserini okudun mu ()

3 - Yukarıda yazan tümçeye hangi noktalama işaretleri gelmelidir?

- A) . ? ? B) , , ?
C) , , ? D) " " ?

4- Hakan cebindeki parayla alışveriş yaptı. 156 TL ile pantolon , 658 TL ile ayakkabı , 800 TL ile mont aldı. Ama parası yetmedi. 256 TL' ye ihtiyacı olan Hakan'ın başlangıçta kaç TL parası vardı?

- A) 1614 TL
B) 1258 TL
C) 1358 TL
D) 958 TL



5 - Çıkarma işleminin, tahmini ve gerçek sonuçlarının farkı kaçtır ?

- A) 1 B) 4 C) 8 D) 9

6 - Ahmet 43 , Emre 39 , Mustafa 36 yaşındadır. Üç arkadaşın 7 yıl önceki yaşlarının toplamı kaçtı ?

- A) 111 B) 97 C) 118 D) 107


7- 9 , 0 , 8 , 6 rakamları ile yazılabilecek, en büyük ve en küçük dört basamaklı iki sayının farkı kaç olur ?

- A) 3771
B) 9860
C) 6089
D) 3071



8 - Sağlıklı beslenmek isteyen bir çocuk, aşağıdakilerden hangisini tüketmelidir?

- A) Elma
- B) Kola
- C) Hamburger
- D) Şekerleme



9 - Düzenli beslenebilmemiz için , kaç ana öğünde beslenmeliyiz?

- A) Üç ana öğün
- B) Sadece kahvaltı
- C) İki ana öğün
- D) Dört ana öğün



10 - Hangisi yanlıştır ?

- A) Kahvaltı kesinlikle atlanmamalıdır.
- B) Zamanımız olmadığında öğün atlayabiliriz
- C) Akşam, ağır besinler tüketmemeliyiz.
- D) Ara öğünlerde meyve yiyebiliriz.



Bilgi: Tüm besin içeriklerinin görevleri farklıdır. Bu nedenle, tabağımızda farklı besin gruplarından besinler olmalıdır.

11 - Yukarıdaki bilgiye göre , hangi seçenekteki besinleri yiyen birisi, dengeli beslenmiş olur ?

- A) Yumurta-süt-sucuk
- B) Ekmek-simit-pasta
- C) Şeker-pasta-kurabiye
- D) Tavuk-ekmek-elma

12 - Atatürk, Milli Mücadele'ye başlarken hangi şehirde toplantı-kongre yapmamıştır?

- A) Amasya
- B) Erzurum
- C) Çorum
- D) Sivas



13 - Hangi bölgede , milletin kendi mücadelesiyle zafer kazanılmış ve ordularımız gelmeden, bölge düşmandan kurtarılmıştır ?

- A) İzmir ve Batı Anadolu
- B) Erzurum - Kars çevresi
- C) Afyon ve Kütahya civarı
- D) Antep , Urfa ve Maraş bölgesi

14- Doğu Cephesi'nin komutanı kimdir ?

- A) İsmet İnönü
- B) Kazım Karabekir
- C) Rauf Orbay
- D) Hasan Tahsin



Bilgi: Sakarya Meydan Muharebesi sonrasında Atatürk'e "Mareşal" rütbesi ve "Gazi" unvanı verildi.

15 - Yukarıdaki bilgi notunda bahsedilen Sakarya Meydan Muharebesi , hangi cephede yapılmış bir savaştır?

- A) Batı Cephesi
- B) Kuzey Cephesi
- C) Doğu Cephesi
- D) Güney Cephesi

