

Ad Soyad:.....
Sınıfı:.....
Numarası:.....



FEDAKAR ÖĞRETMENİM

Küçücük bir çocuktum , karşılaştım onunla.
Sımsıcak bakışlarla, gönlünü açtı bana.
İlk gün çok çekindiğim , okulu yuva etti,
Hiçbir şey bilmezken, neler neler öğretti.

Aradan zaman geçti , her geçen gün ısındım.
Okulu özler oldum , ilk günleri unuttum.
Öğretmen fedakarmış , bunu sende öğrendim,
Gününüz kutlu olsun , sevgili öğretmenim.

❖ İlk üç soruyu şiire göre cevaplayınız.

1) Çocuk öğretmeni ile ilk defa ne zaman karşılaşmış ?

- A) Bebekken karşılaşmış,
B) Küçük bir çocukken karşılaşmış.
C) Parkta oynarken karşılaşmış.
D) Dördüncü sınıfta karşılaşmış.



2) Öğretmeni çocuğa nasıl davranmış ?

- A) Sert ve disiplinli bir şekilde davranmış.
B) Çocuğa soğuk davranmış.
C) Çocuğu kucağına alıp sevmiş.
D) Sımsıcak bakışlarla gönlünü açmış.



3) Şiirin ana duygusu nedir?

- A) Okulda yaşanan mutluluk
B) Öğretmenler günü
C) Öğretmen sevgisi
D) Okulun ilk günü yaşanan korku



Ahmet Beyin arabası geldi. Erken değil mi?
Biz 15 Kasımda bekliyorduk. Ayrıca THY nin
uçacağıyla gelecekti. Arabayla gelmiş.

4) Kesme işareti konulması gereken bazı yerlere, kesme işareti konulmamıştır. Bu yazıda , bu şekilde kaç tane hata yapılmıştır?

- A) 1 B) 2 C) 3 D) 4

5) Aşağıdaki tümcelerin hangisinde tırnak işaretinin kullanımı ile ilgili hata yapılmıştır?

- A) Arif Nihat Asya'nın en ünlü eseri "Bayrak" adlı şiiridir.
B) Bugün " hızlı okuma " seminerine katılacağız.
C) Atatürk "Ne mutlu Türk'üm diyene!" demiştir.
D) Bakkala "gidip" ekmek aldım.



6) Deftere yazılan soru tümcelerinin kaç tanesi yanlış yazılmıştır?

- A) İki B) Üç C) Dört D) Beş

7) "Otomobil - yol " sözcükleri arasındaki anlam ilişkisi, aşağıdaki sözcük çiftlerinden hangisinde vardır ?

- A) Kuş - yuva B) Ev - insan
C) Tren - ray D) Okul - öğretmen

8) Aşağıdaki tümcelerin hangisinde kesme işaretinin kullanımı ile ilgili hata yapılmıştır?

- A) Babam 1978 ' de doğmuş
 B) Ayşe Zümra İzmir'li ama Ankara'da yaşıyor.
 C) TCDD 'nin son treni Sivas'a olacakmış.
 D) Mehmet Efendi ' nin oğlu evleniyormuş.



Pireyi deve yapmak

9) Yukarıdaki deyimın anlamı nedir?

- A) Bir olayı gereğinden fazla büyütmek.
 B) Hayvanları çok sevmek, besleyip büyütmek.
 C) Pireden korkmak.
 D) Böceklerden hoşlanmamak.

10) . Aşağıdaki tümcelerden hangisinin sonuna soru işareti konulmaz?

- A) Akşam size gelmez , sanmıyorum
 B) Eve gideceğini düşünüyor musun
 C) Ne dersin gidelim mi
 D) Çok çalışmak , tek çare bu değil mi



Bursa'lı mısın küçük kız . Nereden geldin.

11) Yukarıdaki tümcede noktalama ve yazım yanlışları vardır. Bu tümcenin doğru şekilde yazılışı aşağıdakilerden hangisidir?

- A) Bursa'lı mısın küçük kız ? Nereden geldin?
 B) Bursa'lı mısın küçük kız? Nereden geldin?
 C) Bursalı mısın küçük kız ? Nereden geldin.
 D) Bursalı mısın küçük kız ? Nereden geldin?

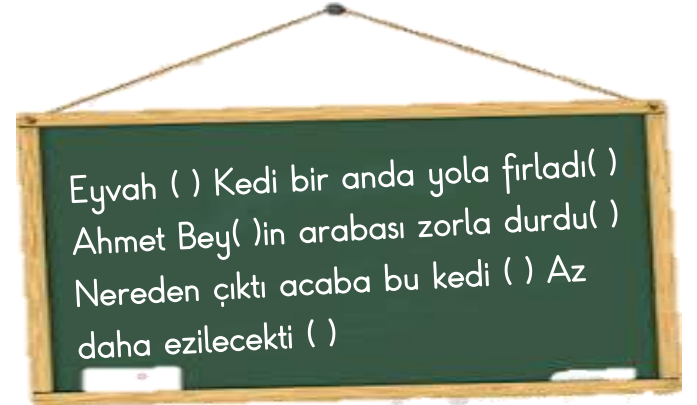
12) Aşağıdaki sözcük çiftlerinden hangisinde farklı bir anlam ilişkisi vardır ?

- A) Dize - mısra B) Birey - fert
 C) Alçak - yüksek D) Gayret - çaba

- 13) I. Evimizin minik yaramazı, kedimiz minnoş.
 II. Dumlupınar ortaokuluna gideceğim.
 III. Kartal Devlet Hastanesi'ne nasıl gidilir?
 IV. Fatma Hanım geldi.

Büyük harflerin doğru kullanıldığı tümceler hangileridir?

- A) I ve II B) III ve IV C) I ve IV D) II ve III



14) Yukarıdaki tahtada yazan yazıda , yay ayraç ile belirtilen bölümlere hangi noktalama işaretleri gelmelidir ?

- A) ! . ' . ? . B) ! . , ? ? .
 C) ? ! , , ? . D) ? ! , . ? '

15) " Birinin güvenini ve takdirini kazanmak " anlamındaki deyim hangisidir ?

- A) Elden gelmek B) Burun kıvrırmak



- C) Gözüne girmek D) Gözden düşmek

Ad Soyad:.....
Sınıfı:.....
Numarası:.....

I) $2156 - 1488 = 668$

II) $5512 - 2456 = 3056$

III) $6124 - 2112 = 4112$

IV) $7515 - 4586 = 2939$

1) Çıkarma işlemlerinden hangilerinin sonuçları yanlıştır?

- A) I ve II **B) III ve IV** C) II ve III D) I ve IV

2) 2160 ile 2166 arasındaki tek sayıları toplarsam sonucu kaç bulurum ?

- A) 6447 B) 6448 **C) 6489** D) 6490

Gerçek Sonuç	Tahmini Sonuç
$\begin{array}{r} 1524 \\ + 2345 \\ \hline A \end{array}$	$\begin{array}{r} \dots\dots \\ + \dots\dots \\ \hline B \end{array}$


3) Yukarıdaki toplama işleminin ilk önce gerçek sonucu bulunuyor. Daha sonra en yakın onluğa yuvarlanarak tahmini sonucu bulunuyor.

Bu işlemler yapıldıktan sonra , " $B - A = ?$ " işleminin sonucu kaç olur?

- A) 1** B) 2 C) 3 D) 4

4) " $54M8 - K729 = 1768$ " işleminde M ve K 'yi bulduğumuzda , " $M - K = ?$ " işleminin sonucu kaç olur?

- A) 5 **B) 6** C) 7 D) 8



5) Yukarıdaki toplama işlemlerini zihinden yaparsak , $\text{robot} + \text{scissors} + \text{robot} = ?$ işleminin sonucu kaç olur?

- A) 2912 B) 2312 C) 7196 **D) 7296**

6) Hayri sağlıklı yaşamak için spor yapıyor. Her gün parkta koşuyor. Birinci gün 2015 metre koşuyor. İkinci gün ise ilk gün koştuğu mesafeden 200 metre daha fazla koşuyor. Üçüncü gün ise , ilk iki gün koştuğu mesafenin toplamı kadar koşuyor. Hayri üç gün boyunca toplam kaç metre koşmuştur?

- A) 2215
B) 4320
C) 8460
D) 9460



$4587 + 2658 =$

7) Yukarıdaki toplama işleminin, en yakın yüzlüğe yuvarlayarak tahmini sonucu kaç olur?

- A) 7250 B) 7260 **C) 7300** D) 7200



$$\begin{array}{r} 7 \ 5 \ 5 \ A \\ - 5 \ B \ 4 \ 8 \\ \hline C \ 1 \ 0 \ 2 \end{array}$$

8) Çıkarma işleminde , bilinmeyen sayıları bulalım. Bulduktan sonra büyükten küçüğe sıraya koyalım . Nasıl bir sıralama oluşur?

- A) $A > B > C$ B) $B > A > C$
 C) $B > C > A$ D) $C > B > A$

9) Yüzler basamağı 8 olan ve rakamları birbirinden farklı en küçük dört basamaklı sayıya 500 ekledim. Bulduğum sayı kaç olabilir?

- A) 2302 B) 1523 C) 1802 D) 1852

2548+354=2900 , 4512+525= 5030
 2215+624=2840 , 7888+712= 8600

10) Yukarıda, en yakın onluğa yuvarlanarak tahmini toplama işlemleri yapılmıştır. Sizce kaç tane işlemin sonucu yanlış yapılmıştır?

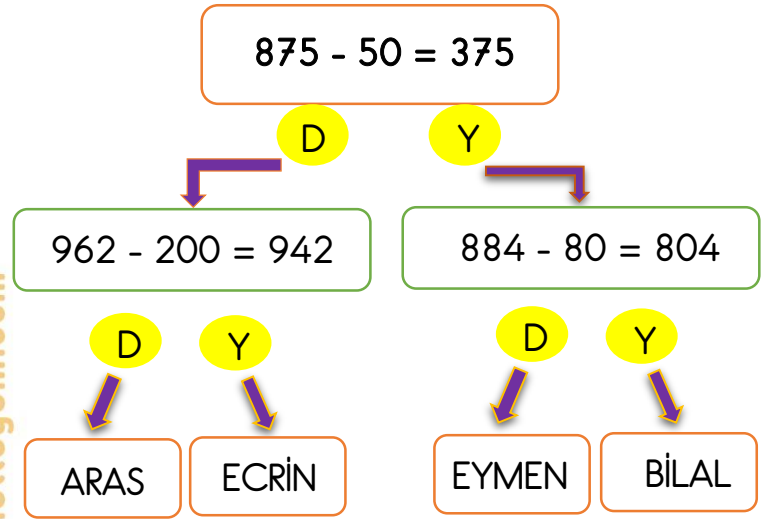
- A) 1 tane B) 2 tane C) 3 tane D) 3 tane

11) Hangi çıkarma işleminin sonucu 5262 'dir ?

- A) 6064 - 1802 B) 7064 - 2802
 C) 7064 - 1802 D) 9025 - 2564

12) Aşağıdaki çıkarma işlemlerinden hangisinin sonucu " $5864 - 600 = ?$ " işleminin sonucuyla aynıdır?

- A) 5264 - 200 B) 5964 - 700
 C) 5564 - 400 D) 5864 - 500



13) Çıkarma işlemlerinde, işlemlerin sonuçlarına göre , doğru veya yanlışları takip edersek , hangi isme ulaşırız?

- A) BİLAL B) EYMEN C) ARAS D) ECRİN

14) Toplananlardan birincisi 3500 ve ikincisi 2500 olan toplama işleminin sonucuna , 1000 eklersem sonuç kaç olur?

- A) 5000 B) 6000 C) 7000 D) 8000

$2000 + 1500 + \dots\dots\dots$









15) Yukarıdaki toplama işleminin sonucu 6000 ise , üçüncü sayı kaçtır ?

- A) 2500 B) 3500 C) 1000 D) 2000

Ad Soyad:.....
Sınıfı:.....
Numarası:.....

1) "Dolabımdaki ve protein içeren besinlerdir."

Yukarıdaki tümcede boş bırakılan yerlere hangi besinleri yazabiliriz?









- A)  Börek  Elma
B)  Süt  Makarna
C)  Yumurta  Patates
D)  Kıyma  Peynir

2) Arif . kilolu bir çocuktur. Sizce , hangi besinleri daha az tüketmesi gereklidir?

- A) Karbonhidratlar ve yağlar
B) Proteinler
C) Mineraller
D) Vitaminler



3) Aşağıdakilerden hangisi yapıcı ve onarıcı olarak görev yapan bir besin değildir?

- A)  
B)  
C)  
D)  

Elma	Yumurta	Pırasa	Et
Hamsi	Peynir	Patates	Sucuk
Pastırma	Muz	Tavuk	Kestane

4) Yukarıda verilen besinlerden kaç tanesi hayvansal besindir ?

- A) Dört B) Beş C) Altı D) Yedi



5) Yukarıdaki bilgiye göre , besinlerden hangilerini yaz mevsiminde tüketirsek sağlıklı olmaz?


- A) Pırasa ve portakal B) Kiraz ve çilek
C) Kavun ve karpuz D) Vişne ve erik

6)

Hem düzenleyici olarak görev yapan , hem de tüm besinlerde bulunan , besin içerikleri hangileridir?

- A) Su ve mineraller B) Yağlar
C) Karbonhidratlar D) Proteinler

- Et
- Peynir
- Sucuk
- Poğaç
- Balık
- Simit
- Yoğurt



- Makarna
- Süt
- Pasta
- Ekmek
- Tavuk
- Gözleme
- Çörek

7) Yukarıda besinler " yapıcı onarıcı " ve " enerji verici " olarak iki gruba ayrılmıştır. Fakat bazı besinler yanlış gruba yazılmıştır. Sizce hangi besinler yer değiştirirse, yanlışlık düzeltilmiş olur?

A) Poğaç ve simit enerji verenler grubuna yazılmalı. Gözleme ve çörek yapıcı ve onarıcı grubuna yazılmalı.

B) Poğaç ve simit enerji verenler grubuna yazılmalı. Süt ve tavuk yapıcı ve onarıcı grubuna yazılmalı.

C) Makarna ve süt enerji verenler grubuna yazılmalı. Tavuk ve çörek yapıcı ve onarıcı grubuna yazılmalı.

D) Poğaç ve simit enerji verenler grubuna yazılmalı. Ekmek ve pasta yapıcı ve onarıcı grubuna yazılmalı.

8) Hangi bilgi yanlıştır?

A) Vücudumuzun dörtte üçü sudur.

B) Su enerji veren bir besindir.

C) Su ve mineraller tüm besinlerde bulunur.

D) Su ve mineraller düzenleyicidir.



Besinleri yerinde ve mevsiminde tüketmeliyiz. Ama bunu yapmamız mümkün değilse, çeşitli yöntemler kullanarak besinleri saklayabiliriz. Böylece besinleri mevsimleri dışında da sağlıklı olarak tüketebiliriz.

- 9) Hangisi, yukarıda verilen bilgilendirmede anlatılan yöntemlerden birisi değildir?
- A) Kurutma B) Dondurucuda saklama
- C)** Doğrama D) Turşu yapma

- Tüm besinlerin son kullanma tarihi vardır.
- Proteinler enerji verir.
- Simit karbonhidrat içerir.
- Vitaminler düzenleyicidir.
- Domates hayvansal bir besindir.

10) Yukarıda verilen bilgilerin doğru olanlarının yanına "D", yanlış olanlarının yanına "Y" yazarsak, sıralama nasıl olur ?

- A)** (Y) (Y) (D) (D) (Y)
- B) (D) (D) (Y) (Y) (D)
- C) (Y) (D) (Y) (D) (D)
- D) (D) (Y) (Y) (Y) (D)

Ad Soyad:.....
Sınıfı:.....
Numarası:.....

- Baklava - Pizza - Pilav
-Profiterol - Kebap - Lokum
-Kola -Döner - Su böreği



1) Yukarıda verilen besinlerden kaç tanesi bizim kültürümüze aittir ?

- A) Dört tanesi
B) Beş tanesi
C) Altı tanesi
D) Yedi tanesi



2) Aile tarihimizi araştırırken, aşağıdakilerden hangisinden faýdalanamayız?

- A) Eki albümlerden
B) Eski eşyalardan
C) Aile büyüklerimizin anlattıklarından
D) İnternette ve ansiklopedilerden

Kıspet giyen pehlivanların üzerine yağ dökülür. Açık havada ve geniş bir alanda sporcular mücadele eder. Birinci olan sporcu baş pehlivan olur.

3) Yukarıda hangi milli sporumuzdan bahsetmektedir?

- A) Grekoromen güreş
B) Halter
C) Yağlı güreş
D) Zeybek



- 4) Yukarıdaki çocuk hangi oyunu oynuyor?
A) Yerden yüksek B) Köşe kapmaca
C) Sek sek D) Sayı sayma

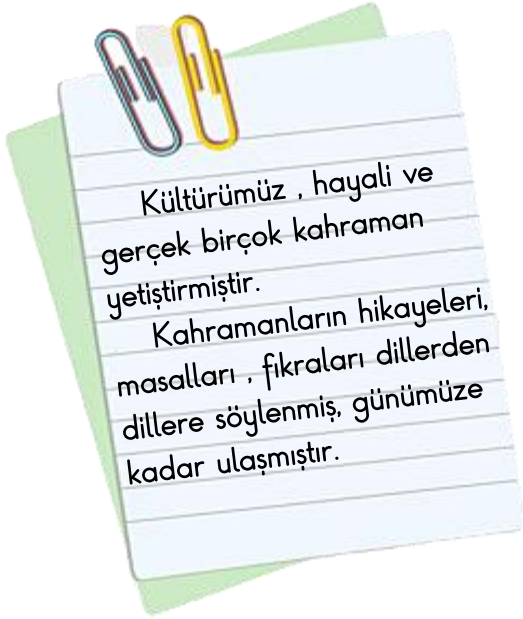
5) Soy ağacımızı hazırladığımızda , aşağıdakilerden hangisi soy ağacımızda bulunmaz ?

- A) Dedemiz B) Babaannemiz
C) Eski dostlarımız D) Halamız



6) Bu oyunlardan kaç tanesi, hem günümüzde hem de eskiden oynanan oyunlardır?

- A) 3 B) 4 C) 5 D) 6



7) Hangisi kültürümüze ait bir öge değildir?

A)



B)



C)



D)



8) I- Soru sorulacak aile büyüğü belirlenmesi

II- Anlatılanların kaydedilmesi

III- Sorular hazırlanması

IV- Tarih ve yer belirlenmesi

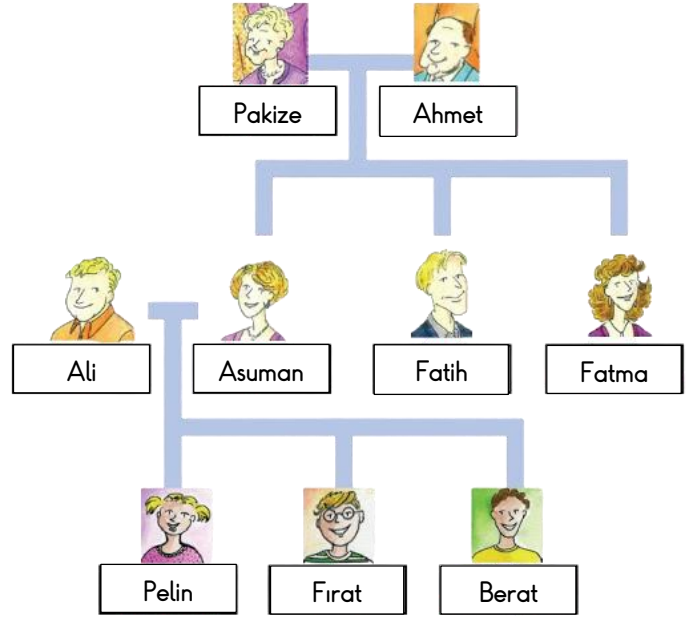
Aile tarihimizi araştırırken sözlü tarih yöntemini kullanabiliriz. Bir aile büyüğümüzle söyleşi yapabiliriz. Bu çalışmayı yaparken , doğru sıralama nasıl olmalıdır?

A) II - III - I - IV

B) I - IV - III - II

C) III - II - IV - I

D) IV - III - II - I



9) Yukarıdaki aile soy ağacına göre , Ali Fatma' nın neyi olur?

A) Amcası B) Babası C) Kardeşi **D) Eniştesi**

10) Hangisi kültürümüze ait , Anadolu'da kullanılan bir müzik aleti değildir?

A)



B)



C)



D)

