

Ad Soyad:.....  
Sınıfı:.....  
Numarası:.....

### CANIM ÖĞRETMENİM

Bilmezdim okuttun dönmez dilimi,  
Yazar eyledin sen tutmaz elimi  
Bize mi adadın öğretmenim kendini,  
Canım öğretmenim ilimden bir gömleksin.

Koruyup gözetip sakındın gözünde,  
İçime sevgi dolduran gülen yüzünde,  
Yıkılmaz bir çinarsın sen özünle,  
Canım öğretmenim içimde bir yüreksin.

Büyüyüp kendi yolumu bulursam,  
Kötülüğe haksızlığa karşı durursam,  
Bende bir gün öğretmen olursam,  
Canım öğretmenim önümde bir örneksin...

Gül YILMAZ

( İlk 3 soruyu şiire göre cevaplayın.)

1. Şair öğretmeni aşağıdakilerden hangisine benzetmemiştir?

- A. İlimden bir gömleğe  
B. İçindeki yüreğe  
C. Işık saçan güneşe

2. Şiirin şairi ve başlığı hangi seçenekte doğru olarak verilmiştir?

- A. Gül YILMAZ - Öğretmenler Günü  
B. Gül YAMAN - Canım Öğretmenim  
C. Gül YILMAZ - Canım Öğretmenim

3. Şiire göre şair öğretmenini ne zaman örnek alacaktır?

- A. Derslerinde başarılı olduğunda.  
B. Kendisi de öğretmen olduğunda.  
C. Okumayı yazmayı öğrendiğinde.

1 kapımıza yaprakları 2  
3 fırtına getirdi 4

4. Yukarıdaki kelimelerle anlamlı ve kurallı bir cümle oluşturursak doğru sıralama nasıl olur?

- A. 3 - 2 - 1 - 4  
B. 1 - 4 - 2 - 3  
C. 3 - 4 - 2 - 1

5. Aşağıdaki kelimelerin hangisinde ince ve kalın ünlü sayısı eşittir?

- A. telefon  
B. kiralık  
C. karikatür

Eyvaah ( ) cam kırıldı ( )

6. Yukarıdaki cümlede boş bırakılan yerlere sırasıyla hangi noktalama işaretleri gelmelidir?

- A. (!) - (.)  
B. (,) - (!)  
C. (!) - (?)


Hasan ( ) in oyuncaklarını arkadaşları Mert ( ) Kenan ve Aslı almış olabilir mi ( )

7. Yukarıda cümlede ayraçlarla gösterilen yerlere sırasıyla hangi noktalama işaretleri gelmelidir?

A. ( ' ) - ( . ) - ( ? )

B. ( ' ) - ( , ) - ( . )

C. ( ' ) - ( , ) - ( ? )



8. Aşağıdaki cümlelerin hangisinde kesme işareti doğru kullanılmıştır?

A. Mehmet'in burnu kanadı.

B. Atatürk İlkokulu'na gidiyorum.

C. Abimin Ankara'lı bir arkadaşı var.

9. Aşağıdaki kelimelerin hangisi satır sonunda yanlış ayrılmıştır?

A.

matema -  
tik

B.

Ayşe' -  
nin

C.

arka -  
daş

10. Aşağıdaki cümlelerin hangisinde yazım yanlışlığı yapılmıştır?

A. Çam ve sakura hastanesi açıldı.

B. Dünya Güneş'in etrafında dolanır.

C. Pepe ve Şila çok tatlı karakterler.

11. Aşağıdaki cümlelerdeki altı çizili kelimelerin hangisi yanlış yazılmıştır?

A. Dayımlar çarsamba günü bize gelecek.

B. Dün akşam sohben arıza yaptı.

C. Annem akşama ciyer pişirecek.

12. Aşağıdaki cümlelerin hangisinde zıt anlamlı sözcükler bir arada kullanılmıştır?

A. Bu taşlar çok büyük, kocamanlar.

B. Sahilde irili ufaklı binlerce taş var.

C. Pencereden uzun uzun baktı.

13. Yandaki kelimeler arasındaki anlam ilişkisi aşağıdakilerin hangisinde vardır?

A. güzel - çirkin

B. eğri - düz

C. hür - özgür



01 Karete

02 Kar

03 Kart

04 Kare

14. Yukarıdaki kelimeler sözlük sırasına konursa doğru sıralama nasıl olur?

A. 01 - 02 - 03 - 04

B. 02 - 04 - 01 - 03

C. 02 - 04 - 03 - 01

Ad Soyad:.....  
Sınıfı:.....  
Numarası:.....

$$\begin{array}{r} \triangle 603 \\ + 243 \\ \hline \end{array}$$

$$\begin{array}{r} \bullet 579 \\ + 344 \\ \hline \end{array}$$

$$\begin{array}{r} \blacksquare 543 \\ + 257 \\ \hline \end{array}$$

1. Yukarıdaki işlemlerin sonuçlarını büyükten küçüğe sıraladığımızda sıralama nasıl olur?

- A.  $\triangle > \bullet > \blacksquare$   
B.  $\blacksquare > \triangle > \bullet$   
C.  $\bullet > \triangle > \blacksquare$

$$\begin{array}{r} 295 \\ + 49 \\ \hline \end{array}$$

$$\begin{array}{r} \square \\ + 203 \\ \hline \end{array}$$

$$\begin{array}{r} \square \\ + 106 \\ \hline \end{array}$$

2. Yukarıdaki toplama işlemleri sırası ile yapıldığında  $\star$  yerine hangi sayı gelir?

- A. 344  
B. 547  
C. 653

$$(203 + 42) + 32 = (32 + \triangle) + 203$$

3. Yukarıdaki eşitlikte  $\triangle$  yerine hangi sayı gelmelidir?

- A. 203  
B. 42  
C. 32

$$\begin{array}{r} 725 \\ - 213 \\ \hline \end{array} - \begin{array}{r} 125 \\ - 125 \\ \hline \end{array}$$

4. Yukarıdaki çıkarma işlemleri ok yönünde yapılırsa ? yerine hangi sayı gelir?

- A. 434  
B. 424  
C. 524

$$\begin{array}{r} 500 \\ - 392 \\ \hline \end{array}$$

5. Yukarıdaki çıkarma işleminin sonucunun en yakın onluğu aşağıdakilerden hangisidir?

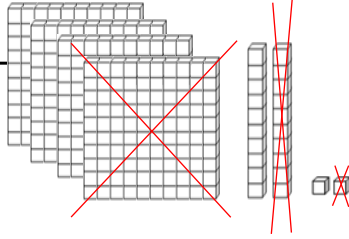
- A. 108  
B. 210  
C. 110

$$\begin{array}{r} 300 \\ - 90 \\ \hline \end{array} \quad \begin{array}{r} 300 \\ - 60 \\ \hline \end{array} \quad \begin{array}{r} 300 \\ - 70 \\ \hline \end{array}$$

6. Yukarıdaki çıkarma işlemleri zihinden yapılırsa hangisinin sonucu en büyük olur?

- A.  $\star$   
B.  $\star$   
C.  $\smiley$

7. Yanda modelle gösterilen çıkarma işlemi aşağıdakilerden hangisidir?



- A.  $422 - 211 = ?$       B.  $322 - 111 = ?$

**C.**  $422 - 111 = ?$

$80 - 60 = 20$   
 $9 - 4 = 5$   
 $20 + 5 = 25$

8. Yukarıdaki işlemler hangi çıkarma işleminin zihinden yapılışıdır?

- A.  $80 - 69 = ?$       **B.**  $89 - 64 = ?$   
 C.  $84 - 69 = ?$

9. Aşağıdaki işlemlerden hangisinin tahmini sonucu ile gerçek sonucu arasındaki fark en azdır?

- A.**  $456 + 214 = ?$       B.  $547 + 95 = ?$   
 C.  $278 + 104 = ?$

$\begin{array}{r} 328 \\ + 292 \\ \hline \end{array}$	$\begin{array}{r} 316 \\ + 432 \\ \hline \end{array}$	$\begin{array}{r} 357 \\ + 395 \\ \hline \end{array}$
<b>+</b>	<b>-</b>	<b>×</b>

10. Yukarıdaki işlemlerden hangisinin tahmini sonucu en büyüktür?

- A. **+**      B. **-**      **C.** **×**

11. Aşağıdaki zihinden toplama işlemlerinin hangisi hatalı yapılmıştır?

**A.**

$45 + 36 = ?$   
 $40 + 30 = 70$   
 $5 + 6 = 11$   
 $70 + 11 = 81$

**B.**

$53 + 27 = ?$   
 $20 + 50 = 70$   
 $3 + 7 = 10$   
 $70 + 10 = 80$

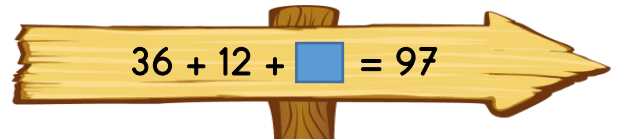
**C.**

$62 + 19 = ?$   
 $60 + 20 = 80$   
 $2 + 9 = 11$   
 $80 + 11 = 91$

$$\begin{array}{r} 2 \text{ ● } 6 \\ + \text{★} 4 \text{ } 5 \\ \hline 6 \text{ } 3 \text{ } 1 \end{array}$$

12. Yukarıdaki toplama işlemine göre ● + ★ işleminin sonucu kaçtır?

- A. 13      B. 12      **C.** 11



13. Yukarıdaki toplama işleminde [blue square] yerine hangi sayı gelmelidir?

- A. 39      **B.** 49      C. 59

Ad Soyad:.....  
Sınıfı:.....  
Numarası:.....

1. Aşağıdaki varlıklardan hangisi dışarıdan bir etki olmadan hareket edebilir?

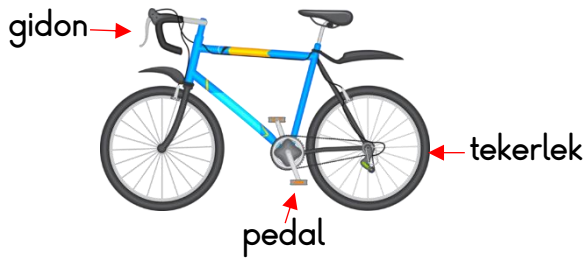


2. Aşağıdaki bilgilerden hangisi doğrudur?

- A. Tavşan kaplumbağadan daha yavaştır.  
B.  Fil çitadan daha yavaştır.  
C. Kartal horozdan daha yavaştır.

3. Aşağıdaki ifadelerden hangisi doğrudur?

- A. Pistten hareket eden uçak yavaşlama hareketi yapar.  
B.  Okula geç kalan Melek hızlanma hareketi yapar.  
C. Pencereden aşağıya atılan top yavaşlama hareketi yapar.



4. Yukarıdaki bisikletin bölümlerinin yaptığı hareket hangi seçenekte doğru olarak verilmiştir?

- |  |              |                 |
|--|--------------|-----------------|
| <u>gidon</u>                                       | <u>pedal</u> | <u>tekerlek</u> |
| A. dönme   | dönme        | dönme           |
| B. dönme   | dönme        | hızlanma        |
| <input checked="" type="radio"/> C. yön değiştirme | dönme        | dönme           |



Dönme

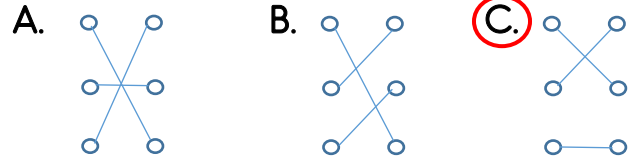


Sallanma



Yön değiştirme

5. Görsellerle hareket özellikleri eşleştirildiğinde hangi şekil oluşur?



Önüne aniden kedi çıkan arabanın hareketi ..... hareketidir.

6. Noktalı yere hangisi gelmelidir?  
A. frenleme  
B.  yavaşlama  
C. sallanma

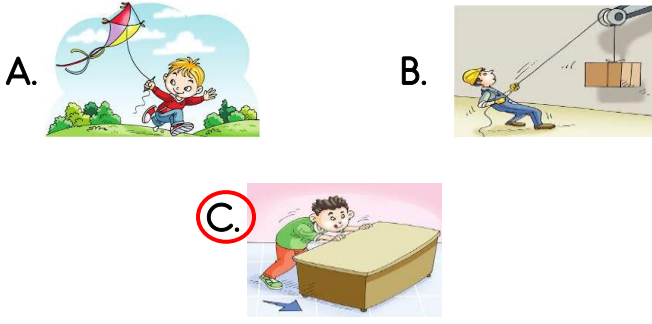
7. Aşağıda belirtilen durumların hangisinde yavaşlayan hareket söz konusudur?

- A.  Yokuş yukarı çıkmaya çalışan arabanın hareketinde.  
B. Lunaparktaki balerinin yaptığı harekette.  
C. Yolcusunu aldıktan sonra duraktan ayrılan otobüsün hareketinde.

8. Aşağıdakilerden hangisi varlıkların hareket özelliklerinden biri değildir?


- A.  İtme  
B. Yön değiştirme  
C. Sallanma

9. Aşağıdaki görsellerin hangisinde uygulanan kuvvet farklıdır?



10. Aşağıdaki bilgilerden hangisi doğrudur?

- A. Yeteri kadar kuvvet uygulandığında tüm varlıklar hareket ettirilir.  
 B. Uyguladığımız kuvvet ne kadar büyük olursa olsun bir binayı hareket ettiremez.  
 C. Kuvvet uygulayarak sadece küçük varlıkları hareket ettirebiliriz.



11. Yukarıdaki görselle ilgili söylenenlerden hangisi doğrudur?

- A. Eşek itme kuvveti, insan çekme kuvveti uygulamıştır.  
 B. Eşek çekme kuvveti, insan itme kuvveti uygulamıştır.  
 C. Eşek çekme kuvveti, insan çekme kuvveti uygulamıştır.

12. Aşağıdakilerden hangisi bir kuvvet türü değildir?

- A. Çekme kuvveti  B. Sallanma kuvveti

C. İtme kuvveti

- I. Ağaçtaki elmayı koparıırken.  
 II. Çekmeceyi kapatırken.  
 III. Oltayla balık tutarken.  
 IV. Tekerlekli valizi taşıırken.

13. Yukarıdaki olayların hangilerinde çekme kuvveti uygulanır?

- A. I ve III B. I ve IV  C. I, II ve IV

*Cisimleri hareket ettiren, durduran, hızlandıran, yavaşlatan şeklini ve yönünü değiştiren etkiye ..... denir.*

14. Cümlesinde boş bırakılan yere aşağıdaki kelimelerden hangisi gelmelidir?

- A. Hareket  
 B. Kuvvet  
 C. İtme kuvveti



15. Yukarıdaki görselle ilgili söylenenlerden hangisi doğrudur?

- A. Ali şut çektiği için topa çekme kuvveti uygulamıştır.  
 B. Ali topa itme kuvveti uygulayarak gitmesini sağlamıştır.  
 C. Ali topa hem itme hem de çekme kuvveti uygulamıştır.

Ad Soyad:.....  
Sınıfı:.....  
Numarası:.....

1. Aşağıdaki durumlardan hangisi okuldaki sosyal yardımlaşma ve dayanışmaya örnek olarak gösterilemez?

A. Köy okulları için kitap ve kırtasiye malzemesi yardımı kampanyası düzenlemek.

B. Ödevini yetiştiremeyen arkadaşımızın ödevinin bir sayfasını yapmak.

C. Derste konuyu anlamayan arkadaşımıza teneffüste konuyu tekrar anlatmak.

*Ali televizyonda izlediği bir programda İzmir'de deprem olduğunu ve oradaki çocukların zor durumda kaldıklarını gördü.*

2. Ali bu durumda aşağıdakilerden hangisini yapmalıdır?

A. Kimseye haber vermeden İzmir'e gitmelidir.

B. Babasının cüzdanından gizlice aldığı paraları İzmir'e göndermelidir.

C. Durumu öğretmenine de anlatıp okulda bir yardım kampanyası düzenlemelidir.

3. Yardımlaşma ve dayanışma içinde olan insanlar hangi duyguyu hisseder?

A. Mutluluk

B. Kıskançlık

C. Cimrilik

4. Aşağıdaki etkinliklerden hangisi okulda yardımlaşma ve dayanışmayı artırmak için yapılır?

A. 23 Nisan gösterileri

B. Kermes

C. Veli toplantısı



5. Görseldeki kutu okulda hangi amaçla kullanılır?

A. Sevdiğimiz bir arkadaşlarımıza yazdığımız mektubu atmak için kullanılır.

B. Okulda seçim yapmak için kullanılır.

C. Okul yöneticilerine isteklerimizi bildirmek için kullanılır.

6. Aşağıdaki bilgilerden hangisi dilekçede yer almaz?

A. İmzamız

B. Telefon numaramız

C. Adresimiz



Ela: Okuldaki istek ve ihtiyaçlarımı önce öğretmenime söylerim.



Ata: Okuldaki sorunları kendi imkânlarımla çözerim.



Nil: Dilekçe yazarak isteklerimi okul müdürüne iletirim.

7. Yukarıdaki öğrencilerden hangisinin söylediği yanlıştır?

A. Ata

B. Ela


C. Nil



8. Yukarıdaki görsel bize ne anlatmaktadır?

- A. Dünyamızın her tarafının sularla kaplı olduğunu.  
 B. Su kaynaklarını dikkatli kullanmazsak yakında suların biteceğini.  
 C. Bitkileri düzenli olarak sulamamız gerektiğini.

9. Aşağıdaki kaynaklardan hangisi okulda kullandığımız kaynaklardan değildir?



10. Aşağıdakilerden davranışlardan hangisini yapan bir öğrenci okul kaynaklarını özenli kullanmış olur?

- A. Sınıf kapısını elleri doluyken tekmeleyerek açan öğrenci.  
 B. Kalorifer yanarken camları sürekli açık bırakan öğrenci.  
 C. Sırasını ve okul eşyalarını temiz kullanan öğrenci.

11. Aşağıdakilerden hangisi mesleklerin ortaya çıkış amacını tam olarak açıklar?

- A. Eğitim ihtiyacını karşılamak.  
 B. Sağlık ihtiyacımızı karşılamak.  
 C. İnsanların hayatını kolaylaştırmak ve düzene sokmak.

12. Yandaki görseldeki meslek insanlarının hangi ihtiyacını karşılar?

- A. Beslenme  
 B. Sağlık  
 C. Eğitim



13. Meslek seçiminde öncelikli olarak neye dikkat etmeliyiz?

- A. Aile bireylerimizin beğeneceği bir meslek seçmeye.  
 B. İlgi ve yeteneklerimize uygun bir meslek seçmeye.  
 C. Anne ve babamızın istediği bir mesleği seçmeye.

14. Aşağıdaki mesleklerden hangisi farklı bir alanda hizmet verir?

