

### MUM ATEŞİ

Bir gün Nasrettin Hoca ve arkadaşları iddiaya tutuşmuşlar. Eğer Hoca karanlık ve soğuk bir gecede, sabaha kadar köy meydanında bekleyebilirse arkadaşları ona güzel bir ziyafet çekecekmiş. Kararlaştırılan gün Hoca meydanın ortasında, sabaha kadar tir tir titreyerek beklemiş. Sonra yanına gelenlere:

- Tamam, demiş. İddiyayı kazandım.
- Ne oldu, ne yaptın, demişler.
- Bekledim sabaha kadar, demiş.
- Hayır, sen uzaktaki bir mum ışığı ile ısınmışsın. İddiyayı kaybettin. Ziyafetimizi hazırla, demişler.

Hoca çaresiz kabul etmiş. Ziyafet vakti kocaman bir kazanın altına minicik bir mum koymuş. Güya yemek pişirecek.

- Ne yapıyorsun, demiş arkadaşları.

Kıs kıs gülerken cevap vermiş Hoca:

- Bu mum sıcakıyla size yemek pişireceğim arkadaşlar. Uzaktaki bir mum ışığıyla ben nasıl ısındıysam bu kazandaki yemek de öyle pişecek, demiş.

(1, 2 ve 3. Soruları metne göre cevaplayınız.)

1. Nasrettin Hoca ve arkadaşları ne için iddiaya tutuşmuşlar?

- A. Mum ateşiyle yemek pişirmek için.
- B. Sabaha kadar köy meydanında beklemek için.
- C. Soğuktan tir tir titremek için.

2. İddiyayı kaybeden ne yapacaktı?

- A. Köy meydanında bekleyecekti.
- B. Mum ışığıyla ısınacaktı.
- C. Arkadaşlarına ziyafet çekecekti.

3. Arkadaşları Nasrettin Hoca'nın iddiayı kazandığını neden kabul etmemiş?

- A. Beklerken uyuya kaldığı için.
- B. Köy meydanı yerine parkta beklediği için.
- C. Nasrettin Hoca'nın uzaktaki bir mum ışığıyla ısındığını düşündükleri için.



Düşündürücü Soru

Öğretmenimiz sınıfa çeşitli görseller getirdi ve bunlardan her birimizin ikişer tane seçmesini istedi.

- Ali'nin seçtiği görsellerin ikisi de sesteş kelimedir.
- Can'ın seçtiği görsellerin ikisi de sesteş kelime değildir.
- Nil'in seçtiği görsellerinden biri sesteş kelimedir, diğeri sesteş kelime değildir.



I



II



III



IV

4. Nil'in seçtiği görseller aşağıdakilerden hangisi olabilir?

- A. II ve IV
- B. I ve III

C. III ve IV



	salı
	salata
	salatalık
	saltanat

5. Yukarıdaki kelimeler sözlük sırasına konulursa doğru sıralama nasıl olur?

- A.  3      B.  4      C.  1
- 1       1       2
- 2       2       3
- 4       3       4


6. Aşağıdaki cümlelerdeki altı çizili kelimelerden hangisinin eş anlamlısı yoktur?

- A. Siparişlerimin hepsini eksik almışsın.
- B. Okla gelirken çantamın ipi koptu.
- C. Bu tepede çok şiddetli rüzgâr eser.

İçin - kavuşmak - okulumuza - uymalıyız - tedbirlere

7. Yukarıdaki kelimelerden anlamlı ve kurallı bir cümle oluşturduğumuzda aşağıdaki cümlelerden hangisi ortaya çıkar?

- A. Uymalıyız tedbirlere okulumuza kavuşmak için.
- B. Tedbirlere uymalıyız okulumuza kavuşmak için.
- C. Okulumuza kavuşmak için tedbirlere uymalıyız.



8. Aşağıdaki cümlelerin hangisinde kesme işareti doğru kullanılmıştır?

- A. Pikniğe Ali'ler de gelecekmış.
- B. Dün top oynamaya giderken Kerem'in abisi de bizimle geldi.
- C. Esenler Polis Karakolu'nda amcam çalışıyor.



9. Yukarıdaki kelimelerin kaç tanesinin hece sayısı üçten fazladır?

- A. 2       B. 3      C. 4

- Dünyada bir tane olan varlıklara verilen adlardır.
- Gezegen adları bu adlara örnek olarak verilebilir.
- ..... da bu adların örnekleri arasında yer alır.

10. Yukarıda özel adlarla ilgili bilgiler verilmiştir. Boş bırakılan yere aşağıdakilerden hangisi gelemmez?

- A. Kurum ve kuruluş adları
- B. Cadde, sokak ve apartman adları
- C. Ev eşyalarımızın adları

11. Aşağıdaki kelimelerin hangisi satır sonunda ayrılırken yanlışlık yapılmıştır?

- A. Mehmet' -  
in
- B. demok-  
rasi
- C. kara -  
biber

Özel isimlere getirilen tüm ekler kesme işareti ile ayrılır.



Dağ ve deniz adları özel adlardır.



Özel adlara getirilen -ler ,-lar çoğul eki kesme işaretiyle ayrılmaz.



12. Hangi öğrencinin verdiği bilgi hatalıdır?

- A. Nehir  
B. Miray  
C. Selim

13. Aşağıdaki cümlelerin hangisinde altı çizili kelime sesteş değildir?

- A. Duvardaki resmimin çerçevesine muhabbet kuşumuz kondu.
- B. Yaz gelince ailemle birlikte Kastamonu'daki dedemlere gideceğiz.
- C. Okul bahçesinde oynarken elime sivri bir şey battı.

14. Aşağıda verilen cümlelerin hangisinde hem çoğul hem de tekil ad kullanılmamıştır?

- A. Ders çalışmak için kitaplar aldım.  
B. Okulumu ve arkadaşlarımı çok özledim.  
C. Gece olunca bütün gün oynadığım ayıcık rüyama giriyor.

Hızlı

15. Aşağıdaki cümlelerin hangisinde yukarıdaki kelimenin hem eş, hem de zıt anlamı kullanılmıştır?

- A. Arkadaşım yavaş olsana canımı acıyorsun.  
B. Bu yarışta bazı arabalar yavaş, bazıları ise çok süratli.  
C. Süratli araba kullanmak kazalara sebep olur.

Kardeşim Melek( ) in çantasından kalem ( ) silgi ve oyuncakları çıktı ( )

16. Yukarıda cümlede ayraçlarla gösterilen yerlere sırasıyla hangi noktalama işaretleri gelmelidir?

- A. ( ' ) - ( . ) - ( ? )  
B. ( ' ) - ( , ) - ( . )  
C. ( ' ) - ( . ) - ( . )

Türkçe dersi sınavı bitti.

Matematik dersine geçiniz.





$$80 + 10 = 90$$

$$4 + 6 = 10$$

$$90 + 11 = 100$$

1. Yukarıdaki zihinden toplama işlemi aşağıdaki işlemlerden hangisine ait olamaz?

A.  $86 + 14 = ?$

B.  $84 + 16 = ?$

C.  $86 + 64 = ?$

2. 3/A sınıfında yapılan sınavda üç arkadaşın en düşük not alanı 63 puan almıştır. Arkadaşlar arasında 18 er puan fark olduğuna göre en yüksek not alan öğrenci kaç puan almıştır?

A. 63

B. 99

C. 81

$$\begin{array}{r} 46 \bullet \\ + 45 \star \\ \hline 914 \end{array}$$

3. Yukarıdaki toplama işlemine göre  $\star + \bullet = ?$

A. 13

B. 14

C. 12

4. Aşağıda romen rakamlarıyla yapılan toplama işlemlerinin hangisinin sonucu en büyüktür?

A.  $XI + III = ?$

B.  $IV + IX = ?$

C.  $VI + VII = ?$



Düşündüren Soru

Öğretmeni Ceren'i tahtaya kaldırdı ve ona bir toplama işlemi sordu.

Öğretmenin sorduğu işlemin;

- Tahmini sonucu 370'dir
- İşlemin gerçek sonucu çift sayıdır.
- Gerçek sonuçla tahmini sonuç arasındaki fark 2'dir.

$$\begin{array}{r} \triangle \\ 156 \\ + 206 \\ \hline \end{array}$$

$$\begin{array}{r} \square \\ 251 \\ + 124 \\ \hline \end{array}$$

$$\begin{array}{r} \circ \\ 301 \\ + 67 \\ \hline \end{array}$$


5. Buna göre öğretmenin Ceren'e sorduğu işlem yukarıdakilerden hangisi olabilir?


A.


B.

C.



$$\begin{array}{r} 357 \\ - 96 \\ \hline \end{array}$$


$$\begin{array}{r} 404 \\ - 64 \\ \hline \end{array}$$


$$\begin{array}{r} 427 \\ - 95 \\ \hline \end{array}$$


6. Yukarıdaki işlemlerden hangisinin tahmini sonucu en büyüktür?

- A.  B.  C. 

$$\begin{array}{r} \boxed{\phantom{00}} \\ + 203 \\ \hline 500 \end{array}$$

$$\begin{array}{r} \boxed{?} \\ + 186 \\ \hline \boxed{\phantom{00}} \end{array}$$

7. Yukarıdaki işlemlere göre ? yerine aşağıdaki sayılardan hangisi gelmelidir?




- A. 121 B. 111 C. 131

8. Aycan annesinden 23 yaş küçüktür. Aycan 17 yaşında olduğuna göre Aycan ve annesinin yaşları toplamı kaçtır?



- A. 40 B. 57 C. 63

9. Bir yolcu treni yolculuğuna 745 yolcuyla başlamıştır. 1. istasyonda 78 yolcu, 2. istasyonda 96 yolcu binmiştir. 3. istasyonda ise 156 yolcu inmiştir. Trende kaç yolcu kalmıştır?

- A. 863 B. 756 C. 763




	27	63
46		26
+ 35	+ 44	+ 
179	139	183

10. Yukarıdaki toplama işlemlerinde verilmeyen toplananlardan hangisi en büyüktür?

- A.  B.  C. 

$$712 - 305 \quad \dots \quad 224 + 179$$

11. Yukarıdaki işlemde boş bırakılan yere hangi işaretin konması uygun olur?

- A.  B.  C. 



$$\begin{array}{r} 5 \text{ yüzlük} + 2 \text{ onluk} + 2 \text{ birlik} \\ - 2 \text{ yüzlük} + 1 \text{ onluk} + 6 \text{ birlik} \\ \hline \end{array}$$

12. Yukarıda çözümlenmiş sayılarla yapılan çıkarma işleminin sonucu kaçtır?

- A. 3 yüzlük + 0 onluk + 6 birlik  
 B. 3 yüzlük + 6 onluk + 0 birlik  
 C. 3 yüzlük + 0 onluk + 0 birlik



$$\begin{array}{l} 60 - 20 = 40 \\ 9 - 1 = 8 \\ 40 + 8 = 48 \end{array}$$

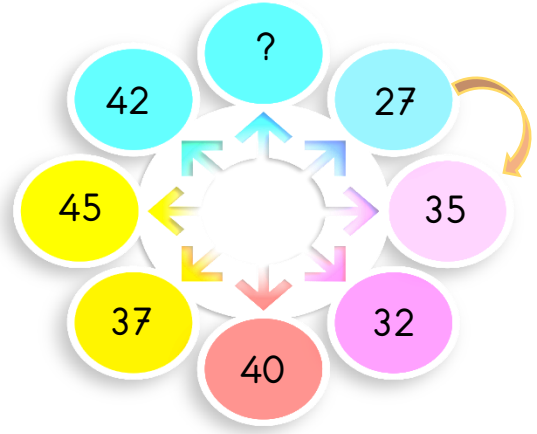
13. Yukarıdaki zihinden çıkarma işlemi aşağıdaki işlemlerden hangisidir?

- A.  $62 - 21 = ?$   B.  $69 - 21 = ?$   
 C.  $61 - 29 = ?$




14. Yukarıdaki sayının onlar basamağı ile yüzler basamağı yer değiştirirse oluşan yeni sayı ile eski sayının farkının en yakın yüzlüğü kaçtır?

- A. 450  
 B. 400  
 C. 500



15. Yukarıdaki şemada sayılar işaretli sayıdan başlayarak belirli bir kurala göre dizilmiştir. Buna göre ( ? ) yerine hangi sayı gelmelidir?

- A. 50  
 B. 60  
 C. 70



16. Yukarıdaki işlemde  yerine gelebilecek en küçük sayı aşağıdakilerden hangisidir?

- A. 537  B. 538  C. 535

Matematik dersi sınavı bitti.

Fen Bilimleri dersine geçiniz.



I

Duyu organlarının her birinin farklı görevi vardır.

II

Duyu organlarının tamamı başımızda bulunur.

III

Duyu organlarımız yaşamımızı kolaylaştırır.

1. Duyu organlarımızla ilgili bilgilerden kaç tanesi doğrudur?

A. I

B. II

C. III



I



II



III



IV

2. Yukarıdaki varlıklardan hangileri dışarıdan bir etki olmadan hareket edemez?

A. I ve II

B. I ve III

C. I ve IV

I. Trafikteki araçlar dikkat edilmezse büyük kazalara sebep olabilir.

II. Fırtına önüne geçen tüm canlılara zarar verebilir.

III. Odada hızla uçan sinek bize çarparak zarar verebilir.

IV. Bahçede koşan çocuklar birbirine çarparak zarar verebilir.

3. Yukarıda hareketli varlıkların sebep olabileceği tehlikelere örnekler verilmiştir. Hangi örnek yanlış olmuştur?

A. II

B. III

C. IV

www.ilkokulluyum.com



Düşündüren Soru



Görsellere bakan öğrenciler aşağıdaki yorumları yapmıştır;

- Hareket eden bir cisme çekme kuvveti uygularsak cisim hızlanır.
- Hareket eden bir cisme itme kuvveti uygularsak cisim hızlanır.
- Hareketli bir cismi sallarsak cisim hızlanır.

4. Öğretmenimizin bu yorumlardan sonra konunun nasıl olduğunu anlattı. Aşağıdakilerden hangisi öğretmenimizin anlatımı olabilir?

A. Cisimleri hızlandırmak için itmemiz gerekir.

B. Cisimleri hızlandırmak için cisme hareket yönüyle aynı yönde kuvvet uygulamak gerekir.

C. Cisimleri hızlandırmak için çekmek gerekir.



- Cisimlerin hızını artırmak için cisimlere hareket yönüyle .....<sup>1</sup>..... kuvvet uygulamak gerekir.
- Cisimleri yavaşlatmak yada durdurmak için cisimlere hareket yönüyle .....<sup>2</sup>..... kuvvet uygulamak gerekir.

5. Yukarıdaki ifadelerde numaralı yerlere hangileri gelmelidir?

- |                      |            |
|----------------------|------------|
| <u>1</u>             | <u>2</u>   |
| A. aynı yönde        | aynı yönde |
| <b>B.</b> aynı yönde | ters yönde |
| C. ters yönde        | aynı yönde |



1

... sallanma



2

... dönme



3

... hızlanma

6. Yukarıdaki eşleştirme yapıldığında cevaplar aşağıdakilerden hangisi gibi olur?

- |    |    |           |
|----|----|-----------|
| A. | B. | <b>C.</b> |
| 1  | 3  | 3         |
| 2  | 2  | 1         |
| 3  | 1  | 2         |

- Dünyanın gözlenemeyen katmanlarındanım.
- Erimiş kayaçlardan oluşurum.
- Sıcaklığım yaklaşık 5000 °C'dir
- İki bölümden oluşurum.

7. Yukarıda bilgileri verilen katman aşağıdakilerden hangisidir?

- A. Yer kabuğu  
B. Manto  
**C. Çekirdek**


- I. Açık kalan çekmeceyi kapatırken.  
II. Bilgisayarın klavyesine basarken.  
III. Fırının kapağını açarken.  
IV. Salıncakta kardeşimizi sallarken.

8. Yukarıda verilen durumların hangilerinde itme kuvveti uygulanmıştır?

- A. I ve II  
**B. I, II ve IV**

C. I, II, III ve IV

9. Aşağıdaki varlıkların hangisinde oluşan şekil değişikliği kalıcıdır?





I. Durağa yaklaşan otobüs

Balkondan düşen saksı

II.

III. Köpekten kaçan kedi

Kırmızı ışığa yaklaşan taksi

IV.

10. Yukarıdaki durumlardan hangilerinde yavaşlama hareketi vardır?

A. I ve II

B. I, II ve III

C. I ve IV

11. Aşağıdakilerden hangisi kuvvetin cisimler üzerindeki etkilerine verilen örneklerden değildir ?

A. Kardeşim masadaki bardağa vurunca bardak kırıldı.

B. Arkadaşımı montundan çekerek yavaşlattım.


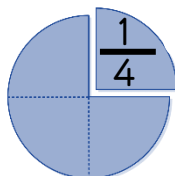
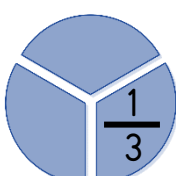
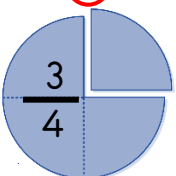
C. Bu sabah çok şiddetli yağmur yağdı.

12. Aşağıdaki görsellerden hangisi dünyadaki suların oranını ifade eder?

A.

B.

C.



13. Aşağıdakilerden hangisi burun sağlığımızı koruma yollarından biri değildir?

A. Ne olduğunu bilmediğimiz maddeleri koklamamak.

B. Çok uzayan burun kıllarını güzelce koparmak.

C. Burnumuza sivri cisimler sokmamak.

( ... ) Kuvvet cisimlerin şeklini değiştirir.

( ... ) Kuvvet çizimleri hızlandırır ve yavaşlatır.

( ... ) Kuvvet cisimlerin rengini değiştirir.

( ... ) Kuvvet cisimlerin yönünü değiştirir.

14. Yukarıda doğru olanlara ( D ), yanlış olanlara ( Y ) koyarsak hangi şekil oluşur?

A. ( D )

B. ( D )

C. ( D )

( D )

( Y )

( D )

( D )

( D )

( Y )

( D )

( Y )

( D )

Fen Bilimleri dersi sınavı bitti.

Hayat Bilgisi dersine geçiniz.



- ★ Arkadaşımızın sırrını saklamak.
- 😊 Arkadaşımızın zor gününde yanında olmak.
- ♥ Arkadaşımızın eksik yönleriyle dalga geçmek.
- ☀ Arkadaşımızın bir sorunu olduğunda yanından uzaklaşmak.

1. Yukarıdaki durumlardan hangileri arkadaşlık bağlarımızı güçlendirir?

- A. ★ - 😊 - ☀ B. ♥ - ☀

C. ★ - 😊

2. Aşağıdakilerden hangisi okul kaynaklarının düzenli kullanılmaması sonucunda ortaya çıkar?

- A. Okulumuz tasarruf etmiş olur.  
B. Elektrik ve su boşa harcanmamış olur.  
C. Kaynaklar boş yere harcanır ve israf olur.



3. Aşağıdakilerden hangisi komşuluk ilişkilerine zarar verir?

- A. Binada sadece kendimiz yaşıyormuş gibi davranmak.  
B. Komşularımızın zor gününde yanında olmak.  
C. Özel günlerde ve bayramlarda komşularımızı ziyaret etmek.



Düşündüren Soru

Bugün sınıfımıza değişik mesleklerden abiler geldi ve bize kendilerini tanıttı.

İnsanların güvenliğinden sorumluyum. Kazaları önlemek asıl görevimdir.



1

Kurumların girişinde beklerim ve insanların güvenliğinden sorumluyum.



2

Suçluları yakalamak asıl görevim. Ben de insanların güvenliğinden sorumluyum.



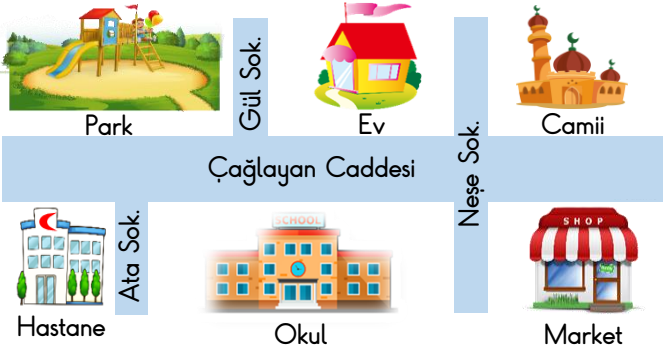
3

4. Mustafa derse gelen abilerin meslek özelliklerini yukarıdaki gibi not etmiştir. Mustafa'nın not alırken yaptığı hatayı düzetmesi için hangi iki mesleği yer değiştirmesi gerekir?

- A. 3 ile 2 B. 1 ile 3

C. 1 ile 2





(5. ve 6. Soruları krokiye göre cevaplayalım.)

5. Krokiye göre caminin Neşe Sokak'taki kapısından çıkan Hasan Amca hastaneye nasıl ulaşır?

A. Neşe Sokağa çıkınca sağa döner, oradan Ata sokağa geçer. Hastaneye ulaşır.

**B.** Neşe Sokağa çıkınca sola döner. Çağlayan Caddesine gelince sağa döner. Düz gidince caddenin sonunda hastaneyi görür.

C. Neşe Sokağa çıkınca sola döner. Çağlayan Caddesine gelince tekrar sola döner. Düz gidince caddenin sonunda hastaneyi görür.

6. Krokiye göre evden çıkan Akın Çağlayan Caddesi'ne hiç çıkmadan hangi yapılara gidebilir?

A. Hastane ve park

B. Okul ve market

**C.** Park ve cami

7. Aşağıdakilerden hangisi komşularımız için rahatsız edici davranışlardan biri değildir?

A. Balkondan halı silkelemek.

**B.** Bir ihtiyaçları olup olmadığını sormak.




C. Yüksek sesle müzik dinlemek.

➤ Doktorların en önemli yardımcıları onlardır.

➤ Aşı ve iğne gibi tedavileri onlar uygular.

➤ Sağlık çalışanlarının en bilinenlerinden biridir.

8. Yukarıda görev ve sorumlulukları verilen meslek aşağıdakilerden hangisidir?



9. Aşağıdakilerden hangisi okul kaynaklarını verimli kullanan bir öğrencinin davranışı olabilir?

A. Çöp kutusuna çöpleri basket atarak yeteneklerini göstermek.

**B.** Sirasını kendi evindeki çalışma masası gibi özenli kullanmak.

C. Teneffüste arkadaşlarıyla birbirini ıslatarak suyu boşa akıtmak.

- Depremzedelere yardım kampanyası düzenlemek.
- Okulda durumu olmayan arkadaşlarımızın ihtiyaçlarını okul idaresine bildirmek.
- Ders araç-gereçleri eksik olan arkadaşımızla eşyamızı paylaşmak.

10. Yukarıdaki durumlardan kaç tanesi sosyal yardımlaşmaya örnektir?

- A. 1 B. 2 C. 3

- Sorumluluk sahibi olmamızı sağlar.
- Bizi topluma faydalı bireyler olarak yetiştirir.
- Bize dayak yememeyi öğretir.
- Paylaşma duygumuzu geliştirir.

11. Yukarıdakilerden hangileri okulun bireysel ve toplumsal katkılarına örnektir?

- A. I ve II B. I ve IV

C. I, II ve IV



12. Aile büyüklerimizin çocukluk dönemini araştırırken aşağıdaki kaynaklardan hangisini kullanmayız?

- A. Babamızın iş arkadaşlarıyla görüşme yapmak.  
B. Ailemizin fotoğraf albümlerine bakmak.  
C. Dedelerimizle görüşme yapmak.

13. Aşağıdaki oyunlardan hangisi hem bizim hem de aile büyüklerimizin çocukluğuna ait olamaz?

A.



B.



C.



14. Aşağıdakilerden hangisini okulumuzda gözlemlediğimiz bir sorun karşısında yapmamız gereken doğru davranış değildir?

- A. Sorunu öğretmenimize anlatarak çözülmesini beklemek.  
B. Sorunu çözmek için okulda bir ekip kurup araştırmalar yapmak.  
C. Sorunu uygun bir dilekçe yazarak okul yönetimine bildirmek.

Hayat Bilgisi dersi sınavı bitti.

İngilizce dersine geçiniz.






Ece is my ..... . We play together.

1. Yukarıdaki cümlede boş bırakılan yere aşağıdakilerden hangisi gelmelidir?

- A. brother  B. friend   
C. uncle



2. Yukarıdaki görseli ifade eden kelime çifti aşağıdakilerden hangisidir?

- A. big - small   
B. strong - weak   
C. old - young

He is my ..... .

3. Cümlede boş bırakılan yere hangisi getiremez?

- A. uncle  B. aunt   
C. sister



4. Aşağıdaki işlemlerden hangisinin sonucu yukarıdaki sayıdır?

- A. nineteen + seven   
B. twelve + five   
C. eleven + five

www.ilkokulluyum.com

Ata : .....

Mert: This is my brother.

5. Yukarıda boş bırakılan yere hangisi gelmelidir?

- A. What is your name?   
B. How are you?   
C. Who is this?

Sınav bitti.

Cevaplarınızı kontrol ediniz.

