

Ad Soyad:.....
Sınıfı:.....
Numarası:.....



BUZ KIRMA OYUNU

Çocuklar okul bahçesinde koşup duruyorlardı. Yanakları al al olmuş, burunları kızarıp dudakları morarmıştı. Soğuk yel, bedenlerini yalayıp geçiyordu. Bahçedeki yağmur birikintileri donmuştu. Çocuklar, çukurların üstünü kaplayan ince buz katmanlarını kırma yarışına girişmişlerdi. Buzlar ayaklarının çıtır çıtır çatlayıp dağıldıkça sevinçten uçuyorlardı. Böylece bahçede kuş gözü kadar çukurlarda bile buz koymadılar, ezdiler., dağıttılar. Derin çukurlardaki donmuş yüzeylerin altı su doluydu. Bunları kırarken dizlerine dek sulara battılar.

Buz kırma oyunu, zil çalınca dek sürdü. Sınıfa girer girmez titreyerek sobanın çevresine üşüştüler. Her yanları sızım sızım sızıyordu. Ellerini hohlayarak koltuk altlarına sokuyor, tepinerek ayaklarını ısıtmaya çalışıyorlardı.

Gülten Dayıoğlu

- İlk üç soruyu metne göre cevaplayınız.

- 1) Çocuklar nerede koşup oynuyorlarmış?
A) Parkta
B) Okul bahçesinde
C) Caddede

2) Çocuklar bahçede ne yapıyorlarmış?

- A) Kardan adam yapıyorlarmış.
B) Kızakla kayıyorlarmış.
C) Buzları kırma oyunu oynuyorlarmış.

3) Buz kırma oyunu ne zamana kadar sürmüştü?

- A) Zil çalınca kadar
B) Çocuklar üşüylene kadar
C) Öğretmen çağırınca kadar

4)



Boş bırakılan yere hangi kelime yazılırsa yukarıdaki kelimeler sözlük sırasına göre dizilmiş olur?

- A) Erik B) Sedir C) Jöle

5) Tahtada yazılı olan sözcük satır sonuna sığmadığında hangi hecesinden ayrılırsa yanlış olur?



- A) o B) to C) büs

6) çarşamba - sahat - kral - öğretmen - herkes

Yukarıdaki sözcüklerden hangilerinin yazımı doğrudur?

- A) öğretmen - kral
B) çarşamba - sahat
C) kral - herkes

7) Aşağıdaki sözcüklerden hangisinin zıt anlamlısı yoktur?

- A) Ters B) Beyaz C) Kalemlik

8) kertenkele kitap kağıt

Yukarıdaki sözcüklerin alfabetik sıraya göre dizilişi hangi seçenekte doğru verilmiştir?

- A) kağıt - kertenkele - kitap
B) kertenkele - kitap - kağıt
C) kağıt - kitap - kertenkele

9) 'yurdunu seven yerli malı kullanmalı yurdumun malları sağlam olur, bilmeli.'



Yukarıdaki dörtlükte yapılan yazım yanlışı hangi seçenekte verilmiştir?

- A) Özel isimler büyük harfle başlar.
B) Her mısranın ilk harfi büyük olur.
C) Cümle sonuna nokta konur.

10) Aşağıdaki görsellerden hangisi alfabemizdeki 24. harf ile bitmektedir?



Düşündüren

11) 'Yazılışları ve okunuşları farklı ancak anlamları aynı olan kelimelere eş anlamlı kelimeler denir.'



Öğretmenin tahtaya yazdığı ifadeye bakarak Tuna'nın söylediği cümledeki altı çizili kelimeyle ilgili hangisi doğrudur?



Mahalledeki yaşlı teyze sefalet içinde yaşıyor.

- A) 'Emek' anlamında kullanılmıştır.
B) 'Fakirlik' sözcüğü ile değiştirilirse cümlenin anlamı değişmez.
C) 'Merhametsiz' sözcüğü ile eş anlamlıdır.

12) Aşağıdaki numaralandırılmış soruların cevapları yanlarındaki cümlede altı çizili olarak gösterilmiştir.

1	Nerede?	Kalemimi <u>okulda</u> unuttum.
2	Kim?	<u>Esra</u> bugün çok mutluydu.
3	Ne?	<u>Pazardan</u> elma aldım.

Yukarıdaki sorular ve cümle içinde altı çizili olarak verilen cevaplar hangi numarada yanlış olarak verilmiştir?

- A) 3 B) 2 C) 1




Türkçe dersi sınavı bitti.



Matematik dersine geçiniz.



Ad Soyad:.....
Sınıfı:.....
Numarası:.....



1)  70 Aslı, aklından tuttuğu sayıyı en yakın onluğa yuvarlıyor. Aslı'nın aklından tuttuğu en büyük sayı kaç olabilir?

- A) 69 B) 71 C) 74

2)  2 düzine olan sayı
 3 birlik 4 onluktan oluşan sayı


Yukarıdaki şekillerle gösterilen bilgilere göre  -  işleminin sonucu kaçtır?

- A) 19 B) 22 C) 21

3) $70-40=$

Yukarıda verilen zihinden çıkarma işleminin sonucu aşağıdakilerden hangisiyle aynıdır?

- A) 80-30
B) 50-20
C) 90-50

4) 

Ahmet yukarıdaki yumurtaları büyükten küçüğe doğru sıralıyor. Ahmet yumurtaları sıralarken 3. ve 4. sıradaki yumurtaları kırıyor. Kırılan yumurtaların üzerindeki sayıların toplamı tahminen kaçtır?

- A) 80 B) 70 C) 60

5) Hangi sayının 34 fazlası 74 eder?

Yukarıdaki sorunun cevabı kaç deste eder?

- A) 3 B) 4 C) 5

6) Yandaki çıkarma işlemi ile ilgili verilen bilgilerden hangisi yanlıştır?

$$\begin{array}{r} 96 \\ -47 \\ \hline \end{array}$$

- A) Kalan 5 onluk 9 birliktir.
B) Çıkan sayı 47'dir.
C) Onluk bozarak çıkarma işlemi yapılır.

7) Aşağıdaki çıkarma işlemlerinin hangisinde gerçek sonuç ile tahmini sonuç arasındaki fark 2'dir?

- A) $\begin{array}{r} 64 \\ -31 \\ \hline \end{array}$ B) $\begin{array}{r} 41 \\ -29 \\ \hline \end{array}$ C) $\begin{array}{r} 75 \\ -42 \\ \hline \end{array}$

8) Efe'nin yaşı ile babasının yaşları toplamı 47'dir. Babası 34 yaşında olduğuna göre Efe'nin 5 yıl önceki yaşı kaçtır?

- A) 13 B) 8 C) 10


9) Bir çıkarma işleminde eksilen 75, fark ise onlar basamağı 3 olan iki basamaklı en büyük sayıdır. Buna göre çıkan sayı kaçtır?

- A) 36 B) 46 C) 44



Düşündüren

10) Ece'nin doğru eve girebilmesi için anahtar üzerinde yazan sayı ile verilmeyen toplanan terimi aynı olmalıdır.



Ece bu anahtar ile hangi eve girebilir?

A) $\begin{array}{r} 28 \\ + 75 \\ \hline \end{array}$ B) $\begin{array}{r} 45 \\ + 81 \\ \hline \end{array}$ C) $\begin{array}{r} 57 \\ + 95 \\ \hline \end{array}$

11) Bir çiftlikteki koyunların 34 tanesi satılınca 66 koyun kalıyor. Çiftlikteki koyunlar satılmadan önce kaç koyun vardı?

- A) 100 B) 90 C) 80

- 12) $\text{Red} \rightarrow 8$ $\text{Blue} \rightarrow 12$ $\text{Yellow} \rightarrow 23$
 $\text{Green} \rightarrow 19$ $\text{Black} \rightarrow 4$

Aşağıdaki eşitliklerden hangisi doğrudur?

A) $\text{Blue} + \text{Green} = \text{Red} + \text{Black}$
 B) $\text{Yellow} + \text{Blue} = \text{Red} + \text{Green}$
 C) $\text{Red} + \text{Green} = \text{Yellow} + \text{Black}$

13)

69-24	94-36
86-27	55-17

Yukarıdaki işlemlerden tahmini sonucu 50 olan kutular boyanacaktır. Buna göre hangi şekil ortaya çıkar?

A)

 B)

C)

14) $45 + \square = 94$

Yukarıdaki toplama işleminde verilmeyen toplanan aşağıdakilerden hangisinin sonucuna eşittir?

- A) 35+42 B) 25+24 C) 25+26

15) Bir çiftlikte 19 tavuk vardır. Tavuklardan 7 fazla horoz, horozlardan 12 fazla civciv vardır. Çiftlikte toplam kaç hayvan vardır?

- A) 83 B) 38 C) 26

Matematik dersi sınavı bitti.
 Hayat Bilgisi dersine geçiniz.

Ad Soyad:.....
Sınıfı:.....
Numarası:.....



1) Babamızın erkek kardeşi	Dayı
Babamızın kız kardeşi	Yenge
Annemizin kız kardeşi	Teyze

Akrabalık terimleri ile ilgili eşleştirmelerden kaç tanesi doğrudur?

- A) 1 B) 2 C) 3

2) Aşağıdakilerden hangisi akrabamız değildir?

- A) Kuzen B) Enişte C) Komşu

3) Aşağıdakilerden hangisi akrabalık ilişkilerimizde yardımlaşma ve dayanışmaya örnek değildir?

- A) Kuzenimizin düğününe gitmek.
B) Bayramda dedemizi ziyaret etmek.
C) Hasta komşumuza yemek götürmek.

4) Aşağıdaki durumlardan hangisinde evimizin adresine ihtiyaç duymayız?

- A) Kaybolduğumuz zaman
B) Sınava gireceğimiz zaman
C) Evimizin yerini tarif ederken

5) Ev adresimizde hangi bilgi bulunmaz?

- A) Cadde ismi
B) Telefon numaramız
C) Yaşadığımız il



Düşündüren Soru

6)

Şubat	
Doğalgaz	100
Elektrik	75
Su	50

Yukarıdaki tabloda İpek ailesinin şubat ayı fatura giderleri vardır. İpek ailesi ortak karar alıp faturalardan tasarruf yapmak istiyorlar.

Mart	
Doğalgaz	105
Elektrik	60
Su	60

Yukarıdaki tabloda da İpek ailesinin mart ayı fatura giderleri verilmiştir. Buna göre İpek ailesi mart ayında aşağıdakilerin hangisinde tasarrufa gitmiştir?

- A) Doğalgaz B) Elektrik C) Su

7) Aile içinde karar alma süreci ile ilgili aşağıdakilerden hangisi doğrudur?

- A) Aile içinde kararlar alınırken herkes fikrini özgürce söylemeli
B) Ailede çocukların söz hakkı olmamalı
C) Ailede kararları daima baba verir.

- 8)
- * Oyuncaklarımı oynadıktan sonra toplarım.
 - * Giysilerimi çıkarıp olduğu yere bırakırım.
 - * Okul çantamı akşamdan hazırlarım.
 - * Oyuna çok fazla zaman ayırınca ödev yapmayı unuturum.

Yukarıdakilerden kaç tanesi sorumluluklarını yerine getiren bir öğrencinin yapacağı davranıştır?

- A) 1 B) 2 C) 3

- 9)
- Karşıdan karşıya geçen yaşlı teyzeye yardım etmek.
 - Otobüste yaşlı ve hamilelere yer vermek.
 - Hasta olan komşusuna yardım etmek.

Çevresine karşı duyarlı bir kişi yukarıdakilerden kaç tanesini yapar?

- A) 1 B) 2 C) 3

10)



Yukarıdaki çocuk evde kullandığımız hangi kaynağı boşa harcamaktadır?

- A) Doğalgaz B) Su C) Elektrik

11)



Odasını dağınık bırakan Cemre'nin ne yapması gerekir?

- A) Annesinden odasını toplamasını istemeli
B) Odasını o şekilde bırakmalı
C) Odasını düzenlemeli

12) Aşağıda verilenlerden hangisi 8 yaşındaki Elif'in yapabileceği sorumluluklardan biridir?



- A) Babasının gömleklerini ütölemek.
B) Akşam yemeğini hazırlamak
C) Sofranın hazırlanmasına yardımcı olmak

13) Derslerinde başarılı olmak isteyen bir öğrenci günlük planında aşağıdakilerden hangisine daha az zaman ayırmalıdır?

- A) Uyku ve dinlenmeye
B) Bilgisayar oyunları oynamaya
C) Ders çalışmaya



Hayat Bilgisi dersi sınavı bitti.

İngilizce dersine geçiniz.

Ad Soyad:.....
Sınıfı:.....
Numarası:.....



1) Yandaki görsele göre
Burcu'ya hangisini söylememiz
uygun olur?



- A) 'Good night'
B) 'Good evening'
C) 'Good morning'

2) 'How many pencils are there?'



- A) Four B) Five C) Six

3) Ece : Hello, Aylin! How are you?
Aylin :

Yukarıdaki diyalogda boş bırakılan yere hangisi
getirilmelidir?

- A) 'I'm fine'
B) 'I'm Aylin'
C) 'You are Ece'

4) Yandaki görselde verilen ifade
aşağıdakilerden hangisidir?



- A) 'Turn right'
B) 'Turn left'
C) 'Open the door'

5)



'Paint the

Yukarıda verilen resme göre boş bırakılan yere
hangisi getirilmelidir?

- A) door B) picture C) window



Deneme Sınavınız bitti.
Cevapları kontrol ediniz.