

Ad Soyad:.....
Sınıfı:.....
Numarası:.....



YAŞLI MARANGOZ

Küçük bir kasabada yaşlı bir marangozun emeklilik zamanı gelir. Patronuna artık işten ayrılmak istediğini söyler. Patronu bu iyi adamın ayrılmasına çok üzülür. Ve ondan son bir ev daha inşa ettikten sonra işi bırakmasını rica eder. Marangoz kabul eder ve işe başlar ama çok isteksizdir. Marangoz işe başladıktan sonra kötü işçilik yapar ve kalitesiz malzemeler kullanır. Evi bitirdikten sonra eve bakmaya gelen patronu kapının anahtarını marangoza uzatır. Ve "Artık bu ev senin" der. "Sana benden hediye." Marangoz öylesine şaşırılmış ve utanmıştı ki içinden, "Keşke yaptığım evin kendi evim olduğunu bilseydim!" diye geçirir.

- İlk üç soruyu metne göre cevaplayınız.

1) Olay nerede geçmektedir?

- A) Sahilde B) Kasabada C) Ormanda

2) Aşağıdakilerden hangisi olayın kahramanlarından değildir?

- A) Yaşlı marangoz
B) Patron
C) Kiracı adam

3) Yaşlı marangoz, patronunun evi kendisine verdiği duyunca ne yapmış?

- A) Evi olduğu için çok sevinmiş.
B) Keşke kendi evim olacağını bilseydim demiş.
C) Hemen bu eve taşınmalıyım diye düşünmüş.

4) Aşağıdaki kelimelerden hangisi satır sonuna sığmadığında bölünmez?

- A) Arap B) Para C) Rampa

5)



Yandaki görseller arasındaki anlam ilişkisi aşağıdaki kelime ikililerinden hangisinde vardır?

- A) okul - mektep
B) iyi - kötü
C) al - kırmızı

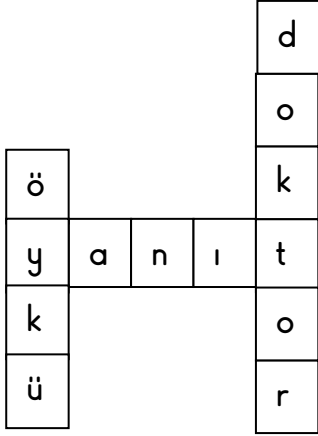
6) Aşağıdaki kelimelerden hangisi sözlükte diğerlerinden önce gelir?

- A) Takı B) Tazı C) Tamir

7) Aşağıdaki sözcüklerden hangisinde sadece ince ünlü harfler bulunmaktadır?

- A) Kardeş B) Televizyon C) Zeytin

8)



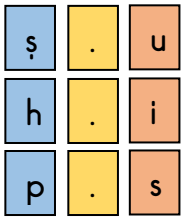
Aşağıda verilen kelimelerden hangisinin eş anlamlısı bulmacada yoktur?

- A) Hekim B) Soru C) Hikaye

9) Aşağıdaki görsellerden hangisi alfabenin 14. harfi ile başlar?



10) Yandaki kutularda harfler alfabetik olarak sıralanıyor. Sarı kutulara gelecek olan harfleri yukarıdan aşağıya okuduğumuzda hangi kelime oluşur?















- A) Tır B) Kuş C) Kar

11) 'Kurabiye' kelimesinin harfleri kullanılarak hangi kelimeyi oluşturamayız?

- A) Bayi B) Kira C) Bursa

- 12)  tiren  herkez
 şemsiye  gazete

Yukarıdaki verilen kelimelerden doğru ve yanlış yazılanlar eşleştirilmiştir. Hangi eşleşme doğrudur?

- Doğru Yanlış
- A)    
- B)    
- C)    


13) Aşağıdaki cümlelerin hangisinde büyük harflerin kullanımı ile ilgili bir yanlışlık yapılmamıştır?

- A) Okulda cumhuriyet bayramını kutladık.
 B) Gölde yüzmek tehlikelidir.
 C) Pikniğe ayşe de gelecek mi?

14) Aşağıdaki cümlelerin hangisinin sonuna farklı bir noktalama işareti getirilmelidir?

- A) Eyvah, yangın çıktı
 B) Kedimin adı Tekir
 C) Bir arkadaşımı gördüm

15) Aşağıdaki görsellerden hangisi ünlü harfle başlayıp ünsüz harfle bitmiştir?



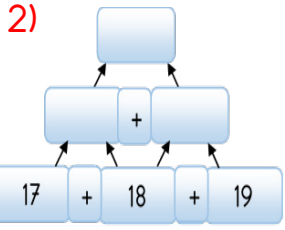
Ad Soyad:.....
Sınıfı:.....
Numarası:.....



1)
$$\begin{array}{r} 3 \ 5 \\ + 1 \ 5 \\ \hline \end{array}$$

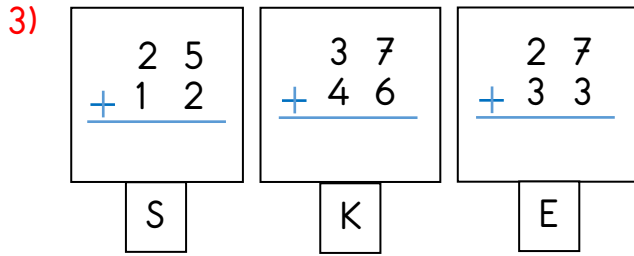
Yandaki toplama işleminin sonucu kaç desteye eşittir?

- A) 50 B) 5 C) 10



Yandaki toplama işlemi piramidinde en üst bölüme hangi sayı yazılmalıdır?

- A) 52 B) 62 C) 72



Yukarıdaki toplama işleminin sonuçları büyükten küçüğe sıralandığında hangi kelime oluşur?

- A) EKS B) SEK C) KES

4) 3 desteye yuvarlanabilen en büyük sayı kaçtır?

- A) 29 B) 34 C) 35



Yukarıdaki örüntünün kuralı bozan sayı hangisidir?

- A) 21 B) 16 C) 12

6) Burak 2 onluk 5 birlikten oluşan sayıdan başlayarak beşer ritmik sayma yapıyor. Buna göre Burak 4. Saymada hangi sayıyı söyler?



- A) 35 B) 40 C) 45



Suna



Meral

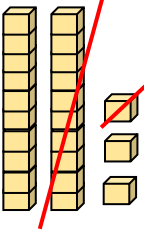
Aşağıdaki sayılardan hangisi Suna ve Meral'in söyledikleri sayıların arasındadır?

- A) 37 B) 29 C) 21



Bir araba yarışında 5. araba ile 8. araba arasında kaç araba vardır?

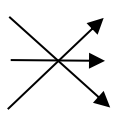
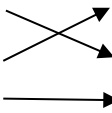
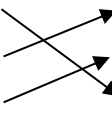
- A) 4 B) 3 C) 2




9)  Yanda modellenen çıkarma işlemi aşağıdakilerden hangisinde doğru verilmiştir?

A)
$$\begin{array}{r} 12 \\ + 11 \\ \hline 1 \end{array}$$
 B)
$$\begin{array}{r} 23 \\ + 11 \\ \hline 12 \end{array}$$
 C)
$$\begin{array}{r} 23 \\ + 12 \\ \hline 11 \end{array}$$

10) 


Yukarıdaki çıkarma işlemleri sonuçları ile eşleştirildiğinde hangi şekil oluşur?

A)  B)  C) 

11)
$$\begin{array}{r} 48 \\ - 23 \\ \hline 25 \end{array}$$
 
$$\begin{array}{r} 73 \\ - 45 \\ \hline 28 \end{array}$$
 
$$\begin{array}{r} 81 \\ - 36 \\ \hline 55 \end{array}$$
 

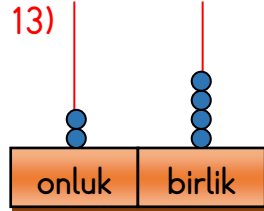
Yukarıdaki öğrencilerden hangisi çıkarma işlemini yanlış yapmıştır?

A)  B)  C) 



12) 



Yukarıdaki modellenen sayıya en yakın tahmin aşağıdakilerden hangisinde yapılmıştır?

A) 31 B) 38 C) 35

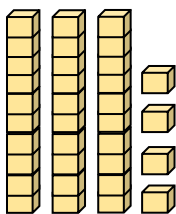
13)  Yanda verilen abaküstenki sayı aşağıdakilerden hangisine eşittir?

- A) İki düzineye eşittir.
B) İki desteye eşittir.
C) Bir düzineye eşittir.

14) $45 - 22 =$ 
 $32 - 17 =$ 

Yukarıdaki çıkarma işlemlerinin sonuçlarına göre  -  = ? sonucu kaçtır?

A) 8 B) 18 C) 15

15)  Yanda modellenen şekil aşağıdaki işlemlerden hangisinin sonucudur?

A) $87 - 54 =$
B) $63 - 29 =$
C) $17 + 19 =$

Ad Soyad:.....
Sınıfı:.....
Numarası:.....



- 1) **Mesut:** Babamla kırtasiyeden defterlerim için etiket aldık.
Ceren: Kullandığım silgi güzel olduğu için bir tane daha aldım.
Burak: Defterim bittiği için abim yenisini aldı.

Yukarıdaki çocuklardan hangisi ihtiyacı dışında alışveriş yapmıştır?

- A) Burak B) Mesut C) Ceren

2) Aşağıdakilerden hangisi 8 yaşındaki Mert'in yapabileceği bir davranıştır?

- A) Yemek yapmak.
B) Bisiklet sürmek.
C) Musluk tamir etmek.

3) Cansu, öğretmeni sınıfta ders anlatırken kendisi ile konuşmak isteyen sıra arkadaşına nasıl cevap verirse doğru bir davranış yapmış olur?

- A) Öğretmenimi dinliyorum.
B) Çok merak ettim, haydi söyle.
C) Buyur, seni dinliyorum.

4) 'Benim adım Kerem. Kahverengi saçlı, mavi gözlü, orta boylu bir çocuğum.'

Yukarıdaki ifadelere göre Kerem hangi özelliklerinden bahsetmiştir?



- A) Bireysel özelliklerinden.
B) Kişisel özelliklerinden.
C) Fiziksel özelliklerinden.

5)

- Sınıf aydınlıkken ışıkları açarım.
 Çantamı ders programına göre hazırlarım.
 Derste söz almadan konuşabiliriz.

Yukarıdaki ifadelerden doğru olanlara 'D', yanlış olanlara 'Y' yazarsak aşağıdakilerden hangisi oluşur?

- A)

Y
D
Y

 B)

D
D
Y

 C)

D
Y
Y

6) Ayşe sınıfta ortak karar almanın doğru olduğunu düşünüyor. Bu düşünceye sahip olan Ayşe hangisini söylemiş olamaz?




- A) Sınıfta herkes söz hakkına sahiptir.
B) Belirtilen fikirler sınıfça değerlendirilir.
C) Sınıfta tüm kararları öğretmen alır.



7) Uğur arkadaşlarına oyuna katılmak istediğini söyledi. Arkadaşları Uğur'u oyuna alınca Uğur da sıranın en önüne geçti. Bu durumda arkadaşlarının Uğur'a nasıl bir ifade kullanması doğru olur?

- A) Git bizimle oynama.
- B) Arkaya geçsene!
- C) Uğur sıranın sonuna geçmelisin.

8) Hangisi okulda kullanılan kaynaklardan biri değildir?

- A)  Ateş
- B)  Elektrik
- C)  Su

9) Konuşma ve dinleme kurallarına göre aşağıdaki ifadelerden hangisi yanlıştır?

- A) Konuşmak istediğimde söz alırım.
- B) Konuşulanları dikkatle dinlerim.
- C) Birini dinlerken başka şeylerle ilgilenebilirim.

10) Ders araç gereçlerini ders programına göre hazırlayan bir öğrenci hangi özelliğini geliştirmiş olur?

- A) Dürüstlük
- B) Sorumluluk
- C) Yardımseverlik

Ad Soyad:.....
Sınıfı:.....
Numarası:.....



1) Görselin İngilizcesi aşağıdakilerden hangisidir?



- A) Star B) Lemon C) Train


2) 

My name is Naci.



Diyalogda boş bırakılan yere hangi soru cümlesi gelmelidir?

- A) How are you?
B) What is your name?
C) What is this?

3)  Yandaki görsele göre söylememiz gereken ifade aşağıdakilerden hangisidir?

- A) 'Good night'
B) 'Good afternoon'
C) 'Good morning'

4)  Good morning.

Ceyda

Yukarıdaki görselde Ceyda'nın söylediği ifadenin anlamı nedir?

- A) 'Merhaba'
B) 'Hoşçakal'
C) 'Günaydın'

5)



Yukarıda verilen resimdeki malzeme ile hangi iş yapılır?

- A) Stick B) Cut C) Draw