



TUTSAKLIK

Kasabada güneşli bir sonbahar günüydü. Yaşlı bir adam, elindeki kafeste iki kuş olan bir çocuk gördü. Kuşlar, dışarı çıkmak için çırpınıp duruyorlardı. Yaşlı adam, kuşların bu halinden üzüntü duydu. Sonra çocuğa sordu:

- Nereye gidiyordun küçük?
— Pazara.
— Ne yapacaksın?
— Kuşları satacağım.
— Peki kaçta satacaksın?
— Her birini beş liraya.
— Öyleyse kuşları bana satmaz mısın?
Elbette, niçin satmayayım?

Yaşlı adam, cebindeki on lirayla kafesi satın aldı. Önce kuşlardan birini çıkardı. Biraz okşadıktan sonra kuşu salıverdi. Küçük çocuk şaşırıyordu. Bir elindeki on liraya, bir de yaşlı adama baktı. Sonra sordu:

— Neden böyle yaptın amca? Kuşları niçin bıraktın?

Adam gülümseyerek şöyle cevap verdi:

— Yıllar önce büyük bir savaş olmuştu. O savaşta ben de esir düşmüştüm. O yüzden tutsaklığın ne kadar kötü bir şey olduğunu bilirim. Kuşları niçin bıraktığımı anladsın mı?

Ömer SEYFETTİN

- Aşağıdaki soruları metne göre cevaplayınız.

1) Yaşlı adam kuşları kaç paraya satın almıştır?

.....
.....

2) Kuşları satın alan yaşlı adam ne yaptı?

.....
.....

3) Yaşlı adam niçin böyle davranmıştır?

.....
.....

- ❖ Aşağıda verilen cümleleri altı çizili kelimelere göre soru cümlesi haline getirerek yeniden yazınız.

➤ Sibel ödevini yapmadı.

.....

➤ Ailecek pikniğe gideceğiz.

.....

➤ Teyzemler haftaya bize gelecek.

.....

➤ Ufuk çok uslu bir çocukmuş.

.....



















➤ Dedem abime paten almış.

.....

















➤ Caner düşük not aldığı için üzüldü.

.....

❖ Aşağıdaki görselleri olayların oluş sırasına göre sıralayınız.

<input type="checkbox"/>		<input type="checkbox"/>		<input type="checkbox"/>	
<input type="checkbox"/>		<input type="checkbox"/>		<input type="checkbox"/>	
<input type="checkbox"/>		<input type="checkbox"/>		<input type="checkbox"/>	
<input type="checkbox"/>		<input type="checkbox"/>		<input type="checkbox"/>	
<input type="checkbox"/>		<input type="checkbox"/>		<input type="checkbox"/>	
<input type="checkbox"/>		<input type="checkbox"/>		<input type="checkbox"/>	

❖ Yazımı yanlış verilen kelimelerin doğrusunun yazıldığı elmayı kırmızıya boyayınız.

<input type="checkbox"/>	Herkes	<input type="checkbox"/>	Herkez	<input type="checkbox"/>	Tiren	<input type="checkbox"/>	Tren
							
<input type="checkbox"/>	Penbe	<input type="checkbox"/>	Pembe	<input type="checkbox"/>	Eşofman	<input type="checkbox"/>	Eşortman
							
<input type="checkbox"/>	Yanlış	<input type="checkbox"/>	Yalنیş	<input type="checkbox"/>	Dinozor	<input type="checkbox"/>	Dinazor
							
<input type="checkbox"/>	Kaplunbağa	<input type="checkbox"/>	Kaplumbağa	<input type="checkbox"/>	Sipor	<input type="checkbox"/>	Spor
							

**PROBLEM
ÇÖZELİM**


1- Ben 13 yaşındayım. Babam ise 39 yaşındadır. İkimizin yaşları toplamı kaçtır?

CEVAP:

2- Kasada 4 düzine elma, 2 deste armut vardır. Kasada toplam kaç meyve vardır?

CEVAP:



3- Kerem ilk gün 32, ikinci gün 24 sayfa kitap okudu. Kerem iki günde kaç sayfa kitap okudu?

CEVAP:

4- Bir fırında sabah 38, akşam 47 ekmek satılmıştır. Bu fırında toplam kaç ekmek satılmıştır?

CEVAP:



5- Hacer yeni öykü kitabının 23 sayfasını okudu. Geriye 26 sayfası kaldı. Buna göre öykü kitabı toplam kaç sayfadır?

CEVAP:

6- Annem mağazadan fiyatı 10TL olan gömlekten 2 tane, fiyatı 35 TL olan pantolondan 1 tane alıyor. Annem mağazaya kaç TL ödemeli?

CEVAP:



7- Dedemle ilk gün 28, ikinci gün 33 fidan diktik. Dedemle iki günde kaç fidan diktik?

CEVAP:

8- Kenan cumartesi 39, pazar günü ise 52 TL harcadı. Kenan hafta sonu toplam kaç TL harcamıştır?

CEVAP:

PROBLEM ÇÖZELİM

9- Okulumuzda satranç kursuna 23 kişi katılmıştır. Tiyatro kursuna katılanlar satranç kursuna katılanlardan 14 kişi fazla olduğuna göre iki kursa katılan toplam öğrenci sayısı kaçtı?

ÇÖZÜM:

10- Melek'in 15 tokası var. Ablasının ise Melek'ten 13 fazla tokası var. İkisinin toplam kaç tokası var?

ÇÖZÜM:

11- Dans kursunda 13 erkek, erkeklerden 15 fazla kız vardır. Dans kursunda kaç kız vardır?

ÇÖZÜM:

12- Dans kursunda 13 erkek, erkeklerden 15 fazla kız vardır. Dans kursunda toplam kaç kişi vardır?

ÇÖZÜM:

13- Bir torbada 9 mavi, mavilerden 12 fazla yeşil, yeşillerden 8 fazla beyaz bilye vardır. Bu torbada kaç beyaz bilye vardır?

ÇÖZÜM:

14- Bir okçu hedefe üç atış yapıyor. Sırayla 26, 43, 39 sayılarını vuruyor. Okçunun vurduğu sayıların toplamı kaçtır?

ÇÖZÜM:

15- Ablam 14 yaşındadır. Annem ise ablamdan 23 yaş büyüktür. 3 yıl sonra ablam ile annemin yaşları toplamı kaçtır?

ÇÖZÜM:

16- Bir kümeste 27 tane tavuk, 17 tane ördek, 24 tane hindi vardır. Bu kümeste toplam kaç hayvan vardır?

ÇÖZÜM:

❖ Aşağıda verilenlerden doğru olanlara 'D', yanlış olanlara 'Y' yazınız.

(...) Aile içi kararlar alınırken kendimizi anlaşılır bir dille ifade etmemiz gerekir.

(...) Ailede kararlar anne ve baba tarafından alınır.

(...) Evde bir karar alınırken herkesin görüşü dikkatlice dinlenmeli.

(...) Evde karar alınırken sadece aile büyükleri konuşmalıdır.

(...) Evde karar alınırken fikrimizin sorulması bizi mutlu eder.

❖ Aşağıda verilenlerden doğru olan davranışları işaretleyiniz. Ampul ve damlamızı boyayınız.

- Gereksiz yanan lambaları kapatırım.
- Televizyonu izlemesem de sürekli açık tutarım.
- Ders çalışırken masamda üç tane lamba açarım.
- Kağıt atıkları ayrı biriktiririm.
- Bulaşıkları bulaşık makinesinde yıkarım.
- Gündüz vakti lambaları yakarım.
- Kaynakları tasarruflu kullanırım.
- Gereksiz yere harcama yapmam.
- Dişlerimi fırçalarken musluğu açık bırakırım.



❖ Aşağıda verilenlerden nasıl tasarruf edebileceğimizi yazınız.

Ekmek:.....

Su:.....

Elektrik:.....

Doğalgaz:.....