


Ad Soyad:.....
Sınıfı:.....
Numarası:.....



KARGA İLE KOYUN

Kartal süzülüp koyun sürüsüne dalmış. Bir koyunu kapıp havalanmış. Bu durumu gören karga, kartala özenmiş. "Bunu ben de yapabilirim." diye düşünmüş. Kanatlarını açmış, pençelerini germiş. Kartal gibi süzülerek bir koyunun sırtına konmuş. Koyunu kaldırmak istemiş, başaramamış. Çabaladıkça pençeleri koyunun yünlerine dolanmış. Karga ayaklarını kurtarmak istemiş, fakat kurtaramamış. Durumu gören çoban, kargayı yakalamış, ama bırakmamış. Evine götürüp kafese koymuş. Çoluk çocuğa göstermiş. Kartala özenen zavallı karga hem özgürlüğünü yitirmiş hem de gülünecek duruma düşmüş.

La Fontaine

- Aşağıdaki soruları metne göre cevaplayınız.

1) Parçada hangi hayvanların adı geçmektedir?

Parçada kartal, koyun ve karganın adı geçmektedir.

2) Kartal ne yapmış?

Kartal bir koyunu kapıp havalanmış.

3) Karga koyunu yakalamak isteyince ne olmuş?

Pençeleri koyunun yününe dolanmış ve çoban

Da onu yakalayıp kafese koymuş.

- Aşağıda verilen kelimeleri satır sonuna sığmadığını düşünerek hecelerine ayırınız.

kitaplık

.....kitap-
lık.....

bilgisayar

.....bilgi-
sayar.....

başöğretmen

.....başög-
retmen.....

matematik

.....mate-
matik.....

şemsiye

.....şem-
siye.....

hanımeli

.....hani-
meli.....


çikolata

.....çiko-
lata.....

kalorifer

.....kalori-
fer.....

❖ Aşağıdaki kelimeleri görsellerinden de yararlanarak anlamlarıyla eşleştiriniz.



çalı

1

3

Teneke veya plastikten yapılmış kısa saplı bir kürek türü.



ay

2

1

Küçük, dalları dibinden çatallanan ve sapları odunsu bitki.



faraş

3

2

Dünya'nın uydusu olan gök cismi.

❖ Aşağıda verilen bilgilerden doğru olanların başına 'D' yanlış olanların başına 'Y' yazınız.

(D) Tamamlanmış cümlelerin sonuna nokta konulur.

(Y) Virgül cümlelerin sonuna konulabilir.

(D) Sevinç, heyecan, korku gibi duyguları belirten cümlelerin sonunda ünlem işareti konulur.

(D) Cümlede aynı görevde kullanılan kelimelerin arasına virgül konulur.

(Y) Sıra bildiren sayıların sonuna kısa çizgi konulur.

(Y) Özel isimlere gelen ekleri ayırırken soru işareti kullanılır.

(D) Uzun çizgi (konuşma çizgisi) konuşma yazılarında kullanılır.

(D) Sıralı cümlelerin arasına virgül konulur.

❖ Aşağıda verilen kelimelerin zıt anlamlarını yazınız.

yoksul

zengin

gelir

gider

tok

aç

sıska

şişman

kolay

zor

sabah

akşam

❖ Aşağıdaki toplama işlemlerini zihinden yapınız, sonucu aynı olan işlemleri aynı renge boyayınız.

$50+40=90$

$20+40=60$

$20+20=40$

$70+10=80$

$10+40=50$

$40+30=70$

$30+60=90$

$30+30=60$

$40+40=80$

$30+10=40$

$30+20=50$

$50+20=70$

❖ Aşağıdaki toplama işlemlerini zihinden yapınız.

$60 + \begin{cases} 20 = 80 \\ 10 = 70 \\ 30 = 90 \end{cases}$

$30 + \begin{cases} 20 = 50 \\ 10 = 40 \\ 30 = 60 \end{cases}$

$10 + \begin{cases} 20 = 30 \\ 10 = 20 \\ 30 = 40 \end{cases}$

$70 + \begin{cases} 20 = 90 \\ 10 = 80 \\ 30 = 100 \end{cases}$

$40 + \begin{cases} 20 = 60 \\ 10 = 50 \\ 30 = 70 \end{cases}$

$20 + \begin{cases} 20 = 40 \\ 10 = 30 \\ 30 = 50 \end{cases}$

$50 + \begin{cases} 20 = 70 \\ 10 = 60 \\ 30 = 80 \end{cases}$

❖ Tablolardaki toplama işlemlerini zihinden yaparak tabloyu doldurunuz.

+	10	20	30	40	50
30	40	50	60	70	80
40	50	60	70	80	90
50	60	70	80	90	100

+	30	40	50	60	70
10	40	50	60	70	80
20	50	60	70	80	90
30	60	70	80	90	100

❖ Aşağıdaki toplama işlemlerini örneğe uygun olarak yapınız.

$$\begin{array}{r} 34 + 25 \\ \hline 50 + 9 \\ \hline 59 \end{array}$$


$$\begin{array}{r} 26 + 42 \\ \hline 60 + 8 \\ \hline 68 \end{array}$$



$$\begin{array}{r} 65 + 23 \\ \hline 80 + 8 \\ \hline 88 \end{array}$$

$$\begin{array}{r} 41 + 58 \\ \hline 90 + 9 \\ \hline 99 \end{array}$$

$$\begin{array}{r} 76 + 22 \\ \hline 90 + 8 \\ \hline 98 \end{array}$$

MİNİ TEST

1)  Aşağıdaki toplama işlemlerinden hangisinin sonucu 70 değildir?

- 4)  $40 + 30 = 70$
 $50 + 40 = 90$
 $60 + 10 = 80$

- (A) $40+10$ (B) $50+20$ (C) $30+40$

Yukarıda verilen işlemlerden hangisinin sonucu yanlış yazılmıştır?

- (A)  (B)  (C) 

2)

+	10	20
30		A
40	B	

 Yandaki toplama tablosuna göre $A+B$ işleminin sonucu aşağıdakilerden hangisidir?

- (A) 80 (B) 90 (C) 100

3) $10+30+50$ Yandaki toplama işleminin sonucu aşağıdakilerden hangisidir?

- (A) 80 (B) 90 (C) 100

5) $35 + 37 = ?$ işleminin zihinden yapılışı aşağıdakilerden hangisi olamaz?

(A)
$$\begin{array}{r} 35 + 30 = 65 \\ 65 + 7 = 72 \end{array}$$

(B)
$$\begin{array}{r} 30 + 30 = 60 \\ 5 + 7 = 12 \\ 60 + 12 = 72 \end{array}$$

(C)
$$\begin{array}{r} 30 + 7 = 37 \\ 37 + 30 = 72 \end{array}$$

❖ Aşağıda verilenlerden doğru olanlara 'D', yanlış olanlara 'Y' yazınız.

(D) İş bölümü yapmak sorumluluk duygumuzu geliştirir.

(Y) Evimizdeki bütün işleri annemiz yapar.

(D) Ailemizde işbirliği yapmak sevgi ve saygıyı artırır.

(Y) Evdeki çocuklara ev işlerinde sorumluluk verilmez.

(D) Ailede yardımlaşma ve görev dağılımı yapmak önemlidir.

(D) Ailede görev paylaşımı yaptığımızda mutlu oluruz.

(Y) Odamızı toplamak ve ödevlerimizi yapmak annemizin görevidir.

(Y) Bozulan ütüü tamir etmek evde alabileceğimiz sorumluluklardandır.



❖ Aşağıdaki cümleleri verilen kelimelerden uygun olanlar ile tamamlayınız.

➤ Evde **sorumluluk** almaktan mutlu olmalıyız.

➤ Bir işte çalışıp **para** kazanmak çocuk olarak sorumluluklarımızdan **değildir**

➤ Aile içinde sadece bebeklere sorumluluk **verilmez**

➤ Aile içinde sorumluluk almak kendimize olan **güvenimizi** artırır.

➤ Ailede herkes **sorumluluklarını** yerine getirmelidir.

➤ Sorumlulukları yerine getirdiğimizde ailemizde **huzurlu** bir ortam oluşur.



❖ Evinizde yerine getirmeniz gerek sorumlulukları aşağıya yazınız.

.....

.....

.....