



ESKİ OYUNLAR

Bilgisayarlar yokken , çocuklar ne yaparmış ?
Bugün anlattı babam, hangi oyunları oynarmış.
Dinledim uzun uzun , o eski oyunları,
Öylece şaşım kaldım, meğer ne oyunlar varmış.

Önce çelik çomak dedi, öylece bakakaldım.
Ne demek istemişti, ilk önce anlamadım.
İki sopaymış bunlar, biri uzun biri kısa,
Vurunca tüm gücüyle , uçarmış en uzağa.



Körebeymiş diğer oyun, gözleri bağlı ebenin.
Kaçıştırmış çocuklar, mümkünü yokmuş görmenin.
Sonunda yakalarmış , çocuklardan birini,
Zevkine doyulmazmış , körebe oynamanın.

Türlü türlü oyunlar, anlatmayla bitiremem.
Hepsini sayarsam , bu şiiri yetiremem.
Sizde bazen oynayın, bu eski oyunları,
Bilgisayar başından kalkın, donatın sokakları.

❖ Aşağıdaki soruları , şiire göre yanıtlayınız.

1- Çocuğun babası , şiirde hangi eski oyunlardan bahsetmiş?

.....

2- Çelik çomak nasıl bir oyunmuş ?

.....

3- Körebe nasıl bir oyunmuş ?

.....


4- Şairin çocuklara tavsiyesi nedir ?

.....

5- Şiirin başlığını siz belirleseydiniz , nasıl bir başlık seçerdiniz?


.....

❖ Aşağıda bazı deyimler ile ilgili görseller verilmiştir. Bu görselleri yorumlayarak , deyimleri bulunuz. Altlarındaki boşluklara yazınız.



.....

.....



.....

.....

TIRNAK İŞARETİ



Aşağıdaki bilgileri güzelce okuyalım. Bilgilerin yan tarafında yazılı olan tümcelere , örneklerdeki gibi tırnak işaretlerini yerleştirelim.



Başka bir kişiden alınan, alıntı sözler tırnak işareti içerisine alınır.

- Atatürk,düşman gemilerini görünce “ Geldikleri gibi giderler.” dedi.
- Mevlana Ne olursan ol , yine gel. demiştir.
- Aile doktorumuz Her şeyin başı sağlık. dedi.
- Hz. Ali Bana bir harf öğretenin bin yıl kölesi olurum. demiş.
- Annem Çabuk buraya gel! diye bağırdı.



Bir eserden bahsederken, eser adı tırnak işareti içerisine alınır.

- Balzac'ın “ Vadideki Zambak “ adlı romanını okudun mu ?
- Gustave Flaubert'in Madame Bovary adlı eseri , bir klasiktir.
- Atatürk'ün en önemli eseri Nutuk adlı eseridir.
- Ömer Seyfettin'in Perili Köşk adlı romanı beni çok etkiledi.
- Öğretmenimiz bana Ezop Masalları adlı kitabı verdi.



Vurgulanmak istenen sözcükler tırnak işareti içerisine alınır.

- Bugün okulda “ nota öğretimi “ üzerinde duracağız.
- Yarın ileri düzeyde sürüş teknikleri semineri var.
- Bu hafta dört basamaklı sayılar konusunu işleyeceğiz.
- Bu ödevimizin konusu tırnak işareti olacak.
- Konuşmacı bugün çağımızda teknoloji teması üzerinde konuşacak.

❖ Aşağıdaki cümlelerdeki , yay ayraçla belirtilen yerlere uygun noktalama işaretlerini koyunuz.

Öğretmen () Geç kaldın yine.() dedi.



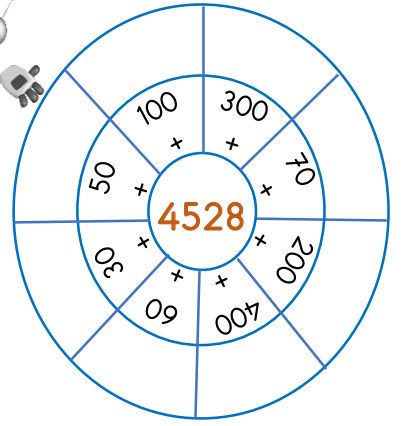

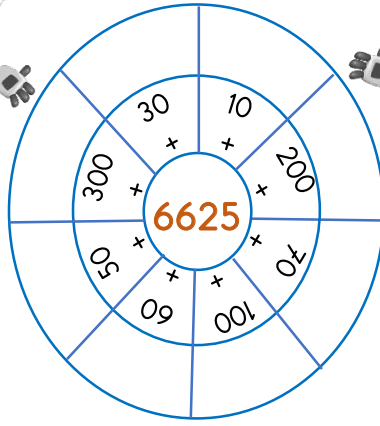

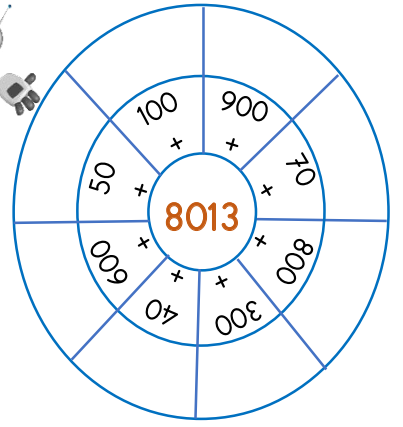

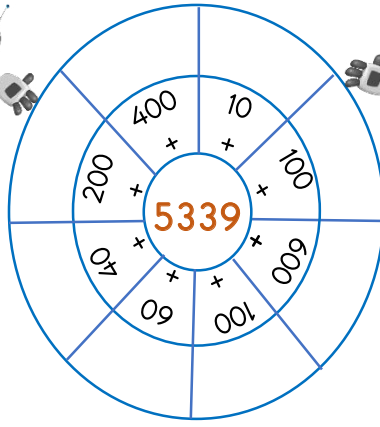

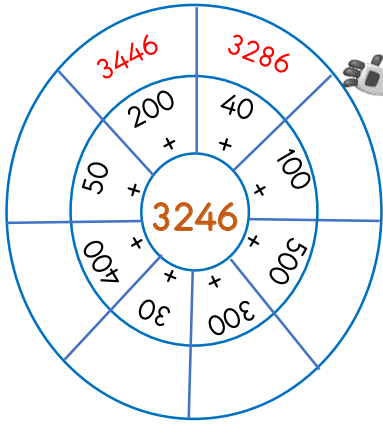
Aşık Veysel bir eserinde () Benim sadık yârim kara topraktır. () demiştir.

Orhan Veli Kanık()ın () İstanbul'u Dinliyorum () şiirini okudun mu ()

Okul müdürü () Çocuklar bağımsızlığımızın en önemli sembolü bayrağımızdır. () şeklinde konuştu()

Atatürk () ün () Hayatta en hakiki mürşit ilimdir.() sözü sizce ne anlama geliyor()

❖ Aşağıdaki sayı çarklarındaki rakamları zihinden toplayarak, örnekteki gibi ilgili bölümlere yazınız.



❖ Aşağıdaki toplama işlemlerini zihinden yaparak, en alt bölümdeki şifreyi bulunuz.

$2512 + 300 =$

 M

$2796 + 200 =$

 K

$5512 + 300 =$

 L

$7852 + 100 =$

 İ

$2005 + 700 =$

 Y

$1345 + 100 =$

 U

$4158 + 800 =$

 L

$3210 + 600 =$

 U

$8128 + 800 =$

 K

$1025 + 900 =$

 O

$4200 + 200 =$

 L

$2046 + 900 =$

 U


7952

4958

2996

1925

8928

1445

5812

4400

3810

2705

2946

2812



PROBLEM
ÇÖZELİM

1- $2156 > \dots\dots > 2150$ ifadesinde iki sayı arasında kalan tek sayıların toplamları kaçtır?

CEVAP:

2- Bir toplama işleminde toplam 4528. Toplananlardan birine 325 ekleyip diğerinden 48 çıkarırsak yeni toplam kaç olur?

CEVAP:




3- 9-8-7-0-2-1 sayılarıyla yazılabilecek 4 basamaklı en küçük ve en büyük sayının toplamları kaç olabilir?

CEVAP:

4- $M < 2460$ ve $K < 3256$ ise M ve K sayılarının yerlerine yazılabilecek en büyük çift sayıların toplamları kaçtır?

CEVAP:



5- Dört basamaklı en küçük tek sayı ile 987'yi topladım. Daha sonra üzerine 1254 ekledim. Bulduğum sayı kaçtır?

CEVAP:

6- 1705 sayısından hemen önce gelen üç tane tek sayının toplamını bulunuz .

CEVAP:




7- 1254 ile 1260 arasındaki çift sayıları topluyorum. Çıkan sonucun üzerine dört basamaklı en küçük çift sayıyı ekliyorum. Sonuç kaç olabilir?

CEVAP:

8- Bir toplama işleminde ilk toplanan 1325'tir. İkinci toplanan ise ilk toplanandan 1547 fazladır. Bu toplama işleminin sonucu kaç olabilir ?

CEVAP:



❖ Yukarıda kelimeler ile aşağıdaki boşlukları doldurunuz.

- Besinleri ve..... yemeliyiz.
- Hazır gıdalardaki sağlığımıza zarar verir.
- Besinlerin en son ne zaman tüketilebileceğini belirten tarihe denir.
- Besinleri kaynatıp, cam kavanozlara koyarak saklama yöntemine denir.
- Besinleri mevsimi dışında da taze yiyebilmek için..... saklarız.

❖ Doğru olanların başına "D", yanlış olanların başına "Y" koyunuz.



- () Tuz , bal gibi gıdalar çabuk bozular.
- () Yazın portakal yemeliyiz.
- () Sürekli karbonhidrat ağırlıklı beslenmek obeziteye yol açar .
- () Besinleri saklama yöntemlerinden birisi de kurutmadır.
- () Hormonlu gıdalar sağlıksızdır.
- () Mevsiminde yenilen besinler ekonomiktir.

❖ Aşağıdaki şemalarda , sorulara doğru yada yanlış olarak cevap vererek ilerleyiniz. Ulaştığınız besinin altına ✓ koyunuz.

Besinleri tazeleyen tüketmeliyiz.

D Y

Süt çabuk bozulmaz. Kiraz kış meyvesidir.

D Y D Y

En sağlıklı gıdalar hormonlu olanlardır.

D Y

Protein sütte bulunur. Su her besinde bulunur.

D Y D Y

Yağlar vitamin deposudur.

D Y

Vitamin düzenleyicidir. Mineraller onarıcıdır.

D Y D Y

❖ Aşağıdaki soruları cevaplayınız.

? Besinleri uzun süre saklamak için birçok yöntem kullanılır. Besinleri saklama yöntemlerinden iki tanesini yazınız.



.....
.....

? Son kullanma tarihi nedir? Neden çok önemlidir?



.....
.....

? TSE kısaltmasının açılımı nedir ?



.....

? Proteinlerin görevleri nelerdir ? Hangi besinlerde bulunurlar ?



.....
.....

? Aşırı karbonhidrat tüketiminin ne gibi zararları olabilir?



.....
.....

? Kemik gelişimimiz ve boyumuzun uzaması için hangi besinleri tüketmeliyiz?



.....
.....

? Vitaminlerin görevleri nelerdir?



.....
.....

? Su ve mineraller hangi besinlerde bulunur ?

.....
.....

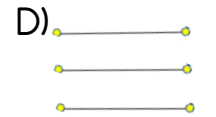
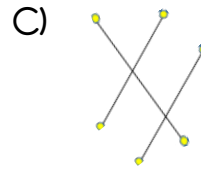
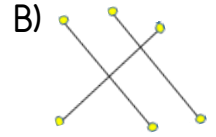
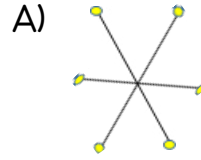
❖ Aşağıdaki çoktan seçmeli soruları cevaplayınız.

? Aşağıda verilen bilgilerden hangisi yanlıştır?

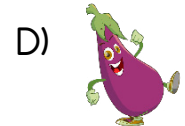


- A) Besinleri yerinde ve zamanında yemeliyiz.
- B) Son kullanma tarihi son derece önemlidir.
- C) Ambalajlı gıdaları alırken , renklerine ve şekillerine bakmalıyız.
- D) Mevsiminde yenilen besinler daha sağlıklıdır.



? Yukarıdaki besin gruplarıyla görevleri eşleştirilirse , nasıl bir eşleşme olur ?



? Hayvansal besinler protein bakımından zengindirler. Bu nedenle yapıcı ve onarıcıdır. Aşağıda verilen besinlerden hangisi hayvansal bir besindir ?





❖ Yukarıda kültürümüze ait eski oyunların isimleri var. Aşağıdaki boşluklara bu oyunların isimlerini yazınız.

- Koniye benzer bir tahtaya ip sıkıca sarılır. Daha sonra ip hızlıca çekilir ve oyuncak dönmeye başlar. Bu oyuncağa..... denir.
- At üzerinde , uzun ve sivri çubuklar ile oynanan geleneksel oyunumuzadenir.
- Çocuklar kambur şeklini alarak eğilirler. Daha sonra sırayla birbirlerinin üzerlerinden atlarlar. Oyunun adına denir.
- Çocukların iki gruba ayrılarak , kalın bir ipi kuvvetlice çekmeleriyle oynanan oyunun adı dir.
- Biri uzun biri kısa iki sopyayla oynan oyunun adına denir.

❖ Sizde eskiden olmayıp günümüzde oynanan dört tane oyun yazınız..

1-.....

2-.....

3-.....

4-.....

ARAŞTIRILIM

"Dalye" oyunu nasıl oynanır? Açıklayınız.

.....

.....


.....

.....

.....

.....

.....



"Aşık" oyunu , ne ile oynanır? Anlatınız.

.....

.....

.....

.....

.....

.....

.....



Saklambaç oyunu nasıl oynanır? Anlatınız.

.....

.....


.....

.....

.....

.....

.....



Büyüklerinizin oynadığı oyunlardan , iki tanesini yazınız.

.....

.....

.....

.....

.....

.....

.....



- ❖ Aşağıdaki bulmacanın içerisinde bazı oyunlar saklı. Bulmacanın yanında yazan bu oyunları , bulmacanın içerisinden bulunuz.

AŞIK OYUNU	A	A	J	F	Ç	E	L	İ	K	Ç	O	M	A	K
ÇELİK ÇOMAK	Ş	V	İ	P	A	T	L	A	M	A	Ş	K	S	U
KÖREBE	I	L	T	G	B	A	L	Z	L	J	C	C	A	T
SAKLAMBAÇ	K	V	O	P	İ	Ç	J	İ	B	İ	S	U	K	U
İP ATLAMA	O	G	P	P	R	M	Y	O	L	B	M	Ç	L	K
TOPAÇ ÇEVİRME	Y	Z	A	G	D	J	Y	L	Ö	S	J	Ç	A	U
BİRDİR BİR	U	H	Ç	H	İ	Z	V	A	S	Ğ	C	Z	M	T
EBE SOBE	N	K	Ç	Ş	R	Z	O	Ç	T	S	F	T	B	U
KUTU KUTU PENSE	U	U	E	G	B	Z	V	B	P	K	C	H	A	P
	R	N	V	Ş	İ	E	B	E	S	O	B	E	Ç	E
	T	R	İ	S	R	S	V	K	Ç	K	M	Ş	K	N
	İ	A	R	O	T	L	M	V	S	E	A	C	N	S
	A	K	M	B	M	E	M	G	N	E	D	H	A	E
	L	R	E	B	K	Ö	R	E	B	E	O	Ş	O	L

- ❖ Aşağıdaki oyunları eskiden oynananlar , günümüzde oynananlar ve hem önceden hem günümüzde oynananlar olarak gruplayalım. Her grubu kendi sepetine yazalım.

Günümüzde oynananlar



Eskiden oynananlar



Hem günümüzde hem eskiden oynananlar

Play stadion	Bilgisayar oyunları
Yakan top	Yerden yüksek
Cirit oyunu	İp atlama
PubG	Mine craft
Aşık oyunu	Matrak
Topaç çevirme	Futbol

MİNİ TEST

Dostoyevski'nin () Suç ve Ceza ()
adlı eseri , en ünlü eseridir.

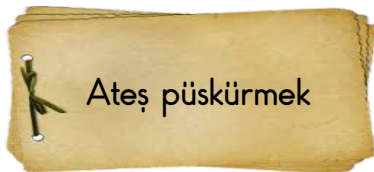


1- Yukarıdaki tümcede , yay ayraç ile belirtilen yerlere hangi noktalama işareti gelmelidir?

- A) Kesme işareti ve ünlem işareti gelmeli.
- B) İki tane virgül gelmeli.
- C) Konuşma çizgisi ve tırnak işareti gelmeli.
- D) İki tane tırnak işareti gelmeli.

2- Hangi tümcede noktalama işaretlerinin kullanımında hata yapılmıştır?

- A) Bugün "canlılarda hareket " konusunu işleyeceğiz.
- B) Karacaoğlan'ın " Seçmeler " adlı eserini tavsiye ederim.
- C) Atatürk , muhtaç olduğun kudret damarlarındaki asil kanda mevcuttur , demiştir.
- D) Neşet Ertaş'ın " Neredesin Sen " adlı eserini sever misin?



3 - Yukarıda yazan deyim, hangi anlamda kullanılır?

- A) Yorulmak. B) Çok zorlanmak.
- C) Sinirlenmek. D) Hasta olmak.

4- Hangi deyim " sabırsızlanmak ve bir an önce olmasını istemek " anlamında kullanılır?

- A) İçi içine sığmamak
- B) Ağız açık kalmak
- C) Sevinçten göz yaşı dökmek
- D) Göbeği çatlamak



$$4250 + 500 = A$$

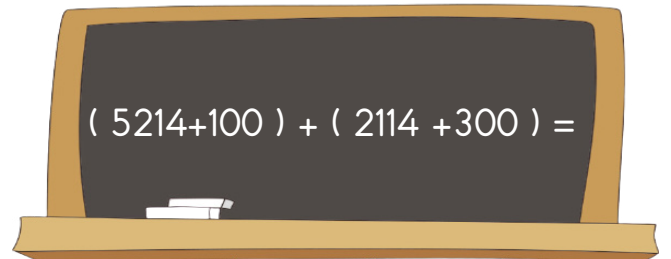
$$3480 + 300 = B$$

5 - Eşegin gösterdiği tabeladaki toplama işlemlerini gördünüz. Bu işlemlere göre A + B işleminin sonucu kaç eder ?

- A)4750 B) 3780 C) 8530 D) 2000

6 - 2165 < < 2172
Noktalı yere yazılabilecek tek sayıların toplamı kaç eder ?

- A) 6507 B) 6508 C) 6509 D) 6510



7 - Tahtada yazan işlemin sonucu kaçtır?

- A) 7278 B) 6547 C) 7728 D) 7729

8 - Koniye benzeyen bir tahta parçasına ip sarılarak oynanan ve amacın oyuncuğu döndürmek olduğu oyunun adı nedir?

- A) Yakan top
- B) Topaç çevirme
- C) Çember çevirme
- D) Saklambaç



9 - Çocukların kambur şeklinde eğilerek birbirlerinin üzerinden atladıkları oyunun adı nedir?

- A) Birdir bir
- B) Uzun atlama
- C) Aşık oyunu
- D) Yağ satarım



10- Her köşede bir çocuğun olduğu ve çocukların sürekli köşelerini değiştirdiği bir oyundur. Ebeğin görevi, çocuklar köşelerini değiştirirken , boş köşeleri kapıp ebelikten kurtulmaktır. Bu oyunun adı nedir ?

- A) Yerden yüksek
- B) Konsol oyunu.
- C) Evcilik.
- D) Köşe kapmaca.



11- Yukarıdaki çocuğun oynadığı oyunun adı sizce nedir?

- A) Halka toplama.
- B) Çember çevirme.
- C) Yuvarlak oluşturma
- D) Dönme dolap

12 - Hangi besinleri kışın tüketirsek , zamanında ve taze besin tüketmiş olmayız?

- A) Havuç ve ıspanak
- B) Mandalina ve elma
- C) Pırasa ve karnabahar
- D) Vişne ve kiraz



13 - Besinleri mevsiminin dışında yiyebilmek için , dondurarak saklayabiliriz. Aşağıdaki besinlerden hangisini yazın dondurup , kışın yiyebiliriz ?

- A) Yeşil fasulye
- B) Pırasa
- C) Ispanak
- D) Havuç



14- Aşağıdaki besinlerden hangisi hayvansal bir gıda değildir ?

- A) Hamsi
- B) Yumurta
- C) Kuru fasulye
- D) Tere yağ



15 - Ahmet sporcu bir öğrenci. Hergün ağır antrenmanlar yapıyor ve enerjiye ihtiyaç duyuyor. Ahmet, enerji ihtiyacını gidermek için hangi besini daha fazla yemeli ?

- A) Tavuk
- B) Gözleme
- C) Brokoli
- D) Marul

