

Ad Soyad:.....
Sınıfı:.....
Numarası:.....



AT İLE EŞEK

Adamın birinin bir atı ile bir eşiği varmış. Atına biner, yüklerini de eşiğine taşıtır. Bir gün eşiğine çok ağır yük yüklemiştir. Eşek neredeyse devrilecektir. Biraz gidince eşiğin dayanacak gücü kalmamıştır. Ata yalvarmış:

– Ne olur, hiç gücüm kalmadı, yükümün birazını sen al.

Ama at bu sözlere hiç aldırmamış, yoluna devam etmiştir. Az sonra eşiğin bütün gücü tükenmiş, düşüp ölüvermiştir.

Adam eşiğin sırtındaki yükleri ata yüklemiştir, üstelik eşiğin derisini de yüzüp yüklerin üstüne koymuştur. At, eşiğin neler çektiğini o zaman anlamış, ona yardım etmediğine çok pişman olmuştur.

(İlk 4 soruyu metne göre cevaplayın.)

1. Eşek ölünce adam aşağıdakilerden hangisini yapmamıştır?

- A. Eşiğin yüklerini ata yüklemiştir.
- B. Eşiğin derisini de yüzüp ata yüklemiştir.
- C. Kendisi de yüklerin üstüne oturmuştur.

2. Eşek ölünce at hangi duyguya kapılmıştır?

- A. Pişman olmuştur.
- B. Çok sevinmiştir.
- C. Çok korkmuştur.

3. Aşağıdakilerden hangisi adamın hayvanlarından biri değildir?

- A. katır
- B. at
- C. eşek

4. Eşek attan ne istemiş?

- A. Yüklerinin hepsini taşımasını
- B. Biraz yavaş yürümesini
- C. Yüklerinin birazını taşımasını

5. Aşağıdaki kelimelerin hangisinde ince ünlü daha fazladır?

- A. televizyon
- B. bilgisayar
- C. civciv

★ salon

✚ salam

☀ sabun

♥ satır

6. Yukarıdaki kelimeler alfabetik olarak sıralandığında sıralama nasıl olur?

- A. ★ ✚ ☀ ♥
- B. ☀ ♥ ★ ✚
- C. ☀ ✚ ★ ♥

7. Aslı kurduğu cümlede zıt anlamlı kelimeleri bir arada kullanmıştır. Aşağıdakilerden hangisi Aslı'nın cümlesidir?

- A. Havada kara kara bulutlar var.
- B. Dost başa düşman ayağa bakar.
- C. Tembele iş buyur, sana akıl öğretsin.

nasihat

öğüt

8. Yukarıdaki kelimeler arasındaki anlam ilişkisi hangi kelimeler arasında vardır?

- A. iri - ufak
- B. bağ - bahçe
- C. ayrıntı - detay

OKUYALIM

Okumak geleceğin
Yolunu aydınlatır.
Okumak insanlara
Tüm dünyayı tanıtır.

Bizlere okumaktan
Daha yararlı ne var.
Bilgili olmak için
Okuyalım çocuklar.

Vefa ÇAĞAN

9. Yukarıdaki şiirle ilgili verilen bilgilerden hangisi doğrudur?

- A. Şiir iki dize ve dört kıtadan oluşmuştur.
- B. Şiir sekiz dize ve iki kıtadan oluşmuştur.
- C. Şiir dört kıta ve sekiz dizeden oluşmuştur.

10. Aşağıdakilerden hangileri ders kitabımızın bölümlerinden biri değildir?

- A. Sorular
- B. İçindekiler
- C. Kaynakça

11. Satır sonuna sığmayan kelimelerden hangisi hatalı olarak ayrılmıştır?

- A. bilgisa -
yar
- B. a -
raba
- C. ayak -
kabı

12. Aşağıdaki cümlelerdeki altı çizili kelimelerin hangisi yanlış yazılmıştır?

- A. Yemeğin yanında soğanı çok severim.
- B. Çocuklar için kibrit tehlikeli bir eşyadır.
- C. En sevdiğim meyva mandalınadır.

Okuldan dönerken Ayşe () Kerem ve Ali yolda çok şımarıldılar () Ali () nin başına gelenler hep bu şımarıklık yüzündendi ()

13. Yukarıda ayraçlarla gösterilen yerlere sırasıyla hangi noktalama işaretleri gelmelidir?

- A. (,) - (.) - (') - (.)
- B. (,) - (.) - (') - (?)
- C. (,) - (,) - (') - (.)

14. Aşağıdaki cümlelerin hangisinde zıt anlamlı sözcükler bir arada kullanılmamıştır?

- A. Babanın boyu uzun mu kısa mı?
- B. Tok, açın halinden anlamaz.
- C. Gülme komşuna gelir başına.

Tehlikelere karşı tedbir almalıyız.

15. Altı çizili kelimenin eş anlamlısı aşağıdakilerden hangisidir?

- A. uyanık
 - B. dikkatli
 - C. önlem
- adet soru cevap
sual tane

16. Yukarıdaki kelimeler ve eş anlamlıları eşleştirildiğinde hangisi boşta kalır.

- A. soru
- B. cevap
- C. sual

fidan - fiyat - - gülücük

17. Yukarıdaki kelimeler alfabetik olarak sıralanmıştır. Noktalı yere hangisi gelmelidir?

- A. garip B. güzel C. horoz

"Murat'ın suçlu olduğunu gösteren bir delil bulamadık."

18. Cümlesinde altı çizili sözcüğün yerine hangisinin kullanılması cümlenin anlamını değiştirmez?

- A. unsur B. kanıt C. araç

"Sol tarafa yürü () biraz ilerideki 1 () sokağa girince okulu görürsün ()"

19. Cümlesinde parantez içlerine sırayla hangi noktalama işaretleri konur?

- A. (.) (.) (.)
B. (,) (.) (.)
C. (!) (,) (?)

20. "Mert, Cemi görünce ne yapacağını şaşırmış." Cümlesindeki yazım yanlışı nasıl düzeltilir?

- A. Cemi kelimesi Cem 'i olarak yazılmalıdır.
B. Cümlenin sonuna soru işareti (?) konulmalıdır.
C. Mert kelimesinden sonraki virgül kalkmalıdır

21. Satır sonuna sığmayan kelimelerle ilgili aşağıdakilerden hangisi yanlıştır?

- A. Satır sonuna sığmayan kelimeler hecenin bittiği yerde bölünür.
B. Satırın sonunda bir harf tek başına bırakılmaz.
C. Kelime satır sonuna sığmıyorsa daha küçük yazarak sığdırılır.

- matematik eğlence spor
 penbe deyim

22. Yukarıdaki kelimelerin kaç tanesi doğru yazılmıştır?
A. 2 B. 3 C. 4

"Balık bulanık suda avlanır."

23. Tümcesinde altı çizili sözcüğün zıt anlamlısı aşağıdaki cümlelerin hangisinde vardır?

- A. Balıklar bulanık suda yüzemez.
B. Rüzgâr esince sular köpürdü.
C. Dere çok berrak akıyor.

"Üzgünüm ekmek var."

24. Tümcesindeki anlatım bozukluğunu hangi değişikliği yaparak düzeltebiliriz?

- A. Var yerine zıt anlamlısı olan yok sözcüğünü koyarak.
B. Ekmek yerine eş anlamlısı olan pide sözcüğünü koyarak.
C. Üzgünüm yerine ne yazık ki sözcüğünü koyarak.

"Balbam askerlik anısını bana anlattı."

25. Tümcesinde altı çizili sözcüğün eş anlamlısı aşağıdaki cümlelerin hangisinde vardır?

- A. Kardeşimin hatıraları anlat anlat bitmez.
B. Dün rüyamda babamı gördüm.
C. Dedemler anılarını anlatıyor.

Ad Soyad:.....
Sınıfı:.....
Numarası:.....



349

1. Yukarıdaki doğal sayının okunuşu aşağıdakilerden hangisidir?

- A. Üç yüz kırk dokuz
B. Üç yüz doksan dört
C. Dört yüz kırk dokuz

2. (7 - 0 - 4 - 6) rakamlarını birer kez kullanarak oluşturabileceğimiz üç basamaklı en küçük sayı aşağıdakilerden hangisidir?

- A. 460
B. 604
C. 406

501

3. Yukarıdaki sayının yüzlük, onluk ve birlikleri hangi seçenekte doğru olarak verilmiştir?

- A. Beş yüzlük + Bir onluk + Sıfır birlik
B. Beş yüzlük + Sıfır onluk + Bir birlik
C. Beş yüzlük + Sıfır onluk + Sıfır birlik

" Sekiz Yüz iki "

4. Yukarıda okunuşu verilen sayı aşağıdakilerden hangisidir?

- A. 820
B. 802
C. 822

127 - - - - C

5. Yukarıdaki sayının üzerine 100'er yazdığımızda (C) yerine hangi sayı gelmelidir?

- A. 527 B. 427 C. 327

48

6. Yukarıdaki sayıdan başlayarak 6'şar ritmik saydığımızda 3. ve 5. Sayılar hangileri olur?

- A. 72 ve 78
B. 60 ve 72
C. 60 ve 66

63

56

49

42

35

28

7. Yukarıdaki örüntünün kuralı nedir?

- A. Geriye doğru 9'ar sayma.
B. Geriye doğru 8'er sayma
C. Geriye doğru 7'şer sayma

15

19

17

21

19

K

8. Yukarıdaki örüntünün kuralına göre (K) yerine hangi sayı gelmelidir?

- A. 21
B. 22
C. 23

587

9. Yukarıdaki sayı için verilen bilgilerden hangisi yanlıştır?

- A. Birler basamağının basamak değeri 7'dir.
B. Onlar basamağının basamak değeri 8'dir.
C. Yüzler basamağının sayı değeri 5'tir

10. Aşağıda sayılar ve en yakın yüzlükleri eşleştirilmiştir. Hangi eşleştirmede yanlışlık yapılmıştır?

- A. 526 → 500
B. 451 → 500
C. 550 → 500

426 → 420

345 → 350

77 → 70

512 → 510

11. Yukarıda sayılar ve en yakın onlukları eşleştirilmiştir. Eşleştirmelerden kaç tanesi yanlıştır?

- A. 1 B. 2 C. 3

12. Aşağıdaki sıralamaların hangisinde yanlışlık yapılmıştır?

- A. 326 < 336 < 339 < 345
B. 412 < 402 < 432 < 442
C. 251 < 253 < 312 < 321

784 - 748 - 874 - 847 - 478

13. Yukarıdaki sayıları büyükten küçüğe sıraladığımızda sıralama nasıl olur?

- A. 874 > 847 > 784 > 748 > 478
B. 874 > 784 > 847 > 748 > 478
C. 874 > 847 > 748 > 784 > 478

256

153

525

144

14. Yukarıdaki sayılarla ilgili hangi bilgi yanlıştır?

- A. 256 ve 144 çift sayıdır.
B. 153 ve 525 tek sayıdır.
C. Çift sayılar tek sayılardan çoktur.

- I. Tek sayı ile tek sayının toplamı tek sayıdır.
II. Çift sayıyla çift sayının toplamı çift sayıdır.
III. Çift sayıyla tek sayının toplamı tek sayıdır.

15. Tek ve çift sayılarla ilgili verilen bilgilerden hangileri doğrudur?

- A. I ve II B. I ve III C. II ve III

VII + VII

IX + VI

XI + IV

VIII + VII

V + X

IV + VI

16. Yukarıda verilen toplama işlemlerinden kaç tanesinin sonucu 15'tir?

- A. 3 B. 4 C. 5

Ad Soyad:.....
Sınıfı:.....
Numarası:.....



1. Dünyamızın yuvarlak olduğunu ilk söyleyen bilim insanı aşağıdakilerden hangisidir?


- A. Macellan
B. Pisagor
C. Biruni

2. Dünya'mızın şeklini doğru şekilde açıklayan ifade hangisidir?

- A. Dünya'mız yanlardan basık, alttan ve üstten şişkindir.
B. Dünya'mız yanlardan şişkin, alttan ve üstten tümsektir.
C. Dünya'mız alttan ve üstten basık, yanlardan şişkindir.

3. Aşağıdakilerden hangisi Dünya'nın yuvarlak olduğunu kanıtlamaz?

- A. Uzaktan yaklaşan bir geminin önce dumanı sonra bacası, en son gövdesinin görünmesi.
B. Dünya'nın uzaydan çekilmiş fotoğrafları.
C. Dünyanın 3/4 ünün su olması.



(4.- 5.- 6. soruları yukarıdaki şekle göre cevaplayın.)

4. Dünya'nın en sıcak katmanı aşağıdakilerden hangisidir?

- A. Manto katmanı
B. İç çekirdek katmanı
C. Dış çekirdek katmanı

- Dünya'nın merkezinde yer alırım.
• Dünya'nın en sıcak katmanıyım.
• İki bölümden oluşurum.

5. Yukarıda açıklaması yapılmış olan katman hangisidir?

- A. Çekirdek
B. Manto
C. Yer kabuğu

6. Aşağıdakilerden hangisi "Her yerde hava vardır." Düşüncesini ispatlar?

- A. Suların karalardan fazla yer kaplaması.
B. Denizlerdeki balıkların yaşamlarını sürdürmesi.
C. Manto tabakasının erimiş kayalardan oluşması.

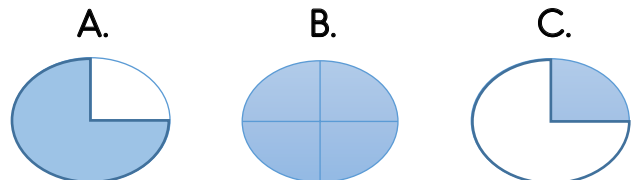


- Hava olaylarının gerçekleştiği tabakadır.
• Solunum yaparken kullandığımız oksijenin bulunduğu tabakadır.
• Dünya'yı dıştan saran tabakadır.

7. Yukarıda bilgileri verilen tabakanın adı nedir?

- A. Su küre
B. Atmosfer
C. Yer kabuğu

8. Dünya üzerinde suların oranı hangi seçenekte doğru olarak verilmiştir?



9. Aşağıdakilerden hangisi göz sağlığımıza zarar verir?

- A. Güneş'e güneş gözlüğüyle bakmak.
- B. Tozlu ve kirli ellerimizle gözlerimize dokunmak.
- C. Bol bol havuç tüketmek.

10. Gözümüzü tozlardan koruyan bölümü hangisidir?

- A. Kirpikler
- B. Göz çukuru
- C. Kaş

• Kulağımızda ağrı, akıntı olduğunda

11. Yukarıdaki cümlede nokta ile gösterilen yeri doğru şekilde tamamlayan ifade hangisidir?

- A. arkadaşşıma anlatırım.
- B. kimseye söylemeden geçmesini beklerim.
- C. ailemle beraber doktora giderim.

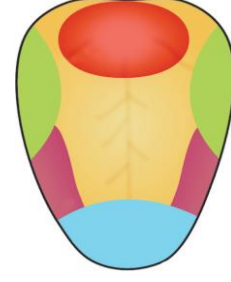
- I. Güneş ışığı
- II. Gürültülü ortamlar
- III. Sivri uçlu cisimler

12. Yukarıdakilerden hangileri kulak sağlığını olumsuz etkiler?

- A. I - II
- B. II - III
- C. I - III

13. Burun kanamasına doğru müdahale hangi seçenekte verilmiştir?

- A. Burun deliklerinin üst kısmını kuvvetlice sıktıktan sonra başımızı arkaya eğmeliyiz.
- B. Burun kemiklerinin üst kısmını kuvvetlice sıktıktan sonra başımızı öne eğmeliyiz.
- C. Burun deliklerinin üst kısmını hafifçe sıktıktan sonra başımızı ön ve arkaya eğmemeliyiz.



14. Dilimizin bölümlerinden mavi renkle gösterilen bölüm hangi tadı algılar?

- A. tatlı
- B. acı
- C. ekşi

- I. soğuk
- II. tatlı
- III. ekşi
- IV. asitli

15. Dil sağlığı açısından yukarıdakilerden hangileri olumsuz etki yapabilir?

- A. I-III
- B. II-IV
- C. I-IV

16. Aşağıdakilerden hangisi derimizin sağlığı için çok önemlidir?

- A. Dişlerimizi düzenli fırçalamak.
- B. Burun kıllarını koparmamak.
- C. Düzenli olarak banyo yapmak.

- Güneş'e çıplak gözle bakmak.
- Güneş altında uzun süre güneşlenmek.

17. Yukarıdakileri yapan bir kişinin hangi duyu organının olumsuz yönde etkilenmez?

- A. Göz
- B. Dil
- C. Deri

- I. Aşırı ışıpta kitap okumak.
- II. Soğuk havalarda bere takmak.
- III. Gürültülü ortamlardan uzak durmak.

18. Yukarıdakilerden hangileri kulak sağlığı için yapılması gerekenlerdir?

- A. I - II
- B. II - III
- C. I - III

Ad Soyad:.....
Sınıfı:.....
Numarası:.....



1. Aşağıdakilerden hangisini söyleyen biri hem güçlü yönlerinden hem de güçlendirmesi gereken yönlerinden bahsetmiş olur?

- A. Planlı çalışırım ve bu plana hep uyarım.
- B. Grup çalışmalarında çok uyumluyumdur.
- C. Çok iyi futbol oynarım ama arkadaşlarıma hiç pas atmam.

- I. Kardeşlerin ilgi alanları aynıdır.
- II. Güçsüz yönlerimizi geliştiremeyiz.
- III. Güçlü yönlerimizin fark edilip takdir edilmesi bizi daha başarılı yapar.
- IV. Herkesin güçlü ve zayıf yönleri vardır.

2. Yukarıdaki ifadelerden hangileri doğrudur?

- A. I ve II
- B. II ve III
- C. III ve IV

3. Aşağıdakilerden hangisi olumlu bir kişisel özelliktir?

- A. Paylaşımçı olma
- B. Cimrilik
- C. Kıskançlık

4. Aşağıdaki çocuklardan hangisinin davranışı olumludur?

- A. Hakan, oyun oynayan arkadaşlarının topunu alarak kaçırdı.
- B. Murat, parasını yere düşüren arkadaşını uyararak, parayı arkadaşına verdi.
- C. Melek, gözlük kullanmaya başlayan arkadaşıyla alay etti.

5. Arkadaşlık kuracağımız birinde hangi özelliğin olmasını istemeyiz?

- A. Adaletli olma
- B. Nazik olma
- C. Kırıcı olma

6. Arkadaşımızı seçerken öncelikli olarak hangisine dikkat etmemiz gerekir?

- A. Yakışıklı olmasına
- B. Güvenilir olmasına
- C. İyi futbol oynamasına



Aylin: Arkadaşlarımızın sırrını kimseye söylememeliyiz.



Mert: Arkadaşlarımıza lakap takmak eğlenceli olabilir.



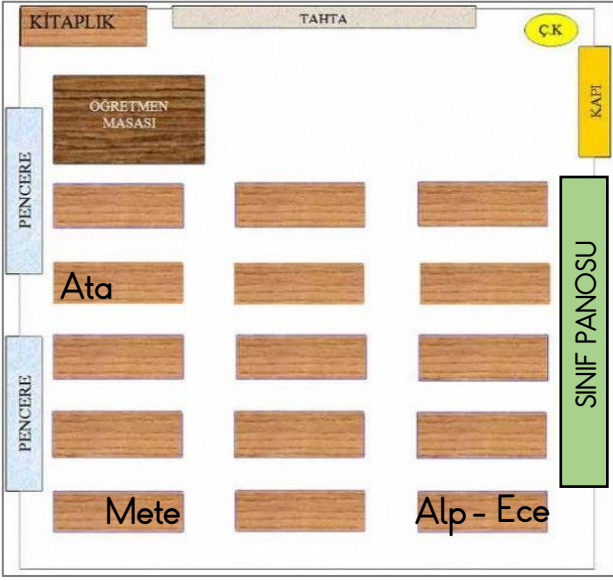
Nur: Hata yaptığımızda suçu arkadaşımıza atarak kurtuluruz.

7. Yukarıdaki öğrencilerden hangisinin söylediği doğrudur?

- A. Mert
- B. Aylin
- C. Nur

8. Aşağıdakilerden hangisi iyi bir arkadaşın özelliği olamaz?

- A. Sadece kendini düşünmesi
- B. Nazik ve anlayışlı olması
- C. Verdiği sözü tutması



(9, 10, 11. Soruları krokiye göre cevaplayalım.)

9. Krokiye göre Ata'nın yerini tam olarak nasıl tarif ederiz?

- A. Ata önden ikinci Sırada oturuyor.
- B. Ata öğretmen masasının karşısında ikinci sırada oturuyor.
- C. Ata öğretmen masasının karşısında ikinci sıranın pencere kenarında oturuyor.

10. Sınıf panosunun olduğu taraftaki en arka sıranın koridor kenarında hangi öğrenci oturuyor?

- A. Ece
- B. Alp
- C. Ata

11. Krokideki tüm sıralar dolu ise bu sınıfta kaç öğrenci vardır?

- A. 15
- B. 25
- C. 30

12. Aşağıdakilerden hangisi okul hayatının bize kattıklarından değildir?

- A. Büyüyüp gelişmemizi sağlar.
- B. Yeni bilgiler öğrenerek hayata hazırlanmamızı sağlar.
- C. Yeni insanlar tanıyarak çevremizin genişlemesini sağlar.

I. Okul sayesinde geleceğe hazır mutlu bir birey oluruz.

II. Okul evden uzaklaşmak için büyük bir fırsattır.

III. Okul paylaşmayı ve kardeşliği öğretir bize.

IV. Okulda Dalga geçmeyi ve lakap takmayı öğreniriz

13. Yukarıdakilerden hangilerini okul sayesinde ediniriz.

- A. I ve II
- B. I ve III
- C. I , II ve III

14. Okulda uygulamaya konulan sosyal faaliyetler için hangisi doğrudur?

- A. Katılacağım faaliyete kendim karar vermeliyim.
- B. Katılacağım faaliyete ailem karar vermelidir.
- C. Katılacağım faaliyete öğretmenim karar vermelidir.

I. Okul dışı boş zamanlarımızı olumlu değerlendiririz.

II. Bilgisayar bağımlılığımızı artırır.

15. Sosyal faaliyetler için söylenen ifadeler için hangisi doğrudur?

- A. I doğru, II yanlış
- B. I yanlış, II doğru
- C. İkisi de doğru