


Ad Soyad:.....  
Sınıfı:.....  
Numarası:.....



### BENEKLİ KUZU

Anne koyunun dört tane küçük kuzusu vardı. Bunlardan üç tanesi kar gibi bembeyazdı. Bir tanesinin ise siyah benekleri vardı. Koyun benekli kuzunun kirli olduğunu düşünüyordu.

Onu su ile yıkamaya karar verdi. Su ile yıkadı ama siyah benekleri çıkmadı. O zaman benekli kuzuyu dereye götürmeye karar verdi. Benekli kuzuyu dereye götürdü ve orada yıkadı. Ama yinede o benekler çıkmadı.

Bu sefer anne koyun kuzusunu çobanın yanına götürdü. Çoban kavalını çalıyordu. Anne koyun ile benekli kuzuyu görünce ayağa kalktı. Benekli kuzuyu kucağına aldı ve onu aman ne güzel kuzu diye öpmeye başladı.

Anne koyun kuzusunu benekleri ile sevmesini öğrenmişti. Benekli kuzuyu kardeşlerinin yanına götürdü ve hep beraber ot yemeye başladılar.

(İlk 4 soruyu metne göre cevaplayınız.)

1) Anne koyunun kaç kuzusu varmış?

- A) 3 B) 4 C) 5

2) Koyun neden benekli kuzuyu yıkamayı düşünmüş?

- A) Kirli olduğunu düşündüğü için  
B) Çok yaramazlık yaptığı için  
C) Kötü koktuğu için

3) Koyun en son benekli kuzuyu kime götürmüştü?

- A) Sahibine B) Muhtara C) Çobana

4) Okuduğunuz metnin başlığı kaç harften oluşmuştur?

- A) 11 B) 10 C) 9

5) K L .... N O ....

Yukarıdaki boş bırakılan yerlere sırasıyla hangi harfler gelmelidir?

- A) M-P B) Ö-P C) M-Ö

6) Hangi görselin adında daha çok harf vardır?




- A)  B)  C) 

7) lı pat can al

Yukarıdaki hecelerle bir sebze aldı oluşturduğumuzda, hangi hece kullanılmaz?

- A) can B) al C) pat

8) Görsellerden hangisinin adı sözlükte diğerlerinden sonra gelir?

- A)  B)  C) 

9)

**Efe:** Eşyaları çabucak taşımak için merdivenleri hızlıca inip çıkmaya başladı.  
**Aslı:** Genç adam, karşıya geçmek isteyen ihtiyara yardım etti.  
**Can:** Sınavdan yüksek not almak için çok çalıştım.

Hangi öğrencinin cümlesinde zıt anlamlı kelimeler birlikte kullanılmamıştır?

- A) Can       B) Aslı       C) Efe

10) Aşağıdaki sözcüklerden hangileri zıt anlamlı değildir?

- A) itmek - çekmek  
 B) ağır - hafif  
 C) gelmek - gelmemek

11) 'Sepet iri elmalarla doluydu.' cümlesinde altı çizili kelimenin zıt anlamlısı hangisidir?



- A) çok       B) ufak       C) az

12) olarak - aldı - pasta - babam - hediye

Yukarıdaki kelimelerle anlamlı ve kurallı bir cümle oluşturulmak isteniyor. Buna göre baştan üçüncü kelime hangisi olur?

- A) pasta       B) hediye       C) olarak

13) 'Öğretmen' kelimesinin eş anlamlısı aşağıdakilerden hangisidir?

- A) talebe       B) muallim       C) mektep

14)

kitap okumayı çok seviyorum.

Alper, öğretmenin söylediği cümleyi tahtaya yazarken bir yanlışlık yapmıştır. Bu yanlışlığın sebebi hangi seçenekte verilmiştir?

- A) Cümleye küçük harfle başlamıştır.  
 B) Cümlede eksik kelime vardır.  
 C) Yanlış noktalama işareti kullanmıştır.

15) Aşağıdaki cümlelerin hangisinde 'ak' kelimesinin eş anlamlısı vardır?

- A) Bayrağımızın rengi kırmızı beyazdır.  
 B) Atatürk düşmanı yurdumuzdan kovdu.  
 C) Pazartesi günü İstiklal Marş'ını okuduk.

16) 'Sabri şişman olduğu için çok yavaş koşuyordu.' cümlesinde altı çizili kelimelerin zıt anlamlıları hangi seçenekte verilmiştir?

- A) iri - hafif  
 B) zayıf - hızlı  
 C) ağır - hafif

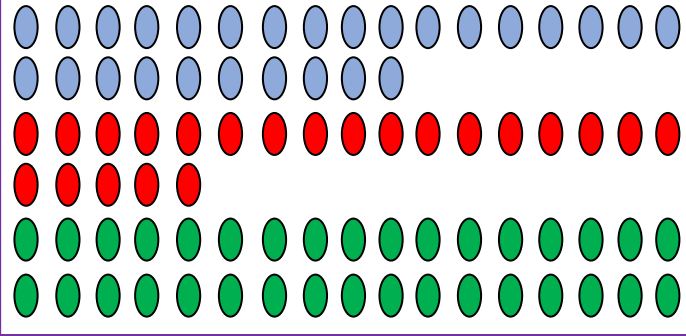


17) Aşağıda bulunan kutulardaki kelimelerle kurallı bir cümle oluşturulmak istense en sonda hangi renk kutu yer alır?



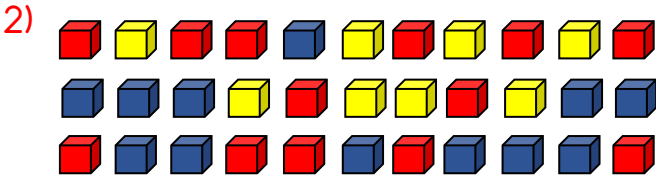
- A) Mavi       B) Sarı       C) Yeşil

Ad Soyad:.....  
Sınıfı:.....  
Numarası:.....



1) Yukarıdaki boncukların sayıları ile ilgili hangisi yanlıştır?

- A) Kutuda 27 mavi boncuk vardır.  
B) Kutuda 22 kırmızı boncuk vardır.  
C) Kutuda 32 yeşil boncuk vardır.



Yukarıda sarı olmayan kaç küp vardır?

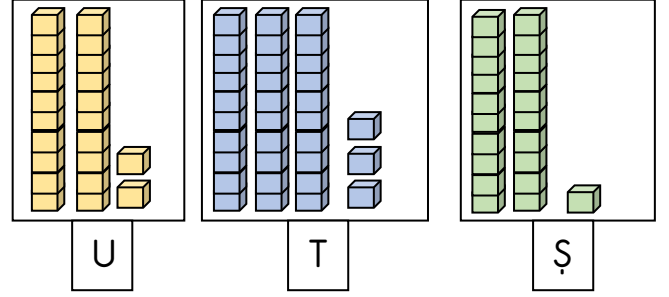
- A) 8 B) 25 C) 33

3) Okunuşu 76 olan sayı ile ilgili aşağıdakilerden hangisi doğrudur?

- A) 7 onluk 6 birlikten oluşur.  
B) 6 onluk 6 birlikten oluşur.  
C) 6 onluk 7 birlikten oluşur.

4) 8 birlik ve 3 onluktan oluşan sayıdan bir sonra gelen sayı hangisidir?

- A) 83 B) 38 C) 39



5) Yukarıdaki onluk taban bloklarıyla modellenen sayıları büyükten küçüğe sıralarsak hangi sözcük oluşur?

- A) ŞUT B) TUŞ C) UTŞ

6) Aşağıdaki sayılardan hangisinin onluk ve birlikleri doğru gösterilmiştir?

- A)  $23 = 2 \text{ birlik} + 3 \text{ onluk}$   
B)  $90 = 9 \text{ onluk} + 9 \text{ birlik}$   
C)  $86 = 8 \text{ onluk} + 6 \text{ birlik}$

7) Selçuk matematik dersinde 2 düzine soru çözmüştür. Buna göre Selçuk toplam kaç soru çözmüştür?

- A) 24 B) 22 C) 20

8) Nesne gruplarından hangisinin sayısı bir desteden azdır?

- A) B) C)

9) 58 sayısındaki rakamların basamak değerleri hangi seçenekte doğru olarak verilmiştir?

- A) 58      B) 58      C) 58
- ↳ 8      ↳ 8      ↳ 80
- ↳ 5      ↳ 50      ↳ 50

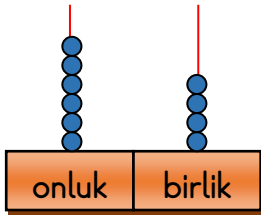
Benim forma numaram iki basamaklı bir sayı. 7 tane birliği var. Onlar basamağındaki rakamın basamak değeri 80'dir.



10) Mert'in forma numarası kaçtır?

- A) 78      B) 88      C) 87

11)



Yukarıda modelle gösterilen sayının onlar basamağının basamak değerini 10 artırmak için sayıya en az kaç birlik eklemek gerekir?

- A) 6      B) 5      C) 4

12) 48'den başlayıp ileriye doğru ikişer ritmik sayma yaparken söylenen altıncı sayı kaçtır?

- A) 56      B) 58      C) 60

13) 75'den başlayıp geriye doğru beşer ritmik sayarken 4. sırada hangi sayıyı söyleriz?

- A) 65      B) 60      C) 55

14) 38'den başlayarak geriye dörder ritmik sayma yaptığımızda hangi sayıyı söyleyemeyiz?

- A) 30      B) 26      C) 24

15) Sibel'in kalemlerinin sayısı 30 ile 47 arasındadır. Sibel 20'den başlayıp beşer ritmik sayma yaptığında kalemlerinin sayısını söylüyor. Sibel'in kalemlerinin sayısı hangisi olamaz?

- A) 35      B) 40      C) 50



Yukarıdaki örüntüde '?' yerine hangi sayı yazılmalıdır?

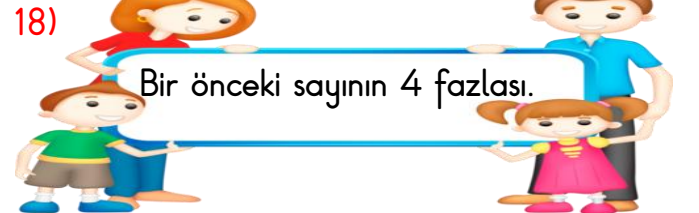
- A) 17      B) 15      C) 13

17) 

9	12	15	17	21	24
---	----	----	----	----	----

Verilen örüntüde kuralı bozan sayı hangisidir?

- A) 12      B) 15      C) 17



Yukarıda verilen kurala göre oluşturulan örüntü hangisi olabilir?

- A) 10 - 16 - 22 - 28 - 34  
B) 15 - 19 - 23 - 27 - 31  
C) 32 - 28 - 24 - 20 - 16

Ad Soyad:.....  
Sınıfı:.....  
Numarası:.....

1) 'Merhaba, ben Hakan. Boyum biraz uzundur. Saçlarım düz ve sarı renktedir. Gözlerim siyahtır ve biraz büyüktür. Annem benim zayıf bir çocuk olduğumu söyler.'



Hakan, arkadaşına hangi özelliklerinden bahsetmiştir?

- A) Fiziksel özelliklerinden  
 B) Kişisel ilgi alanlarından  
 C) Yeteneklerinden

2) Görsele göre Aslı ile ilgili aşağıdakilerden hangisi söylenemez?



- A) Beyaz tenlidir.  
 B) Resim yapmayı çok sever.  
 C) Sarışın uzun boyludur.

3) Mesut: Türkçe sınavından yüksek not aldığım için çok mutluyum.

Ceren: Büyüyünce öğretmen olmak en büyük hayalim.

Burak: Okulda temizlik kurallarına mutlaka uymamız gerekiyor.

Yukarıdaki öğrencilerden hangisi isteklerinden bahsetmiştir?

- A) Burak B) Mesut  C) Ceren

4) Aşağıdakilerden hangisi uzağı ya da yakını göremeyen arkadaşımızın kullandığı bir cihazdır?



5) Aşağıdaki ifadelerden hangisi yanlıştır?

- A) Fiziksel özelliği farklı olan arkadaşlarımızla alay etmemeliyiz.  
 B) Sadece boyumuzun ve kilomuzun aynı olduğu kişilerle arkadaşlık etmeliyiz.  
 C) Bireysel farklılıklarımız bizi değerli kılar.

6) Aşağıdaki verilenlerden hangisi doğrudur?

- A) Her insanın bireysel özellikleri farklıdır.  
 B) Kardeşlerin her zaman fiziksel özellikleri aynı olur.  
 C) İkiz olanların kişilik özellikleri de aynı olur.

7)



Yukarıdaki görselde bulunan ders araç gereci aşağıdaki derslerden hangisiyle ilgilidir?

- A) Beden Eğitimi B) Matematik  
 C) Görsel Sanatlar

	PAZARTESİ	SALI	ÇARŞAMBA	PERŞEMBE	CUMA
1. Ders 08:30-09:00	Hayat Bilgisi	Hayat Bilgisi	İngilizce	Hayat Bilgisi	Hayat Bilgisi
2. Ders 09:10-09:40	Matematik	Matematik	İngilizce	Matematik	Matematik
3. Ders 09:50-10:20	Türkçe	Türkçe	Matematik	Türkçe	Türkçe
4. Ders 10:30-11:00	Türkçe	Türkçe	Türkçe	Türkçe	Türkçe
5. Ders 11:10-11:40	Müzik	Serbest Etkinlik	Türkçe	Serbest Etkinlik	Görsel Sanatlar
6. Ders 11:50-12:20	Beden Eğitimi ve Oyun	Beden Eğitimi ve Oyun	Beden Eğitimi ve Oyun	Beden Eğitimi ve Oyun	Beden Eğitimi ve Oyun

(8 ve 9. soruları yukarıdaki programa göre cevaplayınız.)

8) Emre Pazartesi okula giderken çantasına hangi okul araç gerecini koyarsa çantasında boş yere ağırlık yapmış olur?



9) Emre'nin Perşembe günü hangi okul araç gerecini götürmesine gerek yoktur?



10) Aşağıdaki davranışlardan hangisi birlikte oynama kurallarına uygun davranış değildir?

- A) Nasıl yendik ama sizi, beceriksizler.  
B) Eğer sakıncası yoksa bende sizinle beraber oynayabilir miyim?  
C) Tebrik ederim. İyi oynayıp kazandınız.

11) 'Bir yerin yukarıdan kuş bakışı görünüşünün küçültülerek kağıt üzerine çizilmesine ..... denir.'

Yukarıdaki cümledeki noktalı yere aşağıdakilerden hangisi getirilmelidir?

- A) Plan B) Harita C) Kroki



(12.-13.-14. soruları yukarıdaki krokiye göre cevaplayınız.)

12) 'Ece'nin evi .....'nin karşısındadır.' Yukarıdaki boşluğa hangisi gelmelidir?

- A) Okul B) Park C) Eczane

13) Ece evinden çıkıp okula gidiyor. Buna göre Ece hangi sokak veya caddeyi kullanmaz?

- A) Yavuz Selim Caddesi  
B) Kadife Sokak  
C) Gül Sokak

14) Aşağıdaki ifadelerden hangisi yanlıştır?

- A) Hastane Yel Sokakta bulunmaktadır.  
B) Eczaneye gitmek isteyen Ece sadece Yavuz Selim Caddesini kullanabilir.  
C) Park caminin karşısındadır.