



## GÜZEL EVİMİZ

Benim adım Mehmet, bizim evimiz çok güzeldir. Neden diye soracak olursanız açıklayayım. Evimiz iki katlı bir evdir. Biz evin ikinci katında oturuyoruz. Birinci katta kiracılarımız var. Kocasını hastanede doktor. Çok iyi insanlar.

Evimizin 3 odası var. Birisi kardeşim Fatih ile benim odam. Odamızda eşyalarımız için bir dolap, yataklarımız ve çalışma masamız var. Biz odamızı sürekli temizler ve düzenli tutarız.

Evimizin bahçesi de çok güzeldir. Bahçede renk renk çiçekler var. Annem komşularımızdan hep çiçek tohumu alır ve eker. Babam ağaç fidanlarını getirir ve onları eker. Kısacası bizim evimiz çok güzeldir.

❖ Metni dikkatlice okuyup, soruları cevaplayalım.

1. Okuduğunuz metnin konusu nedir?

---

---

2. Çocukların odasında neler varmış?

---

---

3. Mehmetlerin komşusu ne iş yapıyormuş?

---

---

4. Mehmetlerin evinin özellikleri nelerdir?

---

---

❖ Aşağıda verilen kelimelerin eş anlamlılarını bularak bir cümle içinde kullanalım.



mektep

hasret

zaman

ırmak

ak

.....

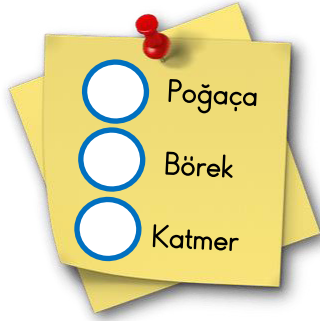
.....

.....

.....

.....

❖ Aşağıda verilen kelimeleri sözlük sırasına göre numaralandıralım



❖ Aşağıdaki soruların doğru cevaplarını işaretleyelim.

1) Aşağıdakilerden hangisi tek heceli bir sözcüktür?

- A) kasa B) park C) etek

2) "Akşam yatmadan önce ellerini ( ) yüzünü yıkadın mı ( )." cümlesinde sırasıyla hangi noktalama işaretleri kullanılmalıdır?

- A) ( , ) ( ! ) B) ( ! ) ( ? ) C) ( , ) ( ? )

3) Aşağıdaki kelimelerden hangisi hecelerine yanlış ayrılmıştır?

- A) kü - tüp - ha - ne B) mer - ci - mek  
C) bil - gi - say - ar

4) Aşağıdaki cümlelerden hangisinin sonuna soru işareti konulmalıdır?

- A) Ödevlerimi çabucak bitirdim  
B) Bu akşam erken yatacağım  
C) Yatarken dişlerini fırçaladın mı

5) "anneciğim" kelimesindeki ünsüz (sessiz) harfler hangileridir?

- A) n - n - c - ğ - m B) a - e - n  
C) a - e - i - l

6) Aşağıdakilerden hangisi sözlükte ilk önce gelir?

- A) demir B) çikolata C) elektrik

A) Aşağıda verilen sayılara göre boşlukları dolduralım.

	BASAMAK ADI	BASAMAK DEĞERİ
45	_____	_____
73	_____	_____
96	_____	_____



B) Aşağıdaki abaküslerde modellenen sayıları altlarına yazalım.

ONLUK	BİRLİK	ONLUK	BİRLİK
_____	_____	_____	_____
_____	_____	_____	_____

C) Aşağıda verilen onluk ve birlik bloklarla modellenmiş doğal sayıları yazalım.

ONLUK	BİRLİK	ONLUK	BİRLİK
_____	_____	_____	_____
SAYI :	SAYI :	SAYI :	SAYI :

D) Aşağıda verilen ritmik saymaları tamamlayalım.



❖ Aşağıdaki kurbağacık 1. Kutudan başlayarak altında yazan bilgiye göre zıplayacak. Boş kalan kutuları tamamlayarak ona yardımcı olalım.



4'er

4		12				28			
---	--	----	--	--	--	----	--	--	--



5'er

5				25					
---	--	--	--	----	--	--	--	--	--



10'ar

10					60				
----	--	--	--	--	----	--	--	--	--

❖ Aşağıdaki sayı örüntüsünün kuralını örnekteki gibi bulalım. Örüntüyü 4 kutu da biz ilerletelim.

15'ten başlayıp 3'er artıyor

15	18	21	24	27	30	33	36	39	42
----	----	----	----	----	----	----	----	----	----

.....

40	36	32	28	24	20				
----	----	----	----	----	----	--	--	--	--

.....

21	23	25	27	29	31				
----	----	----	----	----	----	--	--	--	--

.....

35	40	45	50	55	60				
----	----	----	----	----	----	--	--	--	--



## 2-A SINIFI HAFTALIK DERS PROGRAMI

PAZARTESİ	SALI	ÇARŞAMBA	PERŞEMBE	CUMA
HAYAT BİLGİSİ	HAYAT BİLGİSİ	HAYAT BİLGİSİ	HAYAT BİLGİSİ	TÜRKÇE
MATEMATİK	TÜRKÇE	TÜRKÇE	MATEMATİK	TÜRKÇE
TÜRKÇE	TÜRKÇE	TÜRKÇE	TÜRKÇE	MATEMATİK
TÜRKÇE	GÖRSEL SANATLAR	MATEMATİK	TÜRKÇE	İNGİLİZCE
SERBEST ETKİNLİKLER	MATEMATİK	SERBEST ETKİNLİKLER	MÜZİK	İNGİLİZCE
BEDEN EĞİTİMİ VE OYUN	BEDEN EĞİTİMİ VE OYUN	BEDEN EĞİTİMİ VE OYUN	BEDEN EĞİTİMİ VE OYUN	BEDEN EĞİTİMİ VE OYUN

A) Aşağıdaki soruları ders programına göre cevaplayalım.

1- Çarşamba günü için çantanıza hangi malzemeleri koymalısınız?

.....

2- Hayat Bilgisi kitabını hangi günler okula götürmelisin?

.....

3- İngilizce dersi hangi gündür?

.....

4- Resim defteri, boyalar hangi gün çantanızda bulunmalıdır?

.....

5- Serbest etkinlikler dersi hangi günlerdedir?

.....

B) Aşağıdaki resimlerden okul malzemesi olanların kutularını işaretleyelim.

