

Ad Soyad:.....
Sınıfı:.....
Numarası:.....



CUMHURİYET

Aydınlatan yolumu
Sensin ey Cumhuriyet
Güçlendiren kolumu
Sensin ey Cumhuriyet

Atatürk'ten armağan
Bize bu cennet vatan
Sonsuza dek yaşayan
Sensin ey Cumhuriyet

❖ İlk iki soruyu şiire göre cevaplayınız.


1) Şiire göre yolumuzu aydınlatan nedir?

- A) Sokak lambası
B) Cumhuriyet
C) Bayrak

2) Cumhuriyeti bize kim armağan etmiştir?

- A) Dedelerimiz
B) Askerler
C) Atatürk

3) Aşağıdaki görsellerden hangisinin adında daha fazla ünlü harf vardır?



4)

- Alfabenin 8. harfiyim.
- Kelimelerin başında bulunmam.
- Türkçede bulunan bir harf değilim.



Yukarıdaki harfin bazı özellikleri verilmiştir.
Bunlardan kaç tanesi yanlıştır?

- A) 1 B) 2 C) 3



Düşündüren Soru

5) Öğretmeni Sibel'in ödevlerde bazı kelimeleri yanlış yazdığını gördü.

Sibel, yaptığın yazım yanlışlarını
.....
kullanarak düzeltebilirsin.



Öğretmeni Sibel'in hatalarını düzeltmesi için ona hangi kaynağı kullanmasını söylemiştir?

- A) Türkçe Sözlük
B) Yazım kılavuzu
C) Türkçe Ders Kitabı

6)



Yukarıdaki kelime taşıyan kamyonlardan hangisinin taşıdığı kelimenin zıt anlamı yoktur?



7) Aşağıdaki cümlelerden hangisinin sonuna diğerlerinden farklı bir noktalama işareti konulması gerekiyor?

- A) Annem pazardan geldi mi
 B) Babam geldi mi diye baktım
 C) Ne zaman okula gideceğim

8) **dersinde** **resim** **vazo** **çizdik**

Yukarıdaki kelimelerle anlamlı bir cümle oluşturulacaktır. Buna göre baştan üçüncü kelime hangisi olur?

- A) dersinde B) çizdik C) vazod

9) 'zayıf-cılız' kelimeleri arasındaki ilişki aşağıdaki kelime gruplarından hangisinde vardır?

- A) Siyah - Beyaz
 B) Kısa - Uzun
 C) Öğrenci - Talebe

10) Yandaki tabelada verilen kelimeler arasındaki ilişki aşağıdaki cümlelerden hangisinde bir arada kullanılmıştır?



- A) Sınavdan yüksek not alabilmek için gece gündüz çalıştı.
 B) Çok yaramazlık yaptığı için annesi kızdı.
 C) Sınıf arkadaşları gelince oynamak için bahçeye çıktılar.

11) 'Dilimizde bazı kelimelerin tek başına anlamı yoktur, ancak cümle içinde anlam kazanabilirler.'

Yukarıdaki bilgiye göre hangi cümlede tek başına anlamı olmayan kelime vardır?

- A) Yeni aldığın elbise çok güzelmiş.
 B) Annem gelene kadar sizinle kalacağım.
 C) Öğretmenimiz yarın sınav yapacak.



Düşündüren Soru

12)



Emre, doğum günü partisinde kendisine getirilen hediyeleri arkadaşlarının isimlerini alfabetik sıraya koyarak açacaktır.

Buna göre Emre en son hangi arkadaşının ona getirdiği hediye paketini açar?

- A) Merve B) Pınar C) Osman

13) Aşağıdaki verilen cümlelerin hangisinde yazım yanlışı yapılmıştır?

- A) Teyzemler de tatilde bizimle beraber köye geleceklermi?
B) Babam Bursa'dan kestane şekeri getirdi.
C) Kedimiz Tekir çok yaramazlık yapıyor.

14)



Yukarıda verilen hecelerle aşağıdaki kelimelerden hangisini oluşturamayız?

- A) bilge B) bilgisayar C) bilgi

15) bil-gi-sa-yar

te-le-viz-yon

öğr-et-men

Yukarıda verilen kelimelerden hangisi hecelerine yanlış ayrılmıştır?

- A) B) C)

16) 'Türkçede bazı kelimelerin tek başına anlamı yoktur. Bu kelimeler cümle içinde anlam kazanırlar.'

Buna göre aşağıdaki kelimelerden kaç tanesinin tek başına anlamı yoktur?



- A) 5 B) 4 C) 3

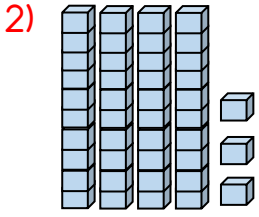


Türkçe dersi sınavı bitti.

Matematik dersine geçiniz.

1) Yukarıda verilen tablodaki kutulardan kaç tanesi boyanmamıştır?

- A) 40 **B) 41** C) 42



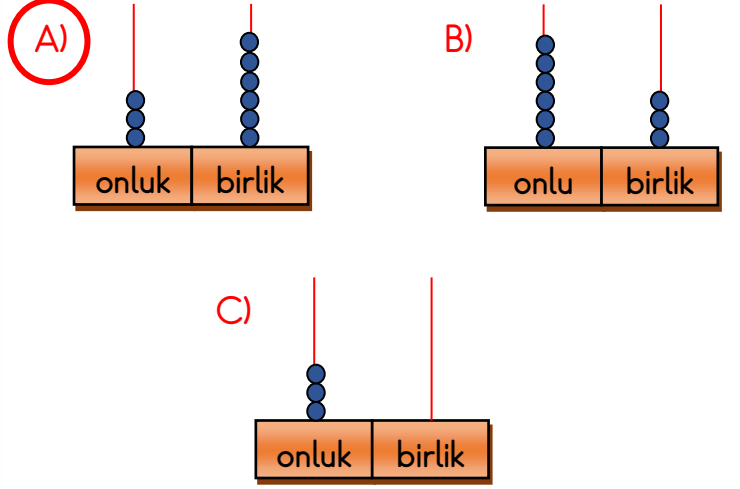
Yanda modelle gösterilen sayı aşağıdakilerden hangisidir?

- A) 4 birlik + 3 onluk
 B) 4 onluk + 4 birlik
C) 3 birlik + 4 onluk

3) Aşağıdaki sayılardan hangisinin onluk ve birlikleri yanlış gösterilmiştir?

- A) $96 = 6 \text{ birlik} + 9 \text{ onluk}$
 B) $27 = 2 \text{ onluk} + 7 \text{ birlik}$
C) $53 = 3 \text{ onluk} + 5 \text{ birlik}$

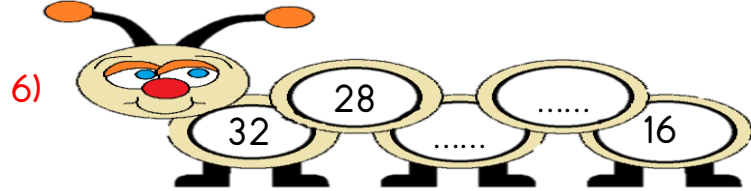
4) Aşağıdaki modellenen sayılardan hangisi 3 düzineye eşittir?



5) 76 sayısındaki rakamların basamak değerleri hangi seçenekte doğru olarak verilmiştir?

- A) $76 \rightarrow \begin{matrix} 6 \\ 70 \end{matrix}$ B) $76 \rightarrow \begin{matrix} 6 \\ 7 \end{matrix}$ C) $76 \rightarrow \begin{matrix} 60 \\ 70 \end{matrix}$

6) Yukarıdaki tırtlı geriye doğru dörder ritmik sayma yapacak. Sevimli tırtlı aşağıdaki sayılardan hangisini söylemez?



- A) 24 **B) 22** C) 20

www.ilkokulluYum.com



Düşündüren Soru

7)



1	2	3	4	5	6	7	8	9	10
11	12	13	14	15	16	17	18	19	20
21	22	23	24	25	26	27	28	29	30

Ceyda önündeki sayı tablosuna bakarak 4'ten başlayarak 30'a kadar 2'şer ritmik sayma yapacak.

Ceyda bu ritmik saymada söylediği sayıları kesip matematik defterine yapıştıracak.

Buna göre Ceyda'nın matematik defterine kaç tane sayı yapıştırması gerekir?

- A) 14 B) 15 C) 16

8)

7	10	13	16	19	22	25	28
---	----	----	----	----	----	----	----

Yukarıda verilen örüntünün kuralı nedir?

- A) 3'er azalan ritmik sayma
B) 4'er artan ritmik sayma
C) 3'er artan ritmik sayma

9)

1	2	3	4	5
6	7	8	9	10
11	12	13	14	15
16	17	18	19	20
21	22	23	24	25

Boyalı kutuların örüntü oluşturabilmesi için hangi sayının boyanması gerekir?

- A) 4 B) 5 C) 6

10)



Yukarıdaki sayıları büyükten küçüğe sıraladığımızda hangi kelime oluşur?

- A) LOKU B) KOLU C) OKUL

11) Aşağıdakilerden hangisi doğrudur?

- A) 72'den önce gelen ilk sayı 71'dir.
B) 68'den sonra gelen ilk sayı 67'dir.
C) 59'den önce gelen ilk sayı 60'dir.

www.ilkokulluYum.com



Düşündüren Soru

12) Barlas ile babası birlikte futbol maçı izlemeye gitmişler. Stadyuma girebilmek için babası bilet kuyruğuna geçmiş.



Barlas'ın babası sıranın en sonundadır. Barlas bilet sırasında sınıf öğretmenin 17. sırada olduğunu görmüş. Aralarında 4 kişi olduğunu saymış.

Öğretmeni gişeye daha yakın olduğuna göre bilet sırasında toplam kaç kişi varmış?

- A) 22 B) 21 C) 17

13) Aşağıdakilerden hangisi yanlıştır?

- A) Asansörle apartmana çıkarken 7. kattan önce 6. kat vardır.
 B) Soru çözerken 13. Sorudan sonra 14. Soru gelir.
 C) Kantinde sırasında 8. ile 10. öğrenciler arasında 11. öğrenci vardır.

14)

$$33 - 34 - 38 - 41 - 44$$

Yukarıdaki sayılardan kaç tanesi 40'a yuvarlanır?

- A) 2 B) 3 C) 4

15) 30'a yuvarlanan en küçük ve en büyük doğal sayıların toplamı kaçtır?

- A) 59 B) 25 C) 34

16)

$$\begin{array}{r} 25 \\ + 54 \\ \hline \end{array}$$

$$\begin{array}{r} 46 \\ + 33 \\ \hline \end{array}$$

$$\begin{array}{r} 52 \\ + 15 \\ \hline \end{array}$$

Yukarıdaki toplama işlemlerinden hangisinin sonucu diğerlerinden farklıdır?

- A) ★ B) ★ C) ★



Matematik dersi sınavı bitti.
 Hayat Bilgisi dersine geçiniz.

1) Hakan bu sene 2. sınıfa başladı. Şimdi onu biraz tanıyalım. Hakan mavi gözlü, kahverengi saçlı, beyaz tenli, uzun boylu ve biraz kilolu bir çocuktur.



Yukarıda Hakan'ın hangi özelliklerinden bahsedilmiştir?

- A) Yeteneklerinden
- B) İlgi alanlarından
- C) Fiziksel özelliklerinden


2) Aşağıdakilerden hangisi kişisel özelliğimiz değildir?

- A) Yardımsever olmak.
- B) Anlayışlı olmak.
- C) Uzun boylu olmak.

3) Aşağıdaki ifadelerden hangisi doğrudur?

- A) Fiziksel özelliği farklı olan kişilerle dalga geçebiliriz.
- B) Bireysel farklılıklar toplumun zenginliğidir.
- C) Bizimle aynı istek ve yeteneklere sahip olmayan kişilerle arkadaşlık yapmamalıyız.

4)



Yukarıda verilen görseldeki ders araç gerecini hangi derste kullanırız?

- A) Matematik
- B) Türkçe
- C) Müzik



Düşündüren Soru

5)

Türk. Öğün, Çalış, Güven.					
	PAZARTESİ	SALI	ÇARŞAMBA	PERŞEMBE	CUMA
1. Ders 08:20-09:00	Hayat Bilgisi	Hayat Bilgisi	İngilizce	Hayat Bilgisi	Hayat Bilgisi
2. Ders 09:10-09:40	Matematik	Matematik	İngilizce	Matematik	Matematik
3. Ders 09:50-10:20	Türkçe	Türkçe	Matematik	Türkçe	Türkçe
4. Ders 10:30-11:00	Türkçe	Türkçe	Türkçe	Türkçe	Türkçe
5. Ders 11:10-11:40	Müzik	Serbest Etkinlik	Türkçe	Serbest Etkinlik	Görsel Sanatlar
6. Ders 11:50-12:20	Beden Eğitimi ve Oyun	Beden Eğitimi ve Oyun	Beden Eğitimi ve Oyun	Beden Eğitimi ve Oyun	Beden Eğitimi ve Oyun

Yunus çarşamba günü geç uyandığı için okul çantasını aceleyle hazırlayıp servise bindi. Okula geldiğinde o gün kullanacağı ders araç gereçlerden birini evde unuttuğunu fark etti. Bu araç gereç yanında olmadığı için o gün arkadaşlarından geri kaldı.

Acaba Yunus çarşamba günü hangi ders araç gerecini evde unutmuş olabilir?

A)



B)



C)



6) Aşağıdakilerden hangisinde öğrenciler sınıf kurallarına uygun bir davranış sergilememektedir?

A)



B)



C)



7)



CAN:.....

MERT: Tabi sen de bizimle oynayabilirsin.



Yukarıdaki konuşmada Can, Mert'e ne söylemiş olabilir?

A) Ben de sizinle oynayabilir miyim?

B) Beni oyuna almazsanız topunuzu patlatırım.

C) Sen oyundan çık ben tek başıma oynayacağım.

Bizim Manav

Cami

Gül Sokak

Atatürk İlkokulu

Zafer Sokak

Ece'nin Evi

Duru Eczanesi

Cumhuriyet Parkı

Zübeyde Hanım Sağlık Ocağı

Yıldız Caddesi

Yıldız Sokak

❖ 8. ve 9. soruları yukarıdaki krokiye göre cevaplayınız.

8) Atatürk İlkokulu hangi sokakların arasında bulunmaktadır?

A) Yıldız Sokak - Zafer Sokak

B) Gül Sokak - Zafer Sokak

C) Yıldız Sokak - Gül Sokak

9) Ece evden çıkıp manava sebze almaya gidecek.

Ece'nin manava gidip gelmesi için hangi sokağı kullanmasına gerek yoktur?

A) Yıldız Caddesi

B) Gül Sokak

C) Yıldız Sokak



www.ilkokulluyum.com

10)



Canan okulda tuvaletten çıkınca muslukların hepsinin açık olduğunu görmüş ve tek tek hepsini kapatmış. Onu gören öğretmeni davranışından dolayı Canan'ı tebrik etmiş.

Canan okuldaki hangi doğal kaynağın gereksiz yere kullanılmasını önlemiştir?

A) Doğalgaz

B) Elektrik

C) Su

11) Aşağıdakilerden hangisi okul ve sınıf eşyalarını özensiz kullanan birinin yapacağı bir davranıştır?

A) Yeterli gün ışığı varken sınıfın ışıklarını kapatmak.

B) Sıraların üzerini kalemiyle çizmek.

C) Tahta kalemiyle veya tebeşirle tahtayı karalamamak.

12)

- Grup çalışmaları yapmak sorumluluk duygusunu geliştirir.
- Grup çalışmalarında bencil olmak önemlidir.
- Grup ile çalışırken grup başarısı değil, bizim başarımız daha önemlidir.
- Grup çalışmalarında iş bölümü önemlidir.

Yukarıda grup çalışmaları ile ilgili verilenlerden kaç tanesi doğrudur?

A) 2

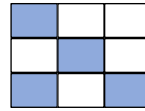
B) 3

C) 4

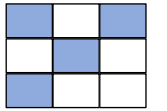
Öfke	Adalet	Saygı
Bencillik	Nezaket	Sevgi
Sabır	Kabalık	Kıskançlık

13) Yukarıdaki tabloda verilen duygu ve davranışlardan grup çalışmalarını olumsuz etkileyenler boyanacaktır. Boyamadan sonra aşağıdaki tablolardan hangisi oluşur?

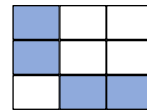
A)



B)



C)



www.ilkokulluyum.com



Hayat Bilgisi dersi sınavı bitti.

İngilizce dersine geçiniz.

1)



This is a doctor.

Şeyma'nın söylediği meslek hangi görselde verilmiştir?

A)



B)



C)



2)

'What is this?'



A) Radio

B) Ballon

C) Astronout

3) Alfabemizden farklı olarak hangi harfler İngiliz alfabesinde bulunmaktadır?

A) Q - Ğ - W

B) X - W - Z

C) Q - W - X

4) Hangi eşleştirmede yanlış yapılmıştır?

A)



Ballon

B)



Train

C)



Ambulance

5) Ece : Hello!

Can: Hi!

Ece : What is your name?

Can: My is Can.

Yukarıdaki boşluğu hangisiyle doldurursak cümle doğru olur?

A) this

B) name

C) tennis



Deneme Sınavınız bitti.

Cevapları kontrol ediniz.