

Ad Soyad:.....
Sınıfı:.....
Numarası:.....



TİLKI VE ÜZÜMLER

Açlık ve susuzluktan halsiz düşmüş bir tilki bir üzüm bağına daldı. Güneşin olgunlaştırdığı üzümler ağzını sulandırıyor. Ne var ki, asmalardaki salkımlar da onun yetişemeyeceği kadar yüksekte idiler. Tilki sıçradı ama başaramadı. Bir daha denedi, yine erişemedi. Üçüncü denemesi de netice vermeyince, kendi kendine mırıldandı: *“Zaten o üzümleri yemek istememiştim ki. Hem ben onların ağza konamayacak kadar ekşi olduklarını da biliyorum.”*

EZOP MASALLARI

A) Aşağıdaki soruları metni iyice okuyup anladıktan sonra cevaplayalım

SORU 1: Üzümleri yemeyi kim istemiş?

.....

SORU 2: Tilki üzüm bağına niçin girmiş?

.....

SORU 3: Tilki üzümleri yemekten ne zaman vazgeçti?

.....

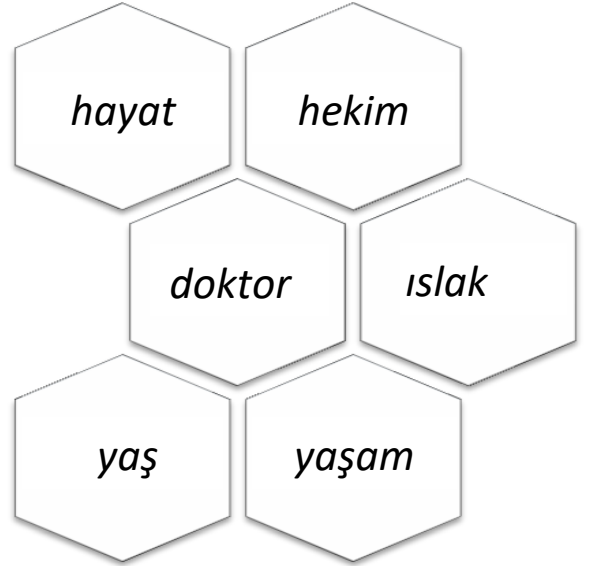
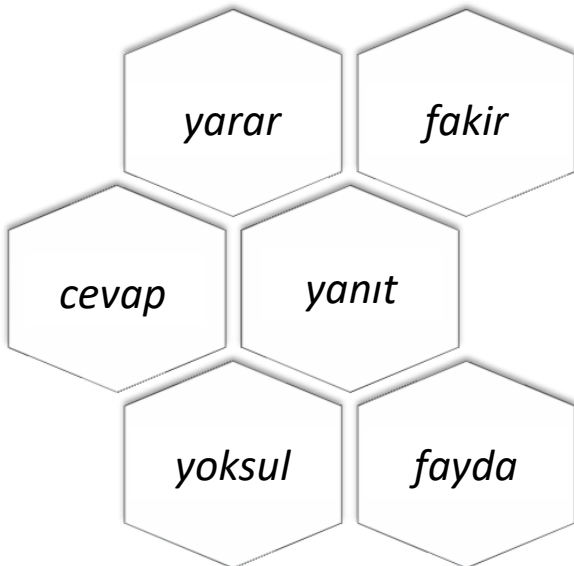
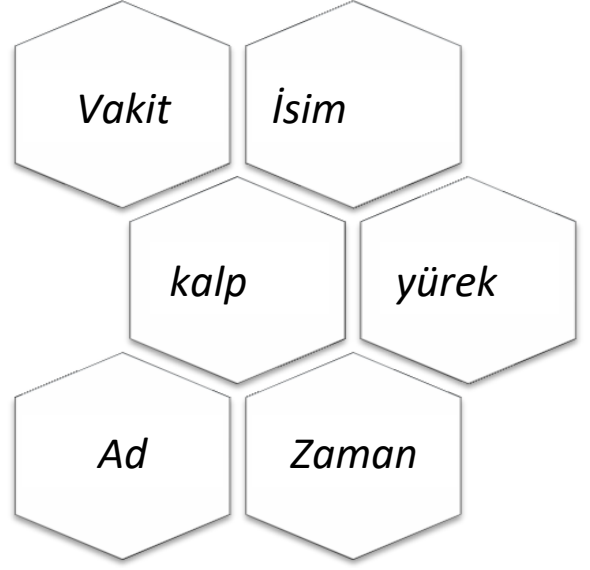
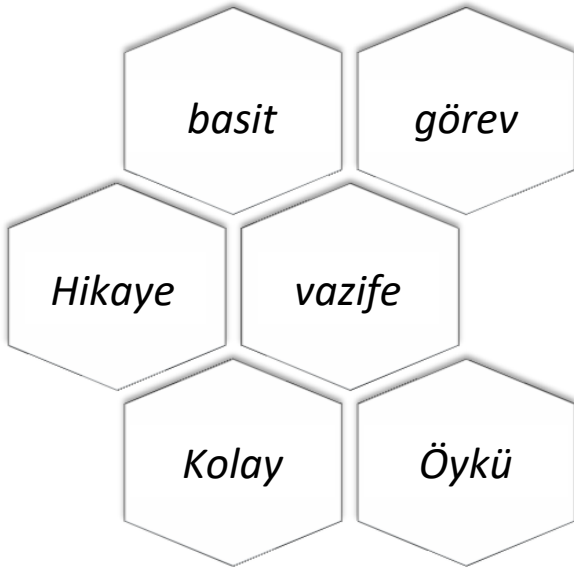
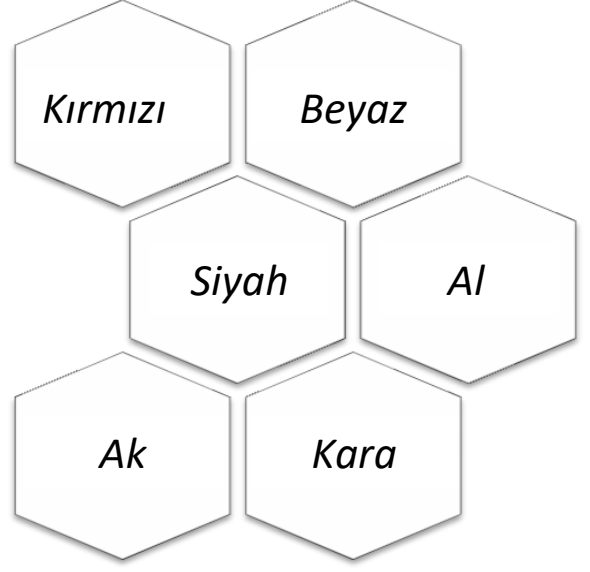
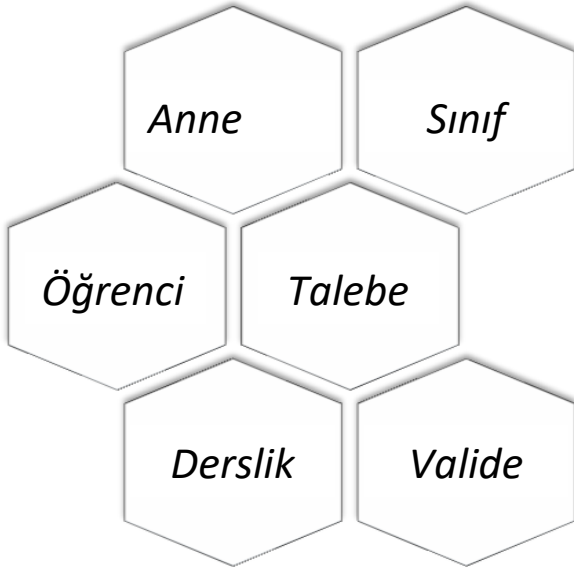
SORU 4: Güneşin olgunlaştırdığı şey ne?

.....

SORU 5: Tilki nereye girdi?


.....

B) Aşağıda verilen kelime gruplarında eş anlamlı olanları aynı renge boyayalım.

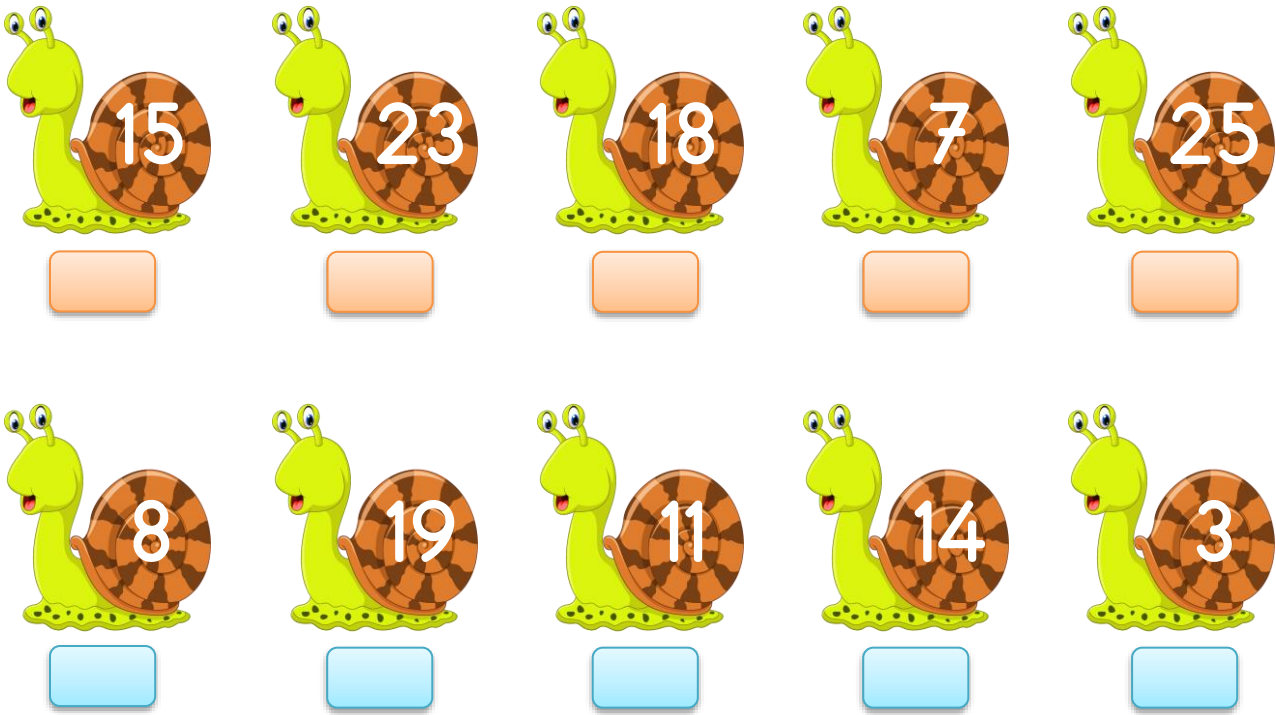


SIRALAMA

A) Aşağıdaki canlıları büyükten küçüğe doğru numaralandırarak sıralayalım.






B) Aşağıda verilen sayıları alttaki kutulara büyükten küçüğe doğru sıralayarak yazalım.



B) Aşağıda verilen sayıları alttaki kutulara küçükten büyüğe doğru sıralayarak yazalım.



VERİ TOPLAMA VE DEĞERLENDİRME

HAYVAN ADI	HAYVAN SAYISI
At	
Koyun	
Tavuk	

Yukarıdaki tabloda bir çiftlikteki hayvan sayısı verilmiştir.

**Her şekil 1 hayvanı gösterir.

A) Aşağıda verilen soruları tabloya göre cevaplayalım.

1) Çiftlikte kaç at vardır?

.....

2) Çiftlikte kaç tavuk vardır?

.....

3) Çiftlikte kaç koyun vardır?

.....

4) Koyunların ve tavukların sayıları toplamı kaçtır?

B) Aşağıdaki soruları tabloya göre cevaplayalım.

1/ A sınıfında yapılan sınıf başkanlığı seçiminde öğrencilerin aldığı oylar tabloda belirtilmiştir.

Öğrencinin Adı	Aldığı Oy
Ali	7
Ece	9
Yağmur	6
Kemal	4
Sinan	8

• En çok oyu hangi öğrenci almıştır?

.....

• En az oyu hangi öğrenci almıştır?

.....

• Başkanlık seçiminde toplam kaç oy kullanılmıştır?


.....

• Ali, Ece ve Sinan toplam kaç oy almıştır?

.....

ÇEVREMİZDEKİ HAYVANLAR

Aşağıdaki hayvanları yuvaları ile eşleştirelim



ÇEVREMİZDEKİ BİTKİLER

Aşağıda bitkiler ile verilen bilgilerden doğru olanların başına "D" yanlış olanların başına "Y" yazalım.

- (...) Bitkilerin yaşamlarını sürdürebilmeleri için hava, su, besin ve toprağa ihtiyaçları vardır.
- (...) Yaz mevsiminde havalar ısınır, ağaçlar meyve verir.
- (...) Doğayı ve çevremizi güzelleştirmek için fidanlar dikmeliyiz.
- (...) Tüm bitkilerin yaprakları her mevsim yeşil renkli kalır.
- (...) Güneş bitkilerin yaşamını sürdürmesinde önemlidir.
- (...) Hava kirliliğini önlemek için fabrika bacalarına filtre takılmalıdır.
- (...) Bitkiler çevreye temiz hava vererek havayı temizler.
- (...) Bitkiler ve hayvanlar sağlıklı yaşam için temiz çevreye ihtiyaç duyar.