

Ad Soyad:.....
Sınıfı:.....
Numarası:.....



TÜRKÇE TESTİ

Sabah güneş doğmadan,
Çilli horoz ötüyor.
Bütün köy halkına
Haydi, kalkın diyor.

1. Şiire göre horozun ötme sebebi aşağıdakilerden hangisidir?

- A. Köy halkına akşam olduğunu belirtmek için.
- B. Köylüleri kaldırmak için.
- C. Tavukları uyandırmak için.

2. Aşağıdaki cümlede özel isimlerden hangisinin yazımı doğrudur?

- A. Tatilde Ankaraya gideceğiz.
- B. Tatilde ankara'ya gideceğiz.
- C. Tatilde Ankara'ya gideceğiz.



3. Yukarıda görseli verilen eşyanın adında kaç sesli harf vardır?

- A. Dört
- B. Beş
- C. Altı

4. "Başöğretmen" kelimesi hangi seçenekte hecelerine doğru ayrılmıştır?

- A. Baş - öğ - ret - men
- B. Baş - ögr - et - men
- C. Ba - şög - ret - men

5. okulumu - güzel - çok - seviyorum

kelimeleriyle anlamlı bir cümle oluşturulursa hangi kelime baştan üçüncü sırada yer alır?

- A. okulumu
- B. güzel
- C. çok

6. Aşağıdaki cümlelerin hangisinin sonuna farklı bir noktalama işareti gelmelidir?

- A. Benim babam çok çalışkan ()
- B. Okullar yakında açılacak mı ()
- C. İlk dersimiz Matematik ()

7. Aşağıdaki hayvanlardan hangisinin ismi alfabemizin son harfiyle başlar?

A.



B.



C.





8. Bahar gelince kırlar çiçek ve böcekler ile dolar. Cümlesi kaç kelimedenden oluşmuştur?
- A. on
B. sekiz
C. yedi

9. Okula gidince ilk önce arkadaşşıma dedim sonra çıkardım.
Cümlesinde noktalı yerlere sırasıyla hangi kelimeler gelmelidir?
- A. laf attım - beslenmemi
B. günaydın - kitaplarımı
C. kanka - ayakkabımı

10. Aşağıdaki cümlelerin hangisinde " Nasıl ? " sorusunun cevabı yoktur?
- A. Ödevlerini özenle yaptı.
B. Kemerini sımsıkı bağlamış.
C. Okulun en çalışkan öğrencisi.

11. Aşağıdaki cümlelerin hangisinde zıt anlamlı kelimeler bir arada kullanılmıştır?
- A. Dün akşam yolda dayımı gördüm.
B. Öğretmen dersi anlatırken uzun uzun cümleler kurdu.
C. Yolda irili ufaklı taşlar var.

12. " kar - cu - ton " heceleri kullanılarak aşağıdaki kelimelerden hangisi oluşturulamaz?
- A. Karton
B. Kart
C. Kartoncu


13. Aşağıdaki seçeneklerin hangisinde tüm kelimeler tür adıdır?
- A. Yastık - Can - Kalem
B. Tavuk - Çanta - Yumurta
C. Konya - Pilav - Kutu



14. " İnek - Süt " kelimeleri arasındaki ilişki aşağıdaki kelimelerin hangisinde vardır?
- A. Yoğurt - Peynir
B. Tavuk - Yumurta
C. Kuru fasulye - pilav

15. Aşağıdaki kelimelerin hangisinin yazılışı doğrudur?
- A. Soğan
B. Tepeşir
C. Tırafik

MATEMATİK TESTİ



1. Yukarıdaki kalemleri uzundan kısaya doğru sıralarsa doğru sıralama nasıl olmalıdır?

- A. 3 - 2 - 1
- B. 1 - 2 - 3
- C. 3 - 1 - 2



2. Yukarıdaki çiçeklerin sayısı onluk ve birlik olarak nasıl söylenir?

- A. 1 Birlik 8 Onluk
- B. 1 Onluk 8 Birlik
- C. 8 Onluk 1 Birlik




3. Yukarıdaki ritmik saymada boş kalan yerlere hangi sayılar gelmelidir?

- A. 11 ve 16
- B. 11 ve 15
- C. 12 ve 16

4. 18 den başlayarak geriye doğru 2'şer ritmik sayarken 4. ve 5. Söylediğimiz sayıların toplamı kaçtır?

- A. 22
- B. 24
- C. 18



5. Yukarıdaki saatin okunuşu aşağıdakilerden hangisidir?

- A. 09.30
- B. 10.30
- C. 06.30

6. Ayşe'nin yaşı abisinden 8 yaş eksiktir. Abisi 21 yaşında olduğuna göre Ayşe kaç yaşındadır?

- A. 29
- B. 13
- C. 15

- Hiç kenarı yoktur.
- Hiç köşesi yoktur.

7. Yukarıda özellikleri verilen geometrik şekil aşağıdakilerden hangisidir?

- A. Üçgen
- B. Kare
- C. Çember

Sınıf	Mevcut
2/A	32
2/B	33
2/C	34

8. ve 9. Soruları tabloya göre cevaplayın.

8. 2/A ve 2/B sınıfında toplam kaç öğrenci vardır?

- A. 63
- B. 64
- C. 65

9. Mevcudu en kalabalık olan sınıf hangisidir?

- A. 2/A
- B. 2/B
- C. 2/C

10. Sınıfınızın genişliğini hangisiyle ölçersek standart uzunluk ölçüsü kullanmış oluruz?

- A. Mezura
- B. Karış
- C. Parmak

11. Bir sınıfta 11 esmer, esmerlerden 10 fazla sarışın öğrenci vardır. Bu sınıfta toplam kaç öğrenci vardır?

- A. 21
- B. 30
- C. 32



12. Yukarıdaki yarım elmalardan kaç bütün elma elde edilir?

- A. 16
- B. 4
- C. 8



13. Bir çaydanlıktan 5 bardak çay dolduruluyor iki çaydanlıktan kaç bardak çay çıkar?

- A. 7
- B. 10
- C. 15

14. $\square - 9 = 12$ işleminde \square yerine hangi sayı gelmelidir?

- A. 23
- B. 3
- C. 21

15. Buse koşu yarışmasında baştan ve sondan 6. olmuştur. Buna göre yarışa kaç kişi katılmıştır?

- A. 11
- B. 12
- C. 13

HAYAT BİLGİSİ TESTİ

1. Sınıftaki şeref köşesinde aşağıdakilerden hangisi bulunmaz?

- A. Türk Bayrağı
- B. Mevsim şeridi
- C. İstiklal Marşı

2. Yeliz arkadaşının silgisini kullanmak istiyor yeliz öncelikle ne yapmalıdır?

- A. Arkadaşı görmeden silgiyi almalıdır.
- B. Kullandıktan sonra silgiyi geri vermemelidir.
- C. Silgiyi almadan önce arkadaşından izin istemelidir.



3. Yukarıdaki trafik levhası ne anlama gelir?

- A. Okul geçidi.
- B. Üst geçit.
- C. Alt geçit.



4. Türkiye Büyük Millet Meclisinin açıldığı gün hangi milli bayramı kutlarız?

- A. 19 Mayıs Atatürk'ü Anma Gençlik ve Spor Bayramı.
- B. 30 Ağustos Zafer Bayramı.
- C. 23 Nisan Ulusal Egemenlik ve Çocuk Bayramı.

5. Murat bahçede oynarken arkadaşını istemeden yere düşürdü. Bu durumda hangi nezaket ifadesini kullanmalı?

- A. Hoş geldin.
- B. Özür dilerim.
- C. Önüne neden bakmıyorsun.

Aslı Ali'den uzundur. Kerem'in saçı sarı ve gözleri yeşildir.

6. Yukarıda öğrencilerin hangi özelliklerinden bahsedilmiştir?

- A. Duygusal özelliklerinden.
- B. Fiziksel özelliklerinden.
- C. Ders başarılarından.



Canlılar hayatta kalabilmek için bir yuvaya ihtiyaç duyarlar.

7. Yukarıdaki bilgi canlıların hangi ihtiyacından bahsetmektedir.

- A. Barınma.
- B. Beslenme
- C. Giyinme



8. Evimizi tarif ederken hangisine ihtiyaç duyarız?

- A. Komşumuzun adına.
- B. Evimizin resmine.
- C. Evimizin adresine.

9. Kaynaklar ile ilgili verilen bilgilerden hangisi yanlıştır?

- A. Kaynaklar hiçbir zaman tükenmez.
- B. Kaynakları verimli kullanmalıyız.
- C. Kaynakları gereksiz yere kullanmamalıyız..

10. Aşağıdakilerden hangisi kendi başımıza yapamadığımız kişisel bakımlarımızdan biridir?

- A. 
- B. 
- C. 

11. Aşağıdaki eşleştirmelerden hangisi yanlıştır?

- A. 112 - Ambulans
- B. 155 - Polis
- C. 110 - Jandarma



12. Aşağıdakilerden hangisi toplu taşımada uymamız gereken kurallardan değildir?

- A. Ayakta durmak.
- B. Şoförü rahatsız etmemek.
- C. Pencereden kolumuzu çıkarmamak.




13. İlleri yöneten kişilere ne ad verilir?

- A. Muhtar.
- B. Vali.
- C. Kaymakam.

14. Aşağıdakilerden hangisi doğal varlık değildir?

- A. 
- B. 
- C. 

15. İstiklal marşımızın şairi aşağıdakilerden hangisidir?

- A.  Mustafa Kemal Atatürk
- B.  Fatih Sultan Mehmet
- C.  Mehmet Akif Ersoy



BASARILAR DİLERİZ.