



ÖRNEK DAVRANIŞ

Pazar günü Okan, Sinan, Erkan ve Gürkan okulun bahçesinde toplandılar. Hava çok güzeldi. Hemen iki takım kurdular. Maç yapmaya başladılar. Gürkan hakem oldu, Erkan kaleci oldu.

Oyun güzel oluyordu ama bir kaza oldu. Okan topa sert vurunca top okulun penceresine çarptı. Okulun camını kırdı. Çok üzüldüler. Ne yapacağız diye konuştular ve aralarında para topladılar.

Ertesi gün Okan okul müdürüne olanları anlattı. Camı ben kırdım dedi. Özür diledi. Topladıkları para ile camın parasını ödedi. Müdür Okan'a teşekkür etti. Ona 'Sen iyi bir öğrencisin, aferin.' dedi.

A) Metni dikkatlice okuyup, aşağıdaki soruları cevaplayalım.

1) Okuduğunuz metnin konusu nedir?

.....

2) Çocuklar yaşadıkları soruna nasıl bir çözüm bulmuşlar?

.....

B) Aşağıda karışık halde verilmiş kelimeleri sıralayarak anlamlı ve kurallı cümleler oluşturalım.

1) ilk / için / heyecanlıyım / okulun / günü / olduğu

.....

2) kampa / tatilde / amcamla / gittik

.....

3) top / Hatice / bahçede / oynadık / ile

.....

4) ders / Yarenlerde / günleri / Emir / çalışır / perşembe

.....

5) mangala / Mete / oynuyor / ile / Şule / sınıfta

.....

C) Aşağıda verilen alfabe de sesli (ünlü) harflerin kutularını işaretleyelim.

A - B - C - Ç - D - E - F - G - Ğ - H - I - İ - J - K

L - M - N - O - Ö - P - R - S - Ş - T - U - Ü - V - Y - Z

D) Aşağıda verilen resimleri oluş sırasına göre numaralandıralım.



E) Aşağıdaki metinde () ile gösterilen yerlere uygun noktalama işaretlerini koyalım

MEVSİMLER

Bir yıl dört mevsimdir() İlkbahar() yaz() sonbahar() kış() İlkbaharda ağaçlar çiçek açar() Yazın havalar sıcak olur() denize gireriz() Sonbaharda ağaçlar yapraklarını döker() Kışın kar yağar() kardan adam yaparız() Ben en çok ilkbahar mevsimini severim()

F) Aşağıdaki soruları okuyup doğru seçeneği işaretleyelim.

1) "pahalı" Kelimesinin zıt anlamlısı aşağıdakilerden hangisidir?

A) Arka B) ucuz C) yanlış

2) Hangi kelimenin zıt anlamsı yanlış yazılmıştır?

A) kirli-temiz B) üzgün-mutlu

C) ceza-hafif

3) Aşağıdaki kelimelerden hangisi tek hecelidir?

A) Mart B) tahta C) kapı

4) Aşağıdaki kelimelerden hangisinde ünlü harf daha fazladır?

A) At B) Kuş C) Tırtıl

5) Aşağıdaki kelimelerin hangisinin yazımında daha fazla harf kullanılmıştır?

A) Bilgisayar B) Matematik

C) Hikaye

6) Aşağıdaki kelimelerden hangisi hecelerine yanlış ayrılmıştır?

A) Ak-de-niz B) Ka-ra-den-iz

C) Mar-ma-ra





7) Aşağıdaki kelimelerden hangisi sözlükte daha önce gelir?

A) Perde B) Pırasa C) Paraşüt

8) Alfabemizdeki 6. Ve 27. harfler ile yazılabilecek kelime hangisidir?

A) et B) üç C) ev

A) Aşağıdaki nesne gruplarının kaç onluk ve birlikten oluştuğunu altlarındaki kutulara yazalım.



ONLUK	BİRLİK

ONLUK	BİRLİK

ONLUK	BİRLİK

ONLUK	BİRLİK

B) Aşağıdaki tabloları uygun şekilde dolduralım.

	8 ONLUK	5 BİRLİK
SAYI		
BASAMAK ADI		
BASAMAK DEĞERİ		
OKUNUŞU		

	4 ONLUK	2 BİRLİK
SAYI		
BASAMAK ADI		
BASAMAK DEĞERİ		
OKUNUŞU		

	6 ONLUK	7 BİRLİK
SAYI		
BASAMAK ADI		
BASAMAK DEĞERİ		
OKUNUŞU		

C) Aşağıda onluk ve birlikleri verilen sayıları yazalım.

$3\text{onluk} + 4\text{birlik} : \dots\dots$

$5\text{onluk} + 8\text{birlik} : \dots\dots$

$2\text{onluk} + 1\text{birlik} : \dots\dots$

$4\text{onluk} + 4\text{birlik} : \dots\dots$

$9\text{onluk} + 4\text{birlik} : \dots\dots$

$3\text{onluk} + 4\text{birlik} : \dots\dots$

$5\text{onluk} + 0\text{birlik} : \dots\dots$

$1\text{onluk} + 1\text{birlik} : \dots\dots$

$2\text{onluk} + 3\text{birlik} : \dots\dots$

D) Aşağıda verilen sayıları onluk ve birlik olarak yazalım.

$\dots\text{onluk} + \dots\text{birlik} : 70$

$\dots\text{onluk} + \dots\text{birlik} : 29$

$\dots\text{onluk} + \dots\text{birlik} : 55$

$\dots\text{onluk} + \dots\text{birlik} : 11$

$\dots\text{onluk} + \dots\text{birlik} : 83$

$\dots\text{onluk} + \dots\text{birlik} : 39$

$\dots\text{onluk} + \dots\text{birlik} : 52$

$\dots\text{onluk} + \dots\text{birlik} : 43$

$\dots\text{onluk} + \dots\text{birlik} : 25$

2-A SINIFI HAFTALIK DERS PROGRAMI

PAZARTESİ	SALI	ÇARŞAMBA	PERŞEMBE	CUMA
HAYAT BİLGİSİ	HAYAT BİLGİSİ	HAYAT BİLGİSİ	HAYAT BİLGİSİ	TÜRKÇE
MATEMATİK	TÜRKÇE	TÜRKÇE	MATEMATİK	TÜRKÇE
TÜRKÇE	TÜRKÇE	TÜRKÇE	TÜRKÇE	MATEMATİK
TÜRKÇE	GÖRSEL SANATLAR	MATEMATİK	TÜRKÇE	İNGİLİZCE
SERBEST ETKİNLİKLER	MATEMATİK	SERBEST ETKİNLİKLER	MÜZİK	İNGİLİZCE
BEDEN EĞİTİMİ VE OYUN	BEDEN EĞİTİMİ VE OYUN	BEDEN EĞİTİMİ VE OYUN	BEDEN EĞİTİMİ VE OYUN	BEDEN EĞİTİMİ VE OYUN

A) Aşağıdaki soruları ders programına göre cevaplayalım.

- 1- Çarşamba günü için çantanıza hangi malzemeleri koymalısınız?
.....
- 2- Hayat Bilgisi kitabını hangi günler okula götürmelisin?
.....
- 3- İngilizce dersi hangi gündür?
.....
- 4- Resim defteri, boyalar hangi gün çantanızda bulunmalıdır?
.....
- 5- Serbest etkinlikler dersi hangi günlerdedir?
.....

B) Aşağıdaki resimlerden okul malzemesi olanı çanta ile eşleştirelim.

