


1) Bir fırın sabah 1445 ekmek, öğlen 1247 ekmek satmıştır. Bu fırıncı sabah ve öğlen toplam kaç ekmek satmıştır?

CÖZÜM:




2) Bir araba Ankara'ya kadar 2786 km yol, Ankara'dan sonra da gittiği toplam yoldan 498 km daha fazla yol yapmıştır. Bu araba toplam kaç km yol gitmiştir?

CÖZÜM:




3) Bir çiftlikteki inekler birinci hafta 2456 litre süt, ikinci hafta 2500 litre süt vermiştir. Üçüncü hafta ise birinci ve ikinci hafta verdikleri sütlerin toplamı kadar süt vermişlerdir. Bu inekler 3 haftada toplam kaç litre süt vermişlerdir?

CÖZÜM:




4) Galatasaray maçı için ilk gün 2389 bilet, ertesi gün ise 3485 tane bilet satılmıştır. Ondan sonraki gün ise ilk iki gün sattığı biletlerin toplamı kadar bilet satıldığına göre satılan toplam bilet sayısı kaçtır?

CÖZÜM:



5) Bir kırtasiye pazartesi günü 1071 tl, salı günü pazartesi gününden 447 tl daha fazla satış yapmıştır. Çarşamba günü ise salı gününden 759 tl daha fazla satış yaptığına göre 3 günde toplam ne kadar satış yapmıştır?

CÖZÜM:



6) Rakım bir yerin deniz seviyesinden yüksekliğini ifade eden bir terimdir. Erciyes Dağının toplam yükseltisi 3917 metredir. Ağrı Dağının yükseltisi ise Erciyes Dağından 1220 metre daha fazla olduğuna göre bu iki dağın toplam yükseltisi kaç metredir?

ÇÖZÜM:




7) Ayşe cebindeki paranın 2738 tl ile halı, 3289 t'li ile mont, 4198 t'li ile de mont alınca cebinde 945 tl para kaldığına göre Ayşe alışverişe başlamadan önce cebinde toplam kaç tl parası vardı?

ÇÖZÜM:




8) Bir balina 134 sene öne 158 yaşında olduğuna göre bu baline 42 sene sonra kaç yaşında olur?

ÇÖZÜM:



9) Rıza pazartesi günü 4238 sayısının yuvarlandığı en yakın onluk kadar; salı gün ise 6876'nın yuvarlandığı en yakın yüzlük kadar adım atmıştır. Rıza pazartesi ve salı günü toplam kaç adım atmıştır?

ÇÖZÜM:



10) Bir kitap fuarında 7148 tane test kitabı; test kitabından 1452 fazla da roman satılmıştır. Bu fuarda satılan test kitabı ve roman sayısı kaçtır?

ÇÖZÜM:

