

(.....)

Merhabalar size kendimi tanıtmak istiyorum. Bana genelde kardan adam derler. Kış mevsiminde beni bol bol görürsünüz. Sonbahardan sonra gelen kış mevsiminde karların yağmasıyla birlikte beni arkadaşım Uğur ve Funda birlikte yaptılar. Önce kartopu yaıp onları yuvarlayarak ve sonrada üst üste koyarak beni oluşturdular. Ellerime kırmızı eldiven ,başıma bir şapka, burnuma bir havuç, boynuma da bir atkı takarak güzel görünmemi sağladılar. Son olarak bana FOFİ adını verdiler. Onlara çok teşekkür ederek karların yağmasını izledim.



1-2 ve 3.soruları metne göre cevaplayalım.

1. Yukarıdaki metnin başlığı ne olabilir?

- A. Kış mevsimi
- B. Kardan adam FOFİ
- C. Kartopu

2. Kardan adam FOFİ'yi kimler yapmıştır?

- A. Ali-Zeynep
- B. Uğur-Aslı
- C. Funda-Uğur

3. Aşağıdakilerden hangisi kardan adam FOFİ'nin üzerine takılmıştır?

- A. Kırmızı eldiven
- B. Havuç
- C. Siyah ayakkabı

4. Aşağıdaki kelimelerden hangisi hece sayısı yanlış yazılmıştır?

- A. Bilgisayar -----> 4
- B. Bayrampaşa -----> 5
- C. Kahramanmaraş ----> 5



1 - 21 - 1 - 2 - 1

4. Yukarıdaki kutucuk içerisindeki sayılar alfabe'deki harf sıralamasına göre belirli bir harfe denk gelmektedir. Buna göre yukarıdaki sayıların alfabe'deki karşılıklarına gelen kelime aşağıdakilerden hangisidir?

- A. Aktar
- B. Araba
- C. Kalem

Pazartesi okula yeni öğrenci gelecekmiş.

5. Yukarıda kutu içerisinde yazan cümle ile ilgili aşağıdakilerden hangisi yanlıştır?

- A. Kırmızı renk ile yazılan kelimenin eş anlamlısı talebedir.
- B. Cümledeki kelime sayısı 4'tür.
- C. Cümledeki okulun eş anlamlısı muallimdir.

6. Aşağıdaki cümlelerden hangisi yazım yönünden doğrudur?

- A. Aslı ile kemal yarın okula gelecek.
- B. ankara Türkiye'nin başkentidir.
- C. Tekirdağ çok güzel bir şehirdir.



NANE

ÇİKOLATA

ÇİLEK

VANİLYA


7. Yukarıdaki dondurmanın külahındaki dondurmaları alfabetik sıraya göre sıralarsak sıralama nasıl olur?

- A. Nane-Çikolata-Çilek-Vanilya
- B. Çikolata-Çilek-Nane-Vanilya
- C. Çilek-Çikolata-Vanilya-Nane

8. Aşağıdaki kelimelerden hangisinin tek başına anlamı yoktur?

- A. Kalem
- B. Okul
- C. İle





9. Yukarıdaki bulmacada verilen sözcüklerden hangisinin zıt anlamı aşağıda yoktur?

- A. Geniş
- B. Irak
- C. Uzun

- 1. Akşam Mustafa ile dışarı çıkacağız.
- 2. Ankaranın manzarası çok güzeldi.
- 3. Ben Tekirdağda yaşıyorum.

10. Yukarıdaki cümlelerden hangileri yanlış yazılmıştır?

- A. 1-2
- B. 1-3
- C. 2-3

Ahmet akşam eve geldi mi (1)

Heyyy, buraya gel (2)

Pazardan elma (3) armut ve çilek aldık.

11. Yukarıdaki cümlelerde parantez içinde belirtilen sayıların olduğu yere hangi noktalama işareti gelmelidir?

- A. 1-Nokta 2-Soru işareti 3-virgül
- B. 1-Soru işareti 2-Ünlem 3-virgül
- C. 1-Virgül 2-Nokta 3-Ünlem

12. Aşağıdakilerden hangisi cümle değildir?

- A. Vardım.
- B. Sınıfımız çok.
- C. Evimi çok seviyorum.

1-mevsimi

3-çok


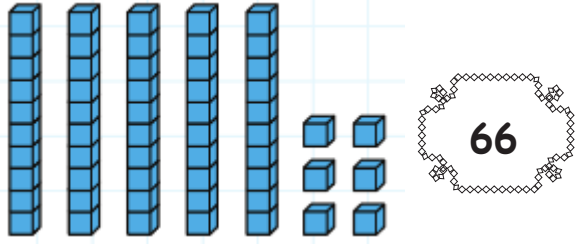
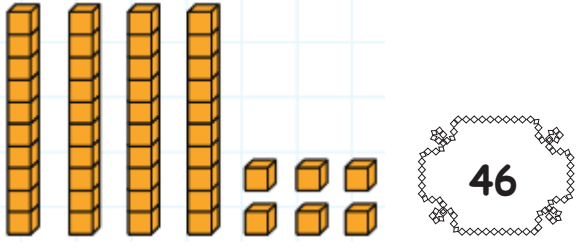
2-sıcaktır

4-yaz

13. Yukarıdaki kelimeler ile anlamlı bir cümle oluşturulma istenirse sıralama nasıl olur?

- A. 4-1-3-2
- B. 2-1-4-3
- C. 3-4-1-2

TÜRKÇE TESTİ BİTTİ MATEMATİK TESTİNE GEÇİNİZ...



1. Yukarıdaki onluk-birlik modellemesi gösterilen sayılardan hangisi yanlıştır?

- A. 46
- B. 66
- C. 64

26

2. Yukarıda belirtilen sayı ile ilgili hangisi yanlıştır?

- A. İki düzineden 2 fazladır.
- B. Öncesinde 25, sonrasında 27 sayısı vardır.
- C. Okunuşu otuz altıdır.




3. Yukarıdaki ritmik tırtılda örüntüyü bozan sayı hangisidir?

- A. 22
- B. 27
- C. 18

39'dan başlayarak geriye doğru dörder ritmik sayarken 6. sıradaki sayı nedir?

4. Yukarıda kutu içerisinde verilen sorunun cevabı nedir?

- A. 19
- B. 23
- C. 21



45

5. Yukarıda kutu içerisinde verilen fındıkların sayısı 45'tir. Bu sayının onlar basamağı 2 artırılıp, birler basamağı 3 azaltılırsa oluşan sayı kaç olur?

- A. 65
- B. 42
- C. 62

6.76 sayısında 7 sayısının basamak değeri aşağıdakilerden hangisidir?

- A.7
B.70
C.60



7.Yukarıdaki yarışa göre aşağıdakilerden hangisi yanlıştır?

- A.Bitiş çizgisine en yakın araba pembe arabadır.
B.Yeşil araba 3.sıradadır.
C.Yarışmada kırmızı araba 1.olmuştur.

*5-8-11-14-17 --> 2'şer ileri ritmik.

*22-18-14-10-6 --> 4'er geri ritmik.

*33-36-39-42 --> 3'er ileri ritmik.

*14-12-10-8-6 --> 2'şer ileri ritmik.

8.Yukarıdaki sayı örüntü kurallarından kaç tanesi doğrudur?

- A.2
B.3
C.4



9.Yukarıdaki sayıları küçükten büyüğe doğru sıralarsak sıralama nasıl olur?

- A.82-75-46-39
B.39-46-75-82
C.39-75-82-46

SIRA BİLDİREN SAYILAR

16. --> on altıncı

21. --> yirminci

yirmi dördüncü --> 24

10.Yukarıdaki sıra bildiren sayılardan kaç tanesi doğrudur?

- A.1
B.2
C.3

MATEMATİK TESTİ BİTTİ. HAYAT BİLGİSİ TESTİNE GEÇİNİZ...



1. Yukarıdaki haritaya göre eczane ile market arasında neresi vardır?

- A. Ata sitesi
- B. Okul
- C. Eczane

- 1- Sınıfta kurallar öğretmen tarafından konulur.
- 2- Birbirimizin görüşlerine saygı duymalıyız.
- 3- Alınan kararlarda herkes söz hakkına sahiptir.

2. Yukarıdaki bilgilerden kaç tanesi doğrudur?


- A. 1
- B. 2
- C. 3

3. Aşağıdakilerden hangisi kişisel özelliklerimizden bahsetmektedir?

- A. Ali uzun boyludur.
- B. Uğur top oynamayı sever.
- C. Funda'nın kırmızı saçları var.

4. Aşağıdakilerden hangisi fiziksel özelliklerimiz ile ilgilidir?

- A. Saç rengi.
- B. Çalışkan olmak.
- C. Hayvansever olmak.



Kaynakları özenli kullanalım.

5. Aşağıdakilerden hangisinde kaynaklarımız özenli kullanılmamıştır?

- A. Uğur dişlerini fırçalarken suyu açık bırakmıştır.
- B. Okan gündüz olduğunda lambaları kapatmıştır.
- C. Selim okul tuvaletinde açık muslukları kapatmıştır.



Ali



Veli

6. Aşağıdakilerden hangisi yanlıştır?

- A. Ali Veli'ye göre zayıftır.
- B. Veli Kahverengi saç rengine sahiptir.
- C. Ali ve Veli'nin boy uzunlukları aynıdır.

2.SINIFLAR DENEME SINAVI CEVAP KAGIDI

ADI - SOYADI (Adı ve Soyadı arasında bir kare boşluk bırakınız.)																											
A	A	A	A	A	A	A	A	A	A	A	A	A	A	A	A	A	A	A	A	A	A	A	A	A	A	A	
B	B	B	B	B	B	B	B	B	B	B	B	B	B	B	B	B	B	B	B	B	B	B	B	B	B	B	B
C	C	C	C	C	C	C	C	C	C	C	C	C	C	C	C	C	C	C	C	C	C	C	C	C	C	C	
D	D	D	D	D	D	D	D	D	D	D	D	D	D	D	D	D	D	D	D	D	D	D	D	D	D	D	
E	E	E	E	E	E	E	E	E	E	E	E	E	E	E	E	E	E	E	E	E	E	E	E	E	E	E	
F	F	F	F	F	F	F	F	F	F	F	F	F	F	F	F	F	F	F	F	F	F	F	F	F	F	F	
G	G	G	G	G	G	G	G	G	G	G	G	G	G	G	G	G	G	G	G	G	G	G	G	G	G	G	
H	H	H	H	H	H	H	H	H	H	H	H	H	H	H	H	H	H	H	H	H	H	H	H	H	H	H	
I	I	I	I	I	I	I	I	I	I	I	I	I	I	I	I	I	I	I	I	I	I	I	I	I	I	I	
J	J	J	J	J	J	J	J	J	J	J	J	J	J	J	J	J	J	J	J	J	J	J	J	J	J	J	
K	K	K	K	K	K	K	K	K	K	K	K	K	K	K	K	K	K	K	K	K	K	K	K	K	K	K	
L	L	L	L	L	L	L	L	L	L	L	L	L	L	L	L	L	L	L	L	L	L	L	L	L	L	L	
M	M	M	M	M	M	M	M	M	M	M	M	M	M	M	M	M	M	M	M	M	M	M	M	M	M	M	
N	N	N	N	N	N	N	N	N	N	N	N	N	N	N	N	N	N	N	N	N	N	N	N	N	N	N	
O	O	O	O	O	O	O	O	O	O	O	O	O	O	O	O	O	O	O	O	O	O	O	O	O	O	O	
P	P	P	P	P	P	P	P	P	P	P	P	P	P	P	P	P	P	P	P	P	P	P	P	P	P	P	
R	R	R	R	R	R	R	R	R	R	R	R	R	R	R	R	R	R	R	R	R	R	R	R	R	R	R	
S	S	S	S	S	S	S	S	S	S	S	S	S	S	S	S	S	S	S	S	S	S	S	S	S	S	S	
T	T	T	T	T	T	T	T	T	T	T	T	T	T	T	T	T	T	T	T	T	T	T	T	T	T	T	
U	U	U	U	U	U	U	U	U	U	U	U	U	U	U	U	U	U	U	U	U	U	U	U	U	U	U	
V	V	V	V	V	V	V	V	V	V	V	V	V	V	V	V	V	V	V	V	V	V	V	V	V	V	V	
Y	Y	Y	Y	Y	Y	Y	Y	Y	Y	Y	Y	Y	Y	Y	Y	Y	Y	Y	Y	Y	Y	Y	Y	Y	Y	Y	
Z	Z	Z	Z	Z	Z	Z	Z	Z	Z	Z	Z	Z	Z	Z	Z	Z	Z	Z	Z	Z	Z	Z	Z	Z	Z	Z	

KURUM VE ÖĞRENCİ BİLGİLERİ

ADI-SOYADI:

SINIF / ŞUBE:

OKUL ADI:

İli:

İLÇESİ:

KİTAPÇIK TÜRÜ A B

OGRENCİ NO	SINIF	ŞUBE
0	1	(A)
1	2	(B)
2	3	(C)
3	4	(D)
4		(E)
5		(F)
6		(G)
7		(H)
8		(I)
9		(J)

CEVAPLAR			
TÜRKÇE	MATEMATİK	HAYAT BİLGİSİ	İNGİLİZCE
1 (A)(B)(C)	1 (A)(B)(C)	1 (A)(B)(C)	1 (A)(B)(C)
2 (A)(B)(C)	2 (A)(B)(C)	2 (A)(B)(C)	2 (A)(B)(C)
3 (A)(B)(C)	3 (A)(B)(C)	3 (A)(B)(C)	3 (A)(B)(C)
4 (A)(B)(C)	4 (A)(B)(C)	4 (A)(B)(C)	4 (A)(B)(C)
5 (A)(B)(C)	5 (A)(B)(C)	5 (A)(B)(C)	5 (A)(B)(C)
6 (A)(B)(C)	6 (A)(B)(C)	6 (A)(B)(C)	6 (A)(B)(C)
7 (A)(B)(C)	7 (A)(B)(C)	7 (A)(B)(C)	7 (A)(B)(C)
8 (A)(B)(C)	8 (A)(B)(C)	8 (A)(B)(C)	8 (A)(B)(C)
9 (A)(B)(C)	9 (A)(B)(C)	9 (A)(B)(C)	9 (A)(B)(C)
10 (A)(B)(C)	10 (A)(B)(C)	10 (A)(B)(C)	10 (A)(B)(C)
11 (A)(B)(C)	11 (A)(B)(C)	11 (A)(B)(C)	11 (A)(B)(C)
12 (A)(B)(C)	12 (A)(B)(C)	12 (A)(B)(C)	12 (A)(B)(C)
13 (A)(B)(C)	13 (A)(B)(C)	13 (A)(B)(C)	13 (A)(B)(C)
14 (A)(B)(C)	14 (A)(B)(C)	14 (A)(B)(C)	14 (A)(B)(C)
15 (A)(B)(C)	15 (A)(B)(C)	15 (A)(B)(C)	15 (A)(B)(C)
16 (A)(B)(C)	16 (A)(B)(C)	16 (A)(B)(C)	16 (A)(B)(C)
17 (A)(B)(C)	17 (A)(B)(C)	17 (A)(B)(C)	17 (A)(B)(C)
18 (A)(B)(C)	18 (A)(B)(C)	18 (A)(B)(C)	18 (A)(B)(C)
19 (A)(B)(C)	19 (A)(B)(C)	19 (A)(B)(C)	19 (A)(B)(C)
20 (A)(B)(C)	20 (A)(B)(C)	20 (A)(B)(C)	20 (A)(B)(C)

ÖRNEK KODLAMA

DOĞRU

YANLIŞ

YANLIŞ

YANLIŞ