

KESİRLER GENEL DEĞERLENDİRME

① Aşağıdaki kesirlerin okunuşlarını yazınız. 12p

$\frac{3}{5} \rightarrow$

$\frac{1}{2} \rightarrow$

$\frac{1}{4} \rightarrow$

$\frac{2}{6} \rightarrow$

$\frac{6}{6} \rightarrow$

$\frac{2}{8} \rightarrow$

② Okunuşları verilen kesirleri yazınız. 12p

Dörtte iki \rightarrow

Sekiz bölü on \rightarrow

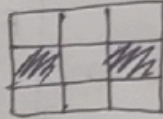
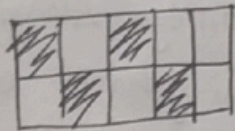
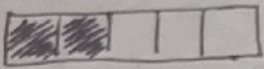
Üçte bir \rightarrow

Ahtı bölü dokuz \rightarrow

Üç bölü sekiz \rightarrow

Altıda beş \rightarrow

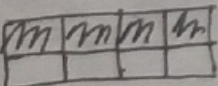
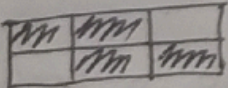
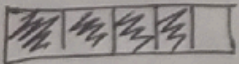
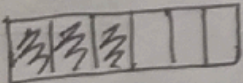
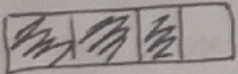
③ Aşağıdaki şekillerin kesirlerini yazınız. 10p



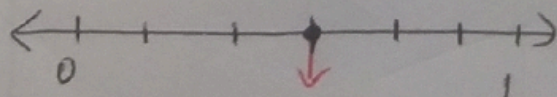
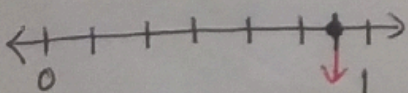
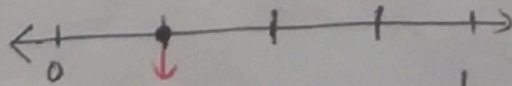
④ Aşağıda verilen şekillerin kesirlerini ve birim kesirlerini yazınız. 10 puan

Kesir

Birim kesir



⑤ Aşağıdaki sayı doğrularında olan kesirleri bulunuz. 4 puan



⑥ Aşağıda verilen kesirlerin şekillerini çiziniz. 12 puan

$$\frac{3}{5} \rightarrow$$

$$\frac{5}{7} \rightarrow$$

$$\frac{2}{4} \rightarrow$$

$$\frac{6}{8} \rightarrow$$

$$\frac{1}{3} \rightarrow$$

$$\frac{2}{2} \rightarrow$$

⑦ Aşağıdaki problemleri çözünüz. 40 puan

A) Beyza'nın 72 fındığı vardı. $\frac{5}{8}$ ini yedi, Beyza kaç fındık yemiştir?

E) Bir ağaca 91 kuş konmuştur. Kuşların $\frac{5}{7}$ si uçtu. Ağacın kaç tane kuş uçuştur?

B) Aslı'nın 68 lirası vardır. Parasının $\frac{1}{4}$ ini harcadı. Aslı kaç para harcamıştır?

F) Antalya - Alanya arası 99 km'dir. Yolu $\frac{5}{9}$ ini giden bir otomobilin kaç km yolu kalmıştır?

C) Elif kitaplıkta bulunan 54 kitabın $\frac{2}{3}$ sini okudu. Ezgi'nin okumadığı kaç kitap kalmıştır?

G) Bir gemide 80 yolcu vardı. Limonda $\frac{3}{5}$ ü indi, Gemide kaç yolcu kalmıştır?

D) Bir tiyatro salonundaki 98 izleyicinin $\frac{2}{7}$ si erkek seyirci olduğuna göre salonda kaç kadın seyirci vardır?

H) Okulumuz binasında 56 cam vardır. Yaz tatilinde $\frac{3}{4}$ ü kırılmıştır. Kırılmayan sağlam cam kaç tanedir?