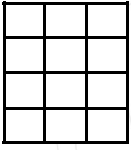


Ad Soyad:.....
Sınıfı:.....
Numarası:.....


A Aşağıda verilen tabloyu dolduralım.

	Toplama olarak ifade	...tane...	...x...
7'nin 3 katı	$7+7+7$	3 tane 7	3×7
6'nın 5 katı			
5'in 4 katı			
9'un 4 katı			
8'nin 2 katı			
6'nın 4 katı			

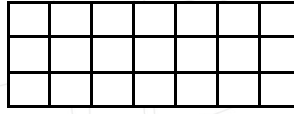
B Aşağıda karelerden oluşan kutucukları 1.çarpan ve 2.çarpanları yola çıkararak boyyalım.




2x3



4x5



2x7



3x4

C Aşağıda verilen çarpım tablosunu dolduralım.

x	0	1	2	3	4	5	6	7	8	9	10
8											
9											

D Aşağıda verilen çarpma işlemlerini yapalım.

$$\begin{array}{r} 24 \\ \times 2 \\ \hline \end{array}$$

$$\begin{array}{r} 45 \\ \times 5 \\ \hline \end{array}$$

$$\begin{array}{r} 422 \\ \times 2 \\ \hline \end{array}$$

$$\begin{array}{r} 429 \\ \times 3 \\ \hline \end{array}$$

$$\begin{array}{r} 27 \\ \times 28 \\ \hline \end{array}$$

$$\begin{array}{r} 35 \\ \times 18 \\ \hline \end{array}$$

$$\begin{array}{r} 23 \\ \times 2 \\ \hline \end{array}$$

$$\begin{array}{r} 35 \\ \times 9 \\ \hline \end{array}$$

$$\begin{array}{r} 433 \\ \times 2 \\ \hline \end{array}$$

$$\begin{array}{r} 329 \\ \times 2 \\ \hline \end{array}$$

$$\begin{array}{r} 28 \\ \times 17 \\ \hline \end{array}$$

$$\begin{array}{r} 43 \\ \times 26 \\ \hline \end{array}$$

E Aşağıda verilen çarpma işlemlerini zihinden yaparak sonuçları yapalım.

$$\surd 17x \dots = 170$$

$$\surd \dots x 15 = 150$$

$$\surd 3 x \dots = 300$$

$$\surd 100 x \dots = 800$$

$$\surd 45 x \dots = 450$$

F Aşağıda verilen tabloyu dolduralım.

İşlem	1.çarpanı 1 azalt	Fark	Çarpım nasıl değişir?
$4 \times 9 = 36$	$3 \times 9 = 27$	$36 - 27 = 9$	Çarpım 9 azalır
$8 \times 4 =$			
$6 \times 2 =$			
$7 \times 4 =$			
$3 \times 8 =$			
$5 \times 7 =$			

E Aşağıda verilen problem sorularını cevaplandıralım.

1) Bir balıkçının tezgahında 28 kasa balık vardır. Her kasada 17 kilo balık olduğuna göre bu balıkçının tezgahında toplam kaç kilo balık vardır?

2) Nermin nine yaşını soranlara: "Benim yaşım en büyük rakamın 12 katından 35 eksiktir" diye cevap vermiştir. Songül ninenin yaşı kaçtır?

3) Manav Halil kilosu 12 tl olan elmalardan 11 kilo, kilosu 14 tl olan portakaldan 12 kilo aldı. Satıcıya 380 lira veren Buse ne kadar para üstü alır?

4) Bir sinema biletinin fiyatı yetişkinler için 34 tl, öğrenciler için 20 tl olarak belirlenmiştir. Buna göre 15 yetişkin, 13 öğrenciden toplam ne kadar ücret alınır?

5) Bir sitede toplam 6 apartman vardır. Her apartman 14 katlıdır. Apartmanların her katında 9 daire olduğuna göre bu sitede toplam kaç daire vardır?

6) Yarı 65 olan sayının 2 katının 140 eksiği kaç eder?

7) 14 inek, 12 kedi ve 23 koyunun ayak sayıları toplamı kaçtır?

8) Saatte 85 kilometre yol alan Salih, 5 saat; 96 kilometre yol alan Necmi 4 saat yol alıyor. Salih ve Necmi toplam kaç kilometre yol alır?