

Ülkemizin para birimi **Türk lirası**dır. Kısaca **TL** ile gösterilir. Sembolü "**₺**" dir.
Liradan küçük para birimdir **kuruş** denir. Kısaca "**kr**" olarak gösterilir.

MADENİ (DEMİR-BOZUK) PARALARIMIZ

					
					
1 TL	50 kuruş	25 kuruş	10 kuruş	5 kuruş	1 kuruş

Değeri en büyük olan madeni paramız 1 TL'dir. En küçük olan madeni paramız 1 kuruştur.



KAĞIT PARALARIMIZ

					
					
200 TL	100 TL	50 TL	20 TL	10 TL	5 TL

En büyük kağıt paramız 200 TL'dir. En küçük kağıt paramız 5 TL'dir.



ETKİNLİK 1

Aşağıda verilen paraların kaç tl'yi ifade ettiğini altında verilen noktalı yerlere yazalım.



.....TL



.....TL



.....TL



.....TL.....kuruş



.....TL.....kuruş



.....TL.....kuruş



.....TL.....kuruş



.....TL.....kuruş



.....TL.....kuruş



ETKİNLİK 2

Aşağıda verilen paralarla lira ve kuruş ilişkisi kuralım.

1 TL.....kr.

5 TLkr.

200 kr.....TL'dir.

3 TLkr.

400 kr.....TL'dir.

8 TL.....kr.

7 TL.....kr.

9 TLkr.

900 kr.....TL'dir.

2 TLkr.

500 kr.....TL'dir.

4 TL.....kr.

6 TL.....kr.

300 kr.....TL'dir.

700 kr.....TL'dir.

10 TLkr.

800 kr.....TL'dir.

100 kr.....TL'dir.



ETKİNLİK 3

Aşağıda verilen paraların kaç tl , kaç kuruş olduğunu bulup noktalı yerlere yazalım.

625 kr:TL....kr.

475 kr:TL....kr.

550 kr:TL....kr.

420 kr:TL....kr.

730 kr:TL....kr.

445 kr:TL....kr.

990 kr:TL....kr.

950 kr:TL....kr.

555 kr:TL....kr.

125 kr:TL....kr.

250 kr:TL....kr.

375 kr:TL....kr.

445 kr:TL....kr.

155 kr:TL....kr.

660 kr:TL....kr.

790 kr:TL....kr.

425 kr:TL....kr.

225 kr:TL....kr.

3 TL 35 kr :kr.

2 TL 50 kr :kr.

5 TL 25 kr :kr.

1 TL 75 kr :kr.

4 TL 80 kr :kr.

6 TL 55 kr :kr.

8 TL 10 kr :kr.

9 TL 50 kr :kr.

7 TL 15 kr :kr.

3 TL 50 kr :kr.

8 TL 99 kr :kr.

5 TL 55 kr :kr.

3 TL 25 kr :kr.











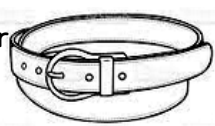

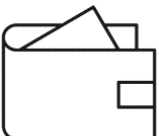

8 TL 80 kr :kr.

1 TL 95 kr :kr.



ETKİNLİK 4

Aşağıda verilen ürünlerden ne kadar para üstü alacağınızı bulalım.

Ürünün fiyatı	Verdiğim para	Para üstüm
78 TL 90 kr. 		
90 TL 50 kr. 		
71 TL 75 kr. 		
13 TL 75 kr. 		
35 TL 80 kr. 		
51 tl 45 kr. 		
53 tl 95 kr. 		



ETKİNLİK 5

Aşağıda verilen paraları istenen paralara tamamlamak için ne kadar paraya ihtiyacımı vardır bulalım.

$$- 2 \text{ TL} + 50 \text{ kr.} + \dots = 3 \text{ TL}$$

$$- 3 \text{ TL} + 10 \text{ kr.} + \dots = 4 \text{ TL}$$

$$- 5 \text{ TL} + 75 \text{ kr.} + \dots = 6 \text{ TL}$$

$$- 7 \text{ TL} + 55 \text{ kr.} + \dots = 8 \text{ TL}$$

$$- 6 \text{ TL} + 25 \text{ kr.} + \dots = 7 \text{ TL}$$

$$- 5 \text{ TL} + 50 \text{ kr.} + \dots = 6 \text{ TL}$$

$$- 3 \text{ TL} + 40 \text{ kr.} + \dots = 4 \text{ TL}$$

$$- 6 \text{ TL} + 60 \text{ kr.} + \dots = 7 \text{ TL}$$

$$- 4 \text{ TL} + 60 \text{ kr.} + \dots = 6 \text{ TL}$$

$$- 1 \text{ TL} + 95 \text{ kr.} + \dots = 2 \text{ TL}$$

$$- 1 \text{ TL} + 30 \text{ kr.} + \dots = 2 \text{ TL}$$

$$- 2 \text{ TL} + 30 \text{ kr.} + \dots = 3 \text{ TL}$$

$$- 6 \text{ TL} + 80 \text{ kr.} + \dots = 8 \text{ TL}$$

$$- 3 \text{ TL} + 70 \text{ kr.} + \dots = 4 \text{ TL}$$

$$- 8 \text{ TL} + 75 \text{ kr.} + \dots = 10 \text{ TL}$$

$$- 9 \text{ TL} + 75 \text{ kr.} + \dots = 10 \text{ TL}$$

$$- 7 \text{ TL} + 50 \text{ kr.} + \dots = 8 \text{ TL}$$

$$- 8 \text{ TL} + 50 \text{ kr.} + \dots = 9 \text{ TL}$$

$$- 4 \text{ TL} + 25 \text{ kr.} + \dots = 5 \text{ TL}$$

$$- 4 \text{ TL} + 40 \text{ kr.} + \dots = 5 \text{ TL}$$

$$- 8 \text{ TL} + 75 \text{ kr.} + \dots = 9 \text{ TL}$$

$$- 5 \text{ TL} + 25 \text{ kr.} + \dots = 6 \text{ TL}$$



ETKİNLİK 6

Aşağıda verilen paraları istenen paralara tamamlamak için ne kadar paraya ihtiyacımı vardır bulalım.

$$- 50 \text{ kr.} + 25 \text{ kr.} + 2 \text{ TL} + \dots = 4 \text{ TL}$$

$$- 90 \text{ kr.} + 5 \text{ kr.} + 2 \text{ TL} + \dots = 3 \text{ TL}$$

$$- 30 \text{ kr.} + 70 \text{ kr.} + 3 \text{ TL} + \dots = 5 \text{ TL}$$

$$- 80 \text{ kr.} + 15 \text{ kr.} + 3 \text{ TL} + \dots = 5 \text{ TL}$$

$$- 40 \text{ kr.} + 60 \text{ kr.} + 2 \text{ TL} + \dots = 6 \text{ TL}$$

$$- 40 \text{ kr.} + 40 \text{ kr.} + 1 \text{ TL} + \dots = 2 \text{ TL}$$

$$- 50 \text{ kr.} + 25 \text{ kr.} + 2 \text{ TL} + \dots = 3 \text{ TL}$$

$$- 30 \text{ kr.} + 70 \text{ kr.} + 2 \text{ TL} + \dots = 5 \text{ TL}$$

$$- 30 \text{ kr.} + 25 \text{ kr.} + 2 \text{ TL} + \dots = 3 \text{ TL}$$

$$- 20 \text{ kr.} + 30 \text{ kr.} + 2 \text{ TL} + \dots = 4 \text{ TL}$$

$$- 70 \text{ kr.} + 20 \text{ kr.} + 4 \text{ TL} + \dots = 5 \text{ TL}$$

$$- 10 \text{ kr.} + 90 \text{ kr.} + 1 \text{ TL} + \dots = 4 \text{ TL}$$

$$- 60 \text{ kr.} + 10 \text{ kr.} + 1 \text{ TL} + \dots = 2 \text{ TL}$$

$$- 65 \text{ kr.} + 25 \text{ kr.} + 2 \text{ TL} + \dots = 3 \text{ TL}$$


$$- 45 \text{ kr.} + 25 \text{ kr.} + 2 \text{ TL} + \dots = 3 \text{ TL}$$

$$- 90 \text{ kr.} + 5 \text{ kr.} + 6 \text{ TL} + \dots = 7 \text{ TL}$$



ETKİNLİK 7

Aşağıda verilen ürünlerin fiyatlarının kaç kuruş olduğunu örnekteki gibi bulalım.

Ürün	Fiyatı					
0.7 uç	475 kuruş 4 tl 75 kuruş	1 tane 5 kr	2 tane 20 kr	-	1 tane 50 kr	4 tane 400 kr
Defter		2 tane	3 tane	2 tane	2 tane	5 tane
Cetvel		6 tane	2 tane	-	-	2 tane
Kalem		10 tane	2 tane	4 tane	1 tane	3 tane
Zimba teli		-	-	-	4 tane	4 tane
Kuru boya		20 tane	10 tane	2 tane	2 tane	3 tane
Pastel boya		-	5 tane	-	1 tane	6 tane
Sulu boya		-	-	-	2 tane	7 tane
Resim defteri		10 tane	10 tane	-	2 tane	5 tane
Tahta kalemi		-	-	4 tane	6 tane	-