

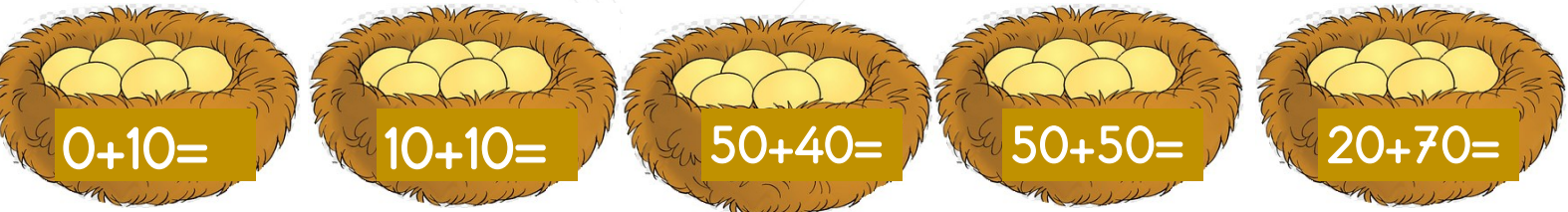

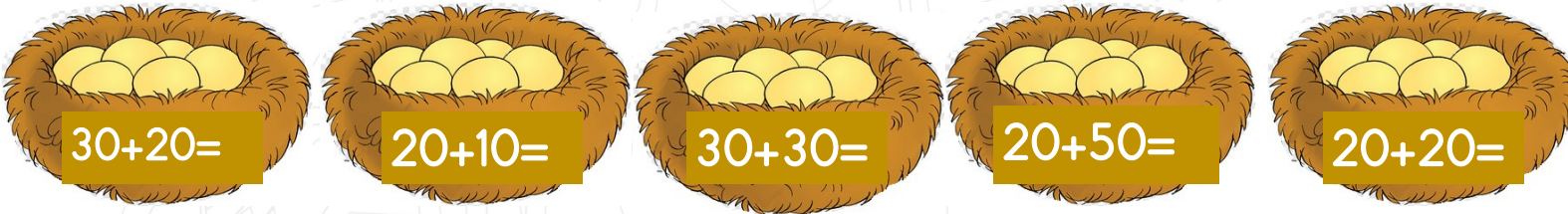
Zihinden toplama yaparken birler basamağındaki sıfırları yok sayarız. Onlar basamağındaki rakamları toplar. Birler basamağına sıfırı (0) ekleriz. Böylelikle kalem kağıt kullanmadan hızlı bir şekilde işlemimizi yaparız.

ÖRNEK: Lütfi 40 liraya oyuncak araba 20 liraya oyuncak bebek almıştır. Lütfi toplam kaç tl para vermiştir? Zihinden bulalım.

Çözüm:

$4+2=6$ şimdi de birler basamağına 0 ekleriz. Sonuç 60 olur. Hızlı bir şekilde sonucu bulduk.

İşlemleri zihinden yapıp kuşları yuvasına götürelim.



Aşağıda verilen toplama işlemlerini zihinden yapalım.

$60+20=$

$20+30=$

$40+20=$

$60+40=$

$10+20=$

$60+30=$

$40+50=$

$30+40=$

$50+20=$

$30+30=$

$80+10=$

$30+40=$

$70+20=$

$20+20=$

$70+20=$

$60+40=$

Aşağıdaki sayıları zihinden toplayarak yapalım.

$$\begin{array}{r} 20 + 10 + 40 \\ 30 + 50 \\ 80 \end{array}$$

$$\begin{array}{r} 30 + 10 + 40 \\ \square + \square \\ \square \end{array}$$

$$\begin{array}{r} 60 + 10 + 10 \\ \square + \square \\ \square \end{array}$$

$$\begin{array}{r} 20 + 30 + 10 \\ \square + \square \\ \square \end{array}$$

$$\begin{array}{r} 10 + 10 + 40 \\ \square + \square \\ \square \end{array}$$

$$\begin{array}{r} 30 + 20 + 30 \\ \square + \square \\ \square \end{array}$$

ZİHİNDEN TOPLAMA YÖNTEMİ

1. Önce onlukları topla
2. Sonra birlikleri topla
3. Onluklar ile birlikleri topla

Örnek: $43+26$ işlemini zihinden yapalım.

1. $40+20 =60$
2. $3+6=9$
3. $60+9=69$

Aşağıda verilen işlemleri örnekteki gibi çözelim.

$$66 + 12 = \square$$

$$\begin{array}{r} 60 \\ + 10 \\ \hline 70 \end{array}$$

$$\begin{array}{r} 6 \\ + 2 \\ \hline 8 \end{array}$$

$$\begin{array}{r} 70 \\ + 8 \\ \hline 78 \end{array}$$

$$71 + 14 = \square$$

$$\begin{array}{r} \dots \\ + \dots \\ \hline \dots \end{array}$$

$$\begin{array}{r} \dots \\ + \dots \\ \hline \dots \end{array}$$

$$\begin{array}{r} \dots \\ + \dots \\ \hline \dots \end{array}$$

$$56 + 42 = \square$$

$$\begin{array}{r} \dots \\ + \dots \\ \hline \dots \end{array}$$

$$\begin{array}{r} \dots \\ + \dots \\ \hline \dots \end{array}$$

$$\begin{array}{r} \dots \\ + \dots \\ \hline \dots \end{array}$$

$$48 + 31 = \square$$

$$\begin{array}{r} \dots \\ + \dots \\ \hline \dots \end{array}$$

$$\begin{array}{r} \dots \\ + \dots \\ \hline \dots \end{array}$$

$$\begin{array}{r} \dots \\ + \dots \\ \hline \dots \end{array}$$

$$35 + 22 = \square$$

$$\begin{array}{r} \dots \\ + \dots \\ \hline \dots \end{array}$$

$$\begin{array}{r} \dots \\ + \dots \\ \hline \dots \end{array}$$

$$\begin{array}{r} \dots \\ + \dots \\ \hline \dots \end{array}$$

$$46 + 23 = \square$$

$$\begin{array}{r} \dots \\ + \dots \\ \hline \dots \end{array}$$

$$\begin{array}{r} \dots \\ + \dots \\ \hline \dots \end{array}$$

$$\begin{array}{r} \dots \\ + \dots \\ \hline \dots \end{array}$$

$$32 + 56 = \square$$

$$\begin{array}{r} \dots \\ + \dots \\ \hline \dots \end{array}$$

$$\begin{array}{r} \dots \\ + \dots \\ \hline \dots \end{array}$$

$$\begin{array}{r} \dots \\ + \dots \\ \hline \dots \end{array}$$

$$27 + 42 = \square$$

$$\begin{array}{r} \dots \\ + \dots \\ \hline \dots \end{array}$$

$$\begin{array}{r} \dots \\ + \dots \\ \hline \dots \end{array}$$

$$\begin{array}{r} \dots \\ + \dots \\ \hline \dots \end{array}$$

Aşağıdaki toplama işlemlerini örnekteki gibi yapalım.

$$38+12$$

$$=30+8+10+2$$

$$=30+10+8+2$$

$$=40+10$$

$$=50$$

$$17+35$$

=

=

=

=

$$22+25$$

=

=

=

=

$$53+11$$

=

=

=

=

$$16+33$$

=

=

=

=

$$25+13$$

=

=

=

=

$$13+32$$

=

=

=

=

$$47+16$$

=

=

=

=

$$24+12$$

=

=

=

=



