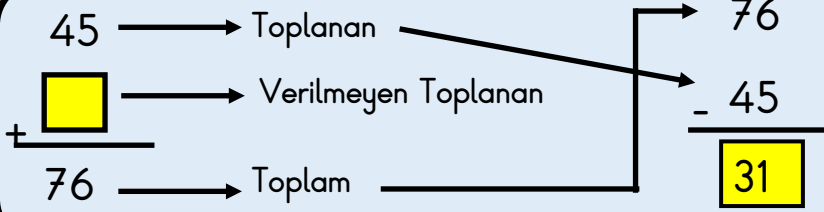


Bir toplama işleminde verilmeyen toplanan, toplam ile verilen toplanan arasındaki farktır.



ETKİNLİKLER

Verilmeyen toplananları bulalım.

$$\begin{array}{r} 32 \\ + [] \\ \hline 63 \end{array} \quad \begin{array}{r} - \\ \hline \end{array}$$

$$\begin{array}{r} [] \\ + 19 \\ \hline 78 \end{array} \quad \begin{array}{r} - \\ \hline \end{array}$$

$$\begin{array}{r} 10 \\ + [] \\ \hline 26 \end{array} \quad \begin{array}{r} - \\ \hline \end{array}$$

$$\begin{array}{r} [] \\ + 50 \\ \hline 70 \end{array} \quad \begin{array}{r} - \\ \hline \end{array}$$

$$\begin{array}{r} 37 \\ + [] \\ \hline 98 \end{array} \quad \begin{array}{r} - \\ \hline \end{array}$$

$$\begin{array}{r} [] \\ + 47 \\ \hline 65 \end{array} \quad \begin{array}{r} - \\ \hline \end{array}$$

$$\begin{array}{r} 16 \\ + [] \\ \hline 36 \end{array} \quad \begin{array}{r} - \\ \hline \end{array}$$

$$\begin{array}{r} [] \\ + 38 \\ \hline 72 \end{array} \quad \begin{array}{r} - \\ \hline \end{array}$$

$$\begin{array}{r} 46 \\ + [] \\ \hline 87 \end{array} \quad \begin{array}{r} - \\ \hline \end{array}$$

$$\begin{array}{r} [] \\ + 31 \\ \hline 53 \end{array} \quad \begin{array}{r} - \\ \hline \end{array}$$

$$\begin{array}{r} 44 \\ + [] \\ \hline 93 \end{array} \quad \begin{array}{r} - \\ \hline \end{array}$$

$$\begin{array}{r} [] \\ + 25 \\ \hline 50 \end{array} \quad \begin{array}{r} - \\ \hline \end{array}$$

$$\begin{array}{r} 55 \\ + [] \\ \hline 76 \end{array} \quad \begin{array}{r} - \\ \hline \end{array}$$

$$\begin{array}{r} [] \\ + 25 \\ \hline 42 \end{array} \quad \begin{array}{r} - \\ \hline \end{array}$$

$$\begin{array}{r} 45 \\ + [] \\ \hline 84 \end{array} \quad \begin{array}{r} - \\ \hline \end{array}$$

$$\begin{array}{r} [] \\ + 20 \\ \hline 20 \end{array} \quad \begin{array}{r} - \\ \hline \end{array}$$

Verilmeyen toplananları bulalım.

$$\begin{array}{r} \square \\ + 25 \\ \hline 67 \end{array}$$

$$\begin{array}{r} 17 \\ + \square \\ \hline 49 \end{array}$$

$$\begin{array}{r} \square \\ + 25 \\ \hline 67 \end{array}$$

$$\begin{array}{r} 17 \\ + \square \\ \hline 49 \end{array}$$

$$\begin{array}{r} \square \\ + 25 \\ \hline 67 \end{array}$$

$$\begin{array}{r} 17 \\ + \square \\ \hline 49 \end{array}$$

$$\begin{array}{r} \square \\ + 25 \\ \hline 67 \end{array}$$





$$\begin{array}{r} 17 \\ + \square \\ \hline 49 \end{array}$$

$$\begin{array}{r} \square \\ + 25 \\ \hline 67 \end{array}$$

$$\begin{array}{r} 17 \\ + \square \\ \hline 49 \end{array}$$

Verilmeyen toplananları bulalım. Bulduğumuz toplananlar ile çiçekleri eşleştirelim

$\begin{array}{r} 38 \\ + \square \\ \hline 64 \end{array}$	$\begin{array}{r} \square \\ + 29 \\ \hline 86 \end{array}$	$\begin{array}{r} 17 \\ + \square \\ \hline 66 \end{array}$	$\begin{array}{r} \square \\ + 84 \\ \hline 99 \end{array}$
---	---	---	---



Evlerin katlarında toplananları verilmeyen işlemler verilmiştir. Evlerin çatılarında bulunan sayılar toplam sonuçlardır. Katlardaki toplama işlemlerinde verilmeyen toplananları bulalım.

<div style="background-color: yellow; width: 60px; height: 60px; margin: 0 auto; display: flex; align-items: center; justify-content: center; font-weight: bold; font-size: 24px;">87</div> <table border="1" style="width: 100%; border-collapse: collapse; margin-top: 5px;"> <tr><td style="padding: 5px;">$45 + \dots$</td></tr> <tr><td style="padding: 5px;">$\dots + 54$</td></tr> <tr><td style="padding: 5px;">$66 + \dots$</td></tr> </table>	$45 + \dots$	$\dots + 54$	$66 + \dots$	<div style="background-color: yellow; width: 60px; height: 60px; margin: 0 auto; display: flex; align-items: center; justify-content: center; font-weight: bold; font-size: 24px;">76</div> <table border="1" style="width: 100%; border-collapse: collapse; margin-top: 5px;"> <tr><td style="padding: 5px;">$35 + \dots$</td></tr> <tr><td style="padding: 5px;">$\dots + 46$</td></tr> <tr><td style="padding: 5px;">$55 + \dots$</td></tr> </table>	$35 + \dots$	$\dots + 46$	$55 + \dots$	<div style="background-color: yellow; width: 60px; height: 60px; margin: 0 auto; display: flex; align-items: center; justify-content: center; font-weight: bold; font-size: 24px;">65</div> <table border="1" style="width: 100%; border-collapse: collapse; margin-top: 5px;"> <tr><td style="padding: 5px;">$28 + \dots$</td></tr> <tr><td style="padding: 5px;">$\dots + 54$</td></tr> <tr><td style="padding: 5px;">$38 + \dots$</td></tr> </table>	$28 + \dots$	$\dots + 54$	$38 + \dots$	<div style="background-color: yellow; width: 60px; height: 60px; margin: 0 auto; display: flex; align-items: center; justify-content: center; font-weight: bold; font-size: 24px;">54</div> <table border="1" style="width: 100%; border-collapse: collapse; margin-top: 5px;"> <tr><td style="padding: 5px;">$22 + \dots$</td></tr> <tr><td style="padding: 5px;">$\dots + 36$</td></tr> <tr><td style="padding: 5px;">$25 + \dots$</td></tr> </table>	$22 + \dots$	$\dots + 36$	$25 + \dots$
$45 + \dots$															
$\dots + 54$															
$66 + \dots$															
$35 + \dots$															
$\dots + 46$															
$55 + \dots$															
$28 + \dots$															
$\dots + 54$															
$38 + \dots$															
$22 + \dots$															
$\dots + 36$															
$25 + \dots$															

Aşağıda verilen soruları çözelim.



Aklımdan tuttuğum sayının 45 fazlası 76'dır. Aklımda tuttuğum sayı kaçtır?

ÇÖZÜM



Aklımdan tuttuğum sayının 32 fazlası 59'dur. Aklımda tuttuğum sayı kaçtır?

ÇÖZÜM



Aklımdan tuttuğum sayının 47 fazlası 97'dir. Aklımda tuttuğum sayı kaçtır?

ÇÖZÜM



Aklımdan tuttuğum sayının 47 fazlası 97'dir. Aklımda tuttuğum sayı kaçtır?

ÇÖZÜM

Aşağıda verilen soruları çözelim.

1) Öğretmenim 1 düzine kalem verince toplam 57 kalemim oldu. İlk başta kaç kalemim vardı?

2) Kuzey, 1 düzine toka verince toplam tokam 56 oldu. Benim ilk başta kaç tokam vardı?

3) Bir çiftlikte toplam 87 tane hayvan vardır. Hayvanların 48 tanesi tavuk kalanları ise koyundur. Bu çiftlikte kaç tane koyun vardır?

4) Bir kasada toplam 73 tane mandalina ve portakal vardır. Meyvelerin 26 tanesi mandalina olduğuna göre kaç tanesi portakaldır?

5) $48 + \star = 95$

Yukarıda verilen toplama işleminde verilmeyen toplanan kaçtır?

6)
$$\begin{array}{r} 32 \\ + \square \\ \hline 63 \end{array} \quad \begin{array}{r} \star \\ + 19 \\ \hline 78 \end{array} \quad \square + \star =$$