

FARELİ KÖYÜN KAVALCISI



Evvel zaman içinde Hamelin adında bir köy varmış. Hamelin, Almanya'da nehrin kenarında sakin ve sevimli bir köymüş. Fakat köy halkı, bu güzel yerin değerini bilememiş. Hamelin'i kirletmişler. Yollara, evlerinin önüne ve gittikleri her yere çöp atmışlar. Bunun sonucunda köyü fareler basmış.

Köy halkı, köyün yöneticisinin evine giderek yardım istemiş. "Fareleri yok edin! Fareler yok edilmeli!" demişler. Yönetici "Bir çözüm bulmak için toplantı yapacağız. Biraz zaman verin." demiş. Yönetici toplantılar yapmış, çeşitli yöntemler denemiş ama nafile. Fareler için bir türlü çözüm bulunamamış. Meclis çaresizce ne yapacağını düşünürken, aniden kapı

çalınmış. İçeri bir adam girmiş. Gördükleri en garip adammış. Kırmızı renkli bir palto giyiyormuş. Zayıf ve uzun boyluymuş. Parmakları kaval çalarmış gibi durmadan oynuyormuş. Yönetici "Yoksa sirkten mi kaçtın?" demiş. Adam ise "Bana kavalcı derler, gizemli bir becerim var. Dünyadaki bütün canlıları toplayabilirim. Bu becerimi zararlı hayvanlar için kullanıyorum. Kurbağa, yılan ve fare gibi." diye cevap vermiş. Yönetici "Fare mi?" diye yerinden fırlamış. "Bizi farelerden kurtarabilir misin?" diye heyecanla sormuş. Kavalcı "Evet kurtarabilirim." demiş. Yönetici "Tamam becerini göster ve bizi o farelerden kurtar." diye sevinçle haykırarak demiş. Kavalcı "Elbette efendim ama bunun için bana istediğim ücreti verecek misiniz?" diye sormuş. Yönetici "Evet tabi ki ne istersen..." demiş. Fareli Köyün Kavalcısı sokağa çıkarak gülümsemiş. Kavalını eline almış. Kavalıyla üç dize ses çıkarmış. Büyülenmişçesine tüm fareler kemirdikleri yiyecekleri bırakıp evlerden, ayakkabılardan, şapkalardan çıkmışlar. Hepsi kavalcıyı takip etmeye başlamışlar. Nehre gelene dek adım adım ilerlemişler. Hamelin halkının ağız açık kalmış. Kavalcı suyun üzerinde bir kayaya zıplamış. Orada dikilerek kaval çalmaya devam etmiş. Fareler de onu takip ederlerken nehre düşerek boğulmuşlar. Hamelin köyü farelerden kurtulmuş. Kavalcı ödülünü almak için yöneticiye gitmiş. Ama yönetici sözünü tutmamış. Kavalcı sinirlenerek, "Bu yaptığınız doğru değil! Neler yapabileceğimi size göstereceğim. Köyün bütün çocuklarını peşimden sürükleyeceğim!" demiş. Kavalcı salondan ayrılmış. Sokağa çıkıp yine kavalını çıkarmış ve çalmaya başlamış. Ancak bu kez çaldığı farklı bir melodiymiş. Bir anda tüm çocuklar teker teker kavalcının arkasından yürümeye başlamışlar. Fareli köyün kavalcısı yürürken çocuklar onu takip ediyorlarmış. Melodi anne ve babalarını da büyülemiş. Yerlerinden kıpırdayamamışlar.

Yönetici gözlerine inanmamış. Çocukların gitmekte olduğunu görünce eli ayağına dolaşmış. Pişman olarak sözünü tutmuş. Kavalcının ücretini vermek zorunda kalmış. Kavalcı da kavalı çalmayı bırakmış. Çocuklar evlerine dönmüşler. Fareler yok olmuşlar. Hamelin köyü tertemiz bir köy haline gelmiş.

Hans Christian Andersen (Kısaltılmıştır)

1-Masalın geçtiği köyün adı nedir?

Hamelin adlı köymüş.

2- Köyü neden fareler basmış?

Çünkü köy halkı çevreyi kirletmiş.

3- Kavalcının olağan üstü yeteneği neymiş?

Kavalıyla zararlı hayvanları sürüklüyormuş.

4- Fareler neden ölmüşler?

Suya düştükleri için ölmüşler.

5- Kavalcı neden çocukları peşinden sürüklemiş?

Ücretini alamadığı için sürüklemiş.

6- Çocukların gittiğini gören yönetici ne yapmış?

Pişman olup kavalcının ücretini vermiş.

Atasözleri (Tekrar)

❖ Kelime çarkındaki kelimeleri inceleyiniz. Uygun olan kelimelerle atasözlerini tamamlayınız.

Dağ dağa **kavuşmaz** insan insana kavuşur.

Besle kargayı oysun **gözünü**.

Keskin sirke küpüne zarar.


Sakla **samanı** gelir zamanı.

El elden üstündür.

Erken öten **horozun** başını keserler.

Gülü seven **dikenine** katlanır.

Takke düştü **kel** göründü.



❖ Aşağıda verilen atasözlerinin anlamlarını alt taraflarındaki boşluklara yazınız.



İki karpuz bir koltuğa sığmaz.

Aynı anda iki işi bir arada yapamayız.
Sırayla yaparsak daha iyi olur.



Komşu komşunun külüne muhtaçtır.

Komşuluk çok önemlidir. Komşular her zaman birbirlerine ihtiyaç duyarlar.



Yazın başı pişenin kışın aşı pişer.

Zamanında emek harcıyıp çalışanlar,
zor zamanlarında da rahat ederler.



İşleyen demir pas tutmaz.

Çalışan insanlar her zaman zinde kalır.
Çalışmayan insan ise zamanla körelir.



Üzüm üzüme baka baka kararır.

İnsanlar beraber oldukları kişilerin özelliklerini alırlar. O kişinin huyunu edinirler.

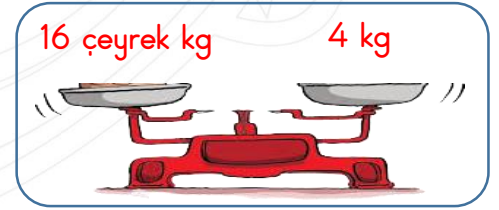
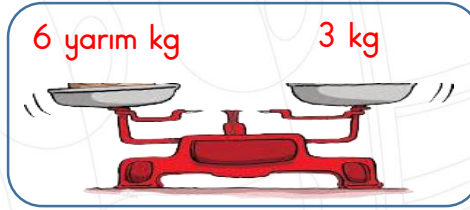
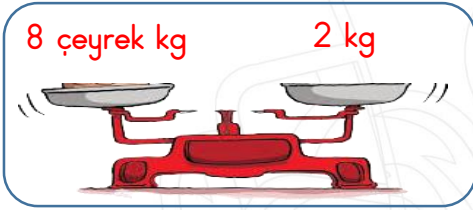
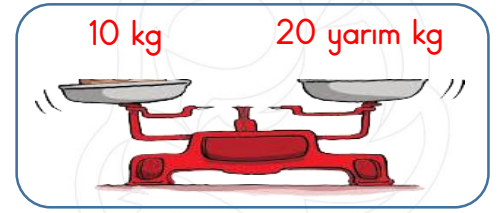
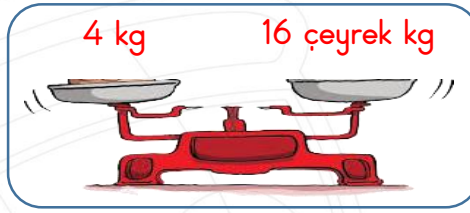
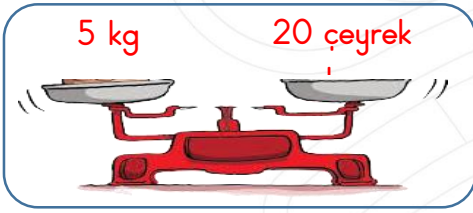
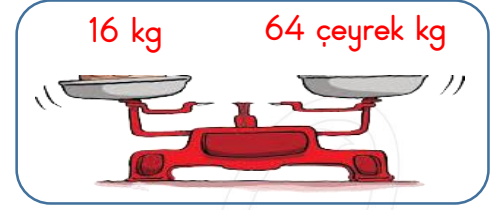
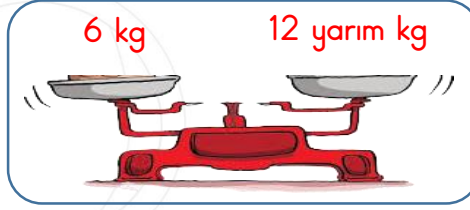
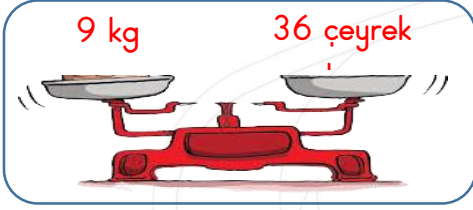


Ayağını yorganına göre uzat.


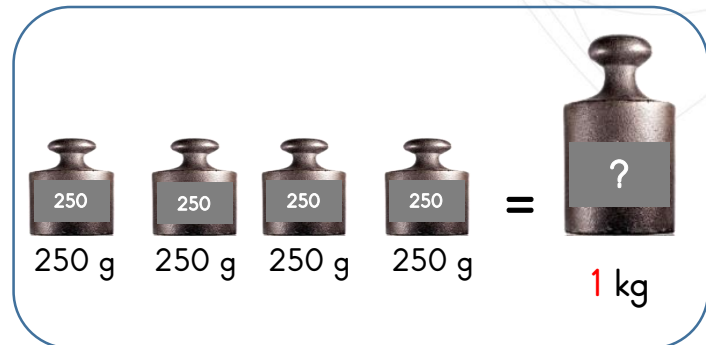
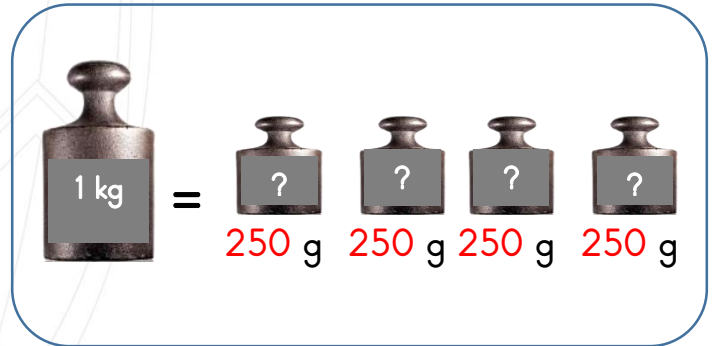
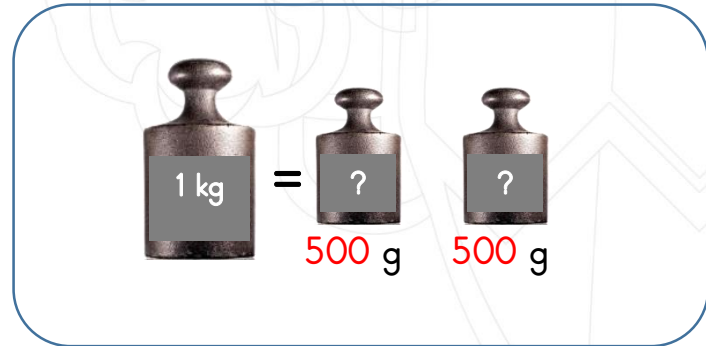
Gelirimize göre giderlerimizi ayarlamalıyız. Gelirimizden fazla harcama yapmamalıyız.

Yarım ve çeyrek kilogram

❖ Aşağıdaki terazilerde bulunan kütle ölçüleri arasındaki çevirmeleri yapınız.











❖ Aşağıda verilen kütle ölçülerini inceleyiniz. Boşlukları doldurunuz.



Ton ve miligram

- ❖ Aşağıdaki varlıkların altlarına, kütlelerinin hangi birimle ölçülebileceğini yazınız. (kilogram, gram, miligram veya ton)

 ton	 miligram	 gram	 miligram
 kilogram	 ton	 miligram	 ton

- ❖ Kütle ölçüleri arasındaki çevirmeleri yapınız. (ton, kilogram)

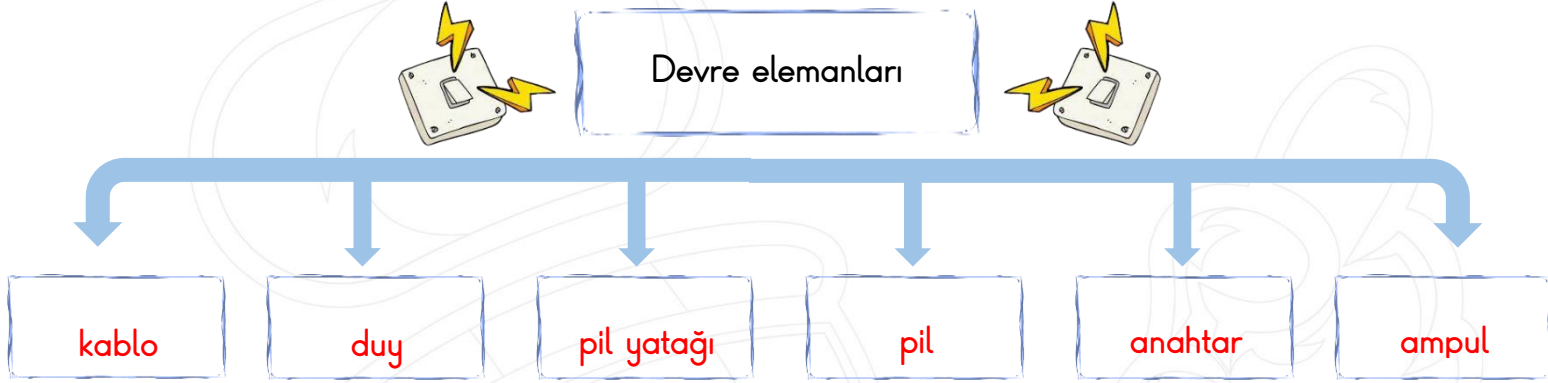
3 ton = 3000 kg	8000 kg = 8 ton	4 ton = 4000 kg
12 ton = 12000 kg	5000 kg = 5 ton	22 ton = 22000 kg
13 ton = 13000 kg	60000 kg = 60 ton	9 ton = 9000 kg

- ❖ Kütle ölçüleri arasındaki çevirmeleri yapınız. (gram, miligram)

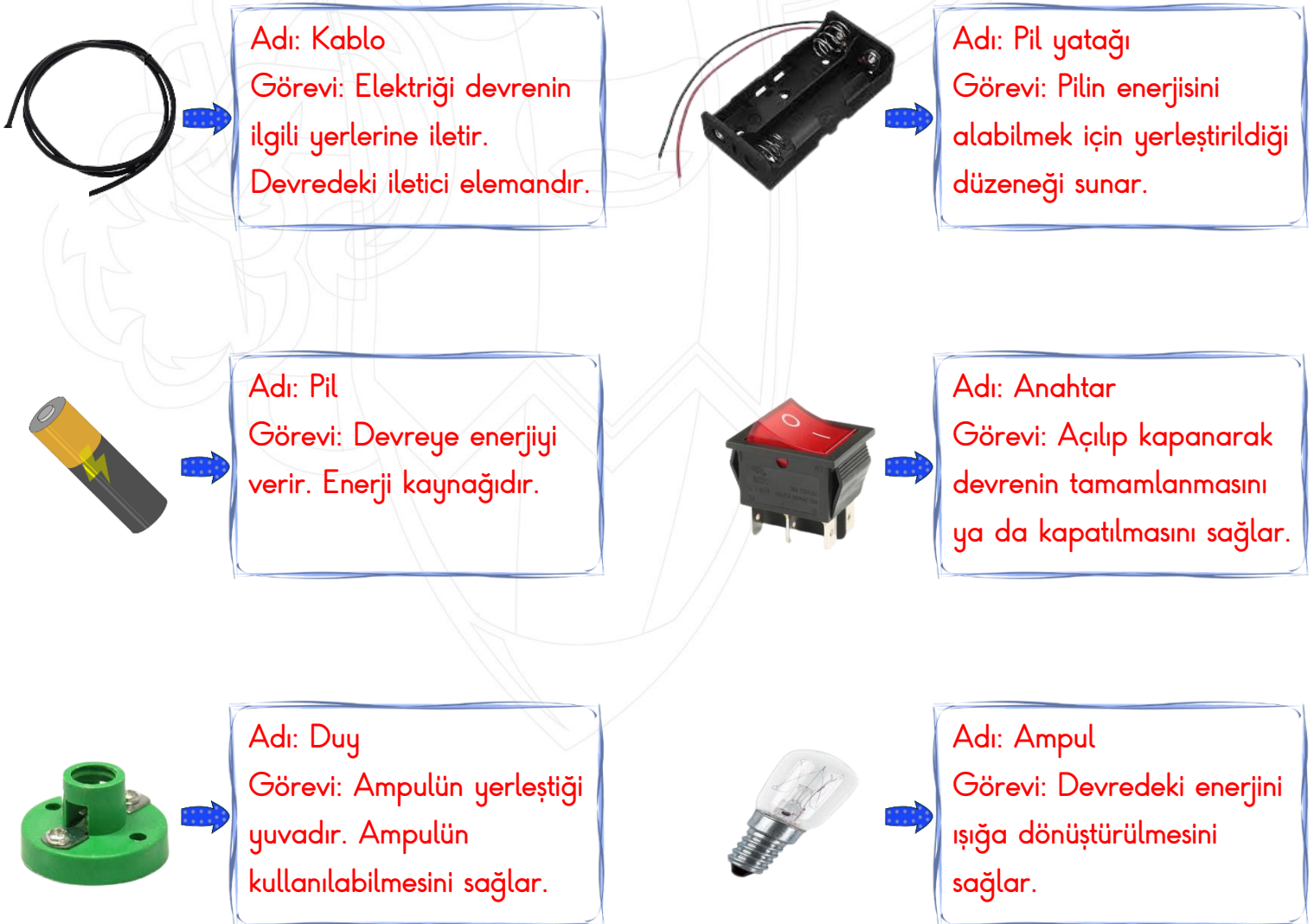
3 g = 3000 mg	2000 mg = 2 g	35000 mg = 35 g
21 g = 21000 mg	12000 mg = 12 g	7000 mg = 7 g
33 g = 33000 mg	6000 mg = 6 g	6000 mg = 6 g

Devre elemanları ve görevleri

❖ Aşağıda verilen şemayı inceleyiniz. Şemadaki boşluklara, elektrik devre elemanlarının adlarını yazınız.



❖ Aşağıdaki devre elemanlarının isimlerini ve görevlerini yazınız.



Komşularımız ve Türk Cumhuriyetleri

❖ Türk Cumhuriyetleri ile ilgili istenilen bilgileri boşluklara yazınız.

TÜRK CUMHURİYETLERİ

Kırgızistan



Dili : Kırgızca
Başkenti: Bişkek
Nüfusu : 6 milyon

Azerbaycan



Dili : Azerice
Başkenti: Bakü
Nüfusu : 10 milyon

Özbekistan



Dili : Özbekçe
Başkenti: Taşkent
Nüfusu : 33 milyon

Kazakistan



Dili : Kazakça
Başkenti: Astana
Nüfusu : 18 milyon

KKTC



Dili : Türkçe
Başkenti: Lefkoşa
Nüfusu : 326 bin

Türkmenistan



Dili : Türkmençe
Başkenti: Aşkabat
Nüfusu : 6 milyon

❖ Ülkemizin komşuları ile ilgili istenilen bilgileri boşluklara yazınız.

Bulgaristan



Dili : Bulgarca
Başkenti: Sofya
Nüfusu : 7 milyon

KOMŞULARIMIZ

Nahçıvan



Dili : Azerice
Başkenti: Nahçıvan
Nüfusu : 460 bin

İran



Dili : Farsça
Başkenti: Tahran
Nüfusu : 82 milyon

İrak



Dili : Arapça
Başkenti: Bağdat
Nüfusu : 39 milyon

Suriye



Dili : Arapça
Başkenti: Şam
Nüfusu : 17 milyon

Yunanistan



Dili : Yunanca
Başkenti: Atina
Nüfusu : 10 milyon

Gürcistan



Dili : Gürcüce
Başkenti: Tiflis
Nüfusu : 4 milyon

Ermenistan



Dili : Ermenice
Başkenti: Erivan
Nüfusu : 3 milyon

MINİ TEST

$2 \text{ ton} = 20 \text{ kg}$

$7000 \text{ kg} = 7 \text{ ton}$

$4 \text{ g} = 4000 \text{ mg}$

$30000 \text{ mg} = 3 \text{ g}$

$6 \text{ ton} = 6000 \text{ kg}$

$800 \text{ kg} = 8 \text{ ton}$

$12 \text{ g} = 12000 \text{ mg}$

$90 \text{ mg} = 9 \text{ g}$

1- Yukarıdaki kütle ölçüsü çevirilerinden kaç tanesi yanlıştır?

A) dört

B) beş

C) altı

D) yedi



2- Yukarıdaki sineğin kütlesi aşağıdakilerden hangisi olabilir?

A) 8 kg

B) 95 g

C) 12 mg

D) 6 ton

3- Hangisinin kütlesi ton ile ölçülebilir?

A)



B)



C)



D)



El elin eşeğini ararmış.

4- Yukarıdaki atasözünü tamamlarsak boş bırakılan bölümlere ne yazmalıyız?

A) can atarak

B) türkü söyleyerek

C) akıl vererek

D) isteyerek ve severek

5- Aşağıdaki atasözlerinden hangisi tasarruf ile ilgili değildir?

A) Damlaya damlaya göl olur.

B) Keskin sirke küpüne zarar.

C) Her çok azdan olur.

D) İşten artmaz dişten artar.

Tembel kişilerden bir iş yapmasını istediğinizde, o işi yapmamak için size farklı fikirler verirler.

6- Yukarıda açıklaması verilen atasözü aşağıdakilerden hangisidir?

A) Yazın gölge hoş kışın çuval boş.

B) Tembel kazan geç kaynar.

C) Kelin ilacı olsa kendi başına sürer.

D) Tembele iş buyur sana akıl öğretsin.

Kazakistan

Yunanistan

Irak

Gürcistan

Kırgızistan

Azerbaycan

7- Yukarıdaki ülkelerden kaç tanesi ülkemize komşudur?

A) bir

B) iki

C) üç

D) dört

- () Suriye ülkemize komşu bir ülkedir.
 () Gürcistan bir Türk cumhuriyetidir.
 () Azerbaycan'ın başkenti Bakü'dür.
 () İran'ın resmi dili Farsçadır.

8- Yukarıdaki tümcelerın doğru olanlarının başına " D " ve yanlış olanlarının başına " Y " koyarsak, sonuç aşağıdakilerden hangisi olur ?

A) D - D - D - Y

B) Y - Y - Y - D

C) D - D - Y - Y

D) D - Y - D - D

9- Aşağıdakilerden hangisi Azerbaycan bayrağıdır?



Devrenin enerji kaynağı pildir.

Anahtar devreyi açıp kapatır.

Pil olmasa da devredeki ampul yanar.

Piller pil yatağına yerleştirilir.

10- Yukarıdaki bilgilerden kaç tanesi doğrudur?


A) bir

B) iki

C) üç

D) dört

11- Devredeki elektriğin iletimini sağlayan devre elemanı aşağıdakilerden hangisidir?



Devrede ampulün içine yerleştirildiği devre elemanına denir.

12- Yukarıdaki boşluğa ne yazabiliriz ?

A) kablo

B) duş

C) pil yatağı

D) anahtar