










- 3 Basamaklı doğal sayıları karşılaştırırken yapmamız gereken ilk önce sayının yüzler basamağına bakmak. Yüzler basamağı büyük olan sayı daha büyüktür.
- Yüzler basamağı aynıysa bakmamız gereken yer onlar basamağıdır.
- Onlar basamağı da aynıysa birler basamağına bakarız.
- İki sayıdan büyük olan sayıyı bulurken $>$ (345 > 436)
- İki sayıdan küçük olanı bulurken $<$ (936 < 945)
- İki sayı da eşitse $=$ (936 = 936)



Aşağıda verilen arıların kanatlarından büyük sayı olan arının kanadı sarıya küçük sayı olan kanadı kırmızıya boyayalım.



Aşağıda verilen noktalı yerler büyüktür, küçüktür, eşittir ifadeleri ile dolduralım.

-695 sayısı 696 sayısından.....

-702 sayısı 595 sayısından.....

-305 sayısı 305 sayısına.....

-415 sayısı 435 sayısından.....

-715 sayısı 615 sayısından.....

-510 sayısı 509 sayısından.....

-105 sayısı 99 sayısından.....

-266 sayısı 250 sayısından.....

-102 sayısı 103 sayısından.....

-405 sayısı 305 sayısından.....

-312 sayısı 312 sayısına.....

-733 sayısı 734 sayısından.....

-510 sayısı 510 sayısına.....

-228 sayısı 208 sayısından.....



Ařađıda verilen noktalı yerlere $<$, $>$, $=$ sembollerinden hangisi gelmelidir. Karşılařtırma yapıp yazalım.

$766 \dots\dots\dots 756$

$220 \dots\dots\dots 130$

$344 \dots\dots\dots 346$

$912 \dots\dots\dots 912$

$176 \dots\dots\dots 176$

$720 \dots\dots\dots 720$

$105 \dots\dots\dots 100$

$116 \dots\dots\dots 818$

$623 \dots\dots\dots 666$

$356 \dots\dots\dots 185$

$188 \dots\dots\dots 161$

$700 \dots\dots\dots 695$

$412 \dots\dots\dots 413$

$536 \dots\dots\dots 556$

$805 \dots\dots\dots 705$

$389 \dots\dots\dots 505$

$717 \dots\dots\dots 716$

$138 \dots\dots\dots 316$

$576 \dots\dots\dots 651$

$778 \dots\dots\dots 780$

$185 \dots\dots\dots 576$

$444 \dots\dots\dots 456$

$500 \dots\dots\dots 500$

$128 \dots\dots\dots 128$



Ařađıda verilen sayıları büyükten küçüđe dođru semboller kullanarak sıralayalım.

445-717-138-446

336-218-135-335

555-381-138-196

125-117-128-116

235-211-438-316

711-717-738-746

105-217-557-550

101-227-338-226



Ařađıda verilen sayıları küçükten büyüđe dođru semboller kullanarak sıralayalım.

172-217-138-446

445-717-138-446

811-777-605-541

945-917-838-991

999-117-318-502

715-518-338-150

98-789-111-201

702-648-735-641



Ařađıda verilen noktalı yerlere gelecek en küçük sayının ne olduđunu noktalı yerlere yazalım.

$..... < 756$

$..... < 500$

$..... < 999$

$..... < 185$

$..... < 136$

$..... < 638$

$..... < 238$

$..... < 499$

$..... < 567$

$..... < 385$

$..... < 106$

$..... < 889$



Ařađıda verilen noktalı yerlere gelecek en büyük sayının ne olduđunu noktalı yerlere yazalım.

$..... > 656$

$..... > 400$

$..... > 888$

$..... > 756$

$..... > 236$

$..... > 200$

$..... > 138$

$..... > 999$

$..... > 100$

$..... > 299$

$..... > 856$

$..... > 789$



Ařađıda verilen noktalı yerlere $<$, $>$, $=$ sembollerini yerleřtirelim.

$678.....675.....675$

$911.....925.....936$

$632.....602.....599$

$599.....600.....601$

$125.....125.....110$

$188.....195.....195$

$114.....114.....110$

$456.....564.....565$

$145.....310.....487$




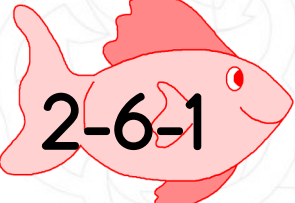
$218.....205.....205$

$96.....100.....100$

$141.....132.....132$




Ařađıda verilen tabloyu balıkların üzerindeki rakamları birer kez kullanarak 3 basamaklı sayılar oluřturalım.

Sayı	En büyük sayı	En küçük sayı	900' den küçük en büyük sayı	400'den büyük en küçük sayı







Ařađıda verilen soruları cevaplandıralım.

 $214 < \dots < 219$


Yukarıda verilen noktalı yere gelecek en büyük sayı kaçtır?

.....

 $399 > \dots > 405$

Yukarıda verilen noktalı yere kaç sayı gelir?

.....

 $\dots < 998$

Yukarıda verilen noktalı yere gelecek en büyük sayı kaçtır?

.....