



ETKİNLİK 1

Aşağıda verilen boşlukları kutucuklarda verilen ifadelerden uygun olanları ile dolduralım.

Geometrik şekilleri

Göz kararı

Kuş bakışı

gerek yoktur

alanı

yönler

sokak

caddelerin

Önemli gördüğümüz

Güvenli alanları

sembolleri

- Kroki çizeceğimiz _____ doğru bir biçimde yansıtmalıyız.
- Kroki çizerken yapıların büyüklüklerini _____ çizmeliyiz.
- Kroki çizerken _____ olarak görüntüyü yansıtmalıyız.
- Krokide çizilecek unsurların tüm detaylarıyla çizilmesine _____. Yolları çizgiler hâlinde yapıları kutucuk şeklinde gösterebiliriz.
- Krokimizde hangi tarafların hangi _____ olduğunu belirtmeliyiz.
- Krokimizde _____ yapıları yer vermeliyiz.
- Krokimizde _____ ve _____ isimlerine yer vermeliyiz.
- Krokimizde acil durumlarda kullanılacak olan sığınak, acil toplanma yeri, acil çıkış ve diğer _____ göstermeliyiz.
- Krokilerde kare, dikdörtgen, üçgen, daire gibi _____ ve çeşitli _____ kullanınız.



ETKİNLİK 2

Aşağıda verilen boşlukları kutucuklarda verilen ifadelerden uygun olanları ile dolduralım.

- (.....) Kroki, genellikle göz kararıyla çizilir.
- (.....) Krokide yön belirtmek zorunlu değildir.
- (.....) Krokide sadece mahalle çizilmelidir.
- (.....) Krokide önemli yerlerin gösterilmesi gerekir.
- (.....) Kroki, gerçek ölçülere sadık kalınarak çizilir.
- (.....) Kroki üzerinde kuzey yönü genellikle belirtilir.
- (.....) Kroki, bir yerin kuş bakışı görünümünü ifade eder.
- (.....) Krokilerde yollar ve binalar gibi detaylar gösterilmez.
- (.....) Kroki çiziminde ölçek kullanılmaz.
- (.....) Krokiyi herkes kendi ihtiyaçlarına göre çizip düzenleyebilir.
- (.....) Krokiler sadece şehir planlaması için kullanılır.



ETKİNLİK 3

Aşağıda verilen kroki ile ilgili soruları cevaplandıralım.



1) Yurdum apartmanının doğusunda ne vardır?

.....

2) Hastanenin batısında ne vardır?

.....

3) Okulun güneyinde ne vardır?

.....

4) Parkın doğusunda ne vardır?

.....

5) Caminin kuzeyinde ne vardır?

.....

6) Otoparkın doğusu ve batısı ve kuzeyinde neler vardır?

.....

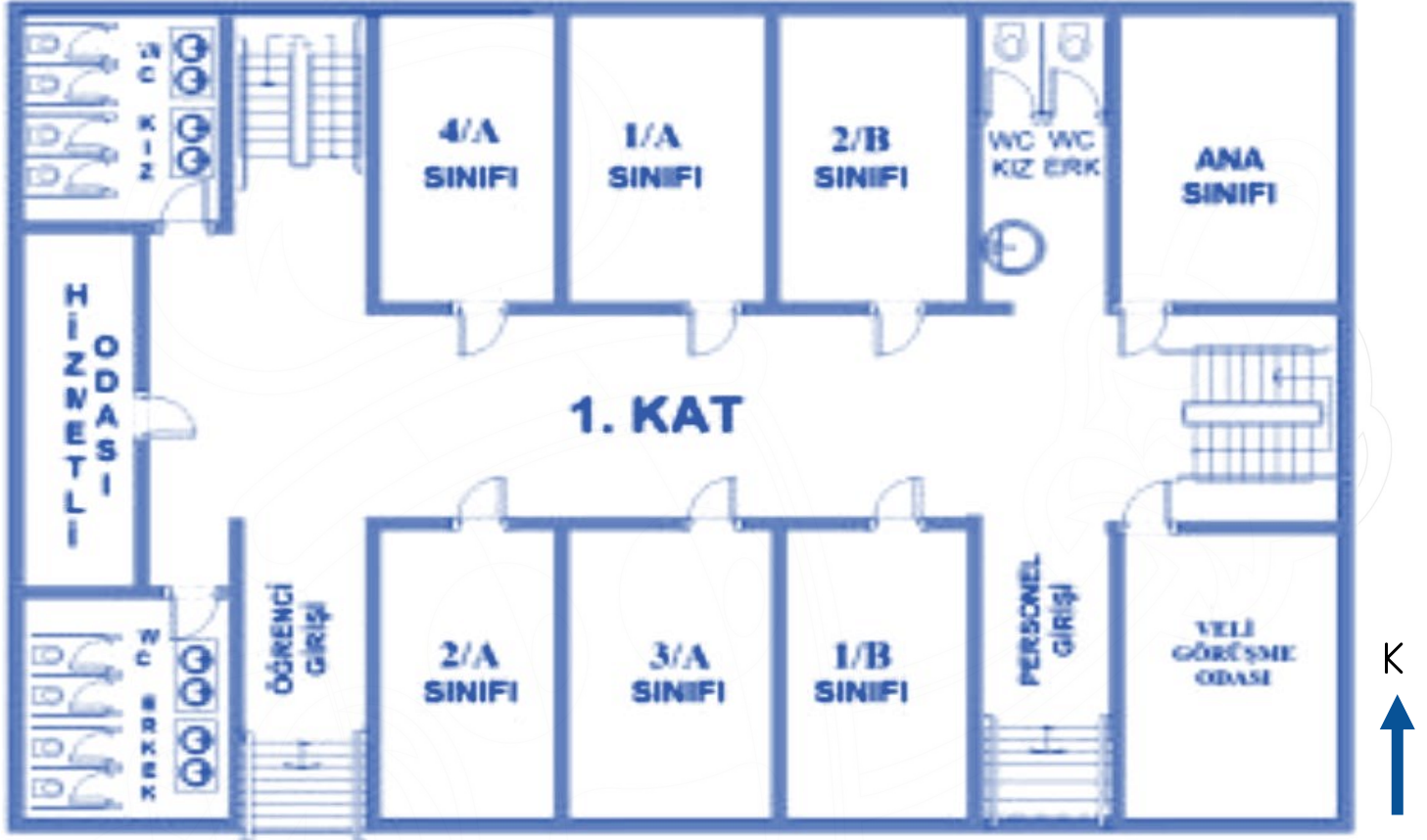
7) Hastane sığınakların hangi tarafında yer alır? (Yön olarak belirtelim)

.....



ETKİNLİK 4

Aşağıda verilen kroki ile ilgili soruları cevaplandıralım.



1) Krokinin kuzeydoğusunda ne vardır?

.....

2) 3/A sınıfının batısında hangi sınıf vardır?

.....

3) Öğrenci girişinin kuzeyinde hangi sınıflar vardır?

.....

4) 2/B sınıfının doğusunda ne vardır?

.....

5) Krokinin güneybatısında ne vardır?

.....

6) Personel girişinin batısında hangi sınıf vardır?

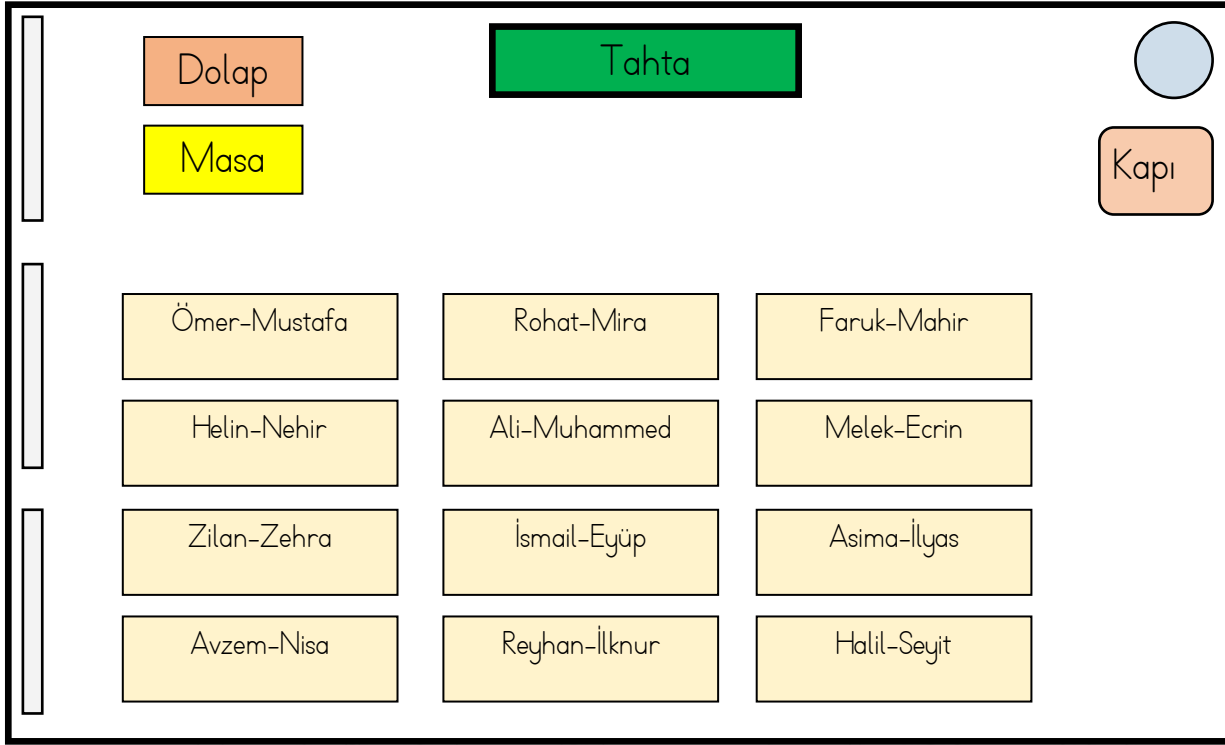
.....

7) 1/A sınıfının doğusunda hangi sınıf vardır?

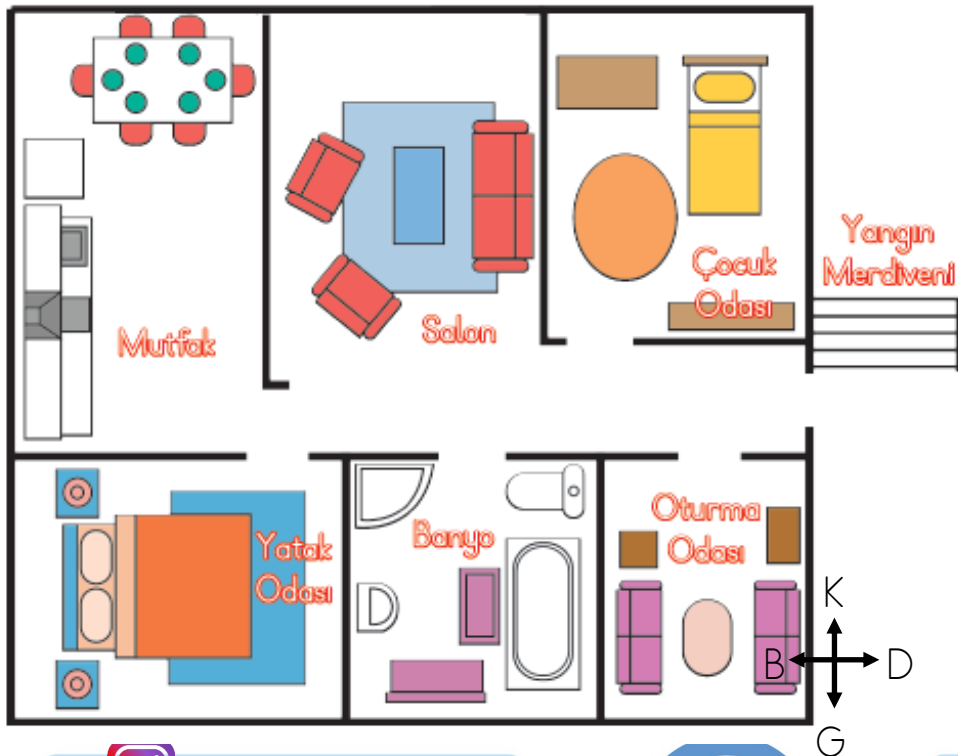
.....

ETKİNLİK 5

Aşağıda verilen krokilerle ilgili soruları cevaplandıralım.



- Ortada en son sırada kimler oturuyor?.....
- Sınıfın en doğusunda en ön sırada kim oturuyor?
- Öğretmen masasının önündeki sıraların en önünde kimler oturuyor?.....
- Sınıfta toplam kaç sıra vardır?
- Tahta sınıfın hangi yönündedir?
- Ali ile Muhammed'in arkasında kimler oturuyor?



- Yanda verilen kroki ne krokisidir?.....
- Salonun doğusunda ne vardır?
- Yangın merdiveni krokinin hangi yönündedir?.....
- Banyonun kuyesinde ne vardır?.....
- Mutfağın güneyinde ne vardır?.....