



ESKİ OYUNLAR

Bilgisayarlar yokken , çocuklar ne yaparmış ?
Bugün anlattı babam, hangi oyunları oynarmış.
Dinledim uzun uzun , o eski oyunları,
Öylece şaşıtm kaldım, meğer ne oyunlar varmış.

Önce çelik çomak dedi, öylece bakakaldım.
Ne demek istemişti, ilk önce anlamadım.
İki sopaymış bunlar, biri uzun biri kısa,
Vurunca tüm gücüyle , uçarmış en uzağa.



Körebeymiş diğer oyun, gözleri bağlı ebenin.
Kaçtırmış çocuklar, mümkünü yokmuş görmenin.
Sonunda yakalarmış , çocuklardan birini,
Zevkine doyulmazmış , körebe oynamanın.

Türlü türlü oyunlar, anlatmayla bitiremem.
Hepsini sayarsam , bu şiiri yetiremem.
Sizde bazen oynayın, bu eski oyunları,
Bilgisayar başından kalkın, donatın sokakları.



❖ Aşağıdaki soruları , şiire göre yanıtlayınız.

1- Çocuğun babası hangi eski oyunlardan bahsetmiş?

.....

2- Çelik çomak nasıl bir oyunmuş?

.....

3- Körebe nasıl bir oyunmuş?

.....

4- Şairin çocuklara tavsiyesi nedir?

.....

5- Şiirin başlığını siz belirleseydiniz , nasıl bir başlık seçerdiniz?

.....

❖ Aşağıda bazı deyimler ile ilgili görseller verilmiştir. Bu görselleri yorumlayarak, deyimleri bulunuz. Boşlukları doldurunuz.

Deyim:.....

Anlamı:.....



Deyim:.....

Anlamı:.....



Deyim:.....

Anlamı:.....



Deyimler

❖ Aşağıdaki bulmacanın içerisinde bazı deyimler saklı. Bulmacanın yanında yazan deyimleri, bulmacanın içerisinden bulunuz.

G	Ö	Z	Ü	D	Ö	N	M	E	K	Ö	Y	K	B
K	A	J	F	İ	S	N	G	M	M	F	T	Ö	Ç
U	V	A	K	L	I	Y	A	T	M	A	K	Ş	B
L	L	A	G	İ	A	L	Z	L	J	C	C	E	A
A	V	Ğ	P	N	Ç	J	İ	B	İ	S	U	Y	U
K	G	Z	P	D	M	Y	O	L	B	M	Ç	İ	B
K	Z	I	G	E	J	Y	L	Ö	S	J	Ç	D	H
A	H	N	H	T	Z	V	A	S	Ğ	C	Z	Ö	Ü
B	K	I	Ş	Ü	Z	O	Ç	T	S	F	T	N	Ü
A	U	A	G	Y	Z	V	B	P	K	C	H	M	C
R	N	R	Ş	B	A	Ş	I	Ş	İ	Ş	M	E	K
T	R	A	S	İ	S	V	K	Ç	K	M	Ş	K	R
M	A	M	O	T	L	M	V	S	E	A	C	N	Ç
A	K	A	B	M	E	M	G	N	E	D	H	A	R
K	R	K	B	E	L	A	T	M	A	K	H	İ	K

AKLI YATMAK

BAŞI ŞİŞMEK

EL ATMAK

AĞZINI ARAMAK

DİLİNDE TÜY BİTME

KÖŞEYİ DÖNMEK

GÖZÜ DÖNMEK

KULAK KABARTMAK

❖ Aşağıdaki deyimlerin ilk önce anlamlarını yazalım. Daha sonra bu deyimleri tümce içerisinde kullanalım.

Kulak misafiri olmak

Anlamı:.....

Cümle:.....

Gözlerini dört açmak

Anlamı:.....

Cümle:.....

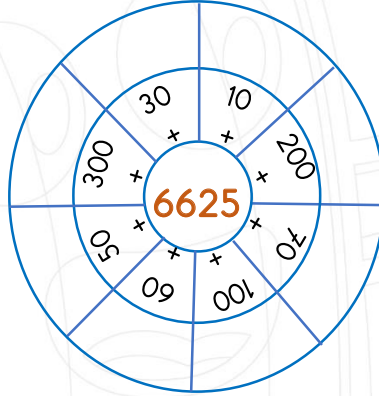
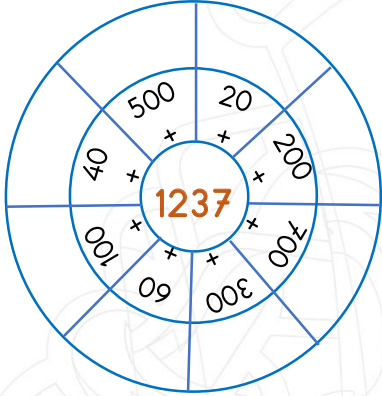
Etekleri tutuşmak

Anlamı:.....

Cümle:.....

Zihinden Toplama

❖ Aşağıdaki sayı çarklarındaki rakamları zihinden toplayarak, örnekteki gibi ilgili bölümlere yazınız.



❖ Aşağıdaki toplama işlemlerini zihinden yaparak, en alt bölümdeki şifreyi bulunuz.

$2512 + 300 =$

 M

$2796 + 200 =$

 K

$5512 + 300 =$

 L

$7852 + 100 =$

 İ

$2005 + 700 =$

 Y

$1345 + 100 =$

 U

$4158 + 800 =$

 L

$3210 + 600 =$

 U

$8128 + 800 =$

 K

$1025 + 900 =$

 O

$4200 + 200 =$

 L

$2046 + 900 =$

 U


7952

4958

2996

1925

8928

1445

5812

4400

3810

2705

2946

2812



Problemler

1- Bir çiftlikte 1. gün 5847 yumurta, 2. gün 2145 yumurta, 3. gün ise 452 yumurta üretildi. Toplam kaç yumurta üretilmiştir?

Cevap:

2- Metin her gün bir önceki günden 550 m daha fazla yürüyor. Birinci gün 4250 m yürüyen Metin, 2 günde toplam kaç metre yürümüştür?

Cevap:

3- "5 - 1 - 3 - 4 - 0" rakamlarını kullanarak yazılabilecek en büyük ve en küçük 4 basamaklı doğal sayıların toplamı kaçtır?

Cevap:

4- Binler basamağı 8 olan en büyük dört basamaklı sayı ile 983'ün toplamı kaçtır?

Cevap:

5- Bir kümeste 1112 hindi, 126 kaz var. Tavukların sayısı ise, hindilerle kazların toplamı kadardır. Kümeste toplam kaç hayvan vardır?

Cevap:

6- Bir okuldan bir yılda 1981 erkek öğrenci, erkeklerden 209 tane fazla da kız öğrenci mezun oluyor. Bu okuldan bir yılda toplam kaç öğrenci mezun oluyor?

Cevap:

7- Rakamları birbirinden farklı en büyük 3 basamaklı sayı ile, rakamları birbirinden farklı en küçük 4 basamaklı sayının toplamı kaçtır?

Cevap:

8- Dört basamaklı en küçük sayıyı kendisiyle toplayıp, üzerine 1245 eklersem sonucu kaç bulurum?

Cevap:

Su ve mineraller, vitaminler

❖ Doğru olan ifadelerin başına "D", yanlış olan ifadelerin başına "Y" yazınız.

- () Su ve mineraller tüm besinlerde bulunur.
- () Vitaminler, düzenleyici besin içerikleridir.
- () Su, enerji veren bir besindir.
- () Vücudumuzun yarısı sudur.
- () Mineralleri fazla tüketirsek kilo alırız.
- () Vitaminler vücudumuzun enerji deposudur.
- () Su, yapıcı ve onarıcı bir besin maddesidir.
- () Sebze ve meyveler, vitamin yönünden zengin besinlerdir.
- () C vitamini portakal, mandalina gibi besinlerde bulunur.
- () D vitamininin en önemli kaynağı güneş ışığıdır.



❖ Kelime çarkındaki kelimeleri inceleyiniz. Uygun olan kelimelerle boşlukları tamamlayınız.

Vitaminler besinler grubundadır.

Vitaminler sembolize edilir

Vitaminler bizi korur.

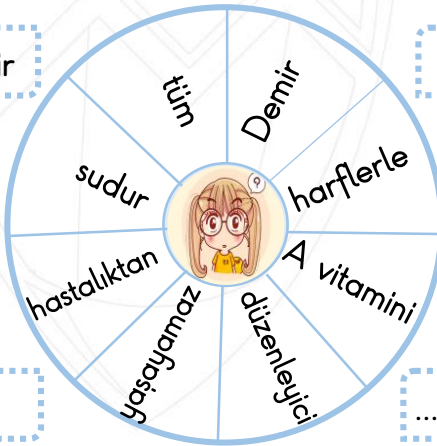
Vücudumuzun %60'ı

Su olmazsa insanlar.....

Havuçta bulunur.

..... vücudumuzdaki bir mineraldir.

Su ve mineraller besinlerde bulunurlar



Milli Kültürümüz

❖ Doğru olan ifadelerin başına "D", yanlış olan ifadelerin başına "Y" yazınız.

- () Türkülerimiz yüz yıllardır dilden dile söylenerek günümüze kadar ulaşmıştır.
- () Askerler sessizce ve sade bir şekilde askere gönderilir.
- () Zeybek Ege Bölgesi'ne ait bir halk oyunudur.
- () Bayramda şeker toplarız.
- () Pizza kültürümüzün vazgeçilmez bir parçasıdır.
- () Türk mutfağının en tanınmış yemeklerinden biriside hamburgerdir.
- () Kemeçe, Karadeniz Bölgesi'ne ait bir çalgıdır.
- () Güreş milli sporumuzdur.
- () Keloğlan bize ait bir masal kahramanıdır.



❖ Aşağıda, milli kültürümüze ait öğelere yer verilmiştir. Boşlukları uygun örnekler ile doldurunuz.

Yemeklerimiz

Kuru fasulye

.....

.....

Geleneklerimiz

Çocuk görme

.....

.....

Halk Oyunlarımız

Halay

.....

.....

Oyunlarımız

Saklambaç

.....

.....

Enstrümanlarımız

Bağlama

.....

.....

Kahramanlarımız

Nasreddin Hoca

.....

.....

MİNİ TEST

Hapı yutmak

1- Yukarıdaki deyimnin anlamı aşağıdakilerden hangisidir?

- A) Baş ağrısı için ağrı kesici yutmak.
- B) Çok kötü bir duruma düşmek.
- C) Oluşabilecek olaylar için önlem almak.
- D) Hastalanmak.

2- "Ayağına kara sular inmek." deyimnin anlamı aşağıdakilerden hangisidir?

- A) Çamaşır yıkamak.
- B) Suyun kirlenip kararması.
- C) Çok yorulmak.
- D) Suyu çok sevmek.



3 - Aşağıdaki deyimlerden hangisi, birisinden bahsetmek anlamı taşır?

- A) Kulağını çınlatmak.
- B) Kulağı şişmek.
- C) Kulak kabartmak.
- D) Can kulağıyla dinlemek.

Sana aynı şeyi defalarca söylemekten dilimde

4 - Yukarıdaki cümleyi tamamlarsak, noktalı yere hangi kelimeleri yazabiliriz?

- A) Tat kalmadı.
- B) Yara çıktı.
- C) Şişlikler oluştu.
- D) Tüy bitti.



Yemekler o kadar çok lezzetli görünüyordu ki ağzımın

5- Yukarıda yazan deyim tamamlarsak, noktalı yere ne yazmalıyız?

- A) Tadı kalmadı.
- B) Açık kaldı.
- C) Suyu aktı.
- D) İçinde yara çıktı

" Osman'a bunu anlatmak , deveye daha zor."

6- Yukarıdaki deyim tamamlarsak, noktalı yere ne yazmalıyız?

- A) Çukur atlatmaktan
- B) Hendek atlatmaktan
- C) İp atlatmaktan
- D) Çit atlatmaktan

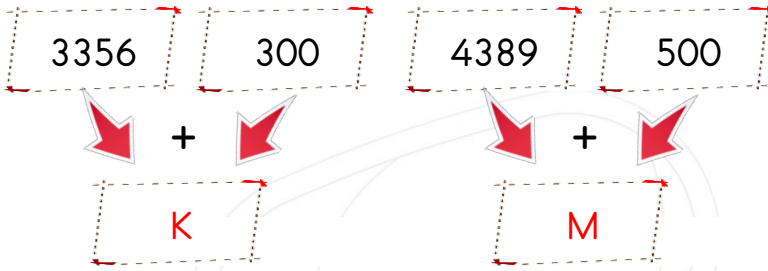
7- "Ağzıyla kuş tutmak." deyimini hangi anlamda kullanılır?

- A) Ne yaparsa yapsın olmaz anlamında
- B) Yetenekli birisidir anlamında
- C) Kuş avlamak anlamında
- D) Kuşları çok sevmek anlamında.



8- "Eli ayağına dolaşmak." deyimnin anlamı aşağıdakilerden hangisidir?

- A) Ellerini yıkamak.
- B) Çok üzülme.
- C) Panik yapmak.
- D) Ellerinin ve ayaklarının yerlerini karıştırmak.







- 9- Yukarıdaki toplama işlemlerini zihinden yapınız. K ve M sayılarını bulunuz. Daha sonra "M - K" işlemini yaptığımızda sonuç kaç olur?
- A) 3656 B) 1233
C) 8545 D) 1123

$3256+200= 3456$	$4444+100= 5444$
$5236+300= 5436$	$1265+500= 1765$
$8520+100= 9520$	$4132+600= 4832$

- 10- Yukarıdaki toplama işlemlerinden kaç tanesinin sonucu doğrudur?
- A) İki B) Üç C) Dört D) Beş

- 11- Çocuklardan hangisi toplama işlemini yanlış yapmıştır?

- A)  $3659 + 200 = 3859$
- B)  $1256 + 300 = 1556$
- C)  $2654 + 400 = 2954$
- D)  $5897 + 100 = 5997$

Su ve mineraller besinlerde bulunur.
..... olarak görev yaparlar.

- 12- Yukarıdaki cümlede boş bırakılan yere aşağıdaki seçeneklerden hangisini yazabiliriz?
- A) Yapıcı ve onarıcı B) Enerji verici
C) Düzenleyici D) Depolayıcı

- () Kemeçe kültürümüze ait bir müzik aletidir.
() Tango kültürümüze ait bir dans değildir.
() Zeybek kültürümüze ait bir halk oyunu değildir.

- 13- Yukarıdaki cümlelerin doğru olanlarının başına "D" ve yanlış olanlarının başına "Y" yazarsak, aşağıdaki seçeneklerden hangisi doğru olur?

- | | | | |
|------|------|------|------|
| A) Y | B) Y | C) D | D) D |
| D | D | D | D |
| Y | D | Y | D |

- 14- Aşağıda görselleri verilen tatlılardan hangisi milli kültürümüzü yansıtmaz?

- A)  B) 
- C)  D) 