


DENEEME SINAVI-1

ADI : _____
SOYADI : _____
OKUL : _____
SINIF : _____

Sevgili Öğrencilerimiz,

- Soruları dikkatlice okuyalım.
- Cevaplardan sadece bir tanesini işaretleyelim.
- Sınavımızı öğretmenimize teslim etmeden önce mutlaka cevaplarımızı kontrol edelim.



DERSLER	SORU SAYISI	DOĞRU SAYISI	YANLIŞ SAYISI
TÜRKÇE	10		
MATEMATİK	10		
HAYAT BİLGİSİ	5		



@fundateacher

Funda Menekşe



TÜRKÇE

Selin, o gün karne alacağı için çok heyecanlıydı. Kahvaltısını edip evden çıktı ve okul servisine bindi. Önlerinde uzun bir tatil vardı. Karneler verilene kadar Selin heyecandan yerinde duramadı.

Selin, eve döner dönmez karnesini babasına gösterdi. Babası ona, "Aferin kızım! Yıl boyunca çok çalıştın, karnedeki çok iyi notları da çalışmalarının ödülü olmuş." dedi. Selin koşarak anneannesine gitti. Karnesini gören anneanesi Selin'i tebrik etti.



İlk üç soruyu metne göre cevaplayalım.

1) Selin okula nasıl gitti?

- A) Okul servisiyle
- B) Yürüyerek
- C) Babasının arabasıyla

2) Selin karnesini ilk olarak kime gösterdi?

- A) Anneannesine
- B) Annesine
- C) Babasına

3) Selin'in çalışmalarının ödülü neydi?

- A) Kitap
- B) Karnesindeki notlar
- C) Oyuncak

1 Ali okula gitti

2 Sütü kim içti

3 Her pazar kursta




4) Yukarıdaki ifadelerden kaç numaralı olan cümle değildir?

- A) 1
- B) 2
- C) 3

5) Aşağıdaki cümlelerden hangisinde büyük harflerin kullanımı ile ilgili bir yanlışlık vardır?

- A) Kelebekler tüm vadiyi kaplamıştı.
- B) Dedem kayseriden bu sabah geldi.
- C) Kedim Pamuk uykuyu çok sever.

6) Aşağıdaki varlıklardan hangisinin adında diğerlerinden daha fazla harf vardır?



7) Yandaki meyvenin adı hangi seçenekte doğru hecelenmiştir?



- A) an-a-nas
B) ana-nas
C) a-na-nas



- 1
3
2

8) Yukarıdaki görsellerde yer alan olayın oluş sırası hangisidir?

- A) 1-2-3
B) 2-1-3
C) 2-3-1



Bu pantolon bana kısa geldi.

9) Ayça'nın cümlesinde altı çizili olan sözcüğün zıt anlamlısı hangisidir?

- A) dar
B) uzun
C) ince

Funda Manelge



10) Yukarıdaki bulutlardan kaç tanesinde sesli (ünlü) harfle başlayan kelime yazılıdır?

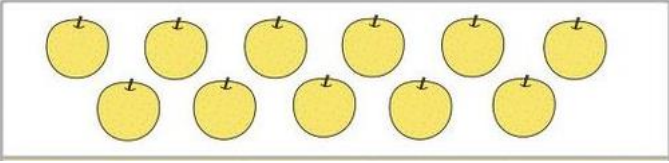

- A) 3
B) 5
C) 6

Türkçe testi bitmiştir. Cevaplarımızı



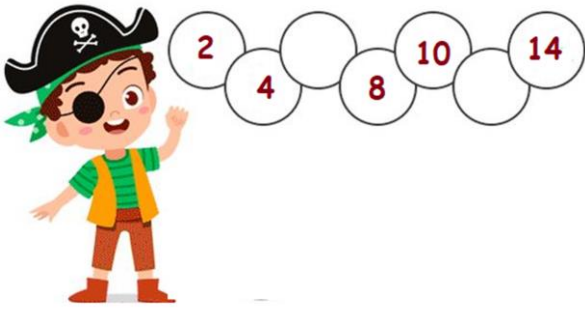
MATEMATİK

1 onluk+ 8 birlik



1) Yukarıdaki nesnelere hangisinin sayısı diğerlerinden daha fazladır?

- A)  B)  C) 



2) Korsan Cino'nun ikişer ritmik sayarken söylemeyi unuttuğu sayıların toplamı kaçtır?


- A) 6
B) 12
C) 18

3) Yukarıda onluk ve birlikleri verilen sayının okunuşu aşağıdakilerden hangisidir?

- A) on yedi
B) on sekiz
C) on altı

4) Aşağıdaki toplama işlemlerinden hangisinde toplam diğerlerinden büyüktür?

- A) $8+7=$
B) $11+3=$
C) $5+6=$



5) Yukarıda kaç tane bütün elma vardır?

- A) 8 B) 4 C) 6

6) Ayşe'nin kumbarasında 18 lira vardı. Ayşe parasının 7 lirasıyla kalem aldı. Ayşe'nin kaç lirası kalmıştır?

- A) 12 B) 10 C) 11



Çocuklar okul çıkış saatlerini göstermektedirler.

7) Cem okuldan sonra iki saat dinleniyor ve sonra ödevlerinin başına geçiyor. Cem ödevlerini yapmaya başladığında saat kaçtır?

- A) 2.00 B) 3.00 C) 5.00



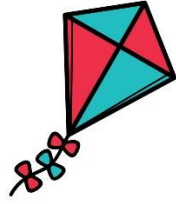


8) Yukarıdaki örüntü hangisiyle devam etmelidir?




- A)  B)  C) 



9) Yukarıdaki miktarda parası olan Ali aşağıdakilerden hangisini alamaz?

- A)  12 TL
B)  19 TL
C)  16 TL

10) Aşağıdaki geometrik şekillerden hangisinin kenar sayısı daha azdır?

- A) 
B) 
C) 



Matematik testi bitmiştir. Cevaplarımızı kontrol edelim.

HAYAT BİLGİSİ

1) Aşağıdakilerden hangisi sınıf kurallarından biri değildir?

- A) Söz almak için parmak kaldırmak
- B) Okul koridorlarında yavaş hareket etmek
- C) Sınıf eşyalarını özenli kullanmak

2) Aşağıdakilerden hangisi ülkemizin başkentidir?


- A) Ankara
- B) İstanbul
- C) İzmir



3) Yukarıdaki durumda hangi numara aranmalıdır?

- A) 1-1-5
- B) 1-1-2
- C) 1-2-2

4) Aşağıdakilerden hangisi okul geçidini ifade etmektedir?



5) Aşağıdakilerden hangisi hayvansal gıdalardandır?

