



ORMANLAR KRALI SİVRİSİNEK

Bir gün aslan ile fil tartışmaya başlamış. Ormanlar kralı aslan "Bu ormanın en güçlü hayvanı benim." demiş. Fil ise kendisi olduğunu iddia etmiş.

Bakmışlar böyle tartışarak bir yere varamıyorlar, ormandaki tüm hayvanları toplayıp onlara sormaya karar vermişler. En çok oyu alan ormanda yaşamaya devam edecek, diğeri ise ormanı terk edecekmiş. Bütün hayvanlara tek tek sormuşlar. Sıra gelmiş sivrisineğe. Sivrisinek:

- İkiniz de güçlü değilsiniz. Ormanın en güçlü hayvanı benim, demiş. Aslan ile fil basmışlar kahkahayı. Dalga geçiyor herhâlde bizimle, diye düşünmüşler. Sivrisinek vazgeçmemiş. Aslan sinirlenmiş:
- Sen bizimle dalga mı geçiyorsun? Senin gücün ne ki böyle rahat konuşuyorsun? İkimiz de seni tek ayağımızla ezeriz, demiş.

Sivrisinek de "Yakalayın beni de görelim!" demiş. Aslan ile fil yakalamaya çalışmışlar ama nafile. Sivrisinek hem kaçıyor hem de ikisini de ısırıyormuş. Isırdıkça aslan ile filin vücudunda şişlikler oluyor, şişlikler de kaşınıyormuş. Fil hortumuyla aslanın sırtını kaşınıyormuş, aslan ise pençesiyle filin bacaklarını. Kaşına kaşına, kaşıya kaşıya yorgun düşmüşler. Hastalanmışlar. Sonunda sivrisinek galip gelmiş. İki de ormanı terk etmek zorunda kalmışlar. O günden sonra ormanlar kralı sivrisinek olmuş.

❖ Aşağıdaki soruları metne göre cevaplayalım.

1. Fil ile Aslan ormanlar kralının kim olduğunu belirlemek için ne yapmaya karar vermişler?

Ormandaki bütün hayvanlara tek tek sormaya karar vermişler.

2. Sivrisineğe ormanlar kralının kim olduğunu sorduklarında ne cevap almışlar?

İkiniz de güçlü değilsiniz. Ormanların en güçlü hayvanı benim demiş.

3. Sivrisineğin galip gelmesiyle aslan ve file neler olmuş?

İki de ormanı terk etmek zorunda kalmış.

❖ Aşağıdaki soruları cevaplayalım.

★ Güneş ★ Karabaş ★ Okul

★ Kitap ★ Ata Sokak

1. Yukarıdaki adlardan kaç tanesi özel addir?

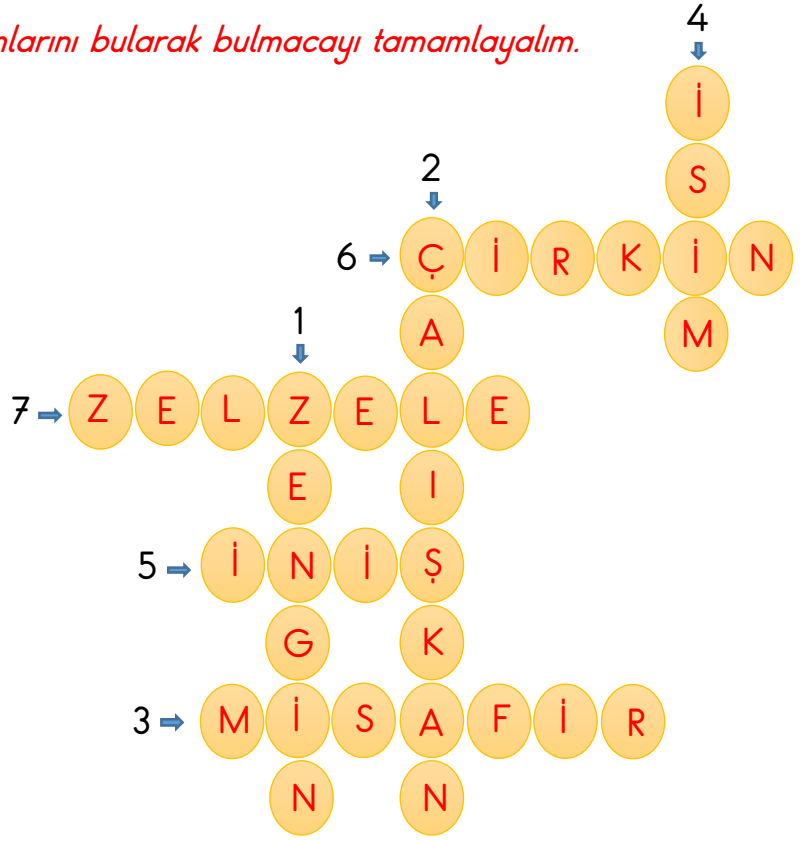
A. I B. II C. III

2. Aşağıdaki cümlelerin hangisinde özel adların yazılışıyla ilgili hata yapılmıştır?

- A. Aleyna, Aslı'nın kalemlerini çamura düşürmüş.
B. Babam inebolu ilçesinde dünyaya gelmiş.
C. Ankara Kalesi çok yüksek bir tepeye yapılmış.

❖ Aşağıdaki kelimelerin eş ve zıt anlamlarını bularak bulmacayı tamamlayalım.

- 1 Fakir kelimesinin zıt anlamlısı.
- 2 Tembel kelimesinin zıt anlamlısı.
- 3 Konuk kelimesinin eş anlamlısı.
- 4 Ad kelimesinin eş anlamlısı.
- 5 Çıkış kelimesinin zıt anlamlısı.
- 6 Güzel kelimesinin zıt anlamlısı.
- 7 Deprem kelimesinin eş anlamlısı.



❖ Aşağıda iki anlamı da verilen eş sesli kelimeleri bulup yerine yazalım.



1. Anlamı: Sağlam bir nesneyi parçalara ayırma.

2. Anlamı: Piknik yapmak için gidilen yeşil alan.



1. Anlamı: Buz taneciklerinde oluşan bir yağış türü.

2. Anlamı: Bir kabın boş yerinin kalmaması durumu.

❖ Aşağıdaki cümlelere uygun noktalama işaretlerini koyarak altlarına yazalım.

➤ Hakanın doğum gününe sen de gelecek misin
Hakan'ın doğum gününe sen de gelecek misin?

➤ Ayyy Gördün mü şu başımıza gelenleri
Ayyy! Gördün mü başımıza gelenleri?

➤ Melis yazın elma çilek ve muz yemeyi sever
Melis yazın elma, çilek ve muz yemeyi sever.

➤ Ankaranın başkent oluşunun 98 yıl dönümü
Ankara'nın başkent oluşunun 98. yıl dönümü.

❖ Aşağıdaki görsellerin ifade ettiği kesirleri altlarına örnekteki gibi yazalım.



$\frac{1}{2}$ → yarım



$\frac{1}{1}$ → bütün



$\frac{1}{4}$ → çeyrek



$\frac{1}{1}$ → bütün



$\frac{1}{4}$ → çeyrek



$\frac{1}{2}$ → yarım



$\frac{1}{2}$ → yarım



$\frac{1}{4}$ → çeyrek



$\frac{1}{1}$ → bütün



$\frac{1}{2}$ → yarım



$\frac{1}{1}$ → bütün



$\frac{1}{4}$ → çeyrek

❖ Aşağıda modellerle gösterilmiş kesirlerin altlarına kesir değerini ve okunuşunu örnekteki gibi yazalım.



Kesrin yazılışı $\frac{4}{4}$

Kesrin okunuşu : Dörtte dört

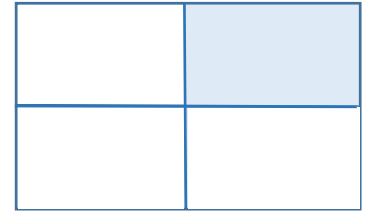
Kesir değeri : Bütün



Kesrin yazılışı $\frac{1}{2}$

Kesrin okunuşu : İki de bir

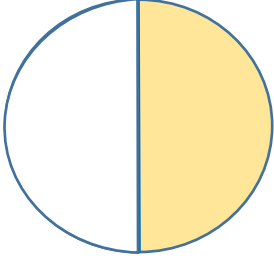
Kesir değeri : Yarım



Kesrin yazılışı $\frac{1}{4}$

Kesrin okunuşu : Dörtte bir

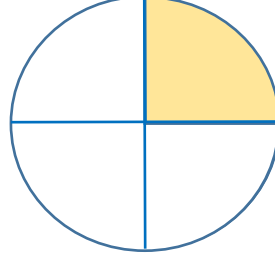
Kesir değeri : Çeyrek



Kesrin yazılışı $\frac{1}{2}$

Kesrin okunuşu : İki de bir

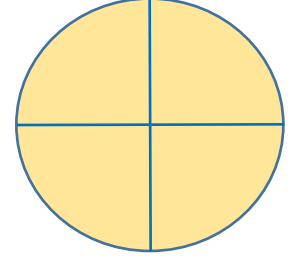
Kesir değeri : Yarım



Kesrin yazılışı $\frac{1}{4}$

Kesrin okunuşu : Dörtte bir

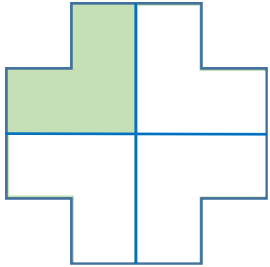
Kesir değeri : Çeyrek



Kesrin yazılışı $\frac{4}{4}$

Kesrin okunuşu : Dörtte dört

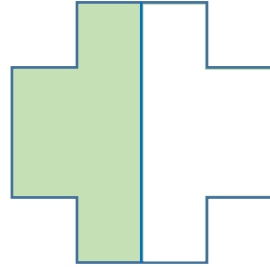
Kesir değeri : Bütün



Kesrin yazılışı $\frac{1}{4}$

Kesrin okunuşu : Dörtte bir

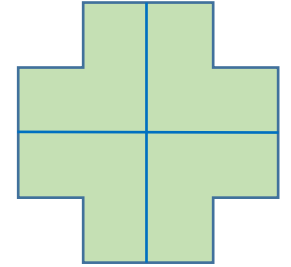
Kesir değeri : Çeyrek



Kesrin yazılışı $\frac{1}{2}$

Kesrin okunuşu : İki de bir

Kesir değeri : Yarım



Kesrin yazılışı $\frac{4}{4}$

Kesrin okunuşu : Dörtte dört

Kesir değeri : Bütün

❖ *Aşağıdaki varlıklardan ses kaynağı olanların yanlarına ✓ işareti koyalım.*

Araba kornası

Güneş

İnsan

Avize

Kuş

Gök gürültüsü

Arı

Televizyon

Meşale

Kalem

İnek

Dalga

❖ *Aşağıdaki bilgilerden doğru olanlara (D), yanlış olanlara (Y) yazalım.*

(D) Ses kaynağına yaklaştıkça sesin şiddetinin daha çok arttığını fark edebiliriz.

(Y) İnsanlar kulakları sayesinde tüm sesleri işitebilirler.

(D) Her ses mutlaka bir kaynaktan çıkar ve her yöne yayılır.

(D) Bir tiyatro salonunda en önde oturan seyirciler sesleri daha iyi duyarlar.

(D) İnsanların işitmesini sağlayan duyu organı kulaklarıdır.



❖ *Aşağıdaki soruları cevaplandıralım.*

1. Aşağıdakilerden hangisi hem ses hem de ışık kaynağıdır?

A. Televizyon

B. Radyo

C. Ampul

2. Aşağıdakilerden hangisi ses ile ilgili hatalı bir bilgidir?

A. Ses kaynağına yakın olursak sesleri daha az şiddetli duyarız.

B. İnsanlar çok düşük ve çok yüksek sesleri duyamaz.

C. Ses titreşim sonucu oluşur.



3. Yukarıdaki görselde Aslan davulun sesinin kendisine çok az geldiğini söylüyor. Bunun sebebi aşağıdakilerden hangisi olabilir?

A. Aslan davul sesinin nasıl bir ses olduğunu bilmemektedir.

B. Aslan davul çalan kişinin çok yakınındadır.

C. Aslan davul sesinin kaynağından uzak bir yerdedir.

❖ *Aşağıdaki boşlukları uygun kelimelerle dolduralım.*



- Taşıtlarda yolculuk yaparken mutlaka**emniyet kemeri**..... takmalıyız.
- Trafik işaretlerine ve**trafik polisi**..... nin uyarılarına uymayanlar kazalara sebep olur.
- Karşıdan karşıya geçerken trafik ışıklarını ya da**yaya geçidi**..... ni kullanmalıyız.
- Ev temizliğinde kullanılan çamaşır suyu ve tuzruhu gibi maddeler**zehirlenmeye**..... neden olabilir
- Evimizde kullandığımız tüm elektrikli aletler**ev kazalarına**..... sebep olabilir.
- Mutfakta**kesici**..... aletleri kullanırken çok dikkatli olmalıyız.

❖ *Aşağıdaki bilgilerden doğru olanlara (D), yanlış olanlara (Y) yazalım.*

- (**D**) Ev kazalarının büyük çoğunluğu mutfakta meydana gelmektedir.
- (**D**) Sokak ve caddelerde kazı çalışması yapıldığında mutlaka güvenlik önlemi alınmalıdır.
- (**Y**) Trafik kazaları ciddi yaralanmalara sebep olmayan önemsiz kazalardır.
- (**D**) Evde, işte ve sokakta kazalarla karşılaşmanın en önemli yolu kurallara uymaktır.
- (**D**) Evlerde elektrik prizleri, deterjanlar ve ilaçlar çocukların ulaşamayacağı yükseklikte olmalı.
- (**D**) Ev dışında en çok karşılaşılan kaza türü trafik kazasıdır.

❖ *Aşağıdaki soruları cevaplayalım.*

1. Aşağıdakilerden hangisi bir kaza türü sayılmaz?

- A. Trafik kazası
- B. Ev kazası
- C. Piknik kazası**

- I. Oyuncaklar
- II. Kesici ve delici aletler
- III. İlaçlar

2. Yukarıdakilerden hangileri ev kazalarına neden olabileceği için açıkta bırakılmamalıdır?

- A. I - II
- B. II - III**
- C. I - II - III



3. Yukarıdaki görselde bulunan kişi için aşağıdakilerden hangisi söylenebilir?

- A. Bozulmuş gıdalar tükettiği için zehirlenmiş olabilir.**
- B. Açlıktan karnı gurulduyor olabilir.
- C. Çok fazla yemek yediğinden midesi ağrıyor olabilir.