

Ad Soyad:.....
Sınıfı:.....
Numarası:.....

Basamak Kavramı

AKLIMDA !

Bir sayıda rakamların bulunduğu yere "basamak" denir. İki basamaklı sayılarda sağdaki rakam "birler", soldaki rakam "onlar" basamağıdır.

Etkinlik: Aşağıdaki sayıların basamak adlarını örnekteki gibi yazalım.

15 on beş
Birler basamağı.
Onlar basamağı.

21
.....
.....

32
.....
.....

26
.....
.....

44
.....
.....

57
.....
.....

38
.....
.....

60
.....
.....

79
.....
.....

54
.....
.....

93
.....
.....

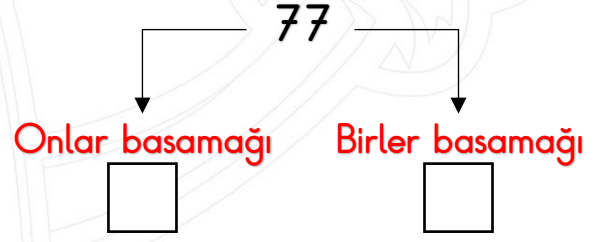
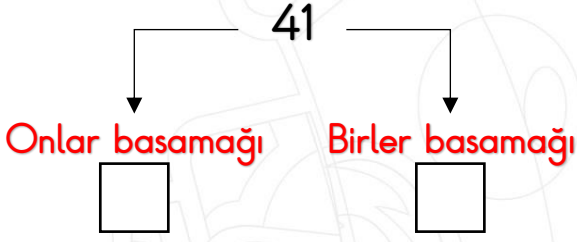
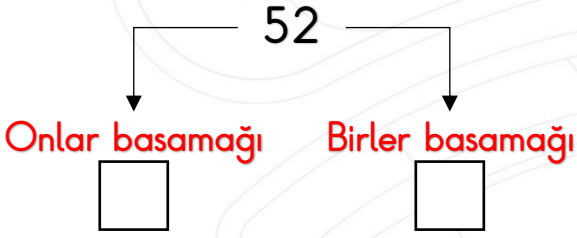
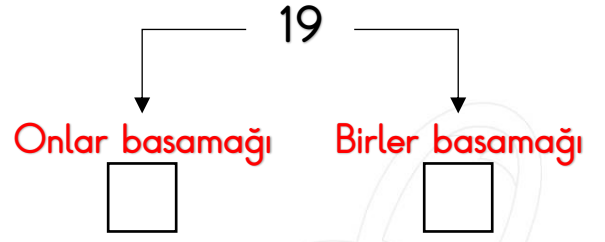
82
.....
.....

28
.....
.....

13
.....
.....

48
.....
.....

Etkinlik: Aşağıda verilen sayıların basamaklarındaki rakamları yazalım.



Etkinlik: Aşağıda basamak adları ve basamak rakamları verilen sayıları örnekteki gibi yazalım.

