

Sayıları en yakın onluğa yuvarlarken uymamız gereken kurallar vardır;

Bu kurallar:

- 1) Sayımız hangi iki onluk arasında önce onu buluruz.
- 2) Birler basamağındaki rakam 5 ve 5'ten büyükse bir sonraki onluğa , 5 ten küçükse bir önceki onluğa yuvarlanır.

Örnek:

$$370 - 374 - 380$$



Birler basamağı 5 ten küçük olduğu için bir önceki onluğa yuvarladık.

Sayıları en yakın yüzlüğe yuvarlarken uymamız gereken kurallar vardır;

Bu kurallar:

- 1) Sayımız hangi iki yüzlük arasında önce onu buluruz.
- 2) Onlar basamağındaki rakam 5 ve 5'ten büyükse bir sonraki yüzlüğe , 5 ten küçükse bir önceki yüzlüğe yuvarlanır.



















Örnek:

$$300 - 374 - 400$$



Onlar basamağı 5 ten büyük olduğu için bir sonraki yüzlüğe yuvarladık.




























Ayşe belirtilen sayının yuvarlandığı en yakın onluğun olduğu kapıdan çıkacaktır. Ayşe'nin çıkacağı kapıyı boyayalım.

 580	 594	 590
 670	 672	 680
 380	 385	 390
 100	 109	 110
 280	 281	 290
 850	 855	 860

Aşağıda verilen sayıları en yakın olduğu onluğa yuvarlayalım.

- | | | |
|------------|------------|------------|
| 128: | 348: | 606: |
| 145: | 409: | 618: |
| 154: | 455: | 662: |
| 181: | 418: | 623: |
| 173: | 462: | 655: |
| 196: | 426: | 666: |
| 255: | 431: | 619: |
| 278: | 472: | 672: |
| 239: | 444: | 625: |
| 223: | 489: | 684: |
| 209: | 453: | 636: |
| 287: | 508: | 688: |
| 286: | 559: | 691: |
| 295: | 527: | 643: |
| 293: | 561: | 699: |
| 301: | 515: | 654: |
| 313: | 573: | 701: |
| 325: | 524: | 755: |
| 337: | 586: | 714: |
| 346: | 533: | 762: |
| 358: | 548: | 728: |
| 362: | 577: | 777: |
| 371: | 599: | 739: |

Ayşe belirtilen sayının yuvarlandığı en yakın yüzlüğün olduğu kapıdan çıkacaktır. Ayşe'nin çıkacağı kapıyı boyayalım.

   500 594 600	   600 650 700	   300 315 400
   100 109 200	   200 281 300	   800 855 900
   400 434 500	   700 777 800	   900 954 1000

En yakın yüzlüğü verilen sayı olan iki sayı yazalım.

300	500	200	600
800	400	900	700

Verilen yüzlük sayılara yuvarlanabilen en büyük ve en küçük sayıları yazalım.

300 En küçük 250 349 En büyük	100 En küçük En büyük	500 En küçük En büyük
600 En küçük En büyük	700 En küçük En büyük	800 En küçük En büyük

Aşağıda verilen sayıları en yakın olduğu yüzlüğe yuvarlayalım.

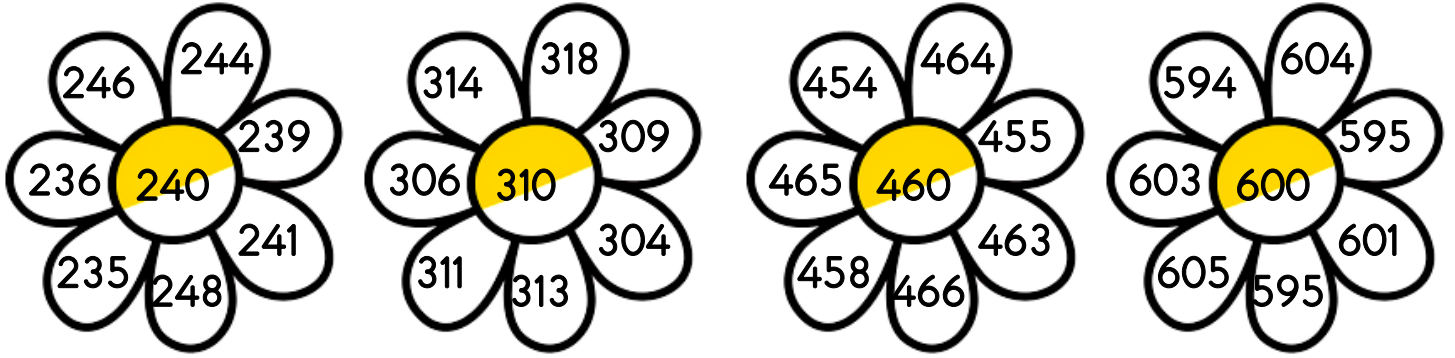
- | | | |
|------------|------------|------------|
| 128: | 348: | 606: |
| 145: | 409: | 618: |
| 154: | 455: | 662: |
| 181: | 418: | 623: |
| 173: | 462: | 655: |
| 196: | 426: | 666: |
| 255: | 431: | 619: |
| 278: | 472: | 672: |
| 239: | 444: | 625: |
| 223: | 489: | 684: |
| 209: | 453: | 636: |
| 287: | 508: | 688: |
| 286: | 559: | 691: |
| 295: | 527: | 643: |
| 293: | 561: | 699: |
| 301: | 515: | 654: |
| 313: | 573: | 701: |
| 325: | 524: | 755: |
| 337: | 586: | 714: |
| 346: | 533: | 762: |
| 358: | 548: | 728: |
| 362: | 577: | 777: |
| 371: | 599: | 739: |

Aşağıda verilen sayıların en yakın olduğu onluk ve yüzlükleri bulalım.

Sayı	En yakın onluk	En yakın yüzlük
312		
265		
355		
251		
449		
589		
648		

Sayı	En yakın onluk	En yakın yüzlük
51		
158		
737		
899		
939		
468		
544		

Yuvarlandığında en yakın onluğu çiçeğin ortasındaki sayı olan yapraklardaki sayıları boyyalım.



Yuvarlandığında en yakın yüzlüğü çiçeğin ortasındaki sayı olan yapraklardaki sayıları boyyalım.

