


HAYAT BİLGİSİ 1.ÜNİTE GENEL DEĞERLENDİRME

Boyumuz, saçımız, göz rengimiz, ten rengimiz ve kilomuzözelliklerimizdir.



1) Yukarıda boş bırakılan yere gelmesi gereken ifade nedir?

- A) Kişisel
B) Bireysel
C) Fiziksel

Ahmet: Resim Yapmayı seviyorum.

Nehir: Uzun boylu ve kıvrıkcık saçlıyım.

Gizem :Kahverengi gözlerim var.

2) Yukarıdaki çocuklardan hangisi ilgi alanından bahsetmiştir?

- A) Ahmet B) Nehir C) Gizem



3) Aşağıdakilerden hangisi kişisel özelliktir?

- A) Uzun boylu olmak.
B) Yardımsever olmak .
C) Siyah saçlı olmak.

() Ahmet'in beyaz tenli olması kişisel özelliktir.

() Gamze'nin hayvanları sevmesi kişisel özelliktir.

() Mira'nın güzel resim yapabilmesi onun yetenekli biri olduğunu gösterir.

4) Yukarıda verilen cümlelerin doğru olanlarının başına D yanlış olanlarının başına Y yazdığımızda doğru cevap aşağıdakilerden hangisi olur?

- A) D B) Y C) Y
D D D
Y D Y

Uzun boy

Kişisel özellik

Neşeli olma

Yetenek

Güzel resim yapma

Fiziksel Özellik

5) Yukarıda verilenler eşleştirildiğinde doğru cevap aşağıdakilerden hangisi olur?

- A) B) C)

İnsanlar arasındaki ve farklılıklar doğaldır.

Bireysel farklılıklaraduymalıyız.

6) Yukarıdaki noktalı yerler aşağıda verilen kelimelerle doldurulduğunda hangi kelime boşta kalır?

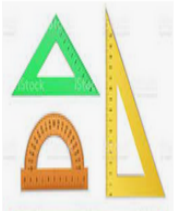
- A) Saygı B) Benzerlikler C) Yetenek

7)

Matematik
Müzik
Beden

Yukarıda Ali'nin Pazartesi günü ders programı verilmiştir Ali aşağıda verilen okul eşyalarından hangisine Pazartesi günü ihtiyaç duymaz?

A)



B)



C)



8) Okula gitmek için çantasını hazırlayan Helin, aşağıdakilerden hangisini göz önünde bulundurmalıdır?

- A) Annesinin uyarılarını
B) Ders programını
C) Sınıf kurallarını

9) Sınıf kuralları belirlenirken aşağıdakilerden hangisinin yapılması doğru bir davranıştır?

- A) Bütün herkesin düşüncesine önem verilmelidir
B) Sınıf kurallarını öğretmen belirlemelidir.
C) Sınıf kurallarını sınıf başkanı belirlemelidir.

1. Adil

2. Nazik

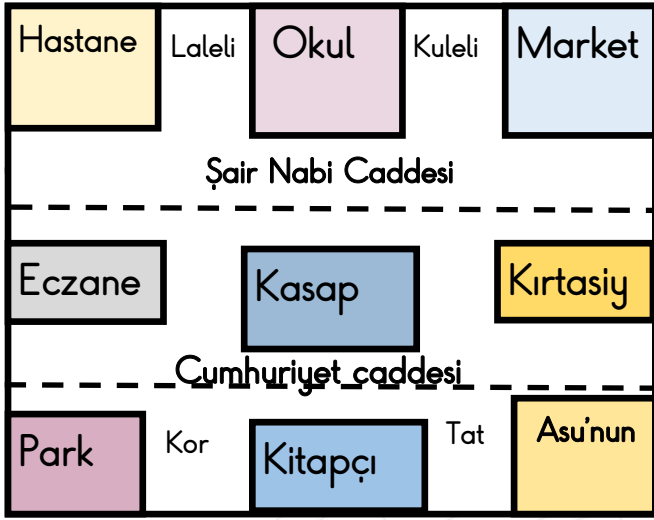
3. Saygılı

10) Grup çalışması yaparken grup arkadaşlarımızın yukarıdaki davranışlardan hangisine sahip olmasını isteriz?

- A) Yalnız 1.
B) 1.ve 2.
C) 1.2.ve3.



:Hocaninsinifi



11 ve 12. soruları yukarıda verilen krokiden yararlanarak çözelim.

11) Asu'nun okulu hangi cadde üzerinde yer almaktadır?

- A) Laleli sokak
- B) Şair Nabi Caddesi
- C) Cumhuriyet Caddesi

12) Asu'nun okulunun sağında ve solunda hangi yerler vardır?

- A) Park ve kitapçı
- B) Kırtasiye ve kasap
- C) Market ve hastane

13) Nusret, Mustafa'nın silgisini Mustafa'dan izinsiz almıştır. Bu durumda Mustafa, Nusret'e ne demelidir?

- A) Ne olmuş silgini aldıysak!
- B) Silgini izinsiz aldığım için özür dilerim.
- C) Al şu silgini !

14) Melek ve arkadaşları 29 Ekim için pano çalışması yapacaklardır. Melek aşağıdaki davranışlardan hangisini yaparsa doğru bir davranış sergilemiş olur?

- A) İstemediği bir görev gelmediği için gruptan ayrılırsa .
- B) Üzerine düşen görevi yerine getirirse.
- C) Çalışmayı istediği zaman bitirirse.

15) Kaynakları tasarruflu kullanmakla ilgili hangi davranış doğrudur?

A)



B)



C)



16) Mehmet'i annesi ekmek almaya göndermiştir.Mehmet' 3 ekmek alması için 20 tl veren annesi :

' Ekmek 15 tl tutar kalan para senin olsun' demiştir.

Mehmet kalan parayı kumbarasına atarak ihtiyacı olmayan bir şey almamıştır.

Mehmet nasıl bir tüketici değildir?

- A) Bilinçli
- B) Savurgan
- C) Tutumlu

Salih okul kaynaklarını ve eşyalarını özenli ve dikkatli kullanan biridir.

17) Salih'ten hangi davranışları yapması beklenmez?

- A) Koridorda boşa yanan lambaları söndürmesi.
- B) Defteri ve kitaplarını karalaması
- C) Lavoboda ihtiyacı kadar sıvı sabun

△ Farklı düşüncelere saygı duymalıyız.

😊 Grup çalışmasında en zor görevi en çalışkan kişiye yaptırmalıyız.

⊗ Fikirlerimiz uyuşmazsa grubu dağıtmalıyız

18) Yukarıdaki davranışlardan hangisi ya da hangileri doğrudur.

- A) △ 😊
- B) △ ⊗
- C) △

19) Arkadaşımızı dinlerken aşağıdakilerden hangisini yapmamız yanlış olur?

- A) Birini dinlerken başka şeylerle ilgilenmeliyiz.
- B) Konuşulanları dikkatli dinlemeliyiz.
- C) Dinlerken göz teması kurarım.



Keşke sınıfta ve okulda kurallar olmasa.

20) Mehmet sınıfta ve okulda kuralların olmamasını istemektedir. Kurallar olmasa okulda ve sınıfta nasıl bir ortam olurdu?

- A) Tehlikeli
- B) Düzenli
- C) Eğlenceli

HAYAT BİLGİSİ

- 1) C
- 2) A
- 3) B
- 4) B
- 5) A
- 6) C
- 7) C
- 8) B
- 9) A
- 10) C
- 11) B
- 12) C
- 13) B
- 14) B
- 15) C
- 16) B
- 17) B
- 18) C
- 19) A
- 20) A