

Ad Soyad:.....  
Sınıfı:.....  
Numarası:.....

Bir doğal sayıya aynı sayıyı ekleyerek yaptığımız saymaya **ileri ritmik sayma** denir.

**Örnek :**

6 12 18 24 30 36 42 48 54 60 → 6'şar ileri ritmik sayma

7 14 21 28 35 42 49 56 63 70 → 7'şer ileri ritmik sayma

8 16 24 32 40 48 56 64 72 80 → 8'er ileri ritmik sayma  
( Birler basamağını 2 azalt )

9 18 27 36 45 54 63 72 81 90 → 9'ar ileri ritmik sayma  
( Birler basamağını 1 azalt )

**Etkinlik: 1**

Aşağıda verilen tabloda altışar ritmik sayma yapalım. Yaptığımız saymaların olduğu kutuları boyayalım.

1	2	3	4	5	6	7	8	9	10
11	12	13	14	15	16	17	18	19	20
21	22	23	24	25	26	27	28	29	30
31	32	33	34	35	36	37	38	39	40
41	42	43	44	45	46	47	48	49	50
51	52	53	54	55	56	57	58	59	60
61	62	63	64	65	66	67	68	69	70
71	72	73	74	75	76	77	78	79	80
81	82	83	84	85	86	87	88	89	90
91	92	93	94	95	96	97	98	99	100

Yukarıda verilen tabloda yaptığımız ritmik saymayı kuşların ayaklarındaki halkalara yazalım , aşağıda verilen soruları da cevaplayalım.

6 0 0 0 0 0 0 0 0 0 0 0 0

-Baştan 6. sayı kaçtır? .....

-18 den sonra ne söyleriz? .....

-Sondan 4. sayı kaçtır?.....


-36'dan sonra ne söyleriz?.....

**Etkinlik: 2**

Aşağıda verilen tabloda yedişer ritmik sayma yapalım. Yaptığımız saymaların olduğu kutuları boyayalım.

1	2	3	4	5	6	7	8	9	10
11	12	13	14	15	16	17	18	19	20
21	22	23	24	25	26	27	28	29	30
31	32	33	34	35	36	37	38	39	40
41	42	43	44	45	46	47	48	49	50
51	52	53	54	55	56	57	58	59	60
61	62	63	64	65	66	67	68	69	70
71	72	73	74	75	76	77	78	79	80
81	82	83	84	85	86	87	88	89	90
91	92	93	94	95	96	97	98	99	100

Yukarıda verilen tabloda yaptığımız ritmik saymayı kuşların ayaklarındaki halkalara yazalım , aşağıda verilen soruları da cevaplayalım.



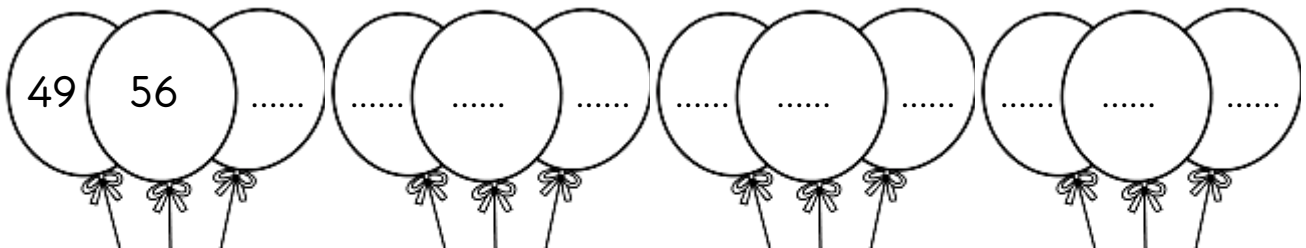
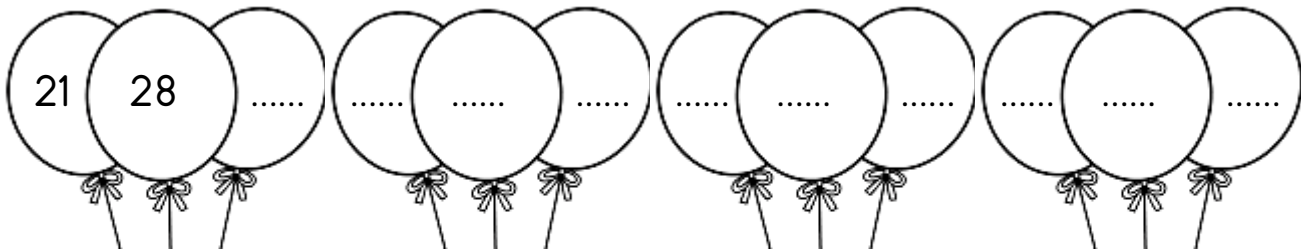
-Baştan 4. sayı kaçtır? .....

-28 den sonra ne söyleriz? .....

-Sondan 3. sayı kaçtır?.....

-49 'dan önce ne söyleriz?.....

Aşağıda verilen ritmik saymaları yedişer ritmik arttırarak devam ettirelim.




**Etkinlik: 3**

Aşağıda verilen tabloda sekizer ritmik sayma yapalım. Yaptığımız saymaların olduğu kutuları boyayalım.

1	2	3	4	5	6	7	8	9	10
11	12	13	14	15	16	17	18	19	20
21	22	23	24	25	26	27	28	29	30
31	32	33	34	35	36	37	38	39	40
41	42	43	44	45	46	47	48	49	50
51	52	53	54	55	56	57	58	59	60
61	62	63	64	65	66	67	68	69	70
71	72	73	74	75	76	77	78	79	80
81	82	83	84	85	86	87	88	89	90
91	92	93	94	95	96	97	98	99	100

Yukarıda verilen tabloda yaptığımız ritmik saymayı kuşların ayaklarındaki halkalara yazalım, aşağıda verilen soruları da cevaplayalım.



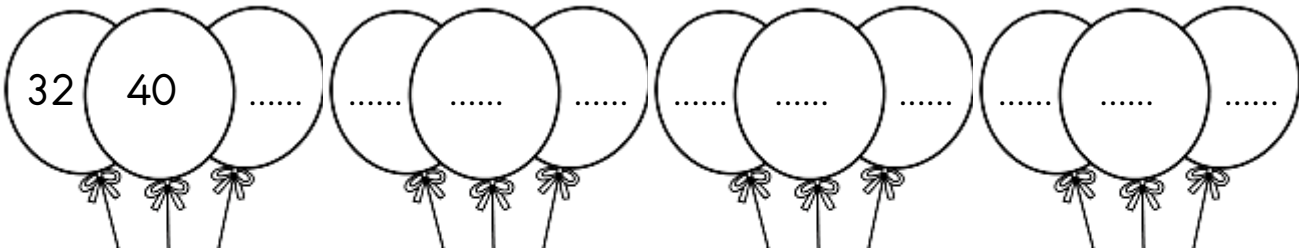
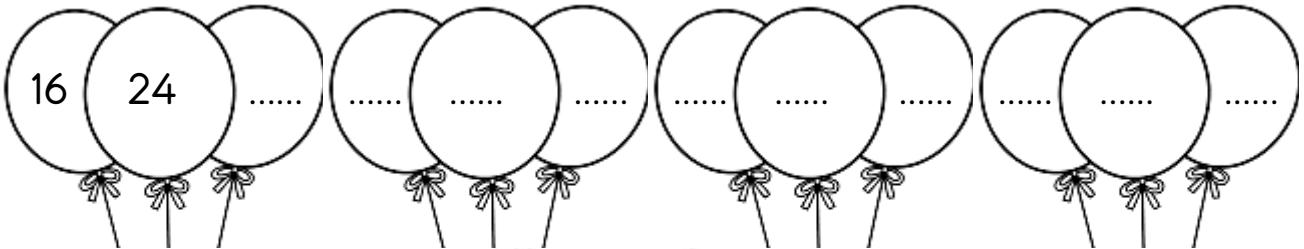
-Baştan 4. sayı kaçtır? .....

-32' den sonra ne söyleriz? .....

-Sondan 3. sayı kaçtır?.....

-64 'ten önce ne söyleriz?.....

Aşağıda verilen ritmik saymaları sekizer ritmik arttırarak devam ettirelim.




**Etkinlik: 4**

Aşağıda verilen tabloda dokuzar ritmik sayma yapalım. Yaptığımız saymaların olduğu kutuları boyayalım.

1	2	3	4	5	6	7	8	9	10
11	12	13	14	15	16	17	18	19	20
21	22	23	24	25	26	27	28	29	30
31	32	33	34	35	36	37	38	39	40
41	42	43	44	45	46	47	48	49	50
51	52	53	54	55	56	57	58	59	60
61	62	63	64	65	66	67	68	69	70
71	72	73	74	75	76	77	78	79	80
81	82	83	84	85	86	87	88	89	90
91	92	93	94	95	96	97	98	99	100

Yukarıda verilen tabloda yaptığımız ritmik saymayı kuşların ayaklarındaki halkalara yazalım, aşağıda verilen soruları da cevaplayalım.



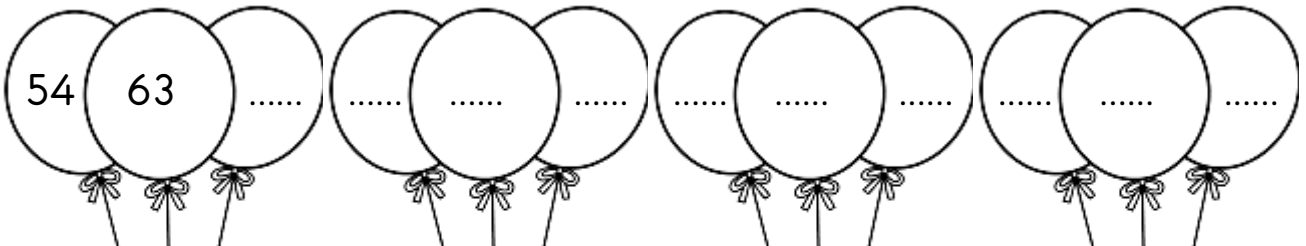
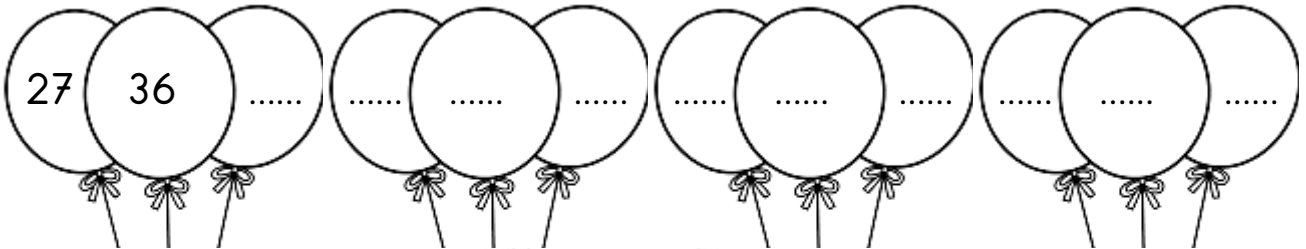
-Baştan 5. sayı kaçtır? .....

-36'dan sonra ne söyleriz? .....

-Sondan 3. sayı kaçtır?.....





-72 'den önce ne söyleriz?.....

Aşağıda verilen ritmik saymaları dokuzar ritmik arttırarak devam ettirelim.



**Etkinlik: 5**

Aşağıda verilen ritmik sayılarda noktalı yerleri ritmik saymaya uygun olacak şekilde dolduralım.

	.....	12	18	.....	.....	36	42	.....	54	.....
	7	14	.....	.....	35	.....	49	.....	.....	70
	.....	16	24	.....	40	.....	56	.....	72	.....
	9	.....	27	.....	45	.....	63	.....	81	.....

**Etkinlik: 6**

Aşağıda verilen ritmik sayılarda eksik bırakılan yerlerdeki harften yola çıkarak şifreyi bulalım.

6	12	18	İ	30	36	42	48	54	60
---	----	----	---	----	----	----	----	----	----

7	T	21	.....	35	42	49	İ	63	R
---	---	----	-------	----	----	----	---	----	---

C	16	24	32	M	.....	56	64	72	.....
---	----	----	----	---	-------	----	----	----	-------

9	K	27	36	45	İ	63	72	81	90
---	---	----	----	----	---	----	----	----	----

70	24	14	40	54	18	8	56
ŞİFRE:							