

**3.**  
**SINIF**



**B**  
**KİTAPÇIK TÜRÜ**

**T.C.**  
**MİLLÎ EĞİTİM BAKANLIĞI**  
**ÖLÇME, DEĞERLENDİRME VE SINAV HİZMETLERİ**  
**GENEL MÜDÜRLÜĞÜ**

**TED ANKARA KOLEJİ VAKFI ÖZEL İLKOKULU VE ORTAOKULU SEÇME SINAVI**  
**(2. Sınıftan 3. Sınıfa Geçenler)**  
**5 HAZİRAN 2016 Saat: 14.00**

Adayın Adı ve Soyadı : .....

Aday Numarası (T.C. No) : .....

DERS ADI	SORU SAYISI	TOPLAM SORU SAYISI	SINAV SÜRESİ (DAKİKA)
TÜRKÇE	20	60	60
MATEMATİK	20		
HAYAT BİLGİSİ	20		

## ÖĞRENCİLERİN DİKKATİNE!

1. Sınıf öğrenci yoklama listesinde belirtilen sınıfta ve sıra numarasında oturunuz.
2. Cevap kâğıdındaki kimlik bilgilerinin doğruluğunu kontrol ediniz.
3. Kitapçık türünü cevap kâğıdındaki ilgili alana kodlayınız.
4. Cevap kâğıdı üzerindeki kodlamaları kurşun kalemle yapınız.

**SINAV BAŞLAMADAN ÖNCE KİTAPÇIĞIN ARKA KAPAĞINDAKİ UYARILARI MUTLAKA OKUYUNUZ.**

1. Aşağıdaki cümlelerde altı çizili kelimelerden hangisinin eşseslisi yoktur?

- A) Kır atın yavrusu, annesine benziyordu.
- B) Burak'ın yanağında küçük bir ben vardı.
- C) Yüzünde çiçekler açmıştı.
- D) Evinin penceresinde demir yoktu.

2. Yaşıtlarına göre uzun bir çocuktü.

Bu cümledeki altı çizili kelimenin karşıt anlamlısı aşağıdakilerin hangisinde kullanılmıştır?

- A) Arkadaşımın çok zayıf bir kedisi vardı.
- B) Kısa olmasına rağmen her yere yetişiyordu.
- C) Amcam kardeşlerine göre şişman görünüyordu.
- D) Evin küçük bahçesinde meyve ağaçları vardı.

3. 1- turp  
2- turunç  
3- turna  
4- turşu

Numaralanmış kelimelerin sözlük sırasına göre dizilişi aşağıdakilerden hangisidir?

- A) 3-1-4-2
- B) 3-4-2-1
- C) 4-1-2-3
- D) 4-3-2-1

4. Aşağıdaki eşleştirmelerden hangisi aralarındaki anlam ilişkisine göre farklıdır?

A) Güzel-çirkin

B) Yumuşak-sert

C) Kötü-fena

D) Yeni-eski

5. Yağmurda ıslanıp hasta olmamak - - - - evlerine döndüler.

Bu cümlede boş bırakılan yere aşağıdakilerden hangisi getirilmelidir?

A) için

B) çünkü

C) fakat

D) sonra

6. Aşağıdaki cümlelerin hangisinde karşılaştırma yapılmıştır?

A) Maçın bitmesine yirmi bir dakika vardı.

B) Benim yapmam gereken küçücük bir şeydi.

C) Onun bu sözleri, Gizem üzerinde etkili oldu.

D) Son yolculuğumuz diğerlerinden daha kısa sürdü.

7. Aşağıdaki cümlelerin hangisinde sebep-sonuç ilişkisi yoktur?

A) Kuşların civıltısını dinlerken uyuyakaldı.

B) Sevdiği oyuncasını evde unuttuğu için biraz üzüldü.

C) Kardeşinden su istedi çünkü çok susamıştı.

D) Dedesini özledi bu yüzden hafta sonu yanına gitti.

8. 1. dükkân  
2. satan  
3. buldum  
4. hikâye  
5. bir

Numaralanmış kelimelerle anlamlı ve kurallı bir cümle kurulduğunda sıralama aşağıdakilerden hangisi olur?

- A) 1-3-4-2-5  
B) 2-5-4-1-3  
C) 4-2-5-1-3  
D) 5-1-3-4-2

9. (1) Ağlayan kızın gözünden inciler dökülüyordu. (2) Kızın ağladığını gören genç kadın onu güldürecek bir hikâye anlattı. (3) Gülmeye başlayan kızın yanaklarında güller açtı. (4) Kadın kalkıp kızın saçlarına su dökünce kızın başından altınlar saçıldı.

**Bu metinde numaralanmış cümlelerin hangisinde hayalî unsurlara yer verilmemiştir?**

- A) 1.                      B) 2.                      C) 3.                      D) 4.

10. Çöller hemen hemen hiç yağmur yağmayan alanlardır. Genellikle sıcak ve çoraktır. Çoğu kayalıktır, sadece birkaçı kumla kaplıdır. Çölde gündüzleri keseli fare gibi birçok canlı yer altına sığınır. Hayvanlar geceleyin hava daha serin olduğundan beslenmek için dışarı çıkar.

**Bu metinde çöllerle ilgili aşağıdakilerden hangisine değnilmemiştir?**

- A) Genellikle yağış almadığına  
B) Hayvanların yiyeceklerini zor bulduğuna  
C) Çoğunun kayalıklarla kaplı olduğuna  
D) Hava sıcaklığının geceleri düştüğüne

11. Her akşamüstü genç balıkçı neşeyle denize açılırdı.

Bu cümlede aşağıdaki sorulardan hangisinin cevabı yoktur?

A) Nereden?

B) Ne zaman?

C) Kim?

D) Nasıl?

12. Uçsuz bucaksız gökyüzü, deniz, bulutlar ve parlayan güneş Cansu'nun nefesini kesmişti. Denizin tepeden görünüşü, güneş ışınlarının suyun üzerinde dans edişi onu kendinden geçirmişti. Ne de olsa ilk kez bu yaz tatilinde görmüştü bu güzelliği.

Bu metindeki altı çizili söz hikâyenin hangi unsurudur?

A) Olay

B) Ana karakter

C) Yer

D) Zaman

13. Çocuklar çadırın içinde sohbet ediyorlardı. Yandaki çadırda sesler keşilmişti. Sadece kampın yakınındaki derenin şırlıtısı duyuluyordu. Yavaş yavaş akşam serinliği çıkmaya başlamıştı.

Bu metinde hangi duyuyla ilgili bir ayrıntı yoktur?

A) Görme

B) Koklama

C) Dokunma

D) Duyuma

14. Merve televizyon habercisi. Kitapları tanıtıyor, eleştiriler yapıyor, izleyicilere sevdiği eserleri öneriyor. Halk ona güveniyor. Her hafta milyonlarca kişi onun programını izliyor. Bir kitap hakkında olumlu şeyler söylediğinde insanlar o kitabı almaya başlıyor.

**Bu metinde Merve ile ilgili aşağıdakilerin hangisine değinilmemiştir?**

- A) Programının izlendiğine
- B) Birçok kişinin ona güvendiğine
- C) İnsanlar üzerinde etkili olduğuna
- D) Yazar olarak tanındığına

15. Ne çok spor dalı var.  
Ben hepsini yaparım  
Yüzerim, koşarım,  
Tavşan gibi zıplarım,  
Harika top oynarım,  
Bisiklete binerim.

**Bu şiirde aşağıdaki spor dallarının hangisinden bahsedilmemiştir?**

- A) Atletizm
- B) Yüzme
- C) Güreş
- D) Bisiklet

16. Ağrı Dağına özellikle Nuh'un gemisi efsanesi sayesinde binlerce dağcı tırmanıyor. Ağrı Dağı, yüksek ama aynı zamanda tırmanması kolay bir dağdır. Dedegöl Dağları da sportif kaya tırmanışının merkezi olma yolunda ilerliyor. Aladağlar ise onlarca zirvesiyle âdeta bir tırmanma bahçesi.

**Bu metnin konusu aşağıdakilerden hangisidir?**

- A) Türkiye'de dağcılığa uygun dağlar
- B) Dağların turizme etkisi
- C) Dağcılık sporunun zorlukları
- D) Türkiye'deki dağların oluşum biçimi

17. Yaylasına, ırmağına,  
Yedi bölge toprağına  
Ay yıldızlı bayrağına  
Aşığım ben Türkiye'min.

**Bu şiirin ana duygusu aşağıdakilerden hangisidir?**

- A) Doğa sevgisi
- B) Vatan sevgisi
- C) Umut
- D) Özlem

18. Senin bu hâlin ne olacak( ) Çalışmazsan nasıl yaşayacaksın( ) Bence bu şekilde hayatta çok zorlanırsın( )

**Bu metinde boş bırakılan yerlere sırasıyla aşağıdaki noktalama işaretlerinden hangileri getirilmelidir?**

- A) (.) (.) (.)
- B) (?) (?) (.)
- C) (?) (.) (.)
- D) (.) (?) (?)

19. Aşağıdaki altı çizili kelimelerden hangisinin yazımı doğrudur?
- A) Frından yeni çıkan ekmekler mis gibi kokuyordu.  
B) Emekli olan dedem kendisine bir tıraktör almıştı.  
C) Elindeki tırmıkla bahçenin çöpünü temizliyordu.  
D) Cumartesi günü cimnastik kursuna başlayacağım.
20. Aşağıdaki cümlelerden hangisi yazım ve noktalama yönünden doğrudur?
- A) Baban Edirne'ye niçin gitti?  
B) Baban edirneye niçin gitti?  
C) Baban Edirneye niçin gitti.  
D) Baban edirne'ye niçin gitti.

TÜRKÇE TESTİ BİTTİ.  
MATEMATİK TESTİNE GEÇİNİZ.



1. Melis 47 liraya pantolon, 45 liraya ayakkabı satın aldı. Melis ayakkabı ile pantolon için kaç lira ödedi?

A) 77                      B) 82                      C) 87                      D) 92

2.

$$\begin{array}{r} 42 \\ - \text{O} \star \\ \hline 24 \end{array}$$

Yukarıdaki çıkarma işlemine göre  $\text{O} + \star$  kaçtır?

A) 9                      B) 10                      C) 11                      D) 12

3.  $\square + 17 = 36$  ve  $\square + \triangle = 29$  olduğuna göre  $\triangle$  kaçtır?

A) 8                      B) 9                      C) 10                      D) 11

4. Merve her seferinde son yazdığı sayıya 6 ekleyerek bir örüntü oluşturuyor. İlk yazdığı sayı 11 olduğuna göre beşinci yazdığı sayı kaçtır?

A) 29                      B) 35                      C) 41                      D) 47

5. Mehmet 40'tan başlayarak geriye doğru dörder dörder 0'a kadar sayıyor. Seçil 1'den başlayarak ileriye doğru üçer üçer 43'e kadar sayıyor. İkisinin de söylediği kaç ortak sayı vardır?

A) 1                      B) 2                      C) 3                      D) 4

6. Mert kırtasiyeden 5 deste kalem aldı. Bu kalemlerin bir kısmını kardeşine verince 4 düzine kalemi kaldı. Mert kardeşine kaç kalem verdi?

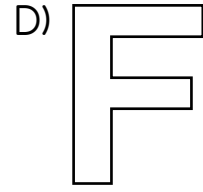
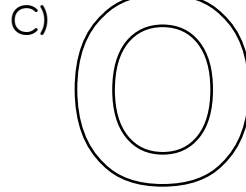
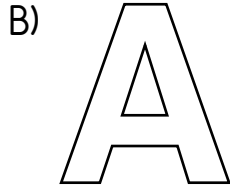
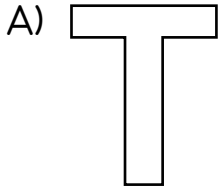
A) 2

B) 4

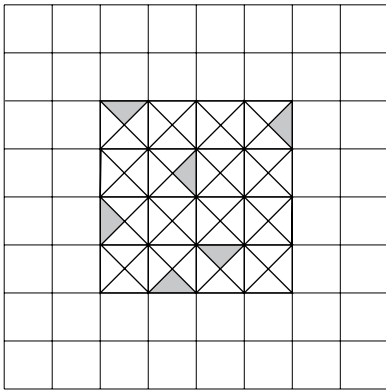
C) 6

D) 8

7. Aşağıdaki şekillerden hangisi simetrik değildir?



8.



Kareli kağıt üzerine çizilen şeklin tamamı  $\nabla$  biçimindeki şekillerle kaplanacaktır. Bunun için  $\nabla$  şeklinden kaç tane daha olması gerekir?

A) 60

B) 59

C) 58

D) 57

9.  $\triangle\star$  iki basamaklı bir sayıdır.  $\triangle$ 'in basamak değeri  $\star$ 'ın basamak değerinden 14 fazladır. Buna göre  $\triangle + \star$  kaçtır?
- A) 8                      B) 6                      C) 4                      D) 2
10. Bir okul kantininde bir defter 15 lira, bir kalem 10 lira, bir silgi 4 lira ve bir kalemıraş 3 liradır. Her üründen en az bir tane alan Onur 36 lira ödedi. Onur hangi üründen 2 tane satın aldı?
- A) Defter                      B) Kalem                      C) Silgi                      D) Kalemıraş
11. Bir mağaza elinde bulunan 20 parça ürünü beşerli paketler hâlinde satacaktır. Bir paketin satış fiyatı 9 liradır. Buna göre bu ürünlerin tamamını satan mağazanın kazancı kaç liradır?
- A) 45                      B) 36                      C) 30                      D) 27
12. Emir her gün sabah ve akşam birer bardak süt içmektedir. Emir pazartesi sabahı içmeye başladığı bir kutu sütü çarşamba akşamı bitirdi. Emir her gün yalnız 1 bardak süt içmiş olsaydı bir kutu süt hangi gün biterdi?
- A) Perşembe                      B) Cuma  
C) Cumartesi                      D) Pazar

13.



Yukarıda Nilgün'ün paraları gösterilmiştir. Buna göre Nilgün'ün ne kadar parası vardır?

- A) 46 lira 25 kuruş  
C) 45 lira 75 kuruş

- B) 46 lira 20 kuruş  
D) 45 lira 50 kuruş

14. Aysun'un bir karışı 20 cm'dir. Aysun'un ölçtüğü bir ipin uzunluğu 50 karıştır. Buna göre bu ipin uzunluğu kaç metredir?

A) 1

B) 10

C) 100

D) 1000

15. Bir öğrenci birer tane karesel bölge, dikdörtgensel bölge, üçgensel bölge ve daire çiziyor. Bu öğrencinin çizmiş olduğu şekillerin köşe sayılarının toplamı kaçtır?

A) 12





















B) 11

C) 10

D) 9

16. Yasin, Ali ve Veli'nin her biri 4 paket şeker yemiştir. Her pakette 8 şeker vardır. Buna göre Yasin, Ali ve Veli toplam kaç şeker yemiştir?
- A) 84                      B) 88                      C) 92                      D) 96
17. Simge : "Okulların kapanmasına 6 hafta 5 gün kaldı."  
Ezgi : "Doğum gününe 1 ay 12 gün kaldı."  
Berat : "Yaz tatili 37 gün sonra bitecek."  
Umut : "3 gün 16 saat sonra yeni yıla gireceğiz."  
Yukarıda hangi öğrencinin söylediği süre en uzundur?
- A) Simge                      B) Ezgi                      C) Berat                      D) Umut
18. Aşağıdaki grafik bir sınıftaki öğrencilerin en çok sevdiği meyvelerin sayısını göstermektedir.

Grafik: En Çok Sevilen Meyveler

Nar							
Armut							
Elma							
Muz							
Çilek							

Grafikteki her bir meyve resmi, o meyveyi seven öğrenciyi göstermektedir.

Bu grafiğe göre aşağıdakilerden hangisi doğrudur?

- A) Armut sevenlerin sayısı, elma sevenlerin sayısından 1 eksiktir.  
B) Elma sevenlerin sayısı, nar sevenlerin sayısından 2 eksiktir.  
C) Muz sevenlerin sayısı, nar sevenlerin sayısından 2 fazladır.  
D) Çilek sevenlerin sayısı, muz sevenlerin sayısından 3 fazladır.

19. Bozuk bir tartı 2 kg eksik tartmaktadır. Bozuk olmayan bir tartıda Hakan'ın kütlesi 72 kg gelmektedir. Çantasıyla birlikte bozuk tartıya çıktığında bu tartı 77 kg göstermektedir.

Buna göre Hakan'ın çantası kaç kilogramdır?

- A) 6                      B) 7                      C) 8                      D) 9

20. Arda, Çağan ve Deniz'in toplam 28 bilyesi vardır. Deniz'in bilyelerinin sayısı Çağan'inkinden çok, Arda'ninkinden azdır. Üçünün bilyelerinin sayısını gösteren tablo aşağıdakilerden hangisi olabilir?

A)

Kişi	Bilye Sayısı
Arda	13
Çağan	7
Deniz	8

B)

Kişi	Bilye Sayısı
Arda	8
Çağan	9
Deniz	11

C)

Kişi	Bilye Sayısı
Arda	12
Çağan	10
Deniz	6

D)

Kişi	Bilye Sayısı
Arda	9
Çağan	11
Deniz	5

MATEMATİK TESTİ BİTTİ.  
HAYAT BİLGİSİ TESTİNE GEÇİNİZ.

1. 8 yaşındaki Bülent, aşağıdaki davranışlardan hangisini yaparsa aile içi yardımlaşmaya katkıda bulunmuş olmaz?

- A) Annesiyle birlikte sofrayı hazırlaması
- B) Kendi odasını temiz tutmaması
- C) Kitaplıktan aldığı kitapları yerine koyması
- D) Evdeki eşyaları dağıtmaması

2. Okul takımının kaptanı şampiyonluk kupasını aldıktan sonra takımını kutlayanlara, "Biz planlı ve disiplinli çalıştığımız için başarılı olduk." diyerek şampiyon olmalarının kendileri için sürpriz olmadığını söyledi.

**Bu parçaya göre aşağıdakilerden hangisini yapmak başarılı olmayı sağlar?**

- A) Okuldan geldikten sonra arkadaşlarla buluşup oynamak
- B) Her işi, büyüklerimiz söyledikten sonra yapmak
- C) Günlük işleri öncelik sırasına koymak
- D) Ödevleri biriktirmek

3. Emine kedisini çok seviyordu. Onun sağlıklı olmasına özen gösteriyordu. Ama birgün Emine'nin kedisi hastalandı.

**Emine kedisini tedavi ettirmek için aşağıdaki görevlilerden hangisine götürmelidir?**

- A) Veteriner
- B) Hemşire
- C) Doktor
- D) Ebe

4. Atatürk, Türkiye Büyük Millet Meclisi tarafından 29 Ekim 1923 günü aşağıdaki görevlerden hangisine seçilmiştir?

- A) Ankara valiliğine
- B) Türkiye Büyük Millet Meclisi başkanlığına
- C) Türkiye Cumhuriyeti Devleti başbakanlığına
- D) Türkiye Cumhuriyeti Devleti cumhurbaşkanlığına

5. Bu haftanın verdiği  
Öğütleri tutalım.  
Bir lira artırıp  
Kumbaraya atalım.

Okulunuzda kutladığınız aşağıdaki belirli gün ve haftalardan hangisinde bu şiiri arkadaşlarınıza okuyabilirsiniz?

- A) Kızılay Haftasında
- B) İlköğretim Haftasında
- C) Trafik ve İlk Yardım Haftasında
- D) Tutum, Yatırım ve Türk Malları Haftasında

6. Atatürk'ün "Yurtta barış, dünyada barış." sözü, onun aşağıdakilerden hangisine karşı olduğunu gösterir?

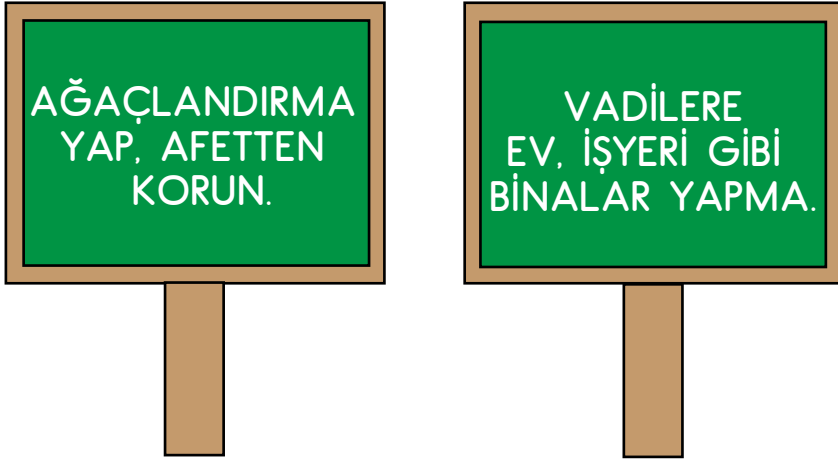
- A) Gurura
- B) Savaşa
- C) Barışa
- D) Cumhuriyete

7. Aşağıdaki hak ve hürriyetlerden hangisi cumhuriyet yönetim şekliyle doğrudan ilgilidir?

- A) Yaşama hakkı
- B) Seyahat hürriyeti
- C) Din ve vicdan hürriyeti
- D) Seçme ve seçilme hakkı



8.



İlkokul öğrencilerinin hazırladığı yukarıdaki afişler hangi doğal afetle ilgilidir?


- A) Sel  
B) Kuraklık  
C) Deprem  
D) Orman yangını

9. Tarık: "Babam hafta sonu su damlatan musluğu onardı, dışarıdan soğuk geldiği için pencere kenarlarına bant çaktı. Evin odalarındaki lambaları az elektrik tüketenlerle değiştirdi."

Buna göre Tarık'ın babası için aşağıdakilerden hangisini söylemek doğru olur?

- A) Ev işlerini fazla sevmediği  
B) Evin güzelliğine önem verdiği  
C) Çocuklarının isteklerini hemen karşıladığı  
D) Evde kullanılan kaynakları bilinçli tükettiği

10.



1



2


Görsellerde verilen durumların oluşması aşağıdakilerden hangisinin sonucudur?

- A) Ay'ın Dünya çevresinde dönmesinin
- B) Dünya'nın Güneş etrafında dönmesinin
- C) Dünya'nın kendi çevresinde dönmesinin
- D) Güneş'in kendi çevresinde dönmesinin

11. Aşağıdakilerden hangisi iletişim araçlarının doğru kullanımına örnek verilebilir?

- A) Yüksek sesle müzik dinlemek
- B) Ders çalışırken televizyon izlemek
- C) Telefon görüşmelerini kısa tutmak
- D) Kütüphanede gürültülü bir şekilde gazete okumak

12.



Yukarıda sabahın erken saatlerine ait olan görsel incelendiğinde evin batısında aşağıdakilerden hangisi yer almaktadır?

- A) Köprü  
B) Traktör  
C) Orman  
D) Dağlar

13. Tabloda doğadaki olaylar ve korunma yolları verilmiştir.

Doğadaki Olaylar	Korunma Yolları
Deprem	Dayanıklı sağlam binalar yapılmalı.
Sel	Ağaçlık alanlar azaltılmalı.
Orman yangınları	Piknik sonrası yakılan ateş söndürülmeli.

Buna göre hangi olaylardan korunma yolu doğru verilmiştir?

- A) Yalnızca selden  
B) Yalnızca depremden  
C) Sel ve orman yangınlarından  
D) Deprem ve orman yangınlarından

14.

Sınıftaki panomuzu  
artık biz düzenliyoruz.  
Geçen sene panoya  
uzanamıyorduk.



Mine

Spor ayakkabım küçük  
geldiği için hafta sonu  
yenisini alacağız.



Seda

Her sabah kalkınca  
elimi yüzümü yıkarım.



Mehmet

Okul çantamı her  
akşam yatmadan önce  
hazırlarım.



Yasemin

Bu çocuklardan hangilerinin ifadeleri büyüme ve gelişme ile ilgilidir?

A) Mine - Seda

B) Seda - Mehmet

C) Mine - Yasemin

D) Mehmet - Yasemin

15. Tuğçe, parkta oynayan arkadaşlarını gördü. Arkadaşı, Tuğçe'ye seslendi. Biraz oynadıktan sonra havanın soğuduğunu fark ettiler. Evlerine döndüler.

Tuğçe anlatılan bu olayda hangi duyu organından yararlanmamıştır?

A) Göz

B) Burun

C) Deri

D) Kulak

16. Aşağıdakilerden hangisi bilinçli bir tüketici davranışıdır?

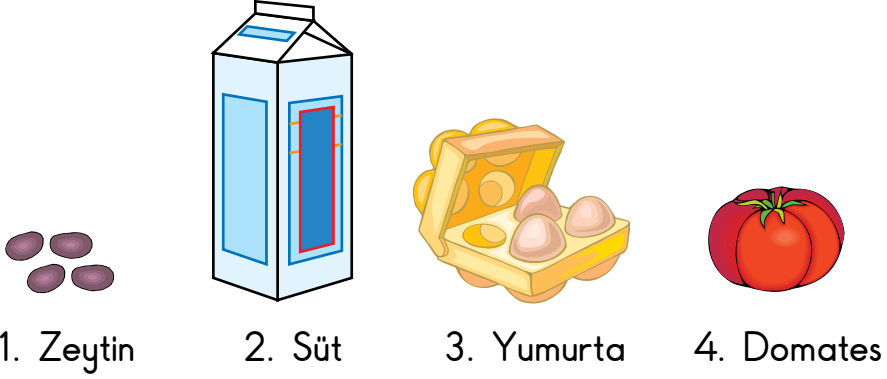
- A) Para kaynaklarını ihtiyacından fazla harcar.
- B) Beğendiği bir ürünün fiyatına bakmadan alır.
- C) Alacağı ürünün sağlam olup olmadığına dikkat eder.
- D) Alışveriş yaparken her zaman pahalı ürünleri tercih eder.

17. Öğrenciler, sağlıklarını korumak için okulda yapılması gerekenlerle ilgili afiş hazırlamışlardır.

Buna göre aşağıdaki afişlerden hangisi yanlıştır?

- A) Hava durumuna göre giyinelim.
- B) Sık sık ellerimizi sabunla yıkayalım.
- C) Arkadaşlarımızla bardağımızı ortak kullanalım.
- D) Birbirimize zarar verecek şakalar yapmayalım.

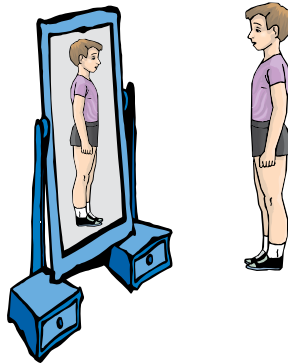
18. Aşağıdaki görsellerde kahvaltıda yediğimiz bazı besinlere numaralar verilmiştir.



Buna göre bu besinlerin hayvanlardan ve bitkilerden elde edilenleri aşağıdakilerin hangisinde doğru gruplanmıştır?

	Hayvanlardan elde edilenler	Bitkilerden elde edilenler
A)	1, 2	3, 4
B)	2, 3	1, 4
C)	3, 4	1, 2
D)	1, 3	2, 4

- 19.



Onur, vücudunu incelemek için aynaya baktığında aşağıdakilerden hangisini göremez?

- A) Kanı temizleyen organı  
B) Ağız, gözler ve burnunu  
C) Vücudun gövdeye bağlı kısımlarını  
D) Hareket etmemizde görevli organları

20.

Ellerimi yıkarken sabun kullanırım.  
Yemekten sonra dişlerimi fırçalarım.  
Saçlarımı okula gitmeden tararım.



Duygu

Duygu'nun söylediklerine göre kişisel bakımı ile ilgili aşağıdakilerden hangisi doğrudur?

- A) Sadece okula giderken kişisel bakımını yapar.
- B) Kişisel bakımında hiçbir malzeme kullanmaz.
- C) Her zaman büyüklerinden yardım alır.
- D) Temiz olmaya dikkat eder.

TEST BİTTİ.  
CEVAPLARINIZI KONTROL EDİNİZ.

## **SINAV BAŞLAMADAN AŞAĞIDAKİ UYARILARI MUTLAKA OKUYUNUZ!**

1. Öğrenciler, sınav kurallarına ve salon görevlilerinin tüm uyarılarına uymak zorundadırlar.
2. Cevap kâğıdındaki kimlik bilgilerinin doğruluğunu kontrol ediniz. Bilgiler size ait değilse veya cevap kâğıdı kullanılmayacak durumdaysa sınav görevlilerine bildiriniz.
3. Sınav başladıktan sonra öğrencilerin salon görevlileri ve birbirleri ile konuşmaları, kalem, silgi vb. şeyleri istemeleri yasaktır.
4. Değiştirmek istediğiniz bir cevabı, yumuşak silgiyle cevap kâğıdını yıpratmadan temizce siliniz ve yeni cevabınızı kodlayınız.
5. Cevap kâğıdınızı silinmeyen bir kalemle imzalayınız.
6. Cevaplarınızı, cevap kâğıdındaki ilgili soru numarasını dikkate alarak yuvarlağın dışına taşırmadan kodlayınız.
7. Soru kitapçığının sayfalarını kontrol ediniz, baskı hatası var ise değiştirilmesini sağlayınız.
8. Soru kitapçığı üzerinde yapılp cevap kâğıdına işaretlenmeyen cevaplar değerlendirmeye alınmayacaktır.
9. Soru kitapçığının içindeki boş alanları çözümlerinizi için kullanabilirsiniz.
10. Cevaplamaya istediğiniz sorudan başlayabilirsiniz.
11. Cevabını bilmediğiniz sorular üzerinde fazla zaman kaybetmeden diğer sorulara geçiniz. Zamanınız kalırsa bu sorulara daha sonra dönebilirsiniz.
12. Sınav puanınızın hesaplanmasında 3 yanlış 1 doğru cevabınızı götürcektir. Alt testler bu şekilde hesaplanarak net puanlarının toplamı toplam net puanınızı verecektir.
13. Sınav bitiminde, soru kitapçığı ve cevap kâğıdını salon görevlilerine teslim ediniz.
14. Sınav sırasında sözlük, hesap makinesi, saat fonksiyonu dışında özellikleri bulunan saat veya çağrı cihazı, cep telefonu, telsiz, radyo ve bilgisayar özelliği bulunan elektronik cihazları yanınızda bulundurmanız hâlinde sınavınız geçersiz sayılacaktır.
15. Cevap kâğıdınızı sınav süresince hiçbir öğrencinin göremeyeceği şekilde önünüzde bulundurunuz.
16. Sınavınızın değerlendirilmesi aşamasında, toplu kopya tespiti veya başka adayın sınav evrakını kullanmanız durumunda sınavınız geçersiz sayılacaktır.
17. Soruları ve sorulara verdiğiniz cevapları kaydetmeyiniz, hiçbir şekilde dışarı çıkarmayınız.
18. İlk 15 dakika dışarı çıkılmayacaktır.
19. Sınav evraklarını teslim etmeyenlerin sınavı geçersiz sayılacaktır.

### **SINAV GÖREVLİLERİNCE SINAV BAŞLAMADAN ÖNCE ÖĞRENCİLERE YAPILACAK SON UYARI!**

- Soracağınız bir şey var mı? Varsa, şimdi sorunuz.
- Sınav başladıktan sonra sorularınıza cevap verilmeyecektir.
- Başlama zilini bekleyiniz.

**Hepinize başarılar dileriz.**

**(Sınav görevlisi başlama ve bitiş saatini tahtaya yazacaktır.)**

**Bu kitapçığın her hakkı saklıdır. Hangi amaçla olursa olsun, kitapçığın tamamının veya bir kısmının Millî Eğitim Bakanlığı Ölçme, Değerlendirme ve Sınav Hizmetleri Genel Müdürlüğünün yazılı izni olmadan kopya edilmesi, fotoğraflarının çekilmesi, bilgisayar ortamına alınması, herhangi bir yolla çoğaltılması, yayımlanması veya başka bir amaçla kullanılması yasaktır. Bu yasağa uymayanlar, doğabilecek cezai sorumluluğu ve kitapçığın hazırlanmasındaki mali külfeti peşinen kabullenmiş sayılır.**



**05 HAZİRAN 2016 TARİHİNDE YAPILAN TED ANKARA KOLEJİ VAKFI  
ÖZEL İLKOKULU VE ORTAOKULU SEÇME SINAVI  
3. SINIFLAR “B” KİTAPÇIĞI CEVAP ANAHTARI**

<b>TÜRKÇE</b>	<b>MATEMATİK</b>	<b>HAYAT BİLGİSİ</b>
1. D	1. D	1. B
2. B	2. A	2. C
3. A	3. C	3. A
4. C	4. B	4. D
5. A	5. D	5. D
6. D	6. A	6. B
7. A	7. D	7. D
8. C	8. C	8. A
9. B	9. A	9. D
10. B	10. C	10. C
11. A	11. B	11. C
12. D	12. C	12. B
13. B	13. A	13. D
14. D	14. B	14. A
15. C	15. B	15. B
16. A	16. D	16. C
17. B	17. A	17. C
18. B	18. D	18. B
19. C	19. B	19. A
20. A	20. A	20. D