

Ad Soyad:.....
Sınıfı:.....
Numarası:.....



ATATÜRK OLACAĞIM

Atatürk okul yolunda,
Çantası vardı kolunda,
Çalışkandı okulunda,
Ben de çok çalışacağım,
Ben, Atatürk olacağım!

O çok sevdi milletini,
Geliştirdi devletini,
Bağışladı servetini,
Ben de bağış yapacağım,
Ben, Atatürk olacağım!

Atatürk komutan oldu,
Düşmanları yurttan kovdu,
Yepyeni bir vatan kurdu,
Ben de asker olacağım,
Ben, Atatürk olacağım!

Atatürk ilk öğretmendi,
Atatürk büyük liderdi,
Atatürk bize her şeydi,
O'nu örnek alacağım,
Ben, Atatürk olacağım!

İsmail SAĞIR

1) Atatürk, okulda nasıl bir öğrenciymiş?

2) Atatürk, komutan olunca neler yapmıştır?

3) Atatürk'ü niçin örnek almalıyız?

4) "Atatürk Olacağım" şiirinin şairi kimdir?

❖ Aşağıdaki numaralandırılmış olarak verilen metin parçalarını bölümleri ile eşleştiriniz.

- 1 İlerde iyi bir yazar olmak için çok okumam gerektiğini biliyorum. Bunun için kütüphaneye üye oldum. Kütüphaneden ilgi duyduğum konularla ilgili kitaplara ulaşabiliyorum. Yazma becerimi geliştirmek için de günlük tutuyorum.
- 2 Sözün kısası yazarlık hayalimi gerçekleştirmek için ilk adımlarımı atıyorum.
- 3 Herkesin ilgi duyduğu bir meslek vardır. Benimki de yazarlık.

GİRİŞ

GELİŞME

SONUÇ

❖ Aşağıdaki cümlelerde yıldız ☆ ile gösterilen noktalama işaretlerinden nokta (.) olanları boyayınız.


- Bugün Ela ☆ Esra ve Canan pikniğe gittiler ☆
- Babam beni muayene için Dr ☆ Hakan IŞIK ☆ a götürdü ☆
- Eyvah ☆ Yarın sınav olduğunu unutmuşum ☆
- Atatürk saat 09 ☆ 05 geçe hayata gözlerini yumdu ☆
- Esra 5 ☆ sınıfa mı gidiyor ☆
- Cumhuriyet 29 ☆ 10 ☆ 1923 tarihinde ilan edildi ☆
- Işıl ☆ ın kitaplığında roman ☆ şiir ve hikaye kitapları var ☆

❖ Aşağıdaki verilen kelimelerin eş anlamlarını karşılarına yazınız.

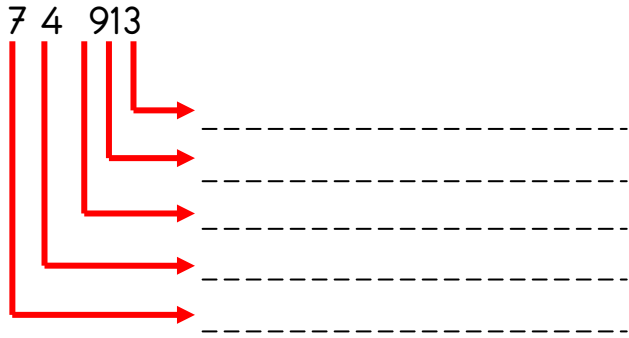
Siyah	Sınav	Vatan
Okul	Örnek	Barış
Ayakkabı	Akil	Hatıra
Şehir	Fakir	Rüya
Baş	Hediye	Lider

❖ Aşağıdaki verilen sayıların basamak isimlerini yazınız.

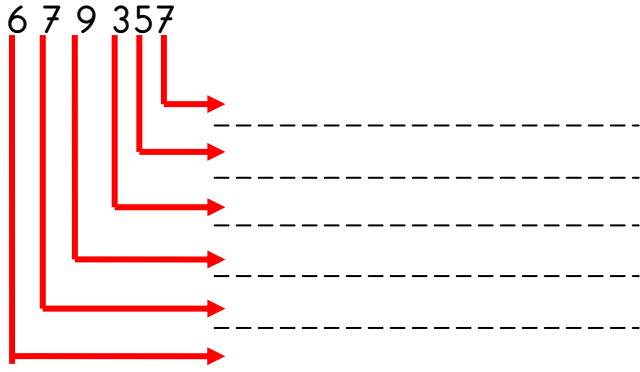
3 587



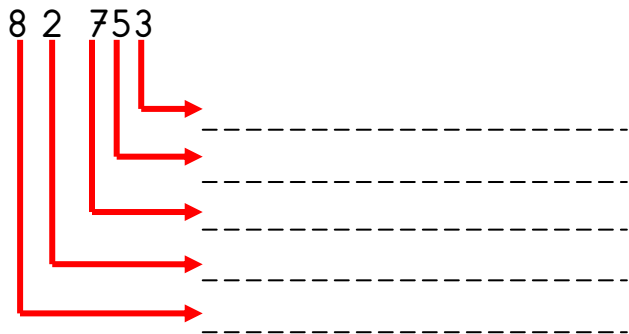
7 4 913



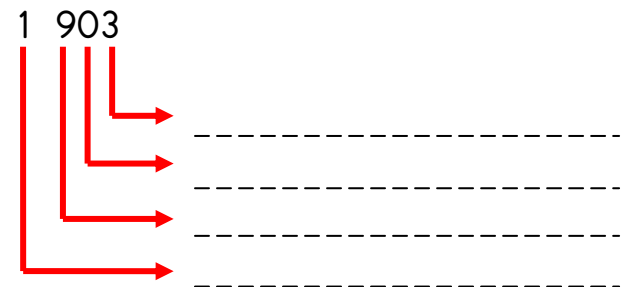
6 7 9 357



8 2 753



1 903



❖ Aşağıdaki verilen sayıların bölüklerini yazınız.

85 389

Birler Bölüğü:

Binler Bölüğü:

159 086

Birler Bölüğü:

Binler Bölüğü:

2324

Birler Bölüğü:

Binler Bölüğü:

43 328

Birler Bölüğü:

Binler Bölüğü:

❖ Aşağıdaki bölükleri verilen sayıları yazınız.

Birler Bölüğü: 870

Binler Bölüğü: 109

Birler Bölüğü: 53

Binler Bölüğü: 95

Birler Bölüğü: 441

Binler Bölüğü: 6

Birler Bölüğü: 325

Binler Bölüğü: 951

Birler Bölüğü: 3

Binler Bölüğü: 250

❖ Aşağıdaki verilen sayıları örnekteki gibi çözümlayiniz.

$$635\ 892 = (6 \times 100\ 000) + (3 \times 10\ 000) + (5 \times 1000) + (8 \times 100) + (9 \times 10) + (2 \times 1)$$

$$9\ 583 =$$

$$67\ 502 =$$

$$256\ 790 =$$

$$120\ 863 =$$

$$85\ 090 =$$

$$7\ 235 =$$

❖ Aşağıdaki çözümlemesi verilen sayıları örnekteki yazınız.

$$759\ 312 = (7 \times 100\ 000) + (5 \times 10\ 000) + (9 \times 1000) + (3 \times 100) + (1 \times 10) + (2 \times 1)$$

$$\dots\dots\dots = (2 \times 10\ 000) + (3 \times 1000) + (9 \times 100) + (8 \times 10) + (4 \times 1)$$

$$\dots\dots\dots = (1 \times 100\ 000) + (9 \times 10\ 000) + (4 \times 1000) + (5 \times 100) + (6 \times 1)$$

$$\dots\dots\dots = (8 \times 100\ 000) + (3 \times 1000) + (7 \times 10) + (5 \times 1)$$

$$\dots\dots\dots = (6 \times 1000) + (7 \times 100) + (3 \times 1)$$

$$\dots\dots\dots = (9 \times 10\ 000) + (8 \times 1000) + (1 \times 100) + (8 \times 10)$$

❖ Aşağıdaki verilen sayıları örnekteki gibi çözümlayiniz.

$$836\ 724 = 8\ \text{yüz binlik} + 3\ \text{on binlik} + 6\ \text{binlik} + 7\ \text{yüzlük} + 2\ \text{onluk} + 4\ \text{birlik}$$

$$2\ 593 =$$

$$15\ 068 =$$

$$24\ 852 =$$

$$1\ 453 =$$

$$186\ 290 =$$

$$90\ 357 =$$

❖ Aşağıdaki cümleleri okuyalım. Doğru olanlara "D", yanlış olanlara "Y" yazalım.

(...) Fosiller kısa sürede oluşur.

(...) Fosiller sayesinde milyonlarca yıl önce yaşamış canlılar hakkında bilgi ediniriz.

(...) Tüm canlılar öldükten sonra fosilleşir.

(...) Fosilleri inceleyen bilim dalına arkeoloji denir.

(...) Fosiller sadece geçmişte yaşamış hayvanlar hakkında bilgi verirler.

(...) Kayaçların farklı olmasının sebebi yapılarındaki minerallerdir.

(...) Ekonomik değeri olan kayaçlara maden denir.

(...) Altın, demir, gümüş birer fosil örneğidir.



❖ Aşağıdaki boşluklara uygun kelimeleri yazalım.

paleontolog

mermer

kayaçlarda

paleontoloji

civa

mineraller

fosil

madenler

buzullar

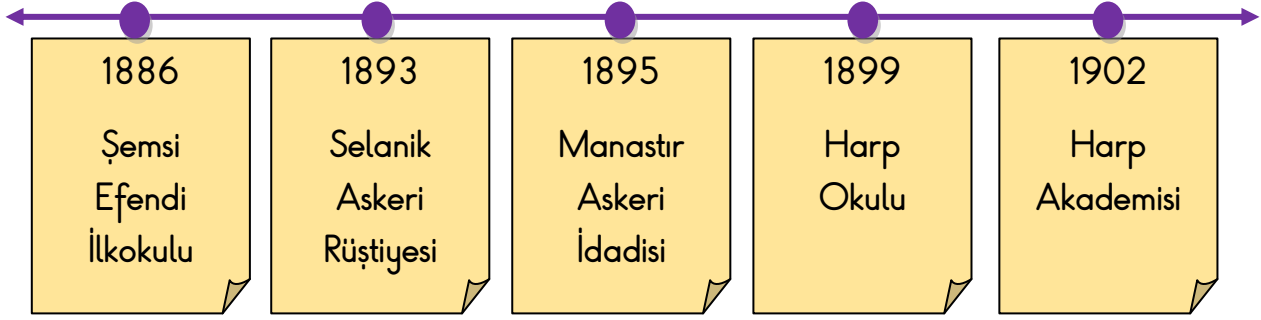
hava

dinozorlar

çakıl

- Kömür, petrol, doğal gaz gibi yakıtlara yakıtlar denir.
- Pamukkale Travertenleri'nin beyaz renkte olmasının sebebi sayesinde.
- Mutfak tezgahlarında, heykeltçilikte, mezar taşı yapımında kullanılır.
- Fosilleri inceleyen bilim dalına , fosillerle ilgili çalışma yapan bilim insanlarına da denir.
- Fosillere ağaç reçinelerinde, veya rastlanır.
- Termometrelerde kullanılan sıvı bir madendir.
- Kayaçlar parçalanarak; taş, , kum ve toprağı oluştururlar.
- Canlı kalıntılarının fosil oluşturabilmesi için ile temasının kesilmesi gerekir.
- Evimizde kullandığımız pek çok araç gerecin hammaddesi dir.
- Milyonlarca yıl önce yaşamış olan hakkında fosiller sayesinde pek çok bilgiye sahip olabiliyoruz.

❖ Aşağıda Atatürk'ün gittiği okulların kronolojik sırası verilmiştir. Buna göre soruları cevaplandırınız.



- 1) Atatürk en son hangi okula gitmiştir?
- 2) Atatürk Askeri Rüştiye'ye kaç yılında gitmiştir?
- 3) Atatürk Harp Okulundan önce hangi okula gitmiştir?
- 4) Atatürk kaç yılında okula başlamıştır?
- 5) Atatürk 1895 yılında hangi okula gitmiştir?

MİNİ TEST

1) Olayların oluş sırasına göre sıralanmasınadenir.

Yukarıda boş bırakılan yere aşağıdakilerden hangisi gelmelidir?

- A) Açıklama B) Kronoloji
C) Sıralama D) Anlatma

- 2) 1. 2014'te 4. sınıfa başladım.
2. 2009'da anaokuluna başladım.
3. 2005 yılında yürümeye başladım.
4. 2004 yılında doğdum.
5. 2011'de 1. sınıfa başladım.

Yukarıdaki olayların kronolojik olarak sıralaması hangisidir?

- A) 4 - 5 - 3 - 1 - 2
B) 5 - 2 - 1 - 3 - 4
C) 2 - 5 - 1 - 4 - 3
D) 4 - 3 - 2 - 5 - 1

3) Hacer'in hayatındaki olaylar kronolojik sıraya koyulduğunda, aşağıdakilerden hangisi en sonda yer alır?

- A) İlk karnesini alması
B) Ortaokula başlaması
C) 3. sınıfta başka bir şehre taşınmaları
D) 1. sınıfta okumayı öğrenmesi

4) Aşağıdakilerden hangisi kimlik belgesi değildir?

- A) Ehliyet B) Nüfus Cüzdanı
C) Günlüğümüz D) Pasaport

5) Kimliğimizde aşağıdaki bilgilerden hangisi yer almaz?

- A) Anne adımız B) Doğum tarihimiz
C) İmzamız D) Adresimiz