




Karekodu Okut
Çözümleri Gör
Kontrol Et



3 .SINIF



AKILLI ÖDEV/3

DOĞAL SAYI PROBLEMLERİ

1 Aşağıda Aden ve Ayperi'nin topladıkları fındık sayılarını görmektesiniz. Aden'in topladığı fındıkların sayı değeri toplamı ile Ayperi'nin topladığı fındıkların sayı değeri toplamı farkı kaçtır?



5 Basamaklarındaki bütün rakamlar aynı olan üç basamaklı sayının, sayı değerleri toplamı 18 ise bu sayının yüzler basamağındaki rakamın basamak değeri kaçtır?



2 4,2,7,5 rakamlarını birer kez kullanarak yazılabilecek üç basamaklı en büyük sayının onlar basamağındaki rakamın basamak değeri ile, yüzler basamağındaki rakamın sayı değeri toplamı kaçtır?



6 Aşağıda çözümlenmiş hali verilen sayılarda boşlukların yerine gelecek sayıların toplamı kaçtır?

$$572 = (5 \times 100) + (\square \times 10) + (2 \times \square)$$

$$2\square 8 = (2 \times 100) + (4 \times \square) + (\square \times 1)$$

3 Rakamları farklı üç basamaklı en büyük sayının sayı değerleri toplamının 4 katı kaçtır?



7 Hamza, arkadaşlarına aklından üç basamaklı bir sayı tuttuğunu ve tuttuğu sayı ile ilgili şu ipuçlarının verip sayıyı bulmalarını ister;

Yüzler basamağındaki rakam birler basamağındakinden 2 fazladır.

Onlar basamağındaki rakam diğer iki rakamın toplamının yarısıdır.

Birler basamağındaki rakam 3'tür.



4 321'den başlayarak ileriye doğru 10'ar ritmik saydığımızda söylediğimiz 5. sayı ile, 873'ten başlayarak geriye doğru 100'er ritmik saydığımızda söylediğimiz 5. sayının toplamı kaçtır?
(321 ve 873 ilk sayılar olacak şekilde başlayın)

8 Acil durumlarda aradığımız üç basamaklı telefon numaraları vardır. Aşağıda verilen araçların acil durum numaraları için, hepsinin onlar basamağındaki rakamın basamak değeri toplamı kaçtır?

