

C): CETVEL KULLANARAK UZUNLUK ÖLÇELİM:

- * Cetvelde her sayı arasındaki uzunluk 1 cm'dir.
- * Ölçüm yaparken sıfır noktasından başlarız.
- * Varlığın cetveldeki son noktası varlığın uzunluğunu verir.



ETKİNLİK 1

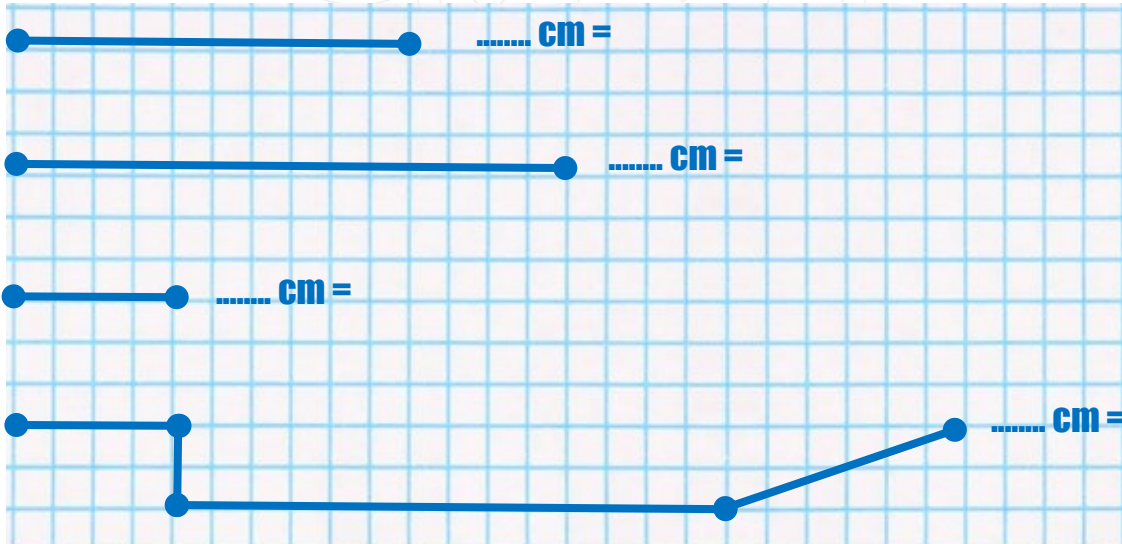
Aşağıda verilen uzunluklara göre cetvelle doğru parçaları çizelim.

- 8 cm =
- 6 cm =
- 10 cm
- 9 cm =
- 12 cm
- 5 cm =
- 5 cm =



ETKİNLİK 2

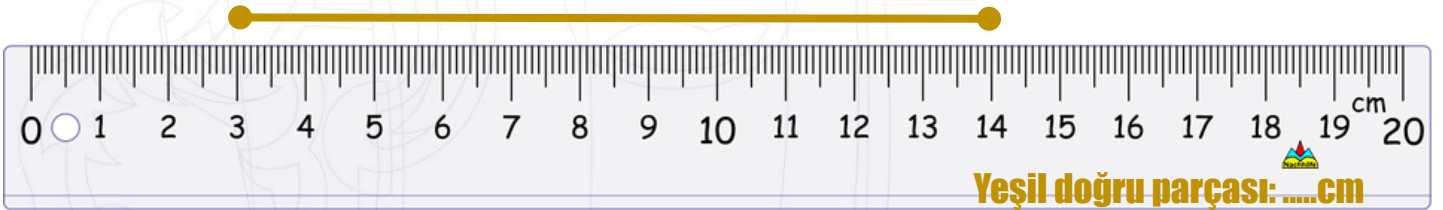
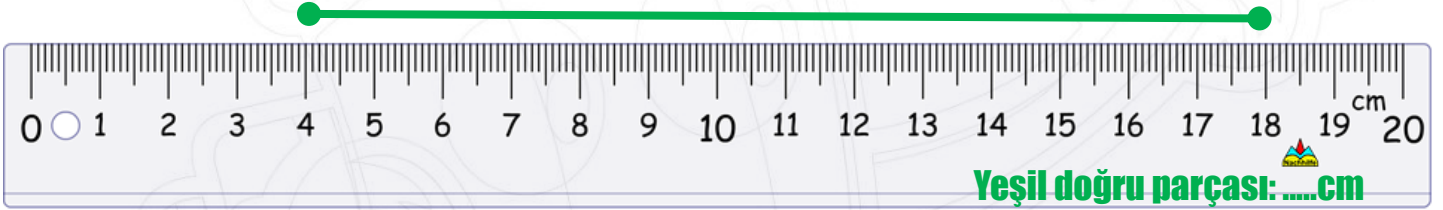
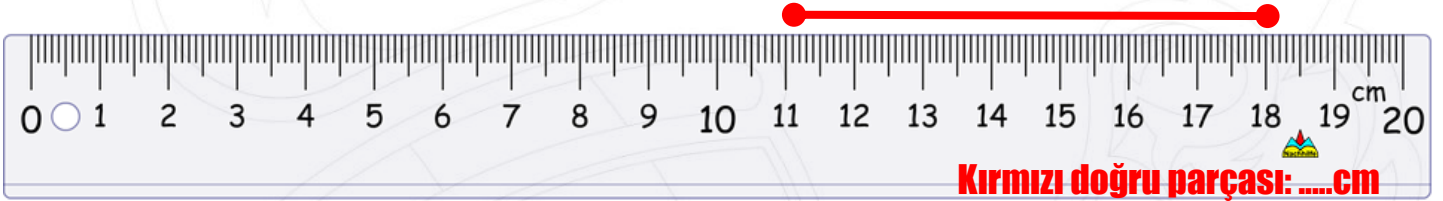
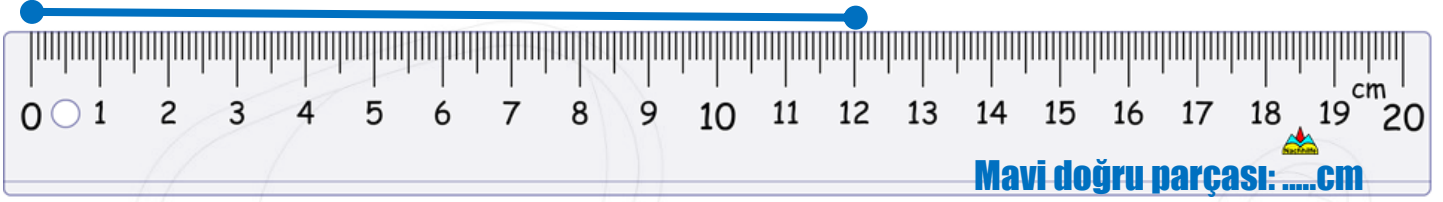
Aşağıda verilen doğru parçalarının uzunluklarını cetvelle ölçüp nokta yere uzunluğunu yazalım.





ETKİNLİK 3

Aşağıda cetvel üzerindeki doğru parçalarının kaç cm olduğunu bulalım.



ETKİNLİK 4

Aşağıda verilen cetveller üzerinde isten uzunlukta 2' şer tane örnekteki gibi farklı yerlerde doğru parçası çizelim

