


1) Aslan Apartmanı 18 katlı ve her katında 14 daire bulunan bir apartmandır. Her dairede ortalama 9 kişi yaşadığına göre bu apartmanda toplam kaç kişi yaşamaktadır?

CÖZÜM:




2) Rakamları farklı 3 basamaklı en küçük sayının 8 katının 2028 fazlası Ece'nin telefon şifresir. Buna göre Ece 'nin telefon şifresi nedir?

CÖZÜM:




3) Mehmet şuan 26 yaşındadır. Dedesinin yaşı ise Mehmet'in yaşının 5 katından 62 eksiktir. 4 yıl sonra Mehmet ve dedesinin yaşları çarpımı kaçtır?

CÖZÜM:




4) 43 odası bulunan bir otelin odalarından 22'si 4 kişilik, diğerleri 3 kişiliktir. Bu otel tam doluyken kaç kişi alır?

CÖZÜM:



5) Bir sinemada indirimli biletlerinin fiyatı 23 lira, tam biletlerinin fiyatı 41 liradır. Bu konser için elli beşer tane tam ve indirimli bilet satılmıştır. Buna göre, bu satıştan kaç lira gelir elde edilmiştir?

CÖZÜM:



6) İki basamaklı en küçük tek doğal sayı ile rakamları birbirinden farklı üç basamaklı en büyük çift doğal sayının çarpımının 1590 fazlası kaç eder?

ÇÖZÜM:




7) Emel ve arkadaşları Milli Ağaçlandırma Gününde dikilen toplam fidan sayısını bulmak istemiştir. Dikilen fidan sayısı şekildedir. 448 kişinin her biri 14'er tane ağaç dikmiştir. Buna göre toplam kaç adet ağaç dikilmiştir?

ÇÖZÜM:




8) Bir lokantanın mutfağında 5 dolap ve her dolabın içinde 6 raf vardır. Her rafta 7 tabak olduğuna göre, bu lokantanın mutfağında toplam kaç tabak vardır?

ÇÖZÜM:



9) 3 kilogram nardan 1 şişe nar suyu çıkmaktadır. Narın kilogramı 18 TL ise 20 şişe nar suyu için gerekli olan nar toplam kaç TL'dir?

ÇÖZÜM:



10) Onur öğretmen öğrencileri için kurşun kalemler almış ve kalemlerin 1 düzinesine 38 tl para vermiştir. Onur öğretmen 13 düzine kalem almış ve satıcıya 600 tl para uzatmıştır. Onur öğretmen ne kadar para üstü almıştır?

ÇÖZÜM:

