

1) Aşağıda verilen ifadelerden doğru olanlarına başına D yanlış olanların başına Y yazınız

- (...) Galileo Dünya'nın yuvarlak olduğunu teleskopla kanıtlayan ilk kişidir.
(...) Macellan, Dünya'nın yuvarlak olduğunu kanıtlayan ilk kişidir.
(...) Dünya'nın etrafını saran katman hava katmanıdır.
(...) Bütün canlılar yer kabuğu katmanında yaşar.
(...) Hava katmanının diğer adı atmosferdir.
(...) Burnumuzu burun içindeki kılları kopararak temizleyebiliriz.
(...) Yüksek sesli müzik dinlememeliyiz.
(...) Kulak denge organımızdır.
(...) Bir varlığın ileri geri sallanması dönme hareketidir.
(...) Viraja giren araç yön değiştirme hareketi yapar.
(...) Yarışa başlayan sporcu yavaşlama hareketi yapar.
(...) Topa uyguladığımız kuvvet çekme kuvvetidir.
(...) Kumanda düğmesine basmak için itme kuvveti uygularız.
(...) Hareket halindeki cisme hareket yönünün tersinde bir kuvvet uygularsak cisim yön değiştirebilir.
(...) Trafik kazalarında birbiriyle çarpışan araçların birbirlerine uyguladıkları kuvvet itme kuvvetidir.



2) Aşağıda verilen noktalı yerlere uygun ifadeleri getirelim.

Hareket

birlikte

Ağır

Su

Kuvvet

Yavaşlama

Yer kabuğu

Basık

Tehlikeye

sıkmalıyız.

- 1) Dünya'nın şekli üstlerden..... kenarlardan şiiktir.
2) Canlıların yaşadığı katmanın ismikatmanıdır.
3) Deniz ve nehirlerin bulunduğu kısımkatmanıdır.
4) Mantoya küre de derler.
5) Duyu organları.....çalışır.
6) Burun kanaması meydana geldiğinde burundaki deliklerin üzerini hafif şekilde
7) İstasyona yaklaşan tren.....hareketi yapar.
8) ve kuvvet birbiri ile ilişkilidir bu nedenle itme ve çekme kuvveti cisimlerin hareketini etkiler.
9) Duran cisimleri hareket ettiren hareket eden cisimleri durdurabilen; cisimlerin şekil, yön ve doğrultularını değiştiren etkiye.....denir.
10) Hareketli cisimler günlük yaşamımızda neden olabilir.



3) Aşağıda verilenler hangi katmanın özelliği ise karşısına yazalım.

En sıcak katmandır.

.....

Üzerinde canlıların yaşadığı katmandır.

.....

Bu katmanın diğer adı atmosferdir.

.....

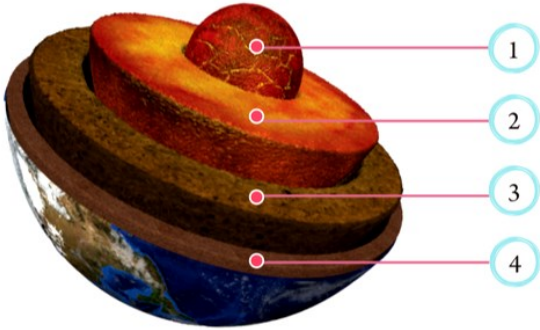
Dış çekirdek ile yer kabuğu arasında bulunan katmandır.

.....






Nehir ve göllerin bulunduğu katmandır.

.....

4) Aşağıda verilen görselde ok ile belirtilen yerlerin isimlerini yazalım.



5) Duyu organları birlikte çalışır, hangi duyu organı ile algılarız.

					
Kırmızı renkli acı biber.					
Kötü kokan sarı yumurta.					
Pürüzsüz kırık ayna.					
Çilli horozun sesi.					

6) Aşağıda verilen hareket türlerini uygun olanları ile eşleştirelim.

Bir varlığın kendi etrafında ya da başka bir varlığın etrafında dönmesi.

Hareket eden bir varlığın kuvvetin etkisi ile yönünü değiştirmesi.

Duran veya yavaş hareket eden varlığın hızını artırması.

Bir varlığın ileri geri sallanmasıdır.

Hareket eden bir varlığın hızını azaltmasıdır.

Hızlanma

Yön değiştirme

Dönme

Sallanma

Yavaşlama

7) Aşağıda verilen ifadelerin itme kuvveti mi çekme kuvveti mi olduğunu bulalım.

Hareketler	İtme	Çekme
Pedala basmak.		
Rüzgarın yelkenli gemiyi ve uçurtmayı hareket ettirmesi.		
Kuruyan otları yolmak		
Fermuarı çekmek		