


Ad Soyad:.....
Sınıfı:.....
Numarası:.....

1) 1 kilogram undan 5 adet ekmek yapılmaktadır. Bir fırın 50 kilogramlık 12 torba un almıştır. Bu fırın elindeki un ile toplam kaç adet ekmek yapar?

ÇÖZÜM:




2) Eda dakikada 6 adet elma toplamaktadır. Buna göre günlük 6 saat elma toplayan Eda 1 haftada toplam kaç adet elma toplar?

ÇÖZÜM:




3) Kantinci Şeymus her bir paketinde 8 gofret bulunan gofretlerden 13 paket gofret almıştır. Bu gofretlerden 22 tanesini satan Şeymus'un elinde toplam kaç tane gofret kalmıştır?

ÇÖZÜM:




4) Halil tanesi 345 tl olan polarlardan 4 tane; tanesi 548 tl olan pantolonlardan da 12 tane almış ve ihtiyaç sahibi insanlara dağıtmıştır. Halil aldıklarına toplam kaç tl para ödemiştir?

ÇÖZÜM:



5) Manav Zülker kilogramı 18 tl olan portakallardan 45 kilo; kilogramı 42 kilo olan muzlardan da 36 kilo aldıktan sonra elinde 435 tl parası kalmıştır. Buna göre Zülker'in elinde en başta toplam kaç tl parası vardı?

ÇÖZÜM:



6) Gökhan arkadaşına 445 tl borç vermiştir. Her haftada kumbarasına 412 tl para atmıştır. Gökhan'ın istediği bisiklet ise 4500 liradır. Buna göre 7 hafta sonra Gökhan istediği bisikleti alması için ne kadar daha paraya ihtiyaç duyar?

ÇÖZÜM:




7) Duru tanesi 15 tl olan defterlerden 22 tane; 1 paketi 112 tl olan a4 kağıtlarından 8 paket almıştır. Buna göre Duru kırtasiyeye toplam kaç tl para vermiştir?

ÇÖZÜM:




8) Yozgat-Ankara arasına hergün 23 kişilik 14 tane otobüs seferi düzenlenmektedir. Yozgat-Ankara seferlerinde 2 haftada toplam kaç yolcu taşınmıştır?

ÇÖZÜM:



9) Orkun'un aklında tuttuğu sayı 648 sayısının yuvarlandığı en yakın yüzlük; Elif'in aklında tuttuğu sayı ise 70 sayısına yuvarlanan en büyük sayıdır. Buna göre Orkun ve Elif'in aklında tuttıkları sayıların çarpımı kaçtır?

ÇÖZÜM:



10) Aşağıda verilen soruları çözelim.

ÇÖZÜM:

- 148 sayısının 44 katının 1456 eksiğinin 2024 fazlası kaçtır?
- 345 sayısının 32 katı ile 25 katının toplamı kaçtır?

