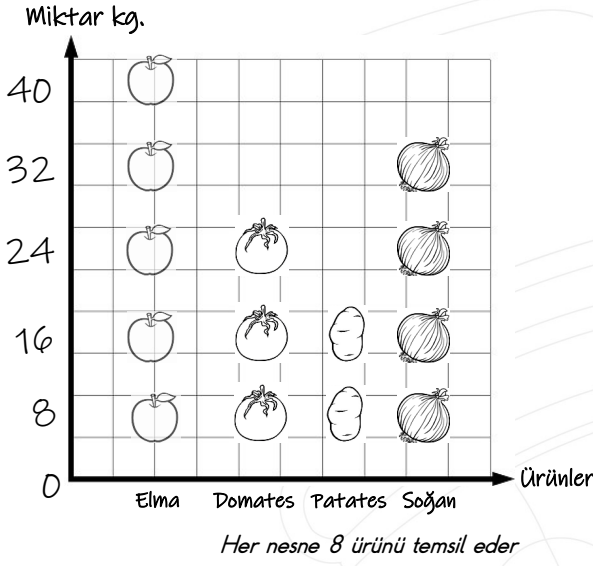


1) Aşağıda verilen grafik ile ilgili soruları cevaplandıralım.



1) Yanda verilen grafik ne grafiğidir?

A) Şekil grafiği B) Nesne grafiği

2) En çok ve en az satılan ürünler nedir?

3) Toplam kaç kilo elma satılmıştır?

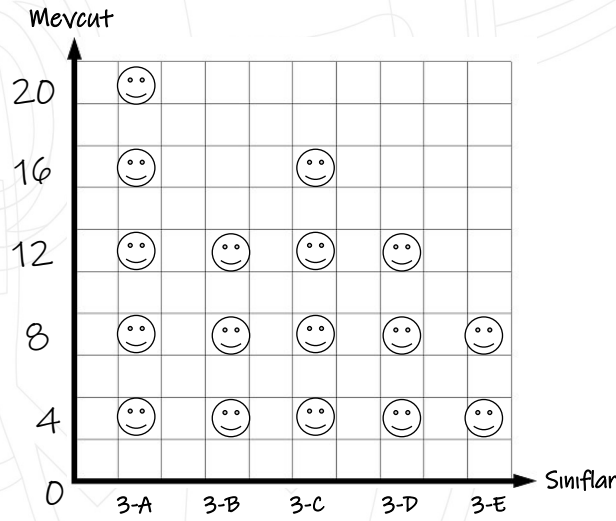
4) Satılan soğan miktarı patates miktarından kaç fazladır?

5) Toplam kaç kilo ürün satılmıştır?

6) Elma sayısını kaç azaltırsak domates ile sayıları eşit olur?

7) En fazla satılan ürün ile en az satılan ürün arasındaki fark kaçtır?

2) Aşağıda verilen grafik ile ilgili soruları cevaplandıralım.



Her şekil 4 öğrenciyi göstermektedir.

1) Yukarıda verilen grafik ne grafiğidir?

A) Şekil grafiği B) Nesne grafiği

2) Yukarıda verilen grafiği sıklık tablosu ve çetele tablosu olarak ifade ederiz?

Sıklık tablosu

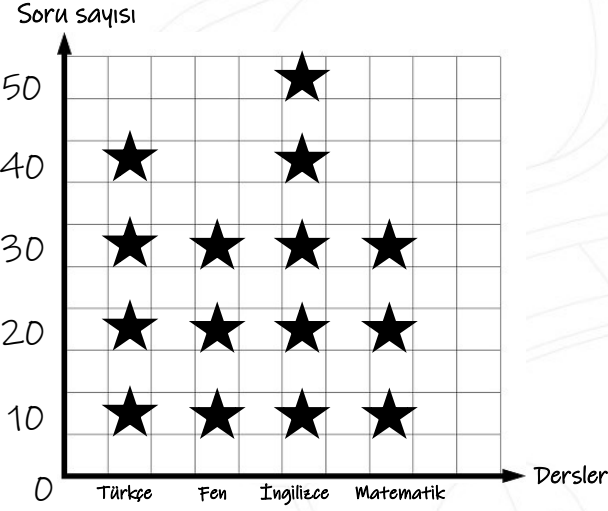
Sınıflar	Mevcut
3-A	
3-B	
3-C	
3-D	
3-E	

Çetele tablosu

Sınıflar	Mevcut
3-A	
3-B	
3-C	
3-D	
3-E	

3) Aşağıda verilen grafik ile ilgili soruları cevaplandıralım.

Aşağıda verilen grafikte Ümit'in haftaiçi verilen derslerde çözdüğü soru sayıları gösterilmiştir.



Her şekil 10 soruyu göstermektedir.

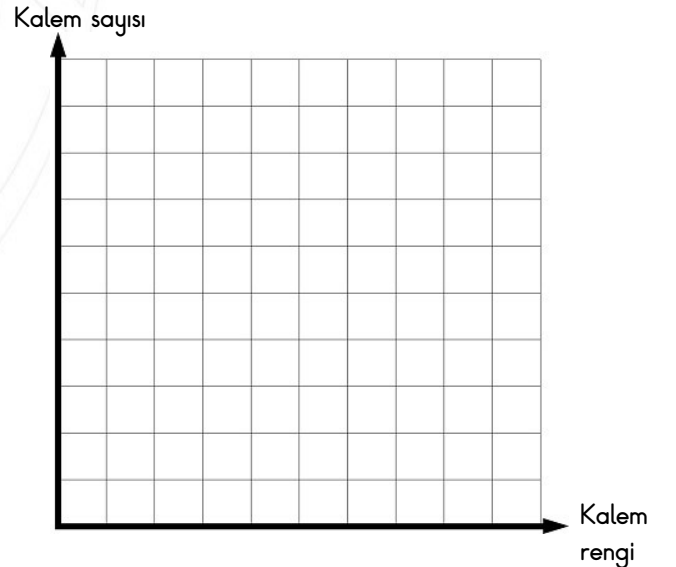
- En çok hangi dersten soru çözmüştür?
A) Türkçe B) İngilizce C) Matematik
- En az hangi derslerden soru çözmüştür?
A) Türkçe-Fen B) Fen-Matematik C) Türkçe-İngilizce
- Hangi derslerden eşit miktarda soru çözmüştür?
A) Türkçe-Fen B) Fen-Matematik C) Türkçe-İngilizce
- Tüm derslerden toplam kaç soru çözmüştür?
A) 50 B) 100 C) 150
- İngilizceden çözdüğü soru sayısı matematikten çözdüğü soru sayısından kaç fazladır?
A) 10 B) 20 C) 30
- Fenden çözdüğü soru sayısı, Türkçe'den çözdüğü soru sayısından kaç eksiktir?
A) 10 B) 20 C) 30

4) Aşağıda verilen çetele tablosu ilgili soruları cevaplandıralım.

Sümbül'ün tane kırmızı kalem, tane mavi kalem,tane de siyah kalem vardır. Kalemlerinin sayısını çetele tablosundan yararlanarak bulalım. Tablo ile ilgili soruları cevaplandıralım.

Kalem rengi	Kalemlerin sayısı
Kırmızı kalem	### H# IIII
Mavi kalem	### H# H# H# H# IIII
Siyah kalem	### H# /

- Sayısı en fazla olan kalem?
.....
- Sayısı en az olan kalem?
.....
- Siyah kalem sayısı ile mavi kalem sayısı farkı?
.....
- Kırmızı kalem siyah kalemden kaç fazladır?
.....
- Yukarıda verilen kalemlerin nesne grafiğini çizelim.



Her bir kalem 4 kalem ifade eder.