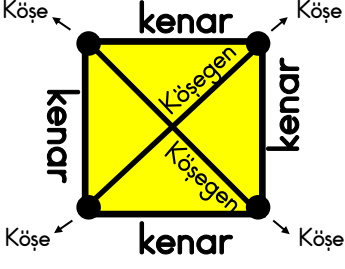
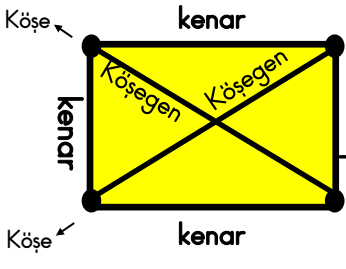
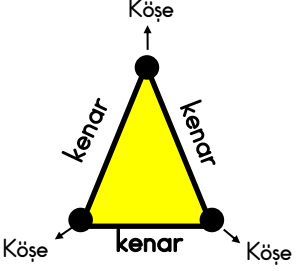




KARE		DİKDÖRTGEN	
	<ul style="list-style-type: none">* 4 kenar, 4 köşesi vardır.* Tüm kenar uzunlukları birbirine eşit-tir.* 2 köşegeni vardır.		<ul style="list-style-type: none">* 4 kenar, 4 köşe-si vardır.* İki uzun, iki kısa kenarı vardır.* Karşılıklı kenar uzunlukları birbirine eşittir.* 2 köşegeni vardır.
ÜÇGEN		DAİRE	ÇEMBER
	<ul style="list-style-type: none">* 3 kenar, 3 köşesi vardır.* Köşegeni yoktur.		
		<ul style="list-style-type: none">* Kenarı ve köşesi yoktur.	<ul style="list-style-type: none">* Kenarı ve köşesi yoktur.

ETKİNLİK 1

Aşağıda verilen ifadelerin doğru olanların başına D yanlış olanların başına Y yazınız

- (...) Karenin 4 kenarı ve 4 köşesi vardır.
- (...) Üçgenin köşegeni yoktur.
- (...) Her üçgenin bütün kenar uzunlukları her zaman eşittir.
- (...) Daire ve çemberin kenarı ve köşesi yoktur.
- (...) Kare ve dikdörtgenin köşegen sayıları eşittir.
- (...) Daireyi çemberden ayıran özelliği kenar sayılarıdır.
- (...) Karenin karşılıklı kenar uzunlukları aynıdır.
- (...) Dairenin içi doludur.
- (...) Dikdörtgenin 4 kenarı ve 4 köşesi vardır.
- (...) Üçgenin 3 köşesi 4 kenarı vardır.
- (...) Dikdörtgenin bütün kenar uzunlukları birbirinden farklıdır.
- (...) Daire ve çemberin köşesi yoktur.

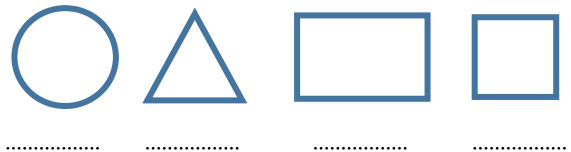
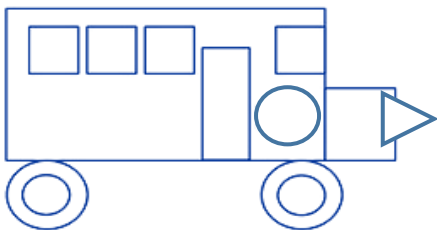
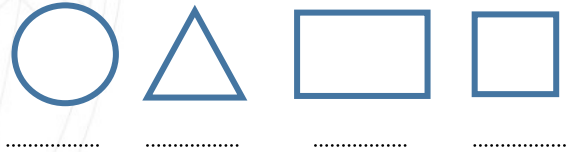
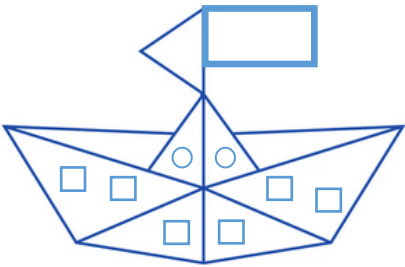
ETKİNLİK 2

Aşağıda verilen geometrik şekillerin isimlerini, kenar ve köşe sayılarını yazalım.

Geometrik şekiller	İsmi	Kenar sayısı	Köşe sayısı	Köşegen (var-yok)
				
				
				
				
				

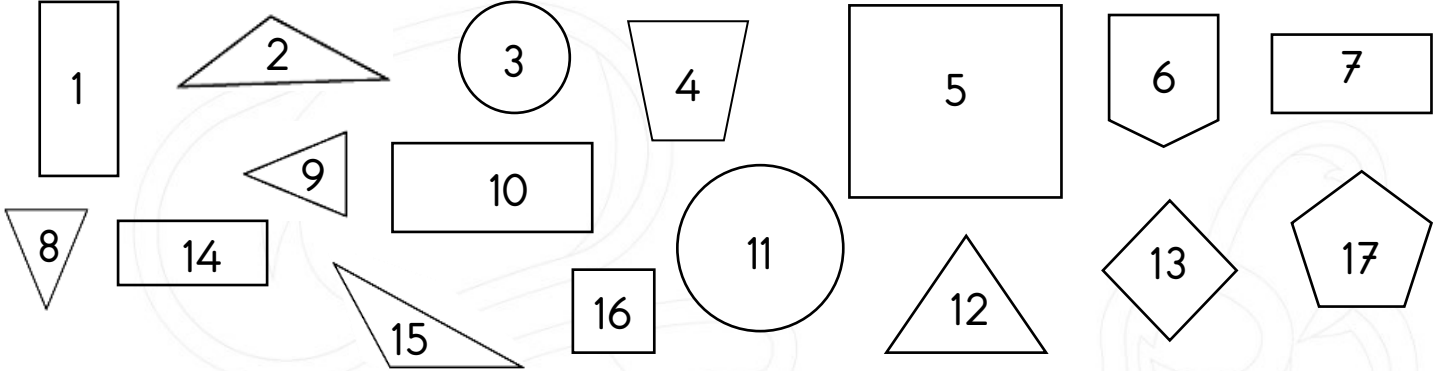
ETKİNLİK 3

Verilen görsellerdeki geometrik şekillerin kaç tane olduğunu noktalı yerlere yazınız. Daha sonra da verilen görselleri boyayınız.



ETKİNLİK 4

Aşağıda verilen şekillerin özelliklerini dikkate alarak aşağıda verilen soruları cevaplandıralım.



1) 3 Kenarı olan geometrik şekiller hangileridir?

.....

2) Kare olan geometrik şekiller hangileridir?

.....

3) Dikdörtgen olan geometrik şekiller hangileridir?

.....

4) Kenarı ve köşesi olmayan şekiller hangileridir?

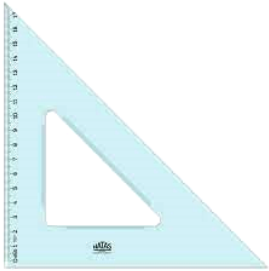
.....

5) Köşegeni olan geometrik şekiller hangileridir?

.....

ETKİNLİK 5

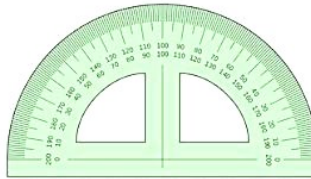
Geometrik şekilleri çizmek için kullandığımız aşağıda verilen araçların isimlerini altlarına yazalım.



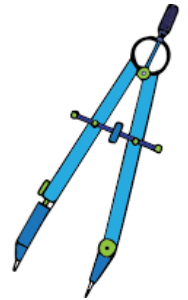
.....



.....



.....



.....




Aşağıda verilen yönergelere uygun olan geometrik şekilleri cetvel kullanarak çizelim.


1) Bir kenarının uzunluğu 5 santimetre olan kare çizelim.




2) Üç kenarının uzunluğu da 4 cm olan üçgen çizelim.



3) Kısa kenarı 2 cm, uzun kenarı 4 cm olan dikdörtgen çizip köşegenlerini çizelim.




4) Uzun kenarı kısa kenarının 3 katı olan dikdörtgen çizelim.




5) Uzun kenarı 4, kısa kenarı 3 santimetre olan dikdörtgen çizelim.



6) Bir kenar uzunluğu 4 cm olan kare çizip köşegenlerini çizelim.



7) Kenar uzunlukları 3, 4 ve 5 santimetre olan bir üçgen çizelim.



8) Kenar uzunlukları 1 cm olan bir beşgen çizelim.

