



Ad Soyad:.....
Sınıfı:.....
Numarası:.....




- * 1 gün 24 saattir.
- * Saatler 1 den 24 e kadardır.
- * 24.saat 00.00 olarak ifade edilir.
- * 1 den 12.saate kadar öğleden önce; 13 den 24 'e kadar öğleden sonra olarak ifade edilir.
- * Analog saatte öğleden önceki saati, öğleden sonraya çevirmek için öğleden önceki saate 12 ekleriz.
- * Öğleden önce **08.20** $\xrightarrow{\text{Saate 12 ekle}}$ öğleden sonra **20.20** oldu
 $08+12=20$

Aşağıda verilen analog saatleri öğleden önce ve öğleden sonra olarak yazalım.


Öğleden önce: Öğleden sonra:	Öğleden önce: Öğleden sonra:	Öğleden önce: Öğleden sonra:
Öğleden önce: Öğleden sonra:	Öğleden önce: Öğleden sonra:	Öğleden önce: Öğleden sonra:
Öğleden önce: Öğleden sonra:	Öğleden önce: Öğleden sonra:	Öğleden önce: Öğleden sonra:




Öğleden önce:
Öğleden sonra:




Öğleden önce:
Öğleden sonra:




Öğleden önce:
Öğleden sonra:




Öğleden önce:
Öğleden sonra:



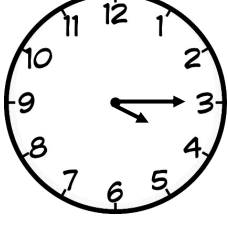
Öğleden önce:
Öğleden sonra:




Öğleden önce:
Öğleden sonra:




Öğleden önce:
Öğleden sonra:




Öğleden önce:
Öğleden sonra:




Öğleden önce:
Öğleden sonra:



Öğleden önce:
Öğleden sonra:



Öğleden önce:
Öğleden sonra:



Öğleden önce:
Öğleden sonra:

Aşağıda verilen analog saatleri öğleden önce kaç gösterdiğini yazalım.

Saat: 01.00	Saat:	Saat:	Saat:

Saat:	Saat:	Saat:	Saat:

Saat:	Saat:	Saat:	Saat:

Saat:	Saat:	Saat:	Saat:

Aşağıda verilen analog saatleri öğleden sonra kaç gösterdiğini yazalım.

Saat: 21.00	Saat:	Saat:	Saat:

Saat:	Saat:	Saat:	Saat:

Saat:	Saat:	Saat:	Saat:

Saat:	Saat:	Saat:	Saat: