

İSİM:

.....  
.....

## GENEL DEĞERLENDİRME



@fundateacher

1- Cümleleri tamamlayalım.

- Alfabemizde ..... harf vardır.
- "a,e,ı,i,o,ö,u,ü" harflerine ..... harfler deriz.

2- Kelimeleri hecelerine ayıralım.

Kelime	Hecelere ayrılışı
oyuncakçı	
kurtlar	
baharatlık	

3- Kelimelerin eş anlamlılarını yazalım



.....

.....



.....

.....



.....

4- Cümlelerde verilen boşluklara uygun noktalama işaretlerini yazalım.

- ♥ Begüm( )ün kalemını kim kırdı( )
- ♥ Bahçemizdeki elma( ) armut( ) kiraz ve vişne ağaçları bu yıl çok meyve verdi.
- ♥ Kedimiz evde yalnız kaldığında çok sıkı( ) lıyordu.

5- Verilen kelimelerin zıt(karşıt) anlamlılarını kullanarak birer cümle yazalım.

Soğuk

.....  
.....

Kalın

.....  
.....

Kötülük

.....  
.....

6- Karışık olarak verilen kelimelerden anlamlı ve kurallı cümleler yapalım.

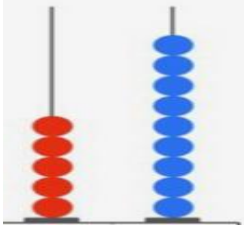
geç/ okula / kalmamak/ koştum/ için

.....

havalarda/ bere/ takarım/ soğuk/ mutlaka

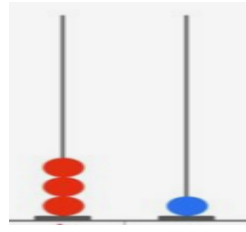
.....

7- Sayı boncuklarıyla gösterilen doğal sayıları bulalım ve okunuşlarını yazalım.



Sayı  
.....

Okunuşu  
.....






Sayı  
.....

Okunuşu  
.....



8- Varlıkların kaç tane olduğunu ritmik sayma ile bulup yazalım.



9- Karışık olarak verilen işlemleri yapalım.

$$\begin{array}{r} 23 \\ + 17 \\ \hline \square \end{array}$$

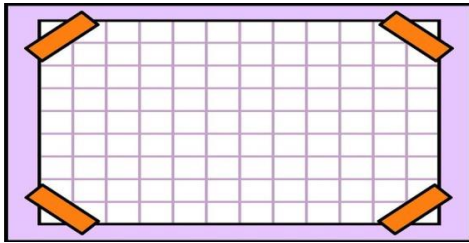
$$\begin{array}{r} 46 \\ + 22 \\ \hline \square \end{array}$$

$$\begin{array}{r} 62 \\ - 39 \\ \hline \square \end{array}$$

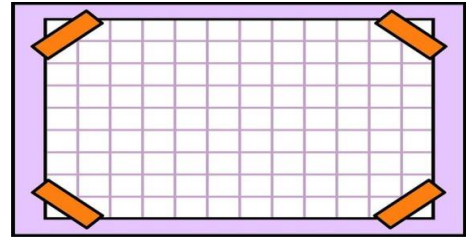
$$\begin{array}{r} 55 \\ - 21 \\ \hline \square \end{array}$$

$$30 + 56 = \square$$

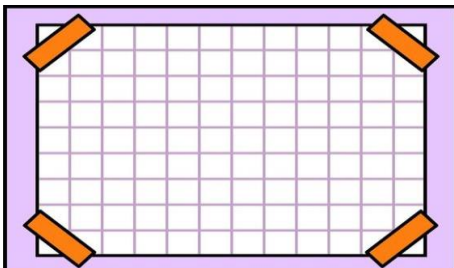
10- Kolideki yumurta sayısı 40 sayısına yuvarlanabilen en büyük sayı kadardır. Bu yumurtaların bir düzine eksiği kaç yumurtadır?



11- 67 sayısı ile 25 sayısının onlar basamağındaki rakamların basamak değerleri toplamı kaçtır?



12- Bir çıkarma işleminde çıkan sayı 25, fark 13 ise eksilen sayı kaçtır?



13- Ben 12 yaşındayım. Ablam ise benden 7 yaş büyüktür. İkimizin yaşları toplamı kaçtır?



14- Verilen örüntüdeki boşluğa gelmesi gereken geometrik şekli çizelim.



15- Verilen iki sayıyı aralarına "küçüktür-büyüktür-eşittir" ifadelerinden uygun olanı yazarak karşılaştıralım.

72 ..... 35                      12 ..... 12                      65 ..... 66

16- Aşağıdaki kurallardan sınıf kuralı olanların başına S, okul kuralı olanların başına O yazalım.

- ( ) Koridorlarda dikkatli adımlarla yürürüz.                      ( ) Söz almak için parmak kaldırırız.  
( ) Beslenmemizi oturarak yeriz.                      ( ) Okul bahçesini temiz kullanırız.

17- Boşluklara uygun akrabalık isimlerini yazalım.

Babamızın kız kardeşine ..... deriz. Annemizin erkek kardeşine ..... deriz.  
Annemizin kız kardeşine ..... deriz. Babamızın annesine ..... deriz.

18- Verilen kelimeleri uygun boşluklara yazarak cümleleri tamamlayalım.

sorumluluk- tasarrufu- ihtiyaçlarımızı- şeref - adres

- Temel..... karşılamadan isteklerimizi almamalıyız.
- Grup çalışması bize ..... kazandırır.
- ..... Köşesinde Türk Bayrağı mutlaka bulunmalıdır.
- Tanımadığımız kimselerle ..... bilgilerimizi paylaşmamalıyız.
- Su ..... yapmak için dişlerimizi fırçalarken mutlaka musluğu kapatalım.

19- Soruları yanıtlayalım. (Yanıtlarımızın cümle biçiminde olmasına dikkat edelim.)

- 29 Ekim tarihinde hangi bayramı kutlarız? .....
- Mustafa Kemal Atatürk nerede doğmuştur? .....
- Okulumuzda çalışanlara iki örnek verelim.  
.....
- Evdeki sorumluluklarımıza iki örnek verelim.  
.....  
.....
- Okul çantamızı neye bakarak hazırlamalıyız? .....
- İstiklâl Marşı'nın şairi kimdir? .....
- Bayrağımızda hangi renkler vardır? .....



## DEĞERLENDİRME SONUÇ TABLOSU

Sevgili Öğrencim,

Aşağıdaki tabloda doğru cevapladığın sorulara işaret koyarak eksik olduğun ya da unuttuğun konuları görebilirsin. Eksik olduğun konularla ilgili tekrar çalışması yapmanı tavsiye ederim. Bu çizelgeyi ailenle inceledikten sonra ürün dosyanda saklayabilirsin.

Soru	Konu Başlığı	
1	Harf Bilgisi	
2	Hece Bilgisi	
3	Eş Anlamlı Kelimeler	
4	Noktalama İşaretleri	
5	Zıt Anlamlı Kelimeler + İmla Kuralları	
6	Cümle Bilgisi	
7	Doğal Sayılar ve Okunuşları	
8	Ritmik Sayma	
9	Toplama ve Çıkarma	
	Eldesiz Toplama	
	Eldeli Toplama	
	Onluk Bozmadan Çıkarma	
	Onluk Bozarak Çıkarma	
	Yan yana işlem yapabilme	
10	Yuvarlama	
	Deste Düzine Bilgisi	
11	Basamak Değeri	
	Eldeli Toplama	
12	Çıkarma Terimleri ve verilmeyeni bulma	
13	İki işlemli Problem Çözme	
14	Örüntü	
15	Sayıları Karşılaştırma	
16	Okul ve Sınıf Kuralları	
17	Akrabalık İlişkileri	
18	İhtiyaç ve istekler	
	Grup çalışmalarının faydaları	
	Şeref Köşesi	
	Güvenlik	
	Evde ve okulda kaynakların tasarruflu kullanımı	
19	Milli Bayramlarımız	
	Atatürk'ün Hayatı	
	Okul çalışanları	
	Evdeki Sorumluluklarımız	
	Planlı Davranma	
	İstiklâl Marşı Bilgisi	
	Bayrak Bilgisi	