



ÜCRETSİZ

TÜRKİYE GENELİ ÖDÜLLÜ

# ONLINE DENEME SINAVI

2, 3, 4.  
SINIF

KAYIT  
OL!

BAŞLANGIÇ TARİHİ:

25.10.2021

PAZARTESİ 10.00

BITİŞ TARİHİ:

31.10.2021

PAZAR 22.00

ÖDÜL:


TABLET



[www.ilkokulluyum.com](http://www.ilkokulluyum.com)



## DÖRT KELEBEK



Dört kelebek bir ateş görmüşler. Bunun nasıl bir şey olduğunu öğrenmek istemişler. Birinci kelebek ateşe biraz yaklaşmış ve üzerinin aydınlandığını görmüş. Arkadaşlarının yanına gelmiş ve:

-Bu ateş aydınlatıcı bir şey! Demiş.

İkinci kelebek bununla yetinmeyerek daha fazla şey öğrenmek istemiş. Biraz daha yaklaşmış ve ısındığını hissetmiş... Demiş ki:

-Aynı zamanda bu ateş ısıtıcı bir şey.

Üçüncü kelebek bununla da yetinmemiş, Biraz daha biraz daha yaklaşmış. Bir anda ateşin kanatlarını yaladığını hissetmiş ve yanmış kanatlarıyla geri dönmüş.

Şöyle demiş:

-Ve bu ateş yakıcı bir şey.

Sonuncu kelebek daha da çok şey öğrenmek istiyormuş. Biraz yaklaşmış, aydınlandığını görmüş. Biraz yaklaşmış, ısındığını hissetmiş. Biraz daha yaklaşmış, ateş kanatlarını kavurmuş. Ve biraz daha yaklaştıktan sonra tamamen yanan kelebek "poff!" diye ortadan kayboluvermiş... Ateşin gerçekten ne olduğunu belki bir tek o öğrenmiş ama geri dönüp söyleyememiş... Çünkü o, ateş içinde kaybolmuş ve bir şeyi, ancak içinde kaybolan bilebilirmiş.

❖ *Aşağıdaki soruları metne göre cevaplayalım.*

1. Ateşin yanından dönen birinci kelebek, arkadaşlarına ne demiş?

.....

2. Metne göre bir şeyi en iyi kim bilebilirmiş?

.....

3. Üçüncü kelebek ne yapmış?

.....

4. İkinci kelebeğe göre ateş nasıl bir şeymiş?

.....

❖ *Aşağıdaki kelimelerin eş anlamlılarını karşısına yazalım.*

doğa

.....

noksan

.....

yargıç

.....

ileti

.....

❖ Aşağıda karışık olarak verilen kelimelerden anlamlı ve kurallı cümleler oluşturalım.

bahçesinde - dün - ip - arkadaşına - atlayan - çarptı - okul

.....

getirdiği - kırmızı - pazardan - meyveleri - annemin - yıkamadan - yemişim - poşetteki

.....

izlediğim - televizyonda - için - zararlı - çocuklar - dizide - var - içerikler

.....

ödevlerimi - dün - geldiği - misafir - unuttum - yapmayı - için

.....

❖ Aşağıda açıklamaları verilen özel adlarla örnek cümleleri eşleştirin.

Kurum ve kuruluş adları  
özel adlardır.

1

Tatilde Almanya'dan  
dayımlar geldi

Ülke, şehir, mahalle adları  
özel adlardır.

2

Sınava Fevzi Çakmak  
Ortaokulunda gireceğim

Deniz, dağ, nehir adları  
özel adlardır.

3


Ramazan Bayramında  
dedemlere gideceğiz.


Dini ve milli bayram adları  
özel adlardır.


4


Kayakçı olup Uludağ'da  
kaymak isterdim.


❖ Aşağıdaki zihinden toplama işlemlerini örnekteki gibi yapalım.


  $36 + 53 = ?$   
 $30 + 50 = 80$   
 $6 + 3 = 9$   
 $80 + 9 = 89$


  $57 + 34 = ?$   
 $..... + ..... = .....$   
 $..... + ..... = .....$   
 $..... + ..... = .....$


  $62 + 27 = ?$   
 $..... + ..... = .....$   
 $..... + ..... = .....$   
 $..... + ..... = .....$

  $39 - 61 = ?$   
 $..... + ..... = .....$   
 $..... + ..... = .....$   
 $..... + ..... = .....$

  $75 + 22 = ?$   
 $..... + ..... = .....$   
 $..... + ..... = .....$   
 $..... + ..... = .....$


  $54 + 23 = ?$   
 $..... + ..... = .....$   
 $..... + ..... = .....$   
 $..... + ..... = .....$


  $17 + 63 = ?$   
 $..... + ..... = .....$   
 $..... + ..... = .....$   
 $..... + ..... = .....$


  $45 + 25 = ?$   
 $..... + ..... = .....$   
 $..... + ..... = .....$   
 $..... + ..... = .....$


❖ Aşağıdaki zihinden toplama işlemlerini örnekteki gibi yapalım.


  $300 \rightarrow$  Üç yüz  
 $60 \rightarrow$  Altmış  
 $+$   
 $360$   
 $?$


  $200 \rightarrow$  .....  
 $70 \rightarrow$  .....  
 $+$   
 $?$


  $400 \rightarrow$  .....  
 $30 \rightarrow$  .....  
 $+$   
 $?$

  $700 \rightarrow$  .....  
 $40 \rightarrow$  .....  
 $+$   
 $?$

  $500 \rightarrow$  .....  
 $70 \rightarrow$  .....  
 $+$   
 $?$

  $800 \rightarrow$  .....  
 $50 \rightarrow$  .....  
 $+$   
 $?$

  $900 \rightarrow$  .....  
 $60 \rightarrow$  .....  
 $+$   
 $?$

  $300 \rightarrow$  .....  
 $90 \rightarrow$  .....  
 $+$   
 $?$

❖ Aşağıdaki toplama işlemlerinde verilmeyen toplananları örnekteki gibi bulalım.

$$\begin{array}{r} 446 \\ + 429 \\ \hline 875 \end{array}$$

$$\begin{array}{r} 365 \\ + \square \\ \hline 746 \end{array}$$

$$\begin{array}{r} 512 \\ + \square \\ \hline 771 \end{array}$$

$$\begin{array}{r} \square \\ + 247 \\ \hline 633 \end{array}$$

$$\begin{array}{r} \square \\ + 328 \\ \hline 744 \end{array}$$

$$\begin{array}{r} \square \\ + 426 \\ \hline 785 \end{array}$$

$$\begin{array}{r} 321 \\ + \square \\ \hline 700 \end{array}$$

$$\begin{array}{r} \square \\ + 222 \\ \hline 540 \end{array}$$

$$\begin{array}{r} 203 \\ + \square \\ \hline 961 \end{array}$$

❖ Aşağıdaki toplama işlemlerinde verilmeyen rakamları bulalım.

$$\begin{array}{r} 375 \\ + 4 \bullet 6 \\ \hline 81 \star \end{array}$$

$$\begin{array}{r} 2 \bullet 6 \\ + \star 45 \\ \hline 631 \end{array}$$

$$\begin{array}{r} \bullet 83 \\ + 4 \star 6 \\ \hline 709 \end{array}$$

$$\begin{array}{r} 36 \bullet \\ + 278 \\ \hline 6 \star 7 \end{array}$$

$$\begin{array}{r} 454 \\ + 5 \star 6 \\ \hline 97 \bullet \end{array}$$

$$\begin{array}{r} 5 \star 4 \\ + 336 \\ \hline \bullet 60 \end{array}$$

$$\begin{array}{r} \bullet 24 \\ + 227 \\ \hline 85 \star \end{array}$$

$$\begin{array}{r} 6 \star 3 \\ + \bullet 37 \\ \hline 970 \end{array}$$

$$\begin{array}{r} 278 \\ + \star 45 \\ \hline 8 \bullet 3 \end{array}$$

❖ Aşağıdaki görsellerde uygulanan kuvveti örnekteki gibi altına yazalım.



İtme kuvveti



.....



.....



.....



.....



.....



.....



.....

❖ Aşağıdaki bilgilerden doğru olanlara ( D ), yanlış olanlara ( Y ) yazalım.

- ( ... ) Açık bir çekmeceyi kapatmak için uyguladığımız kuvvet çekme kuvvetidir.
- ( ... ) El arabasıyla eşya taşırken itme kuvveti uygularız.
- ( ... ) Annem saçlarımı tararken çekme kuvveti uyguluyor.
- ( ... ) Yolda kalan arabayı tamirciye götürmek için hem itme hem de çekme kuvveti uygulayabiliriz.
- ( ... ) Salıncaktaki kardeşimi sallarken çekme kuvveti uygulayırım.
- ( ... ) Yeteri kadar kuvvet uygulayarak tüm cisimler hareket ettirilir.
- ( ... ) Varlıkları hareket ettirmek için sadece çekme kuvveti uygulayırım.

❖ Aşağıdaki boşlukları uygun kelimelerle dolduralım.



- Cisimleri hareket ettirmek için ..... uygularız.
- Açık unutulmuş pencereyi kapatırken ..... kuvveti uygularız.
- Cisimlere uygulanan kuvvet itme ve çekme kuvveti olarak ..... ayrılır.
- Tarladaki yabancı otları yolarken ..... kuvveti uygularız.

❖ Görsellerdeki mesleklerin adlarını altlarına yazalım.



.....



.....



.....



.....



.....



.....



.....



.....

❖ Aşağıda verilen davranışlardan doğru olanlara ( D ), yanlış olanlara ( Y ) koyalım.

( .... ) Bazı mesleklerin kendisine özel kıyafetleri vardır.

( .... ) Asker, polis gibi meslekler bizim güvenliğimiz sağlar.

( .... ) Meslekler günlük hayatımızı kolaylaştırmak için vardır.

( .... ) Kıyafetlerimiz söküldüğü zaman mühendislerden yardım alırız.

( .... ) Olayları ve nedenlerini araştıran meslek gazeteciliktir.

( .... ) Yangınlara müdahale edip insanların canını ve malını kurtarmak için itfaiyeci olmalıyım.

( .... ) Meslek seçiminde ilgi ve yeteneklerimizden çok ailemizin isteği önemlidir.

( .... ) Saç tasarımı yapmaya bayılıyorum büyüyünce kuaför olmalıyım.

( .... ) Sağlık çalışanlarından ilk akla gelenler doktorlar ve hemşirelerdir.

( .... ) Çocukların eğitim ihtiyacını karşılamak için imam olmayı düşünüyorum.

( .... ) Hayvanları çok sevdiğim için marangoz olmalıyım.

( .... ) Annem çok güzel yemek yapar. Aşçı olsa şaşırırmam.

