



1



Aylin yukarıdaki mesajı annesine atarken noktalama işaretlerini unutmuştur. Buna göre Aylin'in unuttuğu noktalama işaretleri hangileridir?

- A. Virgül - nokta
- B. Virgül - soru işareti
- C. Ünlem - virgül

2

Sözlükten 'rende' kelimesinin anlamına bakacağım.



Nazlı, rende kelimesini bulmak için hangi harflerin arasına bakmalıdır?

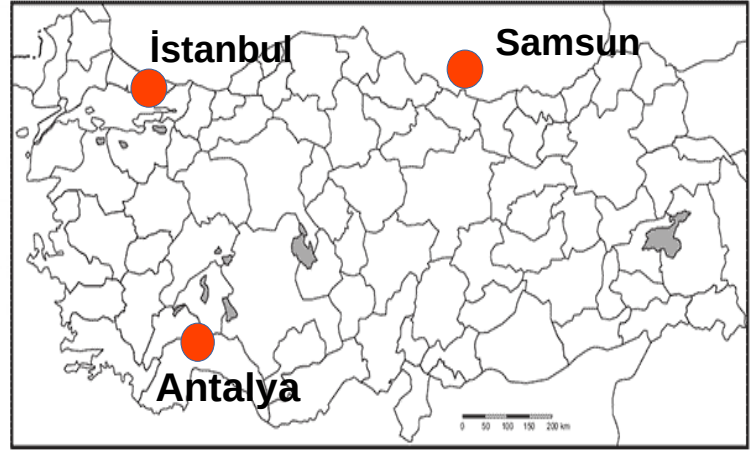
- A. p ve s arasındaki harfe bakmalıdır.
- B. o ve ö arasındaki harfe bakmalıdır.
- C. s ve ş arasındaki harfe bakmalıdır.

3

Aşağıdaki cümlelerin hangisinde zıt anlamlı kelimeler bir arada kullanılmıştır?

- A. Sağlığına çok dikkat et.
- B. Hakkımda ileri geri konuşmayınız.
- C. Abimin armağanları çok güzeldi.

4



Ünsüz harfin daha fazla olduğu şehirde oturuyorum.

Buna göre Eymen, haritada gösterilen yerlerden hangisinde oturmaktadır?

- A. İstanbul
- B. Samsun
- C. Antalya

5




Bir çelenk ol da seni
Başımızda göreyim.
Yaşasın cumhuriyet
Diye çarpsın yüreğim.

Ahmet ve Ayla'nın okuduğu şiirin 4. dizesinde bulunan son kelimesinin eş anlamlısı hangisidir?

- A. Kafa
- B. Mide
- C. Kalp



1



Yandaki şekilde kalemin gösterdiği yer neresidir?

- A. Kenarı
- B. Köşesi
- C. Ortası

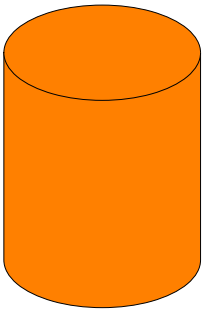
2



Yandaki şekilde kaç tane dikdörtgen vardır?

- A. 2
- B. 3
- C. 4


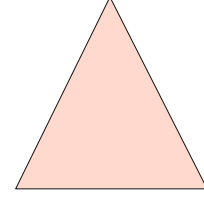
3



Yandaki geometrik cismi kullanarak aşağıdakilerden hangisini çizebiliriz?

- A. Kare
- B. Üçgen
- C. Çember

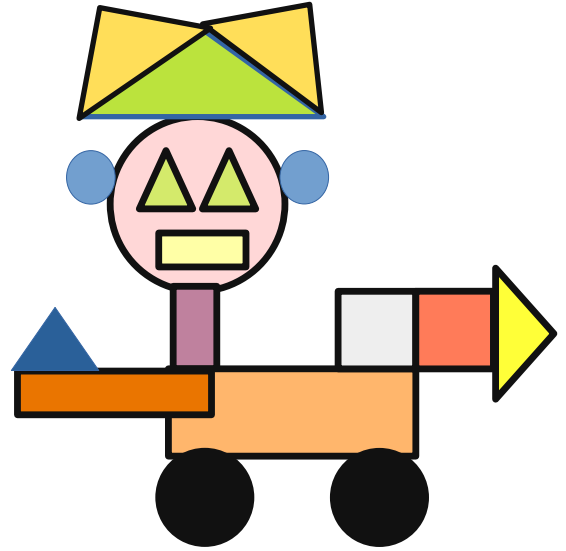
4



Yukarıdaki geometrik şekillerin köşe sayıları toplamı kaçtır?

- A. 8
- B. 7
- C. 9

5



Yukarıdaki yapıda kaç tane üçgen kullanılmıştır?

- A. 7
- B. 6
- C. 8



1

Vedat

Ömer

Meryem



Yukarıdaki çocuklardan hangisi ya da hangileri sağlıklı şekilde beslenmektedir?

- A. Ömer
- B. Vedat ve Meryem
- C. Vedat ve Ömer

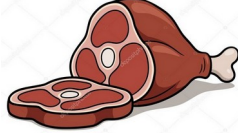
2

Sağlıklı beslenen biri aşağıdakilerden hangisini tüketmez?

A.



B.



C.



3

Aşağıdaki davranışlardan hangisi yanlıştır?

- A. Tabağımıza yeteri kadar yiyecek almalıyız.
- B. Yemek yerken konuşmak sağlığımıza faydalıdır.
- C. Yemekten önce ve sonra ellerimizi yıkamalıyız.

4



Osman yemek yerken aşağıdaki davranışlardan hangisini yapmamalıdır?

- A. Yemek yerken konuşmamalıdır.
- B. Yemeğinin büyük lokmalar şeklinde hızlı hızlı yemelidir.
- C. Ağzını şapırdatmamalıdır.

5

Akın, doğru bilginin verildiği kurbağayı boyar mısın?



Öğretmenin isteğine göre Akın hangi kurbağayı boyamalıdır?

A.



Yemeğimizi ayakta ve yavaş yemeliyiz.

B.



Sağlık için cips, hamburger tüketmeliyiz.

C.



Tabağımıza yiyeceğimiz kadar yemek almalıyız.