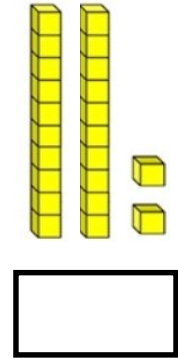
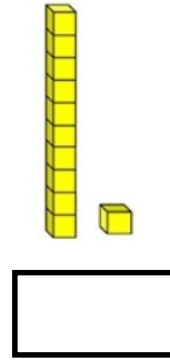
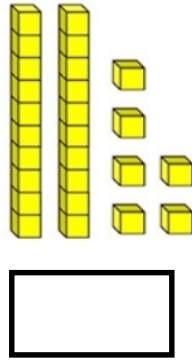
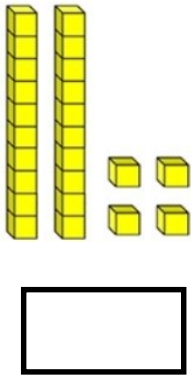
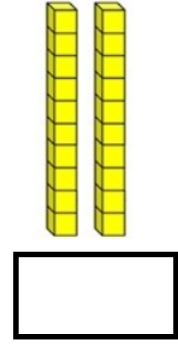





ONLUK BİRLİK KAVRAMA ÇALIŞMASI - 1

A)



B)

1 onluk 4 birlik : _____

2 onluk 2 birlik : _____

1 onluk 2 birlik : _____

1 onluk 0 birlik : _____

2 onluk 0 birlik : _____

2 onluk 2 birlik : _____

9 birlik 1 onluk : _____

5 birlik 1 onluk : _____

2 onluk 4 birlik : _____

2 onluk 6 birlik : _____

2 onluk 9 birlik : _____

5 birlik 2 onluk : _____

@banu_ogretmen_

ONLUK BİRLİK KAVRAMA ÇALIŞMASI - 2

1) 5 birlik 1 onluktan oluşan sayı kaçtır ?



2) 1 onluk 4 birlikten oluşan sayı ile 1 onluk 2 birlikten oluşan sayının toplamı kaçtır ?



3) 2 onluk 6 birlikten oluşan sayı ile 2 birlikten oluşan sayının farkı kaçtır ?



4) 2 onluk 9 birlikten oluşan sayıdan 7 sayısını çıkarırsam kaç bulurum ?



5) 3 birlik 1 onluktan oluşan sayının 5 fazlası kaçtır ?

